

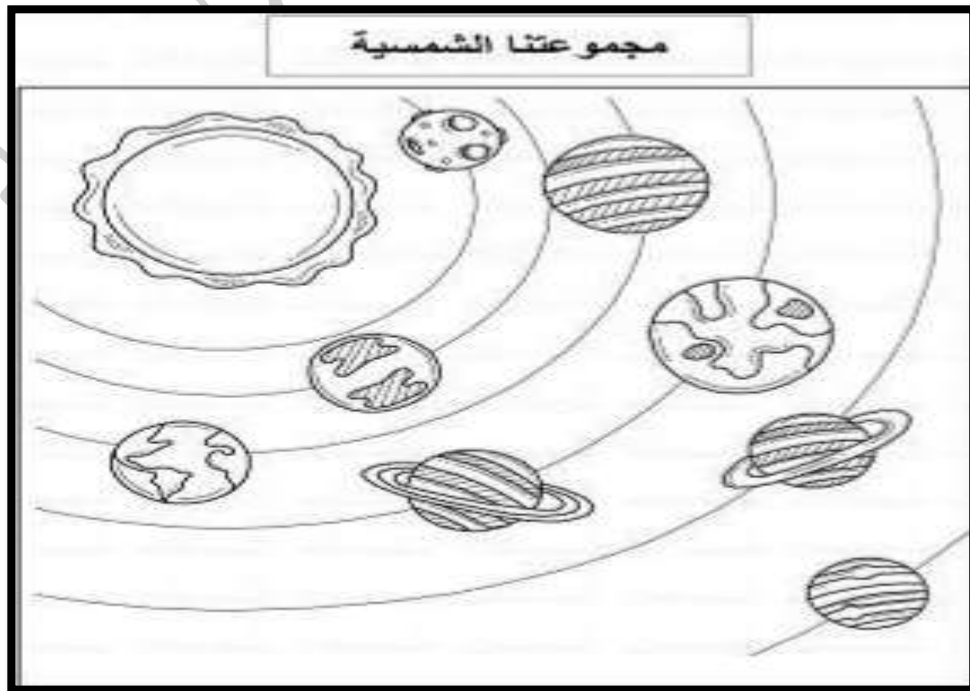
# مراجعة شاملة في مادة الجغرافيا - السنة الأولى متوسط -

## 01 - أكمل الفراغ :

- ..... هو أكبر الكواكب الشمسية .
- ..... هو أبعد الكواكب عن الشمس .
- ..... هو أقرب الكواكب الشمسية .
- ..... يسمى كوكب الأرض بالكوكب ..... لأن ..... يشكل نسبة ..... من مساحتها .
- ..... يسمى كوكب المريخ بالكوكب .....
- ..... المجموعة الشمسية هي .....
- ..... عدد كواكب المجموعة الشمسية هو ..... كوكبا .
- ..... كوكب الأرض ليس ..... بل يتحرك ..... و ..... و يكون ذلك بشكل .....
- ..... و .....
- ..... ينتج عن الحركة المحورية للأرض .....
- ..... ينتج عن الحركة الانتقالية للأرض .....
- ..... يستغرق كوكب الأرض في دورانه حول محوره .....
- ..... يستغرق كوكب الأرض في دورانه حول الشمس .....

## 02 - اليك رسم تخطيطي لكواكب المجموعة الشمسية .

قم بتسمية كواكب المجموعة الشمسية .



### 03 - أكمل الجدول التالي :

دوائر العرض	خطوط الطول	
		عددها
		الخط الرئيسي
		أهميتها

### 04 - عرّف الموقع الفلكي و الموقع الجغرافي .

05 - إذا كانت الساعة في مدينة الرباط (المغرب ) الواقعة على خط طول 15° غربا هي السادسة مساء فكم تكون الساعة في مدينة نيويورك الواقعة على خط طول 90° غربا ؟

06 - إذا كانت الساعة تشير إلى الثالثة صباحا في المدينة (أ) الواقعة على خط طول 25° شرقا ، فكم تكون الساعة في المدينة (ب) الواقعة على خط طول 85° شرقا ؟

07 - إذا كانت الساعة العاشرة صباحا في مدينة مستغانم الواقعة على خط غرينتش ، فكم تكون الساعة في مدينة (ب) الواقعة على خط طول 15° ؟

### 08 - عرّف : القارات ، المحيطات ، البحار .

### 09 - أكمل الفراغ :

تحتل قارة آسيا المرتبة ..... عالميا من حيث المساحة ، بينما تحتل قارة ..... المرتبة الأخيرة من حيث المساحة .

يحتل المحيط الأطلسي المرتبة ..... عالميا من حيث المساحة .

تمثل القارات نسبة ..... من اليابسة و عددها ..... و هي .....

يعتبر ..... من البحار المغلقة .

يعتبر البحر الأبيض المتوسط من البحار .....

### 10 - عرّف ما يلي : السهول ، الهضاب ، الجبال ، الأنهار ، المناخ .

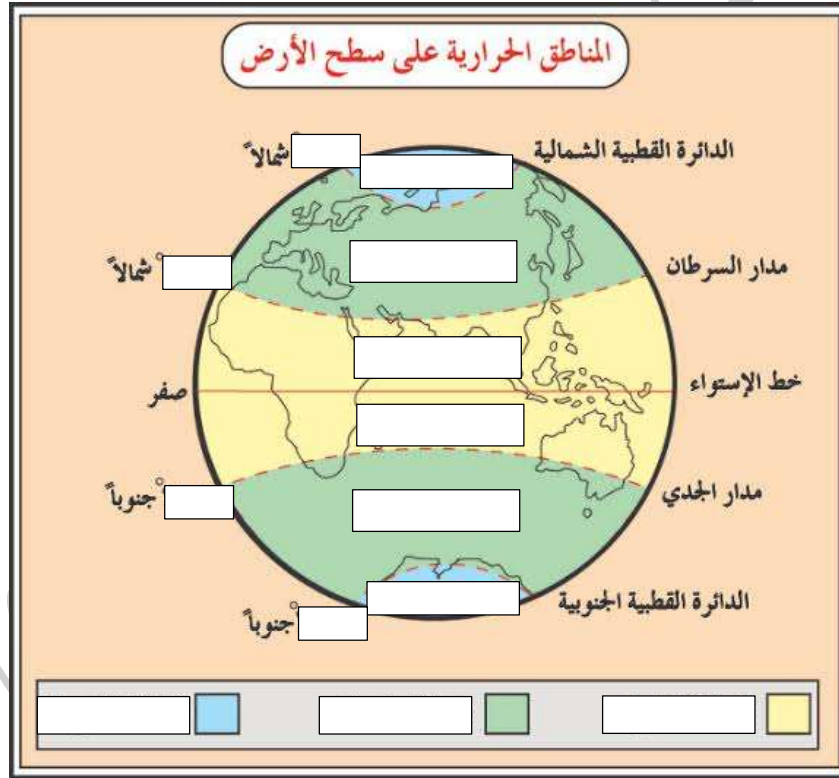
## 11 - أكمل الفراغ :

- ➡ أطول نهر في العالم هو ..... يقع في دولة .....
- ➡ أطول الأنهار في الجزائر هو نهر .....
- ➡ أعلى قمة جبلية في العالم هي ..... بلغ ارتفاعها .....
- ➡ أكبر هضبة في العالم هي ..... في دولة .....

## 12 - أكمل الجدول التالي :

التضاريس	الجبال	الهضاب	السهول	الأنهار
في العالم				
في الجزائر				

## 13 - أكمل الرسم التالي :



## 14 - أكمل الفراغ :

المنطقة الباردة	المنطقة المعتدلة	المنطقة الحارة	الأقليم المناخية
			النباتات
			الحيوانات

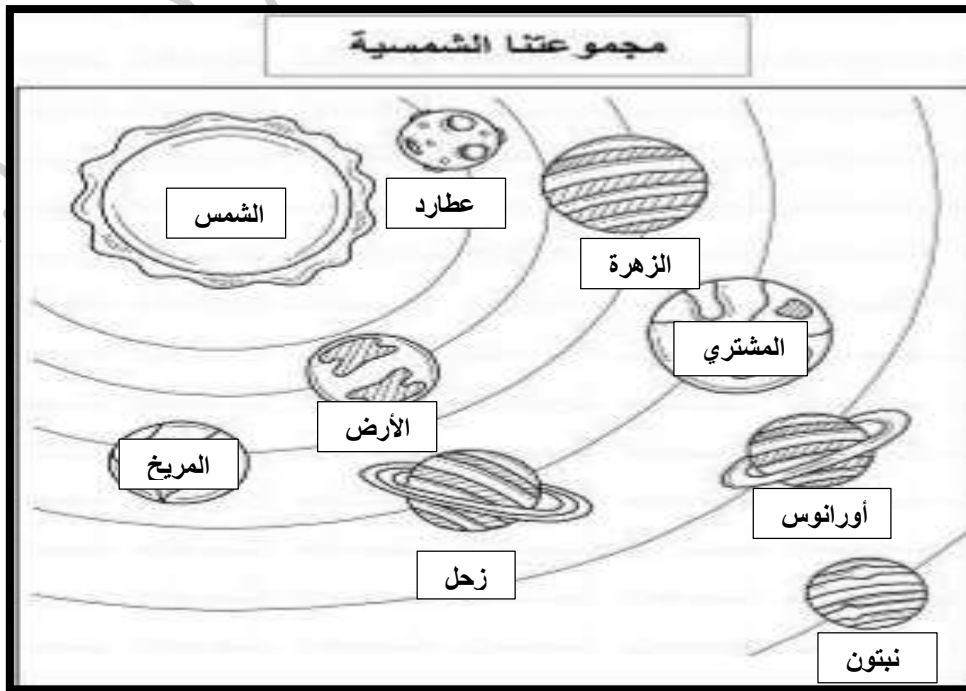
# تصحيح المراجعة الشاملة في مادة الجغرافيا - السنة الأولى متوسط -

## 01 - أكمل الفراغ :

- ☞ **المشتري** هو أكبر الكواكب الشمسية .
- ☞ **نبتون** هو أبعد الكواكب عن الشمس .
- ☞ عطارد هو أقرب الكواكب الشمسية .
- ☞ يسمى كوكب الأرض بالكوكب **الأزرق** لأن **الماء** يشكل نسبة **71 بالمئة** من مساحتها .
- ☞ يسمى كوكب المريخ بالكوكب **الأحمر** .
- ☞ المجموعة الشمسية هي الشمس و ما يدور حولها من الكواكب .
- ☞ عدد كواكب المجموعة الشمسية هو **ثمانية** كواكب .
- ☞ كوكب الأرض ليس **ثابتاً** بل يتحرك **يومية و سنوية** و يكون ذلك بشكل **محوري و انتقالي** .
- ☞ ينتج عن الحركة المحورية للأرض **تعاقب الليل و النهار** .
- ☞ ينتج عن الحركة الانتقالية للأرض **تعاقب الفصول الأربعة** .
- ☞ يستغرق كوكب الأرض في دورانه حول محوره **24 ساعة** .
- ☞ يستغرق كوكب الأرض في دورانه حول الشمس **365 يوم** .

## 02 - اليك رسم تخطيطي لكواكب المجموعة الشمسية .

☞ قم بتسمية كواكب المجموعة الشمسية .



### 03 - أكمل الجدول التالي :

دوائر العرض	خطوط الطول	عددها
180 دائرة	360 خط	
دائرة الاستواء درجتها 0°	خط غرينتش درجته 0°	الخط الرئيسي
تحديد المناخ	تحديد الأماكن / حساب الوقت	أهميتها

### 04 - تعريف الموقع الفلكي و الموقع الجغرافي .

➡ **الموقع الفلكي :** هو تحديد مكان بدلالة خطوط الطول و دوائر العرض (الاحداثيات الجغرافية)  
 ➡ **الموقع الجغرافي :** هو تحديد المواقع بدلالة القارات و الاتجاهات الأساسية الأربعة .

05 - إذا كانت الساعة في مدينة الرباط (المغرب ) الواقعة على خط طول 15° غربا هي السادسة مساء فكم تكون الساعة في مدينة نيويورك الواقعة على خط طول 90° غربا ؟

**الإجابة :**

حساب الفرق في خطوط الطول :  $90 - 15 = 75$  خط .

حساب فرق الزمن :  $75 \times 4 = 300$  د .

التحويل الى الساعات :  $300 \div 60 = 5$  ساعات

بما أن مدينة نيويورك تقع غربا فإن الوقت ينقص .

(السادسة مساء) يعني 18 - 5 ساعات = الواحدة مساء .

الساعة في مدينة نيويورك تشير إلى الواحدة مساء .

06 - إذا كانت الساعة تشير إلى الثالثة صباحا في المدينة (أ) الواقعة على خط طول 25° شرقا ، فكم تكون الساعة في المدينة (ب) الواقعة على خط طول 85° شرقا ؟

**الإجابة :**

حساب الفرق في خطوط الطول :  $85 - 25 = 60$  خط .

حساب فرق الزمن :  $60 \times 4 = 240$  د .

التحويل الى الساعات :  $240 \div 60 = 4$  ساعات

بما أن مدينة (ب) تقع شرقا فإن الوقت يزيد .

(الثالثة صباحا) يعني 03 + 4 ساعات = السابعة صباحا .

الساعة في مدينة (ب) تشير إلى الساعة صباحا .

07 - إذا كانت الساعة العاشرة صباحا في مدينة مستغانم الواقعة على خط غرينتش ، فكم تكون الساعة في مدينة (ب) الواقعة على خط طول 15 ° غربا ؟

الإجابة :

حساب الفرق في خطوط الطول :  $15 - 0 = 15$  خط .

حساب فرق الزمن :  $15 \times 4 = 60$  د .

التحويل الى الساعات :  $60 \text{ د} = 1 \text{ ساعة}$  .

بما أن مدينة (ب) تقع غربا فإن الوقت ينقص .

(العاشرة صباحا) يعني 10 - 1 ساعة = التاسعة صباحا .

الساعة في مدينة (ب) تشير الى التاسعة صباحا .

08 - تعريف : القارات ، المحيطات ، البحار .

القارات : هي أكبر أشكال اليابسة تمثل نسبة 29 بالمئة من الكرة الأرضية .

المحيطات : هي مسطحات مائية مالحة ذات أعماق كبيرة و أمواج عالية و مساحات واسعة .

البحار : هي مسطحات مائية مالحة أقل عمقا و مساحة من المحيطات .

09 - أكمل الفراغ :

تحتل قارة آسيا المرتبة الأولى عالميا من حيث المساحة ، بينما تحتل قارة أوقيانوسيا المرتبة الأخيرة من حيث المساحة .

يحتل المحيط الأطلسي المرتبة الثانية عالميا من حيث المساحة .

تمثل القارات نسبة 29 بالمئة من اليابسة و عددها 6 و هي قارة آسيا ، أمريكا ، افريقيا ، القارة القطبية الجنوبية ، أوروبا ، أوقيانوسيا .

يعتبر البحر الأسود من البحار المغلقة .

يعتبر البحر الأبيض المتوسط من البحار الداخلية .

10 - تعريف المصطلحات : السهول ، الهضاب ، الجبال ، الأنهار ، المناخ .

السهول : هي مساحات شاسعة تتميز بالاستواء لا يزيد ارتفاعها عن 500 م .

➡ الهضاب : هي مرتفعات عن سطح البحر يتراوح ارتفاعها ما بين 500 و 900 م تتميز باستواء سطحها .

➡ الجبال : سطح غير مستو يزيد ارتفاعه عن 900 م يتميز بالارتفاع الشديد الذي ينتهي بقمم حادة .

➡ الأنهار : هي جاري مائية طبيعية دائمة الجريان .

➡ المناخ : هو حالة الجو السائدة في منطقة ما لفترة زمنية طويلة .

11 - أكمل الفراغ :

➡ أطول نهر في العالم هو نهر النيل يقع في دولة مصر .

➡ أطول الأنهار في الجزائر هو نهر الشلف .

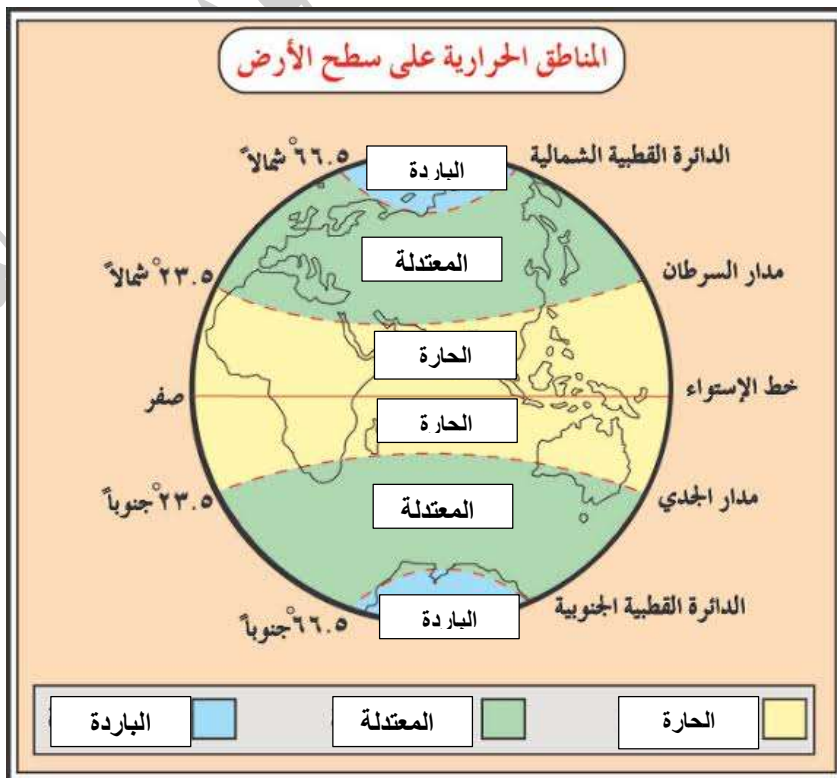
➡ أعلى قمة جبلية في العالم هي قمة إيفريست بلغ ارتفاعها 8848 م .

➡ أكبر هضبة في العالم هي هضبة التبت في دولة الصين .

12 - أكمل الجدول التالي :

التضاريس	الجبال	الهضاب	السهول	الأنهار
في العالم	الهمالايا	الأناضول	سهل منشوريا	وادي شلف
في الجزائر	جرجرة	الهضاب العليا	سهل متيجة	نهر النيل

13 - أكمل الرسم التالي :





المنطقة الباردة	المنطقة المعتدلة	المنطقة الحارة	
التايغا و التندرا	المتوسطي / الصيني المحيطي / القاري	الصحراوي / الموسمي الاستوائي/ المداري	الأقاليم المناخية
حشائش / أشجار قزمية غابات الصنوبر	البلوط / الكروم / الصنوبر / الأرز	الصبار / قصب السكر/ النخيل / جوز الهند	النباتات
الدببة / الذئاب / البطاريق .	الابقار / الأغنام / الذئاب / الكلاب	الثعالب / الجمال / الأفاعي / القردة	الحيوانات