

السنة الدراسية : 2025/2024	اختبار الفصل الثاني في مادة التربية الفنية	مقاطعة حاسي خليفة
القسم : السنة الثالثة 4	نموذج 2	ابتدائية الشهيد غبش السايح




تم تعيينك في اللجنة المسؤولة عن زخرفة بعض المباني من طرف والي الولاية للاحتفال بمقدم شهر رمضان
الوضعية الأولى : اربط الزخرفة المناسبة بجدران هذه المباني

كلية الهندسة

حديقة الحيوانات

الحديقة النباتية

المسجد



الوضعية الثانية : خلال حديثك مع أحد المهندسين حول الزخرفة ، أخبرك أن للزخرفة قواعد ثلاثة ، اذكرها

.....

الوضعية الثالثة : للإحتفال بشهر رمضان طلبت منك المعلمة اختيار رسم وتلوينه ، فاخترت هذا الرسم

ماهو الزخرفة التي زين بها الهلال ؟

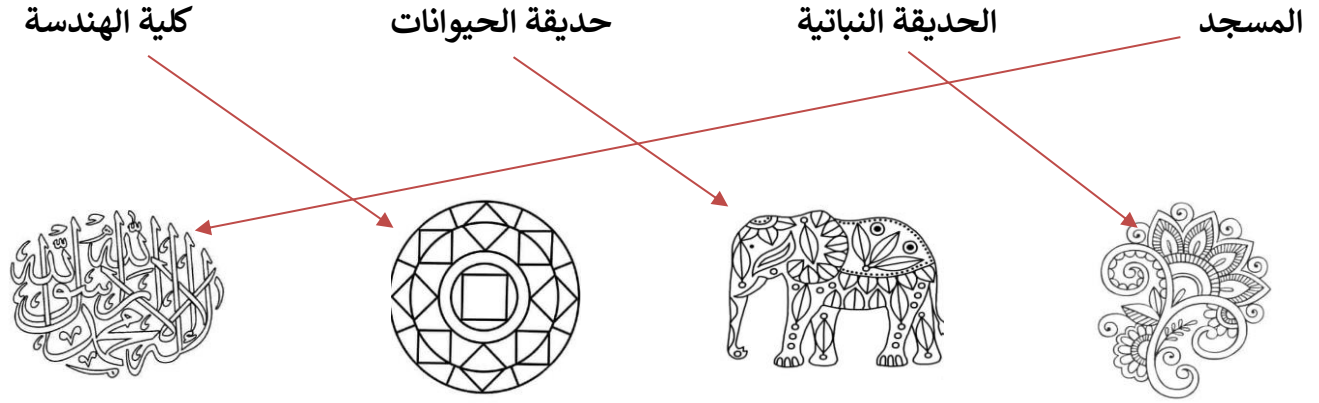
ماهي القاعدة التي زخرف بها الهلال ؟

قم بتلوين الهلال والنجمة .



السنة الدراسية : 2025/2024	إجابة اختبار الفصل الثاني في مادة التربية الفنية	مقاطعة حاسي خليفة
القسم : السنة الثالثة 4	نموذج 2	ابتدائية الشهيد غبش السايح

تم تعيينك في اللجنة المسؤولة عن زخرفة بعض المباني من طرف والي الولاية للاحتفال بمقدم شهر رمضان
الوضعية الأولى : اربط الزخرفة المناسبة بجدران هذه المباني



الوضعية الثانية : خلال حديثك مع أحد المهندسين حول الزخرفة ، أخبرك أن للزخرفة قواعد ثلاثة ، اذكرها

التشعب

التكرار

التناظر

الوضعية الثالثة : للإحتفال بشهر رمضان طلبت منك المعلمة اختيار رسم وتلوينه ، فاخترت هذا الرسم

ماهو الزخرفة التي زين بها الهلال ؟ **زخرفة نباتية**

ماهي القاعدة التي زخرف بها الهلال ؟ **قاعدة التشعب**

قم بتلوين الهلال والنجمة .

