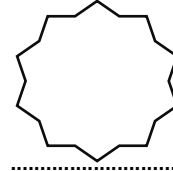


الفرض الأول للثلاثي الأول في مادة المعلوماتية



الإسم:.....  
اللقب:.....

**التمرين الأول (4ن):** أكمل الفراغات بالكلمات المناسبة: تخزينها ، النتائج ، الكتروني، إدخال.

الحاسوب هو جهاز.....، يسمح ب..... المعلومات و .....،  
و إخراج .....

**التمرين الثاني(6ن):** اربط كل مكون بما يناسبه:



• كاميرا.

• فأرة .


• ميكروفون.

• لوحة المفاتيح.

**التمرين الثالث(3ن):** قم بترتيب مضاعفات وحدة قياس الذاكرة من الأصغر إلى الأكبر.

..... < ..... < ..... < Ø

الفرض الأول للثلاثي الأول في مادة المعلوماتية




الإسم:.....  
اللقب:.....

**التمرين الأول:** أكمل الفراغات بالكلمات المناسبة: البرمجيات ، علم ، آلية ، معالجة.

المعلوماتية هي .....، يسمح ب..... المعلومات بطريقة .....  
حيث تعتمد على جزئين أساسيين : العتاد و .....

**التمرين الثاني:** اربط كل مكون بما يناسبه:



• فأرة.

• مخزن طاقة.

• شاشة.

• مكبر صوت.

**التمرين الثالث:** قم بترتيب مضاعفات وحدة قياس الذاكرة من الأكبر إلى الأصغر.

Ø > ..... > ..... > Ø

#### التمرين الرابع:

أذكر 3 مكونات أساسية للحاسوب:

- .....
- .....
- .....

أذكر 4 مكونات ثانوية للحاسوب:

- .....
- .....
- .....
- .....

حافظوا على نظافة الورقة .  
أي رسومات أو خربشات تخصم لك نقاط.

#### التمرين الرابع:

أذكر 3 مكونات أساسية للحاسوب:

- .....
- .....
- .....

أذكر 4 مكونات ثانوية للحاسوب:

- .....
- .....
- .....
- .....

حافظوا على نظافة الورقة .  
أي رسومات أو خربشات تخصم لك نقاط.