

تقويم شهر فيفري في ميدان الأعداد و الحساب

1 أحسب عموديا :

87-56

499+81

156+266

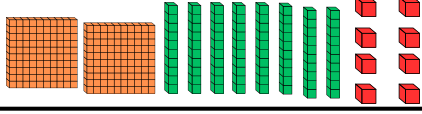
:645

:408

. ثلاث مئة و ستون :

. خمس مئة و سبعة و ثلاثون :

3 أكمل الجدول كما في المثال .

العدد	تفكيكه	تمثيله	رقم عشراته	عدد عشراته
278	$200+70+8$		7	27
361
.....	$100+50$	

4 أحصر الأعداد التالية بين عشرين متتاليتين .

$..... < 178 <$

$..... < 455 <$

$..... < 988 <$

5 أحصر الأعداد التالية بين مئتين متتاليتين .

$..... < 666 <$

$..... < 123 <$

$..... < 899 <$

7 رتب تنازليا الأعداد التالية.

543 - 221 - 788 - 212 - 306

6 رتب تصاعديا الأعداد التالية.

256 - 111 - 675 - 233 - 657

الوضعية الإدماجية :

. اشترى أحمد قارورة عصير بـ 95 دج و علبة عجائن بـ 65 دج .

1. أحسب الفرق بين سعر قارورة العصير و علبة العجائن ؟

. الفرق بين سعر قارورة العصير و علبة العجائن دج

تقويم شهر فيفري في ميدان المقادير و القياس

التمرين الأول : يُمثِّل الجدول المقابل رُزنامة شهر مارس 2025

الأحد	الأحد	الاثنين	الثلاثاء	الأربعاء	الخميس	الجمعة
1	2	3	4	5	6	7
8	9	10	11	12	13	14
15	16	17	18	19	20	21
22	23	24	25	26	27	28
29	30	31				

- الخانة الخضراء تُمثِّل بداية شهر رمضان .

- الخانة الحمراء تُمثِّل بداية عيد الفطر .

- الخانة الصفراء تُمثِّل بداية عطلة الربيع .

1. أكمل الفراغات : تاريخ بداية شهر رمضان هو :

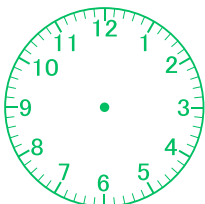
- نحتفل بعيد الفطر يوم : تاريخ بداية عطلة الربيع هو :

2. لَوْنُ بالأزرق تاريخ احتفالنا بيوم النصر يوم 19 مارس .


التمرين الثاني : أكمل الجدول .

الطفل	الأداة التي اشتراها	ثمن الأداة	القطع النقدية التي أعطاها للبائع	القطع النقدية التي يعيدها البائع للطفل
وسيم		40 دج		
فارس		350 دج		
عبد الرحيم		230 دج		

التمرين الثاني : تُمثِّل الساعة المُقابلة توقيت بداية حصّة العلوم الطبيعيّة المسائيّة وتنتهي الحصّة عندما يَتِمَّ العَقْرُبُ الصَّغِيرُ دَوْرَتَيْنِ كاملتين .

1. اكتب توقيت بداية حصّة العلوم الطبيعيّة
2. ارسم عقربي الساعات عند نهاية الحصّة و اكتب التوقيت .

.....



.....

تقويم شهر فيفري في ميدان المقادير والقياس













التمرين الأول: يُمثل الجدول المقابل رُزنامة شهر مارس 2025

الأحد	الاثنين	الثلاثاء	الأربعاء	الخميس	الجمعة
1	2	3	4	5	6
8	9	10	11	12	13
15	16	17	18	19	20
22	23	24	25	26	27
29	30	31			

- الخانة الخضراء تمثل بداية شهر رمضان.
 الخانة الحمراء تمثل بداية عيد الفطر.
 الخانة الصفراء تمثل بداية عطلة الربيع.

1. اكمل الفراغات: تاريخ بداية شهر رمضان هو:
 نخفل بعيد الفطر يوم:
 تاريخ بداية عطلة الربيع هو:
 2. لون بالازرق تاريخ احتفالنا بيوم النصر يوم 19 مارس.

التمرين الثاني: اكمل الجدول.

القطع النقدية التي يعيدها البالغ للطفل	القطع النقدية التي أعطاها البالغ	القيمة	الأداة التي اشتراها	الطفل
     		40 دج		وسيم
     		350 دج		فارس
     		230 دج		عبد الرحيم

التمرين الثاني: تمثل الساعة المقابلة توقيت بداية حصّة العلوم الطبيعيّة المسائيّة وتنتهي الحصّة عندما يتمّ العُمرُ بالصّغير دُورَتين كاملتين.

1. اكْتُبْ توقيت بداية حصّة العلوم الطبيعيّة
 2. ارسم عقري الساعة عند نهاية الحصّة واكتب التوقيت.



.....

.....

تقويم شهر فيفري في ميدان الأعداد والحساب

1. أحسب عموديا: 156+266

87-56	499+81	156+266


645:

408:

ثلاث مئة و ستون:

خمسة مئة و سبعة و ثلاثون:

3. اكمل الجدول كما في المثال.

العدد	تفكيكه	تمثيله	رقم عشريته	عدد عشريته
278	200+70+8		7	27
361
.....	100+50	

5. أحصر الأعداد التالية بين مسّين متساويين.

..... < 178 <

..... < 455 <

..... < 988 <

6. رتب تصاعدياً الأعداد التالية.

256 - 111 - 675 - 233 - 657

الوضعية الإدماجية:

اشترى أحمد قارورة عصير بـ 95 دج و علبة عجائن بـ 65 دج.

1. أحسب الفرق بين سعر قارورة العصير و علبة العجائن ؟

الفرق بين سعر قارورة العصير و علبة العجائن دج