



النشاط 1:

قام معاذ بوزن جزرة و حبة طماطم باستعمال مكعبات، ساعده على كتابة النتائج:




حبة الطماطم تزن مكعبات



الجزرة تزن مكعبات

النشاط 2:

1- أحط في كل مرة الشيء الأثقل باللون الأحمر
والشيء الأخف باللون الأخضر



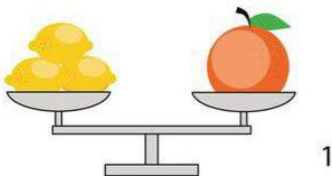
2- رتب الأشياء الثلاثة من الأثقل إلى الأخف.

.....،،

النشاط 3:

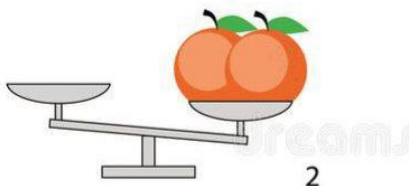
1- اختر الإجابة المناسبة وأكمل: لها نفس كتلة، أثقل

من، أخف من



1

البرتقالة حبات الليمون



2

2- كم يلزم من حبات الليمون لتتساوى الكتلة مع حبتي

البرتقال؟