

التقويم الأول في الرياضيات

الثانية
ابتدائي

2AP

النشاط الأول



أكتب الأعداد التالية بالأرقام والحروف

سبعة وثمانون ←

أربعة وخمسون ←

واحد وتسعون ←

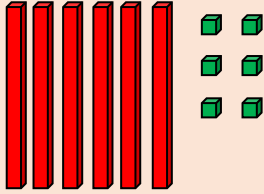
73 ←

49 ←

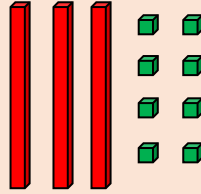
82 ←

النشاط الثاني

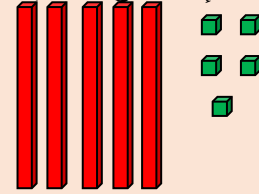
إملاً الفراغات بالعدد المناسب :



ع	و



ع	و



ع	و

النشاط الثالث

إملاً الفراغات بالعدد المناسب :

35

40

.....

.....

.....

60

.....

.....

.....

النشاط الرابع

أنجز العمليات العمودية التالية :

$$\begin{array}{r} 23 \\ + 14 \\ \hline = \end{array}$$

$$\begin{array}{r} 45 \\ + 31 \\ \hline = \end{array}$$

$$\begin{array}{r} 68 \\ + 21 \\ \hline = \end{array}$$

$$\begin{array}{r} 84 \\ - 62 \\ \hline = \end{array}$$

$$\begin{array}{r} 95 \\ - 43 \\ \hline = \end{array}$$

$$\begin{array}{r} 76 \\ - 56 \\ \hline = \end{array}$$