

الأستاذ : معمري
زكرياء

تقييم مادة الرياضيات ميدان الأعداد والحساب

2

السنة



أنجز العمليات التالية



$$80 = 72 + \dots$$

$$31 + \dots = 45$$

$$56 + 21 = \dots$$

$$98 - 45 = \dots$$

39

60

92

25

13

76

أرتب تصاعديا



.....

.....

.....

.....

.....

.....



$$7 + 7$$

..

$$2 + 12$$

..

$$19$$

..

$$37$$

اقارن بين الأعداد



$$81$$

..

$$70 - 10$$

$$41$$

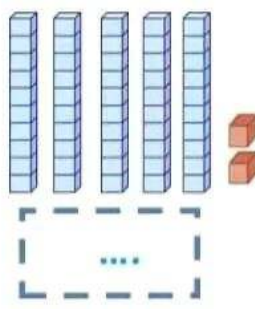
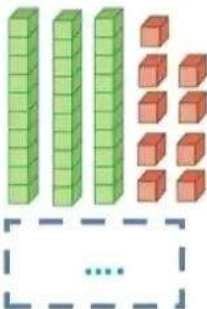
..

$$79$$

$$89$$

..

$$61$$



أكمل مايلي



$$98 = 60 + 30 + \dots$$

$$45 = 20 + \dots + 5$$



اقرأ جيدا ثم أحل



تَنَافَسَتْ خُلُودٌ وَ أَيْمَنُ فِي جَمْعِ الزُّهُورِ مِنْ حَقْلِ جَدِّهِمَا وَفِي نَهَائَةِ الْيَوْمِ
جَمَعَتْ خُلُودٌ 42 زَهْرَةً أَمَّا أَيْمَنُ فَجَمَعَ أَقَلَّ مِنْ خُلُودٍ 12 زَهْرَةً .

ما هو عدد الأزهار التي جمعها أيمن ؟

$$\dots = \dots$$

عدد الأزهار التي جمعها أيمن هو:

أنجز

1

$22 + 71 =$

$34 + 45 =$

$78 + 11 =$

$95 - 24 =$

$56 - 50 =$

$88 - 44 =$



أكمل

2

الكتابة بالأرقام

الكتابة بالحروف

46

واحد وستون

اثنان وعشرون



لون الأعداد المحصورة بين 30 و 55

3

54

22

52

36

48

16

31

24

09 . 90

85 . 70

15 . 45

أقارن بين الأعداد

4

40 . 20+20

23 . 50

66 . 49

68

53

40

37

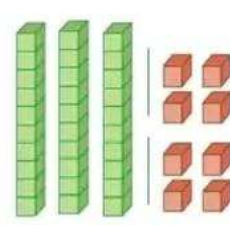
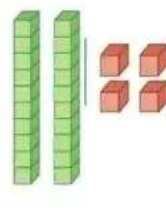
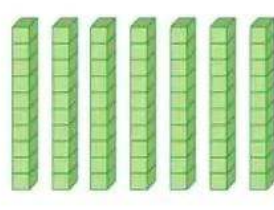
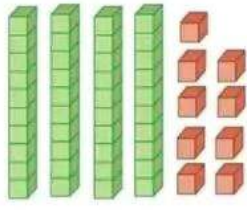
49

65

27

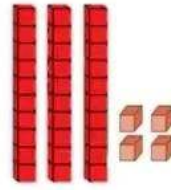
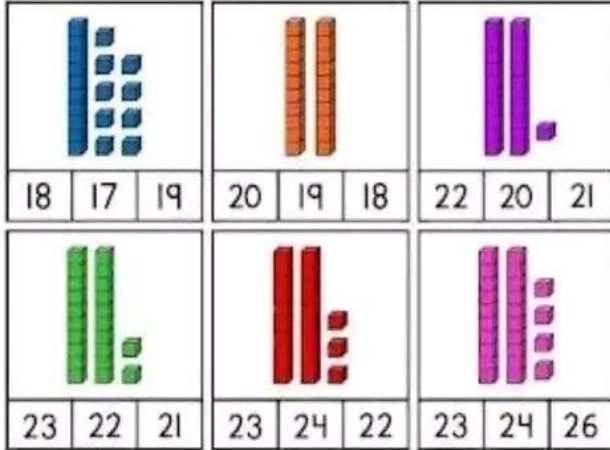
5

الأعداد في
مكانها
المناسب




6

أحسب ثم
أكتب العدد



34 43



70 80 44

7

أحسب ثم
ألون العدد
المناسب

$$39 = 10 + . + . + .$$

$$68 = 20 + 35 + .$$

$$46 = 10 + . + . + . + .$$

$$82 = . + 50 + 12$$

$$50 = 45 + .$$

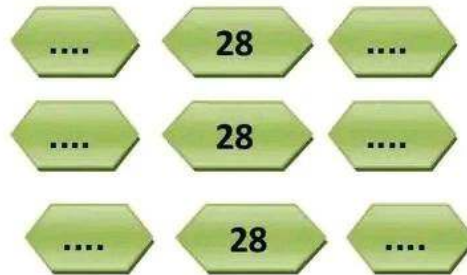

$$70 = 40 + .$$

$$20 = 17 + .$$

$$60 = 57 + .$$

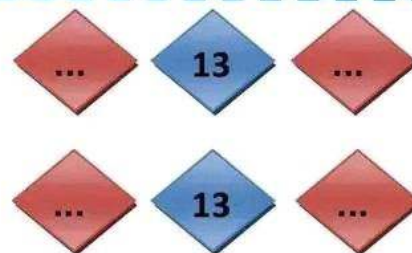
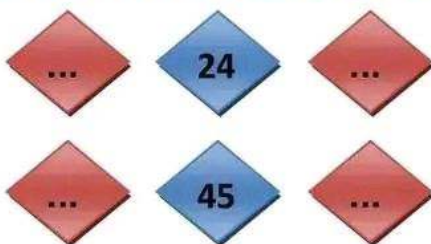
8

أفكك الأعداد
التالية



9

أكمل بالعدد
الذي يسبق
والذي يلي




10



أحصر الأعداد
بين عشرين
ومتابعتين



وضعيات متنوعة في الجمع والطرح



1



وضعيات للجمع

سوف يزيد عندي

$$. + . = .$$

1
قطف أيمن 25 تفاحة من البستان وقطفت ليلي 33 حبة أخرى .
كم صار عدد التفاح عندهما ؟

$$. + . = .$$

2
أكل سامي 15 حبة حلوى في الصباح وفي المساء أكل 7 حبات
كم عدد كل حبات الحلوى التي أكلها ؟

$$. + . = .$$

3
كان فادي يملك في حصالته 56 ديناراً زاده أبوه 43 ديناراً
كم ديناراً صار عند فادي ؟

$$. + . = .$$

4
جمعت سرين 71 بطاقة جمراء وفي الغد أعطاهما أخوها راند 18 بطاقة
صفراء .
كم أصبح عند سرين ؟

$$. + . = .$$

5
عند رضا 31 قريصة وعند أيمن 15 قريصة أكثر مما عند رضا
كم عدد القريصات التي يملكها أيمن ؟

$$. + . = .$$

6
قرأت سلوى 26 صفحة وقرأت شيماء 12 صفحة أما رضا فقد قرأ 20
صفحة .
كم عدد صفحات التي قرأها الأطفال ؟





وضيعات للطرح

سوف ينقص مني

$$\cdot - \cdot = \cdot$$

جمعت إلهام 56 حبة قمح وفي الطريق سقط منها 14 حبة
كم عدد حبات القمح الباقية عند إلهام ؟

1

$$\cdot - \cdot = \cdot$$

غرس رومان 22 نبتة وبعد شهر يبست 8 نبتات منها
أوجد عدد النبتات السليمة ؟

2

$$\cdot - \cdot = \cdot$$

بمناسبة شهر رمضان المبارك اشترت الأم 38 صحفا ، وعند
وصولها للمنزل وجدت 11 صحفا مكسورا
كم عدد الصحفون الباقية ؟

3

$$\cdot - \cdot = \cdot$$

يملك سليم 39 بطاقة استحسان ، أعطى لأخيه الصغير 19 بطاقة
كم بطاقة صارت عند سليم ؟

4

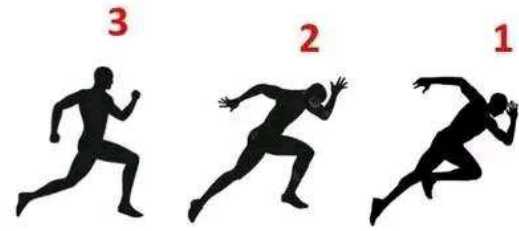
$$\cdot - \cdot = \cdot$$

تحصلت خولة على 95 نقطة في مسابقة وتحصلت لجين على 23
نقطة أقل مما تملكه خولة .
كم نقطة عند لجين ؟

5



ميدان الهندسة والفضاء



ألاحظ الصورة في الأعلى ثم أكمل بوضع الملمات المناسبة

أمام

بين

خلف

المتسابق رقم 1 المتسابق رقم 2

المتسابق رقم 3 المتسابق رقم 2

المتسابق رقم 2 المتسابق رقم 1 و 2

1



أكمل بوضع

يسار

بين

يمين

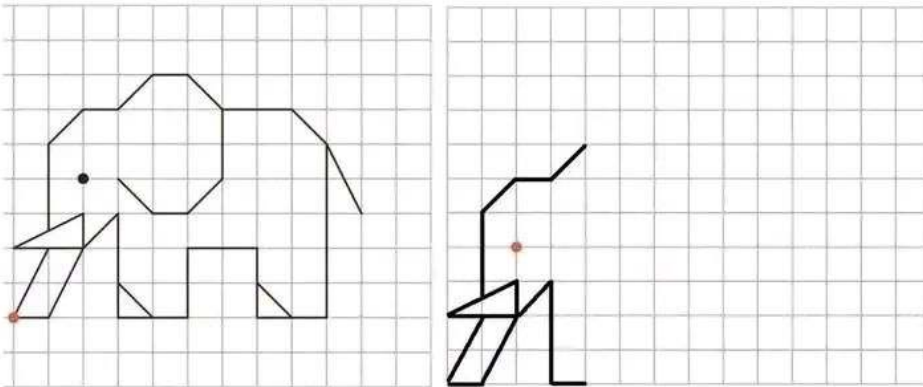
الزهرة البنت

الذمية البنت

البنت الزهرة والذمية

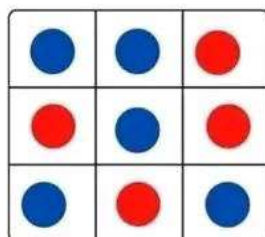
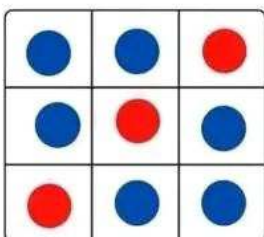
أكمل رسم الشكل

3




ثلاث نقط على استقامية صل بينها

4



ثلاث شمعات في استقامية جدها ثم لونها

4





ميدان المقادير والقياس

أضع السؤال المناسب

2

اشترت مريم موزة بـ 51 ديناراً و قطعة جبن بـ 8 دنانير
السؤال :

يملك رائد 75 كرية ، أعطى لأخته 35 كرية .
السؤال :

أبحث عن العدد المناسب

1

نعم

هل هو أكبر من 50 ؟

لا

هل هو أصغر من 60 ؟

نعم

هل رقم أحاده 7 ؟

أنا العدد

أبحث عن الخانة المناسبة

3

اشترت مريم ؟

اشترت شيماء ؟

اشترت روان ؟

	قلم	تفاحة	دراجة
مريم			
روان			
شيماء			






ميدان تنظيم معطيات

أضع علامة x في المكان المناسب

2

لاحظ ثم أكمل التلوين

1

	1	2	3	4
أ				
ب				
ج				
د				
هـ				

لاحظ ثم أكمل التلوين

2

التفاحة في الخانة 1ب

الفراولة في الخانة

النحلة في الخانة

الزهرة في الخانة

النقطة الزرقاء في الخانة

من إعداد الأستاذ : معمر زكرياء

Mammeri zakarya

