

اسمُ وَلَقَبُ التلميذ :

المدرسة :

ميدان الأعداد والحساب

التمرين الأول : أكتب بالأعداد والحروف

سبعون

خمسة وتسعون

سبعة وثمانون

11

72

53

التمرين الثاني : أحسب

$70+8=.....$

$4+80=.....$

$56=50+.....$

$31=.....+.....$

$5+40=.....$

$90+3=.....$

$23=3+.....$

$79=.....+.....$

التمرين الثالث : أكمل

5 وحدات و 6 عشرات هو العدد 9 عشرات و 2 وحدات هو العدد

50 وحدة هو العدد هو ثمانية عشرات هو العدد

التمرين الرابع : أحضر العدد بين عشرين متالتين

.	43	.
---	----	---

.	76	.
---	----	---

.	51	.
---	----	---

.	49	.
---	----	---

.	82	.
---	----	---

التمرين الخامس : رتب الأعداد الآتية تنازلياً مع وضع الرمز

43 - 34 - 48 - 96 - 78 - 11 - 9

الوضعية الإدماجية

تملك ليلى 99 ديناراً .

أشترت من المتجر بالوناً أحمر ب 35 ديناراً وبالوناً أصفر كبيراً ب 62 ديناراً .

ما هو ثمن البالونات ؟

كم يُعيد البائع لليلى ؟

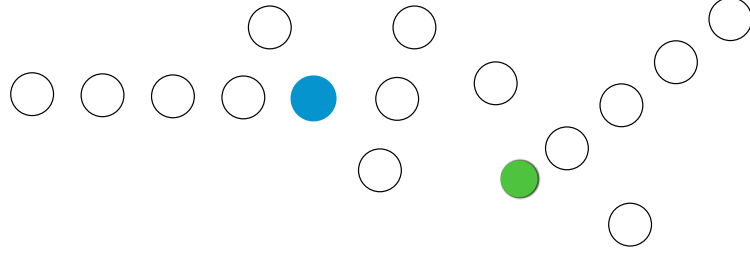


اسمُ وَلَقَبُ التلميذ :


المدرسة :

ميدان الهندسة والفضاء

- التمرين الأول :**
- حدّد 4 نقاط على استقامية مع النقطة الزرقاء ولونها بالأزرق.
 - حدّد 4 نقاط على استقامية مع النقطة الخضراء ولونها بالأخضر.

**التمرين الثاني :**

- أربط النقطتين الحمراء واین بخطٍ مُستقيمٍ .



- حماماتٌ غيرٌ موجودة في استقامية مع هذا الخط، أحطها .

التمرين الرابع :

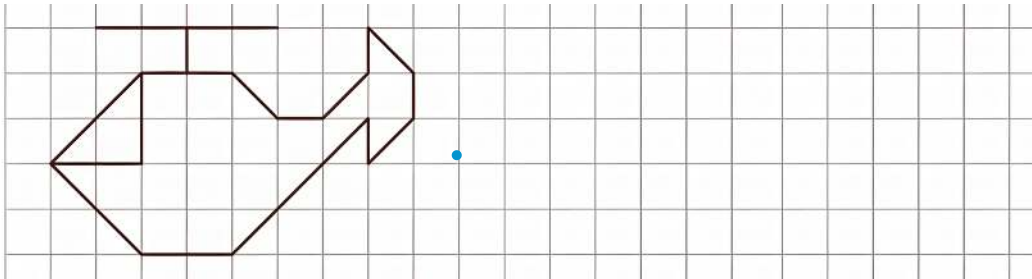
- أرسم نقطتين على استقامية مع النقطتين الزرقاوين .

**التمرين الثالث :**

- لَوْنُ كُلِّ 3 لَعِبٍ مُتَشَابِهَةٍ على استقاميةٍ

التمرين الخامس :

- أكمل رَسْمَ الشَّكْلِ على المَرَصُوفَةِ .



ميدان تنظيم المعطيات

• التمرين الأول : هذا إحصاء تلاميذ مدرسة العبارة المشاركين في تحدي القراءة .

السنة 05	السنة 04	السنة 03	السنة 02	السنة 01	
11	23	40	20	05	بنات
12	23	11	33	10	أولاد

• أكمل مايلي مُستعملاً الجدول

عدد البنات المشاركات من قسم السنة الثانية

عدد الأولاد المشاركين من قسم السنة الرابعة

عدد التلاميذ المشاركين من قسم السنة الخامسة



ماهو عدد البنات المشاركات في المسابقة؟

ماهو عدد الأولاد المشاركين في المسابقة؟



التمرين الثالث :

• أكمل ملأ الجدول بوضع العلامة x

الأحد	الخميس	الثلاثاء	السبت	الجمعة	
					رامي
					أماني

✓ تمارس أماني السباحة أيام : الجمعة ، الخميس والثلاثاء.

✓ يمارس رامي السباحة أيام : الجمعة ، السبت والثلاثاء.

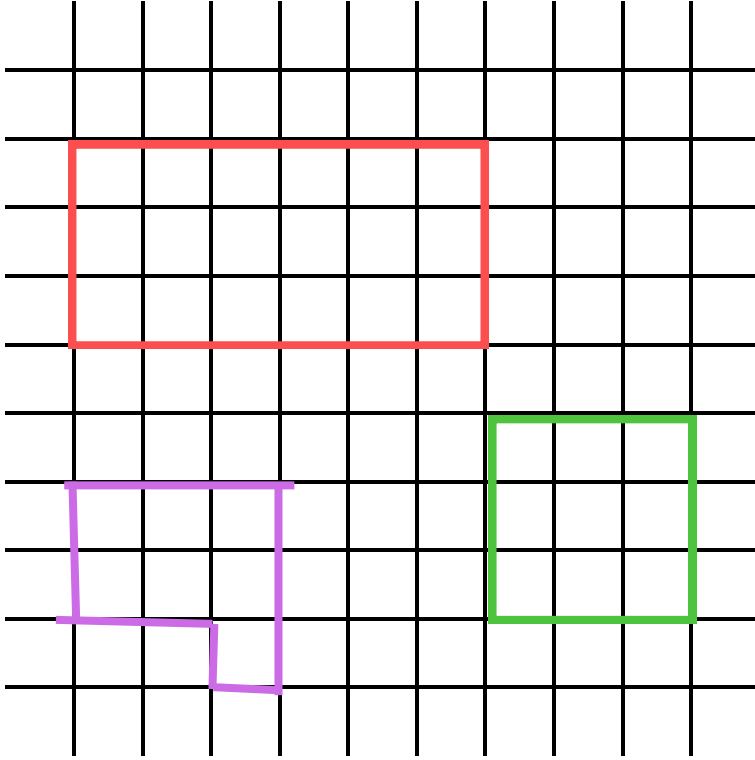
✓ اليوم الذي لا يمارس فيه الأخوان السباحة هو

التمرين الثاني :

• لاحظ تقاطع السطر مع العمود ثم اكمل التلوين

ميدان المقادير والقياس

التمرين الأول : • في هذا الشكل وحدة الطول هي ضلع مربع المرصوفة



• طول الشكل الملون بالأخضر هو :



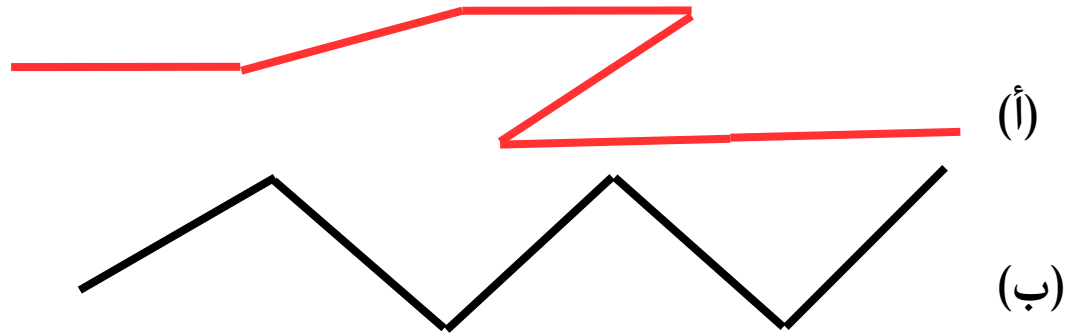
• طول الشكل الملون بالأحمر هو :



• طول الشكل الملون بالبنفسجي هو :



التمرين الثاني : أستخدم الوحدة ————— لتعيين أقصر مسلك (أ) أو (ب)



التمرين الثالث : رتب الأشرطة الآتية من الأصغر إلى الأكبر

