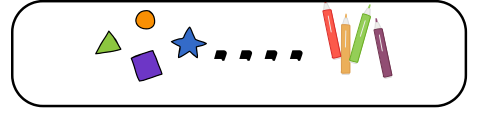
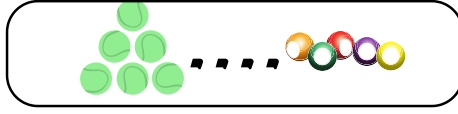




قَارِنْ بَوْضِعْ : > ، < أَوْ =



11 .... 10

24 .... 42

2 .... 2

23 .... 12


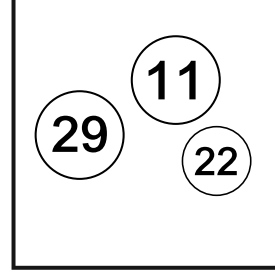
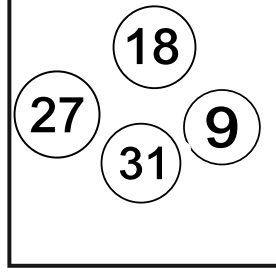
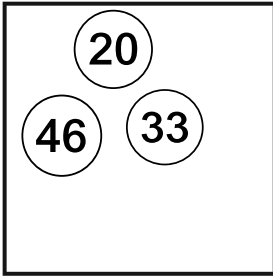
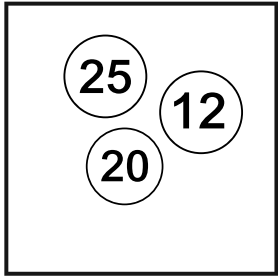
29 .... 32

8 .... 40

الأستاذة نقاز خديجة



لَوْنْ أَكْبَرِ عِدْدٍ بِالْأَصْفَرِ وَأَصْغَرَ عِدْدٍ بِالْبَرِّتْقَالِي .



رَتِّبْ تَنَازُلِيًّا .



62

24

40

10

23

.....

الأستاذة نقاز خديجة

أَكْمِلِ الْعَمَلِيَّاتِ الْحِسَابِيَّةَ التَّالِيَةَ :



$$20 + \dots = 30$$

$$25 + \dots = 30$$

$$44 + \dots = 50$$

$$62 + \dots = 70$$

$$54 + \dots = 60$$

$$88 + \dots = 90$$

$$17 + \dots = 20$$

$$14 + \dots = 20$$

فَكِّكِ الْعَدَدَيْنِ التَّالِيَيْنِ بِطَرِيقَةِ الْجَمْعِ :



97 = ..... + ..... = .....

81 = ..... + ..... + ..... + ..... + ..... + ..... + ..... + ..... + .....

الأستاذة نقاز خديجة



فكّك الأعداد التالية حسب المثال:



$$22 = 10 + 10 + 2$$

$$57 = ..... + ..... + ..... + ..... + ..... + ..... + ..... + .....$$

$$99 = ..... + ..... + ..... + ..... + ..... + ..... + ..... + ..... + ..... + .....$$

$$49 = ..... + ..... + ..... + ..... + ..... + .....$$

الأستاذة نقاز خديجة

فكّك الأعداد التالية حسب المثال:



$$77 = 70 + 7$$

$$39 = ..... + .....$$

$$61 = ..... + .....$$

$$40 = ..... + .....$$

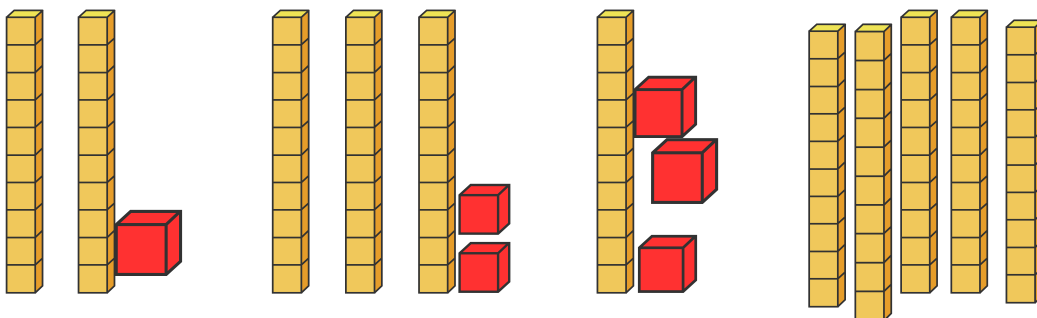
$$19 = ..... + .....$$

$$69 = ..... + .....$$

$$84 = ..... + .....$$

$$58 = ..... + .....$$

أكمّل ما يلي:



$$..... + ..... + ..... + ..... = .....$$



أحضر العدد بين عشرين متتاليتين :

. 18 .	. 26 .	. 32 .	. 44 .
. 56 .	. 66 .	. 75 .	. 82 .
. 93 .	. 22 .	. 13 .	. 36 .

الأستاذة نقاز خديجة

أنجز العمليات التالية :

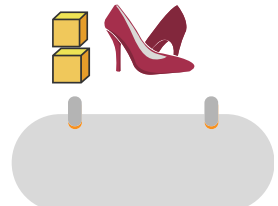

$15 + 20$

$31 + 45$

$67 - 26$

$87 - 63$

أحسب الطول بالوحدة التالية



الأستاذة نقاز خديجة



خديجة نقاز



لدى أمين 50 ديناراً ، ولدى كميليا 20 ديناراً.  
\* كم يملكان معاً من دينار؟

الوضعية الإدماجية 1 :



الاجوبة	الحل	العمليات
..... يملكان معاً : ..... ديناراً .		

خديجة نقاز



عبد الرحمان



11

46

الوضعية الإدماجية 2 :



كان عند عبد الرحمان 46 قريصة ،  
أعطى لصديقه 11 قريصة .  
\* كم بقي عند عبد الرحمان من قريصة ؟

الاجوبة	الحل	العمليات
..... بقي عند عبد الرحمان : ..... كرية .		

خديجة نقاز

الوضعية الإدماجية 3 :



عند أنيس 80 خشبية ، وهو أكثر مما يملك آدم ب 20 كرية .  
\* كم عدد الخشيبات التي يملكها آدم ؟

الاجوبة	الحل	العمليات
..... عدد الخشيبات التي يملكها آدم هو : ..... خشبية .		

خديجة نقاز

