






لاحظ الجدول ثم اكمل :



	1	2	3
و			
ح			
د			
ج			
ب			
ا			

الكرة (.....)

الكأس (.....)

(2 ح)

(1 ج)

النجمة (.....)

المربع (1 و)

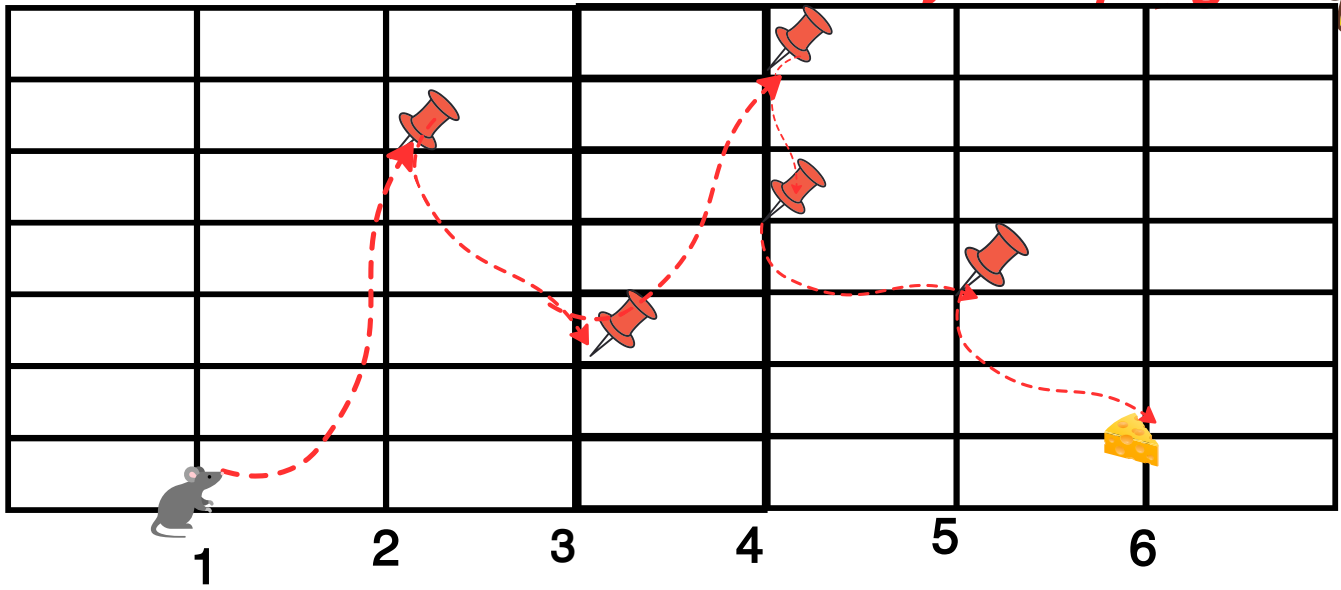
خديجة نقاز



أكمل كتابة المسار :




مسار



خديجة نقاز

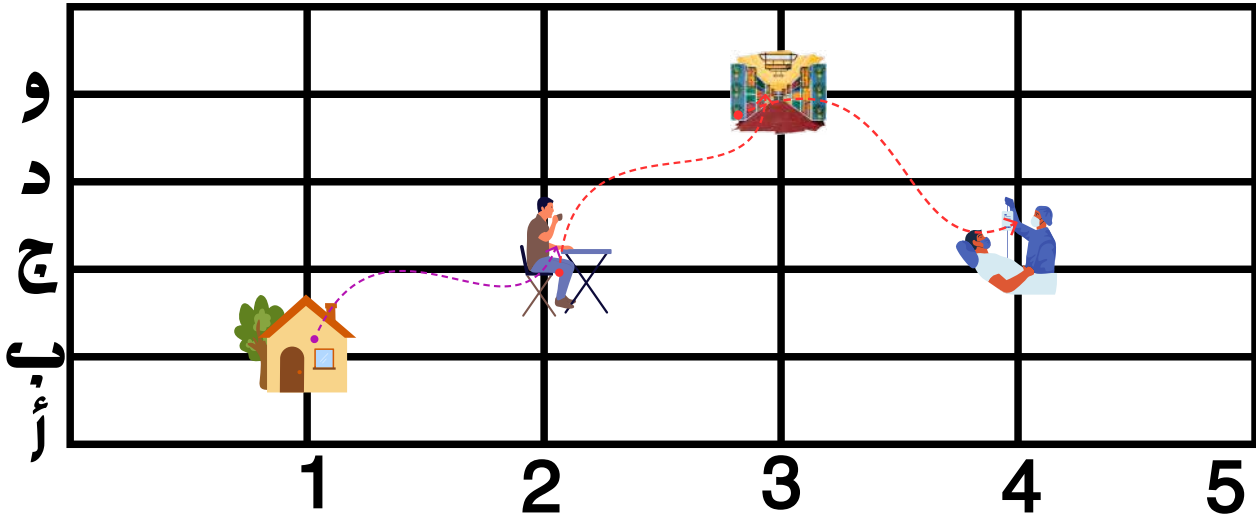


رتب الأشياء حسب طولها :






اكتب المسار الذي سلكه الرجل للوصول إلى صديقه المريض.



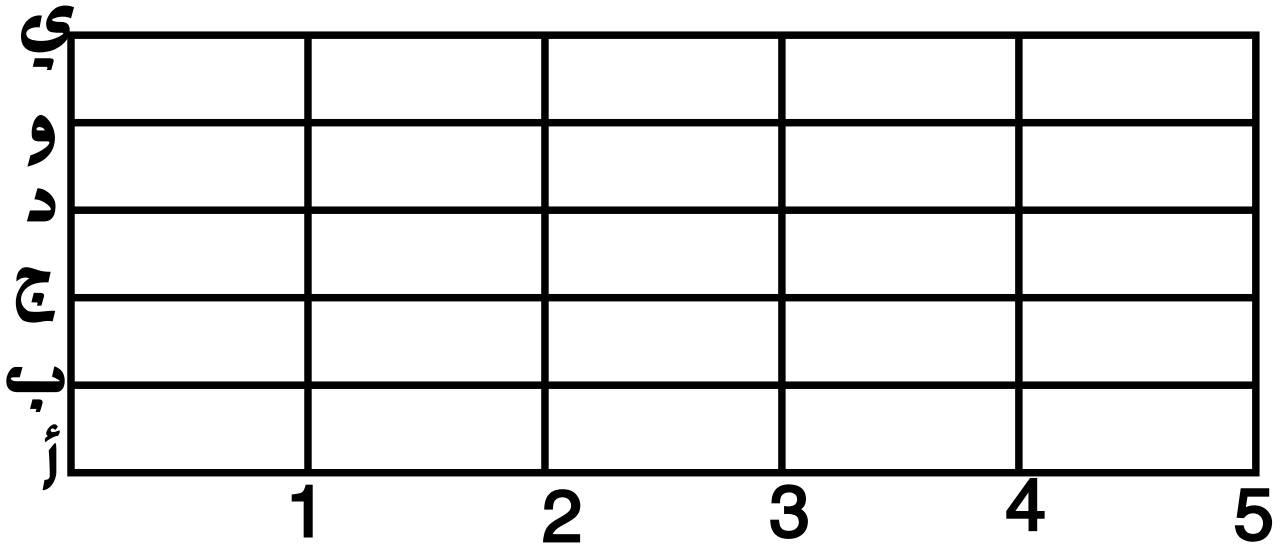
خديجة نقاز



عين المسار التالي على الجدول



3 د 4 ب 5 د 4 ي 3 د 2 ي 1 د
2 ب 1 د



خديجة نقاز



خديجة نقاز



لاحظ عدد تلاميذ المدرسة في كل مستوى دراسي ، ثم أجب



السنة	الأولى	الثانية	الثالثة	الرابعة	الخامسة
عدد الذكور	15	26	17	19	16
عدد الإناث	20	10	17	14	24
المجموع	36	33

خديجة نقاز

عدد تلاميذ السنة الخامسة إناث هو تلميذة.

عدد تلاميذ السنة الرابعة ذكور هو تلميذ.

عدد التلاميذ السنة الثالثة إناث هو وعدد الذكور هو

السنة التي يتساوى فيها عدد الذكور عدد الإناث هي السنة
أكمل ملاً مجموع تلاميذ السنة : الخامسة ، الثالثة ، الأولى .



أنجز المطلوب :



	1	2	3	4
س				
ج				
ب				
أ				

الموز في الخانة (.....)

البطاطا في الخانة (.....)

الطماطم في الخانة (.....)

العنب في الخانة (.....)

..... في الخانة (3 ب)

..... في الخانة (4 أ)

الجذر في الخانة (.....)

..... في الخانة (2 ج)

الفلفل في الخانة (2 س)

التفاحة في الخانة (3 أ)

البطيخ في الخانة (2 ج)

خديجة نقاز



خديجة نقاز