

نوفمبر 2025

المستوى: الثاني ابتدائي

فرض في مادة الرياضيات

التّمرين الأول: ألَوْنُ البَطَاقَةِ الصّحِيحَة.

54	45	64	5 وَحَدَاتٍ وَ 4 عَشْرَاتٍ هُوَ الْعَدَدُ
39	63	91	3 عَشْرَاتٍ وَ 9 وَحَدَاتٍ هُوَ الْعَدَدُ
26	62	65	6 وَحَدَاتٍ وَ 2 عَشْرَاتٍ هُوَ الْعَدَدُ

التّمرين الثاني: أكْمِلْ بِمَا يُنَاسِبُ.


<div style="border: 1px solid black; width: 100%; height: 100%; position: relative;"> <div style="position: absolute; top: 0; left: 0; width: 100%; height: 100%; background-color: #f0f0f0;"></div> <div style="position: absolute; top: 0; left: 0; width: 100%; height: 100%; border: 1px solid black;"></div> </div>	<div style="border: 1px solid black; width: 100%; height: 100%; position: relative;"> <div style="position: absolute; top: 0; left: 0; width: 100%; height: 100%; background-color: #f0f0f0;"></div> <div style="position: absolute; top: 0; left: 0; width: 100%; height: 100%; border: 1px solid black;"></div> </div>	<div style="border: 1px solid black; width: 100%; height: 100%; position: relative;"> <div style="position: absolute; top: 0; left: 0; width: 100%; height: 100%; background-color: #f0f0f0;"></div> <div style="position: absolute; top: 0; left: 0; width: 100%; height: 100%; border: 1px solid black;"></div> </div>												
<table border="1" style="width: 100%; border-collapse: collapse;"> <tr> <td style="width: 50%; text-align: center;">ع</td> <td style="width: 50%; text-align: center;">و</td> </tr> <tr> <td style="text-align: center;">.</td> <td style="text-align: center;">.</td> </tr> </table> <p style="text-align: center;">الكِتَابَةُ الحَرَفِيَّةُ</p>	ع	و	.	.	<table border="1" style="width: 100%; border-collapse: collapse;"> <tr> <td style="width: 50%; text-align: center;">ع</td> <td style="width: 50%; text-align: center;">و</td> </tr> <tr> <td style="text-align: center;">.</td> <td style="text-align: center;">.</td> </tr> </table> <p style="text-align: center;">الكِتَابَةُ الحَرَفِيَّةُ</p>	ع	و	.	.	<table border="1" style="width: 100%; border-collapse: collapse;"> <tr> <td style="width: 50%; text-align: center;">ع</td> <td style="width: 50%; text-align: center;">و</td> </tr> <tr> <td style="text-align: center;">.</td> <td style="text-align: center;">.</td> </tr> </table> <p style="text-align: center;">الكِتَابَةُ الحَرَفِيَّةُ</p>	ع	و	.	.
ع	و													
.	.													
ع	و													
.	.													
ع	و													
.	.													

التّمرين الثالث:

(1) أَتَمَّ كُلَّ عَدَدٍ إِلَى الْعَشْرَةِ الْمُوَالِيَةِ:

$$16 + \dots = 20 \quad \bigg| \quad 29 + \dots = 30 \quad \bigg| \quad 45 + \dots = 50$$

(2) أَكْتُبُ الْعَدَدَ الَّذِي يَسْبِقُ وَالْعَدَدَ الَّذِي يَلِي:



(3) أَضْعُ أَحَدَ الرَّمْزَيْنِ ($>$ ، $<$)

13	.	38		69	.	68		14	.	41
----	---	----	--	----	---	----	--	----	---	----



التمرين الرابع: أَضَعُ عَلَامَةَ (✓) أَمَامَ الإِجَابَةِ الصَّحِيحَةِ.

- الْبِنْتُ أَمَامَ الشَّجَرَةِ (.....)
- الْبِنْتُ وَرَاءَ الشَّجَرَةِ (.....)
- الْعَصَافِيرُ أَعْلَى الشَّجَرَةِ (.....)

الوضعية الإدماجية:

اِشْتَرَتْ أُمِّي مَوْزَةً بِـ 65 دِينَارًا وَعُلْبَةً زَبَادِي بِـ 20 دِينَارًا.

- كَمْ دَفَعَتْ الْأُمُّ لِلْبَائِعِ

الأجوبة

الحل

العمليات

..... =

دَفَعَتْ الْأُمُّ لِلْبَائِعِ دِينَارًا.

$$\begin{array}{r}
 \\
 + \\
 \\
 \hline
 =
 \end{array}$$

بالتوفيق

التصحيح النموذجي

التمرين الأول: ألَوْنُ البِطَاقَةِ الصَّحِيحَةِ.

54	45	64	5 وَحَدَاتٍ وَ 4 عَشْرَاتٍ هُوَ الْعَدَدُ
39	63	91	3 عَشْرَاتٍ وَ 9 وَحَدَاتٍ هُوَ الْعَدَدُ
26	62	65	6 وَحَدَاتٍ وَ 2 عَشْرَاتٍ هُوَ الْعَدَدُ

التمرين الثاني: أَكْمِلْ بِمَا يُنَاسِبُ.

<div><div></div><div></div><div></div><div></div></div> <div><div></div></div>	<div><div></div><div></div><div></div><div></div><div></div><div></div></div> <div><div></div><div></div><div></div></div>	<div><div></div><div></div><div></div></div>												
<table><tr><td>ع</td><td>و</td></tr><tr><td>4</td><td>1</td></tr></table>	ع	و	4	1	<table><tr><td>ع</td><td>و</td></tr><tr><td>5</td><td>4</td></tr></table>	ع	و	5	4	<table><tr><td>ع</td><td>و</td></tr><tr><td>3</td><td>0</td></tr></table>	ع	و	3	0
ع	و													
4	1													
ع	و													
5	4													
ع	و													
3	0													
الكِتَابَةُ الحَرْفِيَّةُ واحد وأربعون	الكِتَابَةُ الحَرْفِيَّةُ أربعة وخمسون	الكِتَابَةُ الحَرْفِيَّةُ ثلاثون												

التمرين الثالث:

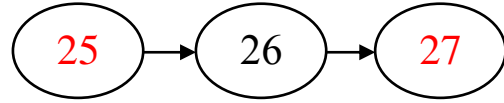
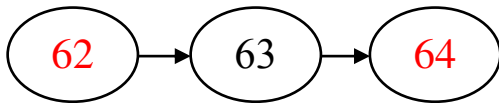
(4) اُنْتَمِّ كُلَّ عَدَدٍ إِلَى الْعَشْرَةِ الْمُوَالِيَّةِ:

$$16 + 4 = 20$$

$$29 + 1 = 30$$

$$45 + 5 = 50$$

(5) اَكْتُبِ الْعَدَدَ الَّذِي يَسْبِقُ وَالْعَدَدَ الَّذِي يَلِي:



(6) أَضَعْ أَحَدَ الرَّمْزَيْنِ (> ، <) :

$$13 < 38$$

$$69 > 68$$

$$14 < 41$$



التمرين الرابع: أَضَعُ عَلَامَةَ (✓) أَمَامَ الإِجَابَةِ الصَّحِيحَةِ.

- الْبِنْتُ أَمَامَ الشَّجَرَةِ (.....)
- الْبِنْتُ وَرَاءَ الشَّجَرَةِ (✓)
- الْعَصَافِيرُ أَعْلَى الشَّجَرَةِ (✓)

الوضعية الإدماجية:

اِشْتَرَتْ أُمِّي مَوْزَةً بِـ 65 دِينَارًا وَعُلْبَةً زَبَادِي بِـ 20 دِينَارًا.

- كَمْ دَفَعَتْ الْأُمُّ لِلْبَائِعِ

الأجوبة

$$65 + 20 = 85$$

دَفَعَتْ الْأُمُّ لِلْبَائِعِ 85 دِينَارًا.

الحل

العمليات

$$\begin{array}{r} 65 \\ + 20 \\ \hline = 85 \end{array}$$