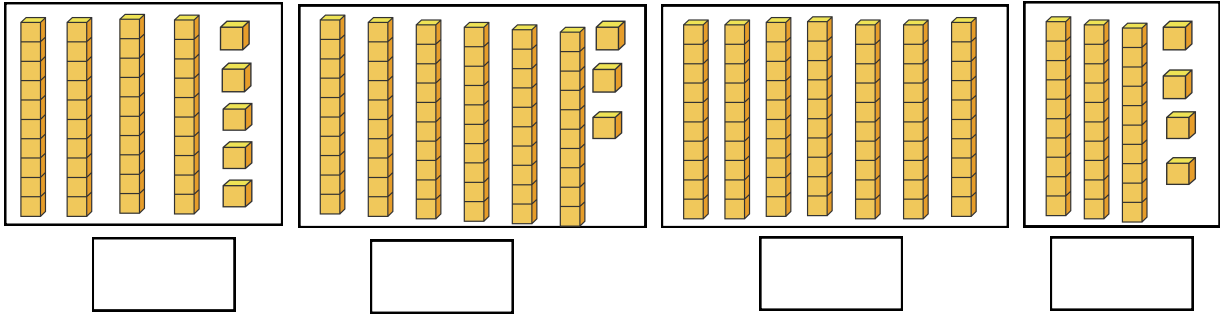


**التمرين 1:** اكتب الأعداد المُمثَّلة بالقطع والأعمدة**التمرين 2:** اكتب العدد بالأرقام أو بالحروف ثم أفككه

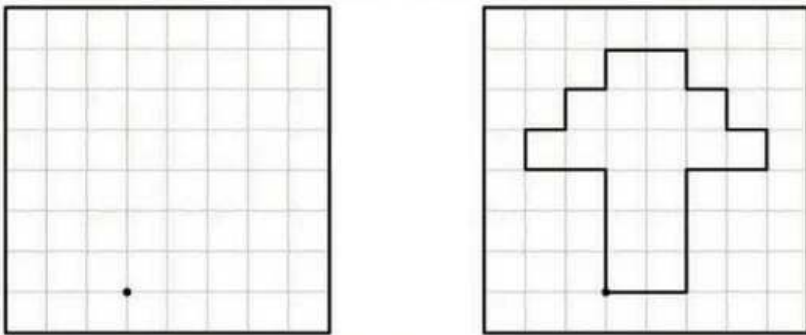
70+5	.	خَمْسَةٌ وَسَبْعُونَ
.....	32	.....

**التمرين 3:** أرّتب الأعداد الآتية من الأكبر للأصغر مع وضع الرمز المناسب


25 - 34 - 98 - 43 - 89 - 11

**التمرين 5:**

أكمل رسم الشكل على المَرصوفة

**التمرين 4:**أرسم 3 نقط في استقامة واحدة مع  
النقطتين الحمراء.**الوضعية الإدماجية**

أُطلقت الحافلة من المحطة وعلى متنها 38 راكبا، في المحطة الموالية نزل منهم 15 راكبا. كم راكبا بقي في الحافلة؟



الوضعية

بِمُنَاسَبَةِ الْعِيدِ فَتَحَ أَحْمَدُ وَأُخْتُهُ مَرِيَمُ حَصَالَتَهُمَا لِشِرَاءِ بِالُونَاتٍ وَ حَلَوِيَّاتٍ وَدُمِيَّةٍ.  
وَجَدَتْ مَرِيَمُ 46 دِينَارًا وَوَجَدَ أَحْمَدُ 53 دِينَارًا .

التّمرين 1: أكمل الجدول.

العَدَدُ:	الكِتَابَةُ بِالْحُرُوفِ	التَّمثِيلُ بِالْقِطْعِ وَالْأَعْمِدَةِ
46		
53		

السَّعْرُ	السَّلْعُ
22	البالونات
54	الحلويات
36	الدُمِيَّةُ

ذَهَبَ الْأَخْوَانُ لِلْمَتَجَرِّ فَوَجَدَا الْأَسْعَارَ الْآتِيَةَ  
أَكْمِلُ :

ثَمَنُ الْحَلَوِيَّاتِ هُوَ : .....

ثَمَنُ الْبَالُونَاتِ هُوَ : .....

ثَمَنُ الدَّمِيَّةِ هُوَ : .....

رَتِّبْ أَثْمَانَ السَّلْعِ مِنَ الْأَصْغَرِ إِلَى الْأَكْبَرِ

أَكْمِلْ كُلَّ عَدَدٍ إِلَى الْعَشْرَةِ الْمُوَالِيَةِ

$$22 + \dots = 30$$

$$54 + \dots = 60$$

$$36 + \dots = 40$$

التّمرين 2: وَجَدَ الْأَخْوَانُ فِي الْمَتَجَرِّ دُمِي لَوْنٍ أَرْبَعِ دُمِي عَلَى اسْتِقَامَةٍ وَاجِدَةٍ.التّمرين 03 :

أَضَعْ ( يَمِين - يَسَار - وَرَاء ) فِي الْمَكَانِ الْمُنَاسِبِ .

السيارة ..... الدُّبُّ .

الدُّبُّ ..... الدُمِيَّةُ .

الأرنب ..... الدِّيناصور .

