

السنة الثانية ابتدائي

ابتدائية

الاسم واللقب:

الموسم الدراسي: 2025/2024م.

اختبار الفصل الأول في مادة الرياضيات

التمرين الأول:

1- أكمل الحساب:

العدد	اكتبه بالحروف	فككه	مثله بالوحدات والعشرات
23	23=.....+.....	

2- قارن باستعمال أحد الرمزین < أو >:

9 12

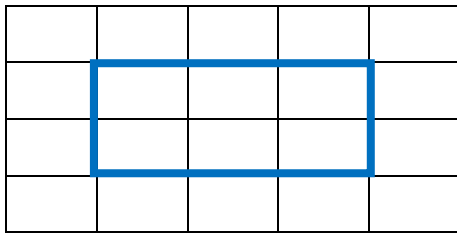
75 57

56 76

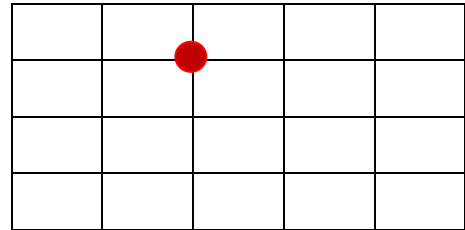
التمرين الثاني:

التمرين الثاني:

- طول الشكل الأزرق هو: وحدات.

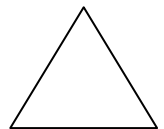

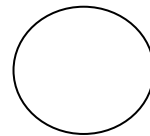


علم على المرسوفة 3 نقط في استقامية مع النقطة الحمراء:



التمرين الرابع: لون الأشكال حسب الجدول:

	x		x	
		x		
				x



التمرين الخامس: يملك أحمد 9 كرات وريح 5 كرات أخرى.

- كم كرة أصبحت عند أحمد؟

أصبح عند أحمد كرة.

..... =