

التقويم التشخيصي - ميدان الهندسة والفضاء -

تمرين 1: 1- لاحظ المرصوفة ثم أجب :

| | | | | | | |
|---|---|---|---|---|---|---|
| د | | | | | | |
| ج | | | | | | |
| ب | | | | | | |
| أ | | | | | | |
| | 1 | 2 | 3 | 4 | 5 | 6 |

• أَلَسَّرُ فِي الْخَانَةِ (... ؛ ...) .

• أَلَسَّنَجَابُ فِي الْخَانَةِ (... ؛ ...) .

• فِي الْخَانَةِ (أ ؛ 2) يُوجَدُ

• فِي الْخَانَةِ (ب ؛ 5) يُوجَدُ

• فِي الْخَانَةِ (ج ؛ 4) يُوجَدُ

2- ارْسُم مَسَلَكَ السَّنَجَابِ الَّذِي يَتَّبِعُهُ لِلْوُصُولِ إِلَى حَبَّةِ الْبُنْدُقِ :

..... ، ، ، ، ،

تمرين 2:

أَوْجِدْ تَشْفِيرَ مَوْقِعِ كُلِّ أَدَاةٍ عَلَى الْمَرْصُوفَةِ

| | | | | | | |
|---|---|---|---|---|---|---|
| د | | | | | | |
| ج | | | | | | |
| ب | | | | | | |
| أ | | | | | | |
| | 1 | 2 | 3 | 4 | 5 | 6 |

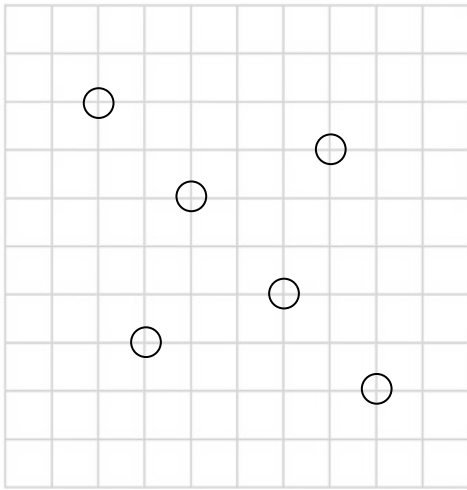
| | | | | | |
|---------------|---------------|---------------|---------------|---------------|---------------|
| | | | | | |
| (... ؛ ...) | (... ؛ ...) | (... ؛ ...) | (... ؛ ...) | (... ؛ ...) | (... ؛ ...) |

تمرين 3:

1- ارْزِعْ قُرَيْصَاتٍ فِي اسْتِقَامِيَّةٍ، صَلِّ بَيْنَهَا وَ لَوْنُهَا بِالْأَخْضَرِ.


2- ارْزِم قُرَيْصَةً حُمْرَاءَ تَكُونُ فِي اسْتِقَامِيَّةٍ، مَعَ الْقُرَيْصَاتِ

الْخَضْرَاءِ وَ الْقُرَيْصَتَيْنِ الْبَاقِيَتَيْنِ وَلَوْنُهُمَا بِالْأَحْمَرِ.

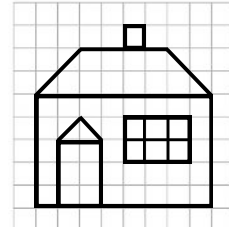


تمرين 4:

1- اَعِدْ رَسْمَ النَّمُودَجِ عَلَى الْمَرْصُوفَةِ ثُمَّ لَوْنُهُ :



النَّمُودَجُ



2- أَجِبْ بـ : { تَكْيِيرُ / تَصْغِيرُ }

• الشَّكْلُ الَّذِي رَسَمْتَهُ هُوَ لِلنَّمُودَجِ .

تمرين 1: 1- لاحظ المرصوفة ثم أجب :

| | | | | | | |
|---|---|---|---|---|---|---|
| د | | | → | → | → | |
| ج | | → | ↑ | | | |
| ب | | ↑ | | | | |
| أ | | | | | | |
| | 1 | 2 | 3 | 4 | 5 | 6 |

• النَّسْرُ فِي الْخَانَةِ (أ؛ 6) .

• السَّنَجَابُ فِي الْخَانَةِ (ب؛ 1) .

• فِي الْخَانَةِ (أ؛ 2) يُوجَدُ الْأَسَدُ

• فِي الْخَانَةِ (ب؛ 5) يُوجَدُ الدب

• فِي الْخَانَةِ (ج؛ 4) يُوجَدُ الْفِيلُ

2- ارْسُمْ مَسَلَّكَ السَّنَجَابِ الَّذِي يَتَّبِعُهُ لِلْوُصُولِ إِلَى حَبَّةِ الْبُنْدُقِ :

..... → ↑ → ↑ →

تمرين 2:

أَوْجَدُ تَشْفِيرَ مَوْقِعِ كُلِّ أَدَاةٍ عَلَى الْمَرْصُوفَةِ

| | | | | | | |
|---|---|---|---|---|---|---|
| د | | | | | | |
| ج | | | | | | |
| ب | | | | | | |
| أ | | | | | | |
| | 1 | 2 | 3 | 4 | 5 | 6 |

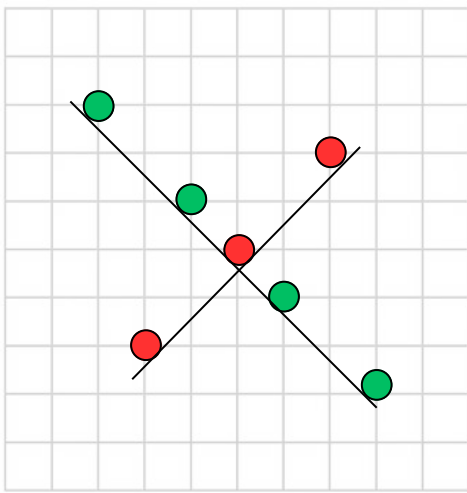
| | | | | | |
|--------|--------|--------|--------|--------|--------|
| | | | | | |
| (ج؛ 5) | (ب؛ 6) | (أ؛ 2) | (ج؛ 1) | (د؛ 3) | (ب؛ 4) |

تمرين 3:

1- ارْبَعُ قُرَيْصَاتٍ فِي اسْتِقَامِيَّةٍ، صَلِّ بَيْنَهَا وَ لَوْنُهَا بِالْأَخْضَرِ.

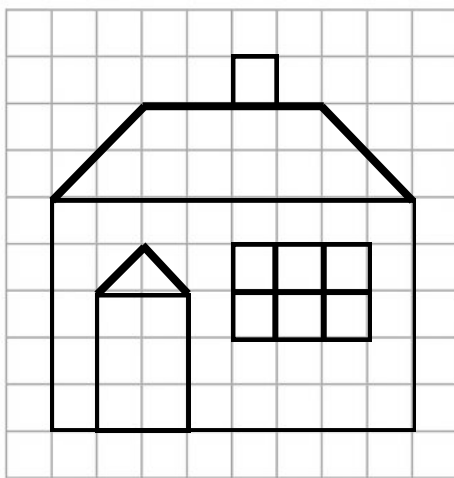
2- ارْسُمْ قُرَيْصَةً حُمْرَاءَ تَكُونُ فِي اسْتِقَامِيَّةٍ، مَعَ الْقُرَيْصَاتِ

الْخَضْرَاءِ وَالْقُرَيْصَتَيْنِ الْبَاقِيَتَيْنِ وَلَوْنُهُمَا بِالْأَحْمَرِ.

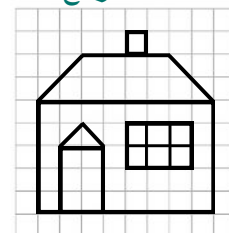


تمرين 4:

1- اَعِدْ رَسْمَ النَّمُودَجِ عَلَى الْمَرْصُوفَةِ ثُمَّ لَوْنُهُ :



النَّمُودَجُ



2- أَجِبْ بـ : { تَكْبِيرُ / تَصْغِيرُ }

• الشَّكْلُ الَّذِي رَسَمْتَهُ هُوَ تَكْبِيرُ لِلنَّمُودَجِ .