

التقويم التشخيصي - ميدان تنظيم معطيات -

تمرين 1:

يُمَثِّل التَّمْثِيلُ الْبَيَانِيُّ التَّالِي عَدَدَ الدَّفَاتِرِ الَّتِي تَمَّ بَيْعُهَا فِي مَكْتَبَةِ الْمَدْرَسَةِ خِلَالَ أَشْهُرِ السَّنَةِ .
- أَجِبْ عَنِ الْأَسْئَلَةِ التَّالِيَةِ :

1- مَا هُوَ عَدَدُ الدَّفَاتِرِ الَّتِي بِيَعَتْ خِلَالَ شَهْرِ جَوَان ؟

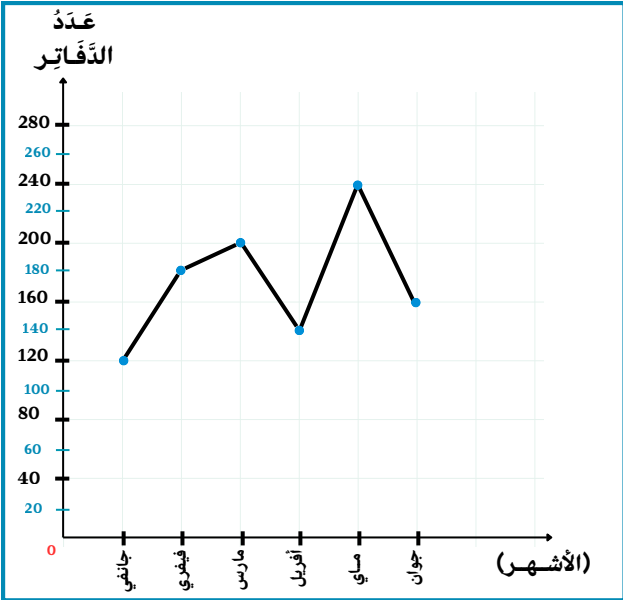
2- مَا هُوَ عَدَدُ الدَّفَاتِرِ الَّتِي بِيَعَتْ خِلَالَ شَهْرِ أَفْرِيل ؟

3- مَا هُوَ الشَّهْرُ الْأَكْثَرُ بَيْعًا لِلدَّفَاتِرِ ؟

4- مَا هُوَ الشَّهْرُ الْأَقَلُّ بَيْعًا لِلدَّفَاتِرِ ؟

5- هَلْ اِزْتَفَعَتْ مَبِيعَاتُ الدَّفَاتِرِ مِنْ فَيْفْرِ إِلَى مَارِس ؟

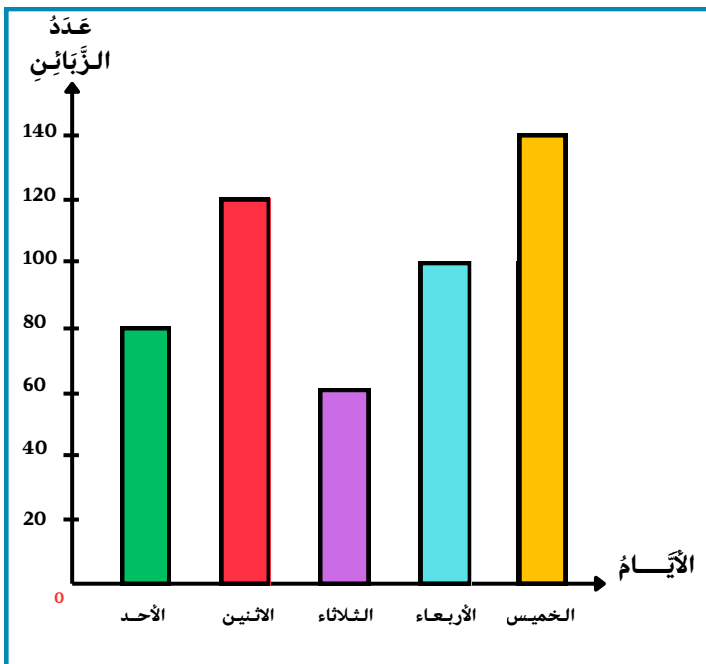
6- رَتِّبِ الْأَشْهُرَ حَسَبَ عَدَدِ الدَّفَاتِرِ الْمُبَاعَةِ مِنَ الْأَقَلِّ إِلَى الْأَكْثَرِ ؟



تمرين 2:

يُمَثِّل التَّمْثِيلُ الْبَيَانِيُّ عَدَدَ الزَّبَائِنِ فِي مَخْبَزَةِ أُسْبُوعِيًّا.

• مِنْ خِلَالِ الرَّسْمِ الْبَيَانِيِّ الْمُقَابِلِ قُمْ بِتَنْظِيمِ هَذِهِ الْبَيِّنَاتِ فِي هَذَا الْجَدْوَلِ :

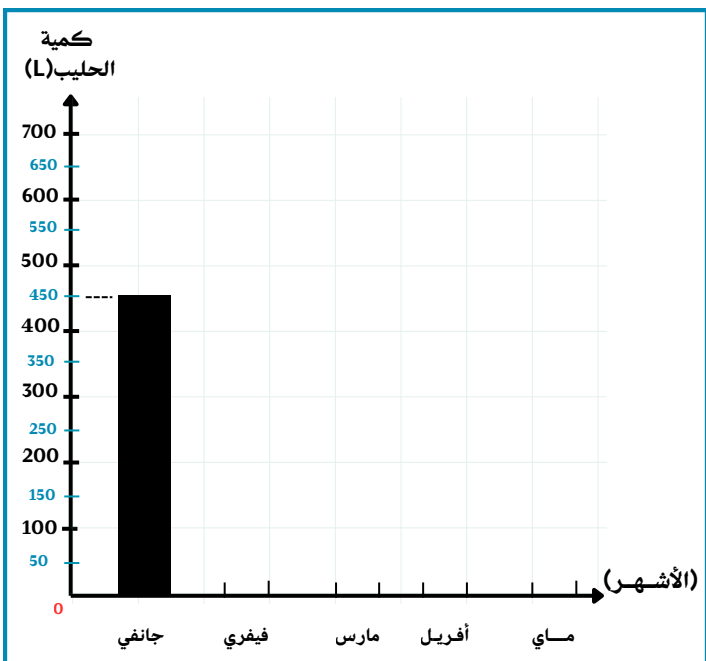


الأيام	الأحد	الاثنين	الثلاثاء	الأربعاء	الخميس
عدد الزبائن					

تمرين 3:

يُمَثِّلُ الْجَدْوَلُ كَمِّيَّةَ الْحَلِيبِ الَّتِي تَجْمَعُهَا الْمَزْرَعَةُ شَهْرِيًّا.

• أَكْمِلْ رَسْمَ الْأَعْمِدَةِ الْبَيَانِيَّةِ حَسَبَ الْمُعْطَيَاتِ الْمَذْكُورَةِ فِي الْجَدْوَلِ .



الاشهر	جانفي	فيفري	مارس	أفريل	ماي
كَمِّيَّةُ الْحَلِيبِ (L)	450	550	700	300	250

يُمَثِّل التَّمْثِيلُ الْبَيَانِيُّ التَّالِي عَدَدَ الدَّفَاتِرِ الَّتِي تَمَّ بَيْعُهَا فِي مَكْتَبَةِ الْمَدْرَسَةِ خِلَالَ أَشْهُرِ السَّنَةِ .
- أَجِبْ عَنِ الْأَسْئَلَةِ التَّالِيَةِ :



من إعداد
الأستاذ عمراني علي

1- مَا هُوَ عَدَدُ الدَّفَاتِرِ الَّتِي بِيَعَتْ خِلَالَ شَهْرِ جَوَان ؟

• عَدَدُ الدَّفَاتِرِ الَّتِي بِيَعَتْ خِلَالَ شَهْرِ جَوَان هُوَ : 160 دفترًا . (0.75)

2- مَا هُوَ عَدَدُ الدَّفَاتِرِ الَّتِي بِيَعَتْ خِلَالَ شَهْرِ أَفْرِيل ؟

• عَدَدُ الدَّفَاتِرِ الَّتِي بِيَعَتْ خِلَالَ شَهْرِ أَفْرِيل هُوَ : 140 دفترًا (0.75)

3- مَا هُوَ الشَّهْرُ الْأَكْثَرُ بَيْعًا لِلدَّفَاتِرِ ؟

• الشَّهْرُ الْأَكْثَرُ بَيْعًا لِلدَّفَاتِرِ هُوَ شَهْرُ : مَآي . (0.75)

4- مَا هُوَ الشَّهْرُ الْأَقَلُّ بَيْعًا لِلدَّفَاتِرِ ؟

• الشَّهْرُ الْأَقَلُّ بَيْعًا لِلدَّفَاتِرِ هُوَ شَهْرُ : جَانِفِي . (0.75)

5- هَلْ اِزْتَفَعَتْ مَبِيعَاتُ الدَّفَاتِرِ مِنْ فِيفْرِ إِلَى مَارِس ؟

• نَعَمْ ، اِزْتَفَعَتْ مَبِيعَاتُ الدَّفَاتِرِ مِنْ 180 دفترًا إِلَى 200 دفتر ، أَي بـ 20 دفترًا . (1)

6- رَتِّبِ الْأَشْهُرَ حَسَبَ عَدَدِ الدَّفَاتِرِ الْمُبَاعَةِ مِنَ الْأَقَلِّ إِلَى الْأَكْثَرِ ؟

مَآي < مَارِس < فِيفْرِ < جَوَان < أَفْرِيل < جَانِفِي
(0.25) (0.25) (0.25) (0.25) (0.25) (0.25)

تمرين 2:

يُمَثِّل التَّمْثِيلُ الْبَيَانِيُّ عَدَدَ الزَّبَائِنِ فِي مَخْبَزَةٍ أُسْبُوعِيًّا .

• مِنْ خِلَالِ الرَّسْمِ الْبَيَانِيِّ الْمُقَابِلِ قُمْ بِتَنْظِيمِ هَذِهِ الْبَيِّنَاتِ
فِي هَذَا الْجَدْوَلِ :

الأيام	الأحد	الاثنين	الثلاثاء	الأربعاء	الخميس
عَدَدُ الزَّبَائِنِ	80	120	60	100	140

(0.5) (0.5) (0.5) (0.5) (0.5)

تمرين 3:

يُمَثِّلُ الْجَدْوَلُ كَمِّيَّةَ الْحَلِيبِ الَّتِي تَجْمَعُهَا الْمَزْرَعَةُ شَهْرِيًّا .

• أَكْمِلْ رَسْمَ الْأَعْمِدَةِ الْبَيَانِيَّةِ حَسَبَ الْمُعْطَيَاتِ الْمَذْكُورَةِ
فِي الْجَدْوَلِ .

الاشهر	جانفي	فيفري	مارس	أفريل	ماي
كَمِّيَّةُ الْحَلِيبِ (L)	450	550	700	300	250

