

الجمهورية الجزائرية الديمقراطية الشعبية

وزارة التربية الوطنية

الإسم:

اللقب:

مديرية التربية لولاية المسيلة

مدرسة حديدي عبد القادر ب سيدي عامر

إختبار الفصل الأول في مادة الرياضيات

الأعداد و الحساب

1/ اكتب الأعداد بالحروف و الأرقام 2

• سبعة و ثمانون • 56

2/ أتم كل عدد إلى العشرة المئوية 1.5 ن

$$45 + = 50$$

$$77 + = 80$$




$$61 + = 70$$

3- قارن بين الاعداد بوضع < > = 1.5 ن

32 . 45 / 05 . 50 / 75 . 57 /

اربط النقط الثلاثة التي هي على استقامة في كل مرة 1.5 ن

الفضاء و الهندسة



تنظيم معطيات

أجب بصحيح أو خطأ 1.5 ن

الكلب في الخانة 3 د

القط في الخانة 1 هـ

التمساح في الخانة 4 ب

الإدماج

عند نهال 23 كرية ، أعطت لصديقاتها 5 كريات . 2 ن

كم كرية بقيت معها ؟

العملية

الجواب

