

اختبار الفصل 1 في مادة الرياضيات

الوضعية 1:

(1) اكمل ملأ الجدول

			805
		سَبْعُ مِئَةٍ وَخَمْسُونَ	
	4 ع 9 م 1 و		
200+40+2			

(2) لَوْنُ الْبِطَاقَاتِ الْمُسَاوِيَةِ لِلْعَدَدِ 1000

50+550

900+100

399+600

750+250

(3) قَارِنْ بِاسْتِعْمَالِ الرُّمُوزِ: < ، >

995 . 990

,

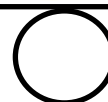


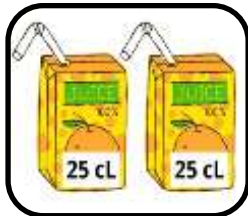
400 . 300+150

,

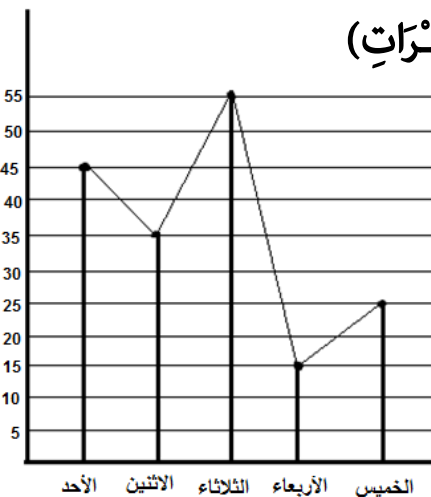
650 . 605

الوضعية 2:

رَتِّبْ هَذِهِ الْمَقَادِيرَ مِنَ الْأَكْبَرِ إِلَى الْأَصْغَرِ وَذَلِكَ بِتَرْقِيمِهَا مِنْ 1 إِلَى 4



عدد اللترات



أيام الدراسة

الوضعية 3:

لَا حَظَّ التَّمْثِيلِ الْبَيَانِيِّ التَّالِي الَّذِي يُمَثِّلُ كَمِّيَّةَ الْمَاءِ الْمُسْتَهْلَكَةِ (بِاللُّتْرَاتِ) فِي مَدْرَسَةٍ خِلَالِ أَيَّامِ الدَّرَاسَةِ.

(1) فِي أَيِّ يَوْمٍ كَانَتْ كَمِّيَّةُ الْمَاءِ الْمُسْتَهْلَكَةِ هِيَ الْأَعْلَى.....

(2) كَمْ كَانَتْ كَمِّيَّةُ الْمَاءِ الْمُسْتَهْلَكَةِ فِي يَوْمِ الْأَحَدِ.....

(3) أَذْكَرُ الْأَيَّامِ الَّتِي كَانَ فِيهَا الْإِسْتِهْلَاكُ أَكْثَرَ مِنْ 20 لِتْرًا

.....

الوضعية 4:

(1) لَاحِظْ مَوْقِعَ كُلِّ شَكْلِ عَلَى الْمَرْصُوفَةِ ثُمَّ اكْمَلِ الْجَدْوَلَ:

★		▲	
.....	(1،هـ)	(2،ب)

(2) لَوْنُ بِالْأَحْمَرِ الْمُرَبَّعِ الَّذِي يُمَثِّلُ التَّشْفِيرَ (5،ج)

هـ	■					
د			★			
ج						
ب		●				
أ					▲	
	1	2	3	4	5	6

الوضعية الادمجية

مَنَحَ الْأَبُ لَوَلَدِهِ أَحْمَدَ الْمَبْلَغِ الْمُمَثَّلِ أَمَامَكَ فِي الصُّورَةِ

(1) أَحْسِبِ الْمَبْلَغَ الَّذِي يَمْلِكُهُ أَحْمَدُ.

.....=.....

الْمَبْلَغَ الَّذِي يَمْلِكُهُ أَحْمَدُ هُوَ دِينَارًا.



إِشْتَرَى أَحْمَدُ بِهَذَا الْمَبْلَغِ لُعْبَةً بِسِعْرِ 505 دِينَارًا

(2) أَحْسِبِ الْمَبْلَغَ الَّذِي بَقِيَ مَعَ أَحْمَدَ

.....=.....

الْمَبْلَغَ الَّذِي بَقِيَ مَعَ أَحْمَدَ هُوَ دِينَارًا

(3) أَشْطَبِ الْأَوْرَاقَ النَّقْدِيَّةَ الَّتِي دَفَعَهَا أَحْمَدُ لِلْبَائِعِ.



بالتوفيق