
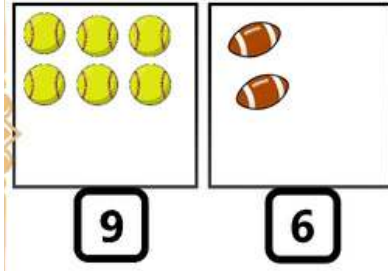


شطب الزائد:

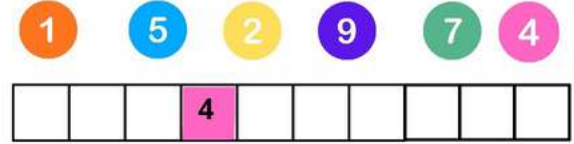
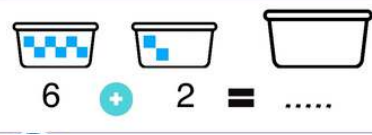


أكمل رسم الناقص:



أكمل إجراء العمليات الحسابية:

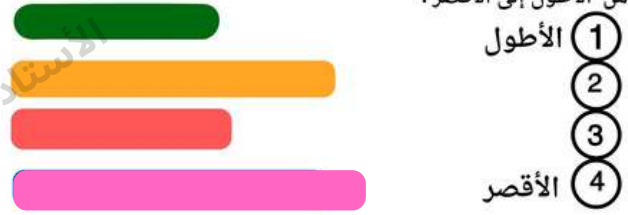
أكمل تلوين الخانات حسب ترتيبها



- لون الحصان الذي أمام الفارس بالبني
- لون الحصان الذي خلف الفارس باللون البرتقالي.



رتب من الأطول إلى الأقصر:

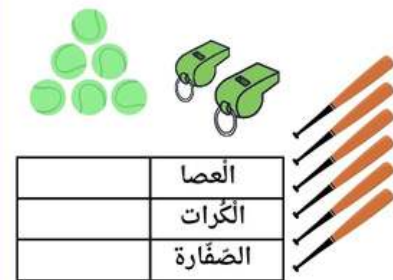


لاحظ الجدول واملأ الإجابة:

3	
1	
6	
10	

- عدد الأقلام:
- عدد الكتب:
- عدد الأوراق:
- عدد المحفلات:

عد الأشياء واملأ الجدول:



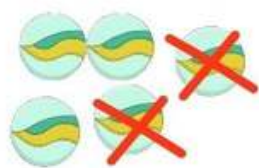
الوضعية الإدماجية 1:

- كان عند أمين 5 كريات، لعب

مع صديقه فخسر كرتين 2 .

- كم بقي عند أمين من كرية؟

- بقي عند أمين :..... كرية.



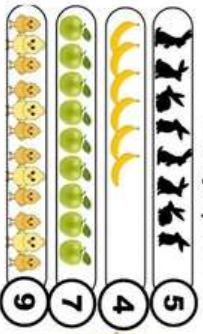
الاستاذة نقار خديجة



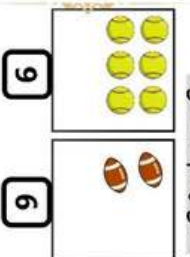
تقويم الفصل الأول في مادة الرياضيات

السنة الأولى ابتدائي

شطب الزائد:



أكمل رسم التناقص:



أكمل إجراء العمليات الحسابية:

$$6 + 2 = \dots$$

$$7 - 1 = \dots$$

أكمل تلوين الخانات حسب ترتيبها



الاستاذة نقار خديجة

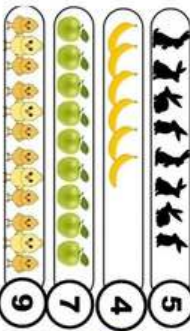
الاستاذة نقار خديجة



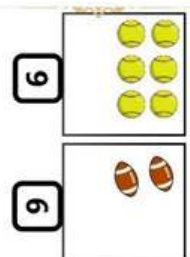
تقويم الفصل الأول في مادة الرياضيات

السنة الأولى ابتدائي

شطب الزائد:



أكمل رسم التناقص:




أكمل إجراء العمليات الحسابية:

$$6 + 2 = \dots$$

$$7 - 1 = \dots$$

أكمل تلوين الخانات حسب ترتيبها



لون الحصان الذي أمام الفارس بألبي - لون الحصان الذي بجانب الفارس بالزادي.

لون الحصان الذي خلف الفارس بالون البرتقالي.

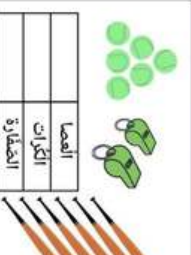


عد الأشياء واملأ الجدول:

3	
1	
6	
10	

لاحظ الجدول واملأ الإجابة:

- عدد الأقلام:
- عدد الكتب:
- عدد الأوراق:
- عدد المحفلات:



الاستاذة نقار خديجة

لون الحصان الذي أمام الفارس بألبي - لون الحصان الذي بجانب الفارس بالزادي.

لون الحصان الذي خلف الفارس بالون البرتقالي.

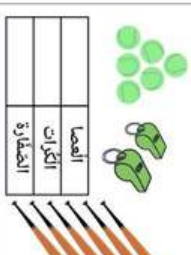


عد الأشياء واملأ الجدول:

3	
1	
6	
10	

لاحظ الجدول واملأ الإجابة:

- عدد الأقلام:
- عدد الكتب:
- عدد الأوراق:
- عدد المحفلات:



الاستاذة نقار خديجة

الاستاذة نقار خديجة



- كان عند أمين 5 كرات، لعب مع صديقه فضبر كرتين 2.
- كم بقي عند أمين من كرتية؟
- بقي عند أمين :

الاستاذة نقار خديجة



- كان عند أمين 5 كرات، لعب مع صديقه فضبر كرتين 2.
- كم بقي عند أمين من كرتية؟
- بقي عند أمين :