



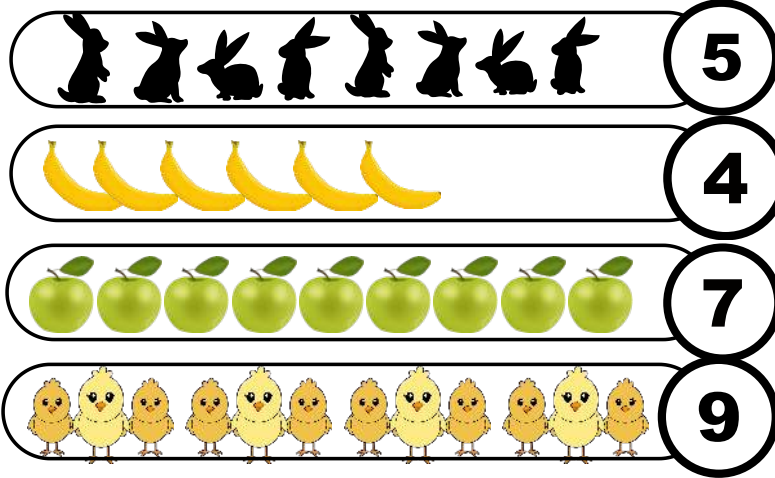
المعلّمة
نقاز خديجة

تقويم الفصل الأوّل

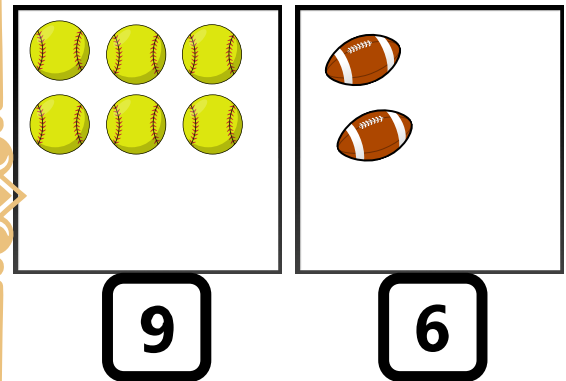
السنة الأولى 1

ميدان الأعداد والحساب - نقاز خديجة


شطب الزائد:



اكمل رسم الناقص:



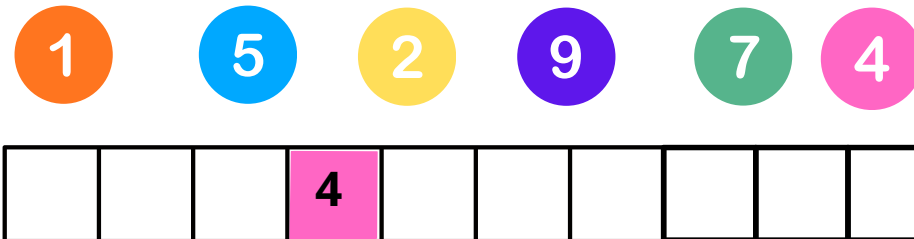
اربط الحلزون مع الرقم المناسب:



جد الرقم السابق والرقم اللاحق:



لون الخانات باللون المناسب:



المعلّمة نقاز خديجة





أجرّ العمليات على اللوحة ثمّ لوّن الناتج حسب لون كل رقم.

4

9

5

6

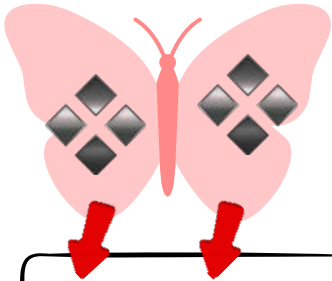
$$3 + 3$$

$$1 + 4$$

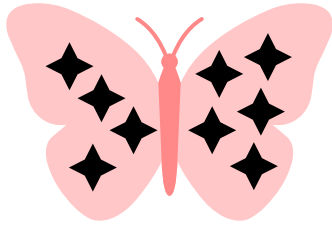
$$3 + 1$$

$$5 + 4$$

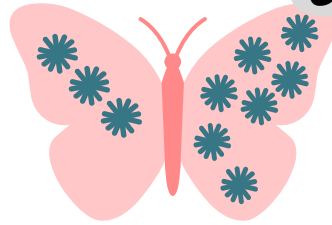
أكمل حسب المثال:



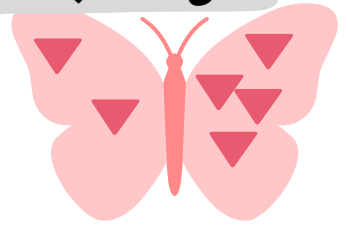
$$4 + 4 = 8$$



.....




.....




.....

أكمل حسب المثال:



$$3 + \dots = \dots$$




$$\dots + \dots = \dots$$



$$\dots + \dots = \dots$$


أكمل حسب المثال:



$$6 - 1 = 5$$



$$3 - 2 = \dots$$



.....



.....







المعلّمة
نقاز خديجة

تقويم الفصل الأوّل
- ميدان مقادير وقياس -


السنة الأولى 1

رتّب من الأقصر إلى الأطول:


رتّب الأشجار من الأطول إلى الأقصر:



- لون أطول زهرة بالأحمر.
- لون أقصر زهرة بالأصفر:




- لون أقصر طفل بالأصفر.
- لون أطول طفل بالأزرق:



رتّب من الأطول إلى الأقصر:

1
2
3
4
الأطول
الأقصر



المعلّمة نقاز خديجة







- ضَع حَيِّزًا أَزْرَقًا حَوْلَ الْيَمْنَى .
- ضَع حَيِّزًا أَخْضَرًا حَوْلَ الْيَسْرَى .



- لَوْنُ الْحِصَانِ الَّذِي أَمَامَ الْفَارِسِ بِالْبَيْتِي - لَوْنُ الْحِصَانِ الَّذِي بَجَانِبِ الْفَارِسِ بِالرَّمَادِي .
- لَوْنُ الْحِصَانِ الَّذِي خَلْفَ الْفَارِسِ بِاللَّوْنِ الْبَرْتَقَالِي .



- ضَع حَيِّزًا أَحْمَرَ حَوْلَ مَا يَوْجَدُ فَوْقَ الطَّائِلَةِ .
- ضَع حَيِّزًا أَخْضَرَ حَوْلَ مَا يَوْجَدُ أَسْفَلَ الطَّائِلَةِ .
- لَوْنُ الْقِطْعَةِ الَّتِي عَلَى الْيَمِينِ بِاللَّوْنِ الْبَرْتَقَالِي .
- لَوْنُ الْقِطْعَةِ الَّتِي عَلَى الْيَسَارِ بِاللَّوْنِ الْأَزْرَقِ .




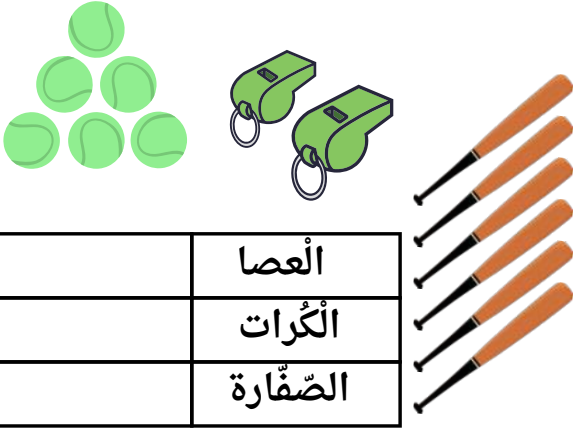


المعلّمة تقويم الفصل الأوّل - ميدان استخراج معطيات - نقاز خديجة

السنة الأولى 1

عدّ الأشياء وإملاً الجدول:

عدّ الأشياء وإملاً الخانات:



صنّف أوقات البرامج التلفزيونيّة في الجدول :



	حصّة الرياضة
	نشرة الأخبار
	القطّ والفأر

لاحظ الجدول وأكمل الإجابة:

3	
1	
6	
10	

- عددُ الاقلام:
- عددُ الكتب:
- عددُ الأوراق:
- عددُ المحفّظات:

المعلّمة نقاز خديجة



دعواتكم لأُمِّي بالشفاء

1

تقويمات الفصل الأوّل

مادّة الرياضيّات

ميادين الرياضيّات

الأستاذة نقاز خديجة

السنة الأولى

الفصل الأول

مادّة الرياضيّات

