



$$5 - 1 = \dots$$



$$8 - 2 = \dots$$



$$7 - 4 = \dots$$

1

أكمل ربط كل بطاقة بالعدد المناسب

2

4

3

5

2

1

$$2 - 1$$

$$8 - 6$$

$$5 - 1$$

$$6 - 3$$

$$7 - 2$$

أكمل ملأ الفراغات بالعدد المناسب

3

$$7 - 3 = \dots$$

$$4 - 1 = \dots$$

$$9 - 5 = \dots$$

$$6 - 2 = \dots$$


لون البطاقة المناسبة في كل حالة

4

$$8 - 5$$

$$9 - 4$$


$$7 - 2$$



$$6 - 3$$

$$7 - 4$$

$$6 - 2$$





لون بطاقة العدد 10

1

$$5 + 5$$

$$2 + 5$$

$$4 + 2$$

$$4 + 6$$

$$7 + 3$$

$$6 + 3$$

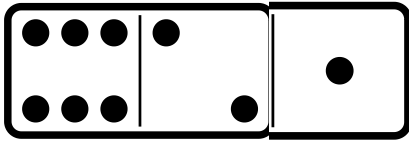
$$0 + 10$$

$$8 + 2$$

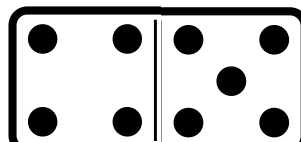
$$4 + 3$$

أكمل ملأ الفراغات

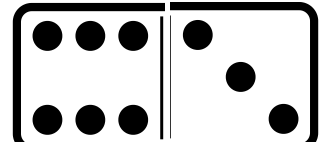
2



$$9 = \dots + \dots + \dots$$



$$9 = \dots + \dots$$



$$9 = \dots + \dots$$

أكمل ملأ الفراغات بالعدد المناسب

3

$$4 = \dots + 1$$

$$9 = \dots + 7$$

$$6 = \dots + 2$$

$$8 = \dots + 5$$

$$8 = 7 + \dots$$

$$9 = 4 + \dots$$

$$3 = 1 + \dots$$

$$5 = 3 + \dots$$

إربط كل عدد بمجموعه

4

$$2 + 2$$

$$2 + 6$$

$$4 + 1$$

$$5 + 2$$

$$6 + 3$$

8

5

7

9

4



استعمل شريط الوحدة



طول القلم 1 ... وحدة



طول القلم 2 ... وحدة



طول القلم 3 ... وحدة



طول القلم 4 ... وحدة

لقياس الشريط

استعمل شريط الوحدة

طول الشريط الأخضر .... وحدات

طول الشريط الازرق ... وحدات



استعمل شريط الوحدة



طول القلم 1 ... وحدة



طول القلم 2 ... وحدة



طول القلم 3 ... وحدة



طول القلم 4 ... وحدة

لقياس الشريط

استعمل شريط الوحدة

طول الشريط الأخضر .... وحدات

طول الشريط الازرق ... وحدات