







الرياضيات

الاستاذ أمين للابتدائي

الاسم واللقب :

احسب واكتب العدد المناسب



اكمل الشريط العددي

1

.....

.....

.....

.....

.....

7


.....

.....


اعد وارسم العدد الناقص



5



9



6