



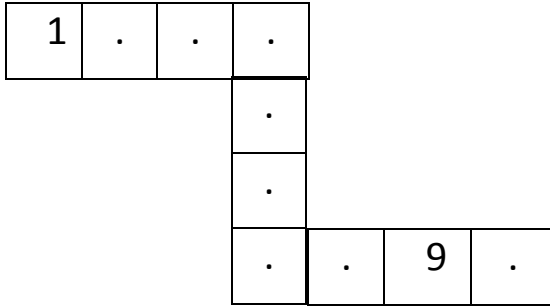

نوفمبر 2024

المستوى : الاول ابتدائي


فرض في مادة الرياضيات للفصل الأول

يوم:


الاسم و اللقب:

التمرين الأول: أكمل كتابة الأعداد على الشريط العددي.التمرين الثاني: أرسم الكرات الناقصة.


5



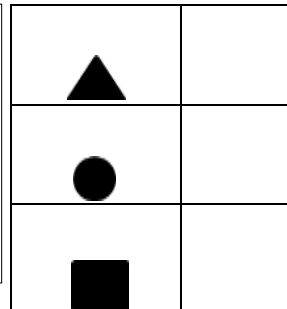

9



2



10

التمرين الثالث: أعد وأضع العدد المناسب.

التمرين الرابع: أُلَوِّنُ البِطَاقَةَ المُنَاسِبَةَ.



أَقَلُّ مِنْ

أَكْثَرُ مِنْ



أَقَلُّ مِنْ

أَكْثَرُ مِنْ



أَقَلُّ مِنْ

أَكْثَرُ مِنْ



التمرين الخامس:

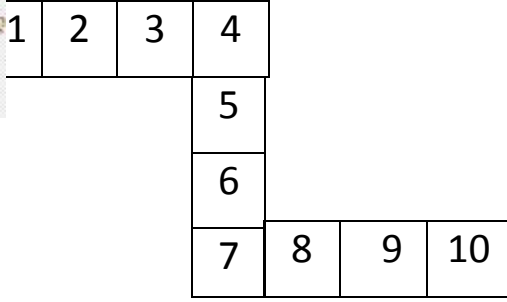
- أُلَوِّنُ بِالْأَخْضَرِ الكُرَّةَ الَّتِي فَوْقَ الطَّاوِلَةِ.

- أُلَوِّنُ بِالْأَحْمَرِ الكُرَّةَ الَّتِي تَحْتَ الطَّاوِلَةِ.


بالتوفيق.

التصحيح النموذجي


التمرين الأول: أكمل كِتَابَةَ الأَعْدَادِ عَلَى الشَّرِيطِ العَدَدِيِّ.




التمرين الثاني: أَرَسِّمُ الكُرَاتِ النَّاقِصَةَ.




5



9







2



10

التمرين الثالث: أَعُدُّ وَ أَضَعُ العَدَدَ المُنَاسِبَ.



	5
	9
	5

التمرين الرابع: أَلَوِّنُ البَطَاقَةَ المُنَاسِبَةَ.



أَقَلُّ مِنْ

أَكْثَرُ مِنْ



أَقَلُّ مِنْ

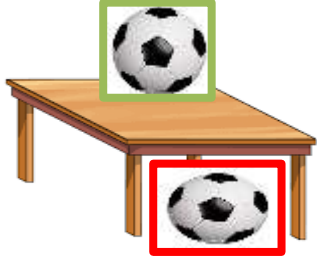
أَكْثَرُ مِنْ



أَقَلُّ مِنْ

أَكْثَرُ مِنْ





التمرين الخامس:

- أُلَوِّنُ بِالْأَخْضَرِ الْكُرَّةَ الَّتِي فَوْقَ الطَّاوِلَةِ.
- أُلَوِّنُ بِالْأَحْمَرِ الْكُرَّةَ الَّتِي تَحْتَ الطَّاوِلَةِ.