



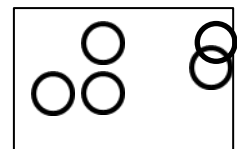
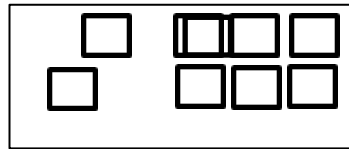
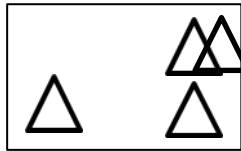

ديسمبر 2024

المستوى: الاول ابتدائي

اختبار الفصل الأول في الرياضيات

القسم:

الاسم واللقب:

التمرين الاول: أرتبّ البنّيات من الأطول إلى الأقصر.التمرين الثاني: أ/- أكمل رَبطَ كُلِّ بِطَاقَةٍ بِالْعَدَدِ الْمُنَاسِبِ.

4

8

5

9

ب/- أكمل الشريط العددي:

1	6
---	---	---	---	---	---	---	---	---	---

التمرين 3: أ/- أحسب.

$$5 + 2 = \dots$$

$$8 - 4 = \dots$$

$$6 + 3 = \dots$$

ب/- أكمِلْ بِالْعَدَدِ الْمُنَاسِبِ.

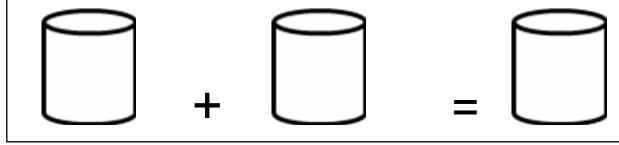
$$\dots + 7 = 10$$

$$4 + \dots = 9$$

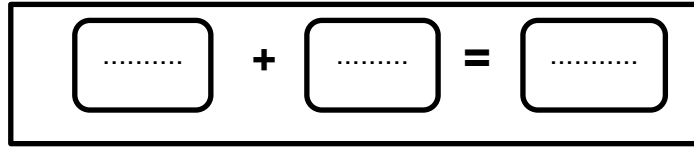
الوضعية الإدماجية:

عِنْدَ أَمِينٍ 6 كُرِّيَّاتٍ، لَعِبَ فَرِيحَ 4 كُرِّيَّاتٍ.

أ- ارْسُمِ الْكُرِّيَّاتِ.



ب- كَمْ عَدَدُ كُرِّيَّاتِ أَمِينٍ؟



عَدَدُ كُرِّيَّاتِ أَمِينٍ كُرِّيَّة.

بالتوفيق.

التصحيح النموذجي

التمرين الاول : أرتب البنائات من الأطول إلى الأقصر.



1

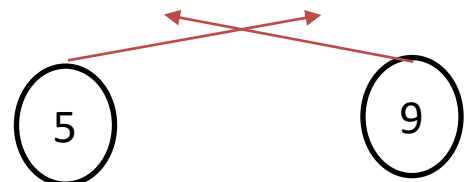
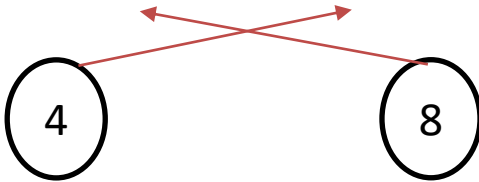
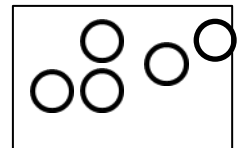
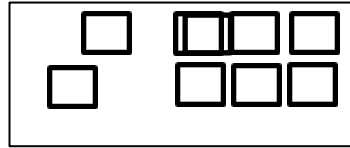
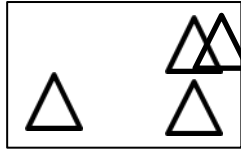

3



2

4

التمرين الثاني: أ/- أكمل ربط كل بطاقة بالعدد المناسب.



ب/- أكمل الشريط العددي:

1	2	3	4	5	6	7	8	9	10
---	---	---	---	---	---	---	---	---	----

التمرين 3: أ/- أحسب.

$$5 + 2 = 7$$

$$8 - 4 = 4$$

$$6 + 3 = 9$$

ب/- أكمل بالعدد المناسب.

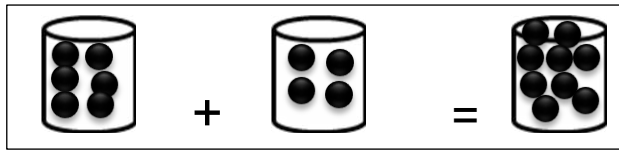
$$3 + 7 = 10$$

$$4 + 5 = 9$$

الوضعية الإدماجية:

عند أمين 6 كُرَيَّات، لعبَ فَرَبَحَ 4 كُرَيَّات.

أ- أرسم الكُرَيَّات.



ب- كم عدد كُرَيَّاتِ أمين؟

$$\boxed{6} + \boxed{4} = \boxed{10}$$

عدد كُرَيَّاتِ أمين كُرَيَّة.