

2025/2024

ابتدائية برطال بن عبد الله - الخنق

السنة الثالثة ابتدائي

اختبار الفصل الاول في التربية العلمية

الاسم و اللقب : .....

قررت عائلة عبد الرحمان قضاء يوم مميز في حديقة الحيوانات و التسلية خلال عطلة الربيع

اولا :

قام أفراد العائلة بزيارة الحيوانات في اقفاصها

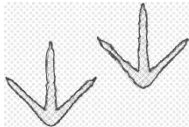



- صنف الحيوانات التي شاهدوها في الجدول التالي !



عاشبة	لاحمة	أكلة كل شيء

- بعد ذلك تجولوا بين الأشجار فلاحظ عبد الرحمان آثارا على التراب ، فتسائل عن الحيوانات التي تركتها

مهمتك مساعدته و ذلك بربط الحيوان بسطح ارتكازه على الارض.



- عند البركة المائية أعجب عبد الرحمان بجمال الاسماك الملونة ، فأراد أخذ واحدة . غير أن الاب قال له:

لا يمكنك ذلك يا عبد الرحمان ستموت السمكة.

في رأيك لماذا؟

ج- السمكة ستموت لأنها لا تستطيع ..... فهي تتنفس تنفسا ..... و ذلك عن طريق .....

المذاب في .....

## ثانياً:

حان وقت الغذاء ، فجلست العائلة تحت ظل الشجرة لتناول وجبة الغذاء.

- ضع كل طعام في الخانة المناسبة.



الحبوب	الخضر و الفواكه	اللحوم	الماء و المشروبات	الحليب و مشتقاته

- تضرمت ليلي من الوجبة التي حضرتها الأم، و اشترت وجبة جاهزة معروضة في الحديقة و مشروباً غازياً.

- اختر الجواب الصحيح:

غير صحية

سليمة

وجبة ليلي

- ماذا ستسبب لها؟

ج: .....

## ثالثاً:

حان وقت العودة فأسرع عبد الرحمان الى السيارة المركونة

خارج الحديقة ، فصار قلبه ينبض بشدة.

- ساعد عبد الرحمان في تحديد منطقتين لتحسس نبض القلب و ذلك بتعيينها على الرسم.

- اربط نشاط القلب و الجهد العضلي المناسب له.



○



○



○

110 دقة في الدقيقة

70 دقة في الدقيقة

95 دقة في الدقيقة