

الموسم الدراسي :

الفوج : السنة الأولى

الاسم :

اللقب :




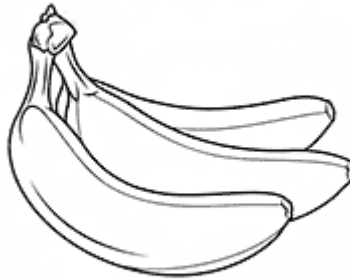

مقاطعة

ابتدائية

اختبار الفصل الثالث في مادة التربية الفنية



اختر اللون المناسب لكل فاكهة



أكمل رسم الحلزون باتباع الأرقام

