

### أحسب العمليات التالية بدقة

#### الوضعية 1

$22 + 10 = ..$

$12 + 16 = ..$

$21 + 15 = ..$

$13 + 4 = ..$

$32 + 5 = ..$

$23 + 6 = ..$

$36 - 16 = ..$

$28 - 23 = ..$


$37 - 26 = ..$

$18 - 3 = ..$




$26 - 7 = ..$


$38 - 2 = ..$

لون الموزات التي في استقامية واحدة بعد التحقق بمسطرتك

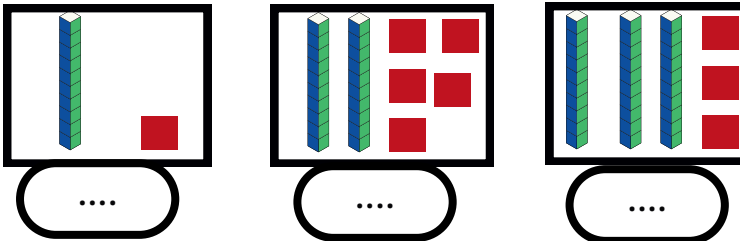


أكتب أسعار الأدوات في الجدول

الأسعار	
	..... دنانير
	..... دنانير
	..... دنانير
	..... دنانير



أكتب العدد الممثل بقطع الوحدات و اعمدة العشرات



فك الأعداد التالية

#### الوضعية 3

$22 = ... + ... + ...$

$36 = ... + ... + ... + ...$

$22 = ... + ....$

$36 = ... + ....$

أكمل الشريط العددي

#### الوضعية 4

26

....

....

....

....

....

....

....

....

....

....

....

....

....

....

....

40



#### الوضعية الإدماجية

في حصالة مريم 20 دينارًا زَادَهَا أَبُوهَا 25 دينارًا .

كم أَصْبَحَ عِنْدَ مَرِيَمَ ؟

العملية : ... = .... + ....

أَصْبَحَ عِنْدَ مَرِيَمَ ..... دينارًا

