

تاريخ وجغرافيا

نماذج أهلية محلولة

. سلسلة مدرستي .

منقولة عن منشورات الشهاب

الأستاذ: جميع محمد

متوسطة: الشهيد خوف لخضر بحمام الضلعة

السنة الدراسية: 2015 . 2016

جدول اختبارات شهادة التعليم المتوسط

المعامل	المدة	الاختبار
5	ساعتان	لغة عربية
2	ساعة و نصف	لغة أمازيغية
3	ساعتان	لغة فرنسية أو اللغة الأجنبية الأولى
2	ساعة و نصف	لغة إنجليزية أو اللغة الأجنبية الثانية
4	ساعتان	رياضيات
2	ساعة	تربية إسلامية
3 (1 + 2)	ساعة و نصف	تاريخ و جغرافيا
1	ساعة	تربية مدنية
2	ساعة و نصف	علوم الطبيعة و الحياة
2	ساعة و نصف	علوم فيزيائية و تكنولوجيا
1		تربية بدنية و رياضية
تضاف النقاط التي تزيد عن العشرة إلى المجموع قبل حساب المعدل	ساعة و نصف	تربية تشكيلية أو تربية موسيقية
27		مجموع المعاملات

ملاحظة : تجرى اختبارات التربية البدنية و الرياضية ، التربية الموسيقية و التربية التشكيلية قبل تاريخ الامتحان . تحدد تواريخ و كيفية إجرائها عن طريق مناشير خاصة .

طبيعة اختبار مادة التاريخ والجغرافيا

المعامل : 1+2

المدة : ساعة ونصف (1h 30)

مادة الجغرافيا

يتشكل اختبار مادة الجغرافيا من جزأين إجباريين :

الجزء الأول (04 نقطة)

ويتضمن 3 إلى 4 وضعيات إشكالية بسيطة، مستقلة عن بعضها البعض، تعالج مختلف مستويات التفكير لدى المترشح على أن تغطي منهاج الجغرافيا للسنة الرابعة من التعليم المتوسط.

الجزء الثاني (03 نقاط)

ويتضمن وضعية إدماجية لتقييم كفاءات المترشح في معالجة إشكاليات السكان والتنمية والتهيئة الإقليمية والبيئة.
تكون الوضعية متبوعة بتعليمية لاستثمار سندات (نصوص، خرائط، جداول ومعطيات إحصائية، رسوم بيانية...).

مادة التاريخ

يتشكل اختبار مادة التاريخ من جزأين إجباريين :

الجزء الأول (09 نقطة)

ويتضمن 3 إلى 4 وضعيات إشكالية بسيطة، مستقلة عن بعضها، تعالج مختلف مستويات التفكير لدى المترشح على أن تغطي منهاج التاريخ للسنة الرابعة من التعليم المتوسط.

الجزء الثاني (04 نقاط)

ويتضمن وضعية إدماجية لتقييم كفاءات المترشح في معالجة إشكاليات التاريخ الوطني الحديث والمعاصر في سياقه الإقليمي والعالمي.
تكون الوضعية متبوعة بتعليمية لاستثمار سندات (نصوص، سلالم زمنية، خرائط، جداول ومعطيات إحصائية، صور، نماذج، أحداث معلمية، تواريخ معلمية...).

تنظيم الوقت

تعامل مع جزء التاريخ وجزء الجغرافيا بشكل منفصل، وخصّص هذا التنظيم لكل مادة.

- عند حصولك على الموضوع قم بقراءته لمدة 05 min .
- خصص للجزء الأول (10 min) أي لكل تمرين (10 min).
- وللجزء الثاني (الوضعية الإدماجية) 15 min .
- إعادة قراءة الإجابة في النهاية و مراقبتها مدة 05 min .
- إذا استهدفت معرفة أو مهارة أو كفاءة في أحد أجزاء الموضوع ، لا ينبغي استهدافها في الأجزاء الأخرى .

كيف تستعمل هذا الكتاب ؟

- إذا أردت التحقق من معلوماتك في نقطة معينة من البرنامج تناول فهرس المحتويات ليوجهك إلى التمرين الذي يتضمن هذه النقطة .
 - ستجد في نهاية هذا الكتاب فهرسا للمحتويات يبرز رقم التمرين الذي يتضمن النقطة التي تبحث عنها و كذا رقم الموضوع الذي يشمل ذلك التمرين من جهة ، و فهرسا يضم أرقام صفحات كل المواضيع النموذجية المقدمة من جهة أخرى .
 - أجب كتابيا عن السؤال ، قارن إجابتك بالحل المقترح ، ثم صحح أخطاءك .
- أما إذا أردت إجراء اختبار كامل ، إلبأ إلى فهرس الكتاب و اختر أحد المواضيع
- ضع نفسك في جو الامتحان و احترم الوقت المحدد .
 - اقرأ الموضوع كاملا بتركيز حتى تفهم المطلوب منك .
 - ابدأ دائما بالتمرين الذي تعتبره الأسهل ربعا للوقت .
 - استعمل المسودة لإنجاز المحاولات بشكل نظيف و منظم .
 - انقل الحلول إلى ورقة الإجابة بعناية و تنظيم .
 - بعد الانتهاء من الإجابة و استغلال كل الزمن ، قارنها بالحل المقترح ، قوم عملك وفق شبكة التقييم المعتمدة في الكتاب ثم صحح أخطاءك .
 - أعد الاختبار بعد مدة تكون قد راجعت المعارف و الطرائق المستهدفة في مختلف المواضيع .
- الأهم عند الاطلاع على حل تمرين ليس قراءته فقط و إنما دراسته بدقة و تتبع جميع خطواته :
 - الاطلاع على الحل : الحسابات و النتائج المتوصل إليها .
 - استنباط المنهجية المستخدمة لتوظيفها في حل تمارين أخرى .
 - طريقة تحرير الإجابات .

نصائح عامة لتحضير الامتحان

- إذا حضرت نفسك للامتحان و عملت بانتظام و استمرار و إذا كانت مراجعتك مخططة و منهجية ، كانت لديك فرصة كبيرة للنجاح . لهذا ندعوك إلى إتباع النصائح التالية :

● استعداد للامتحان كل يوم

- حضر لكل درس و راجعه عقب انتهاء دراسته في القسم .
- ضع جدولا زمنيا لمراجعتك و استغل الأوقات التي تشعر فيها باللياقة الجيدة و الاستعداد .
- أعط أهمية لكل مواد الامتحان و لا تفضل مادة على مادة أخرى .
- اجمع كل الوثائق التي تساعدك على مراجعة مواد كل مادة: الكتاب ، الكراس ، الحوليات الجيدة و المغطية للبرنامج ، الكتاب المدعم للدروس و التطبيقات و رتبها وفق نظام يسمح إليك بالعودة إليها بأدنى مجهود و أقل وقت .
- نوع مراجعتك بين العمل الفردي و العمل الجماعي المفيد .

- استغل ملخصات الدروس أثناء المراجعة.
- أكثر من حل المواضيع النموذجية للامتحانات, و قدم إجاباتك لأساتذتك لتقوينها و توجيهك.
- استعمل الألوان لإبراز ما هو مهم, و اجعل القوانين أو القواعد العامة داخل مستطيلات.
- خصّص وقتا بعد المراجعة لحفظ المعطيات الرقمية كالقوانين و الإحصاءات.
- إن الكتابة تقضي على شروذك و تمكّنك من التركيز, و هي وسيلة هامة لترسيخ المعلومات, و تجعلك تقوم نفسك و تصحح ذاتك. إن المراجعة بهذه الطريقة بطيئة و لكنها مفيدة و لهذا ننصحك باتباعها.

• التحضير البدني و النفسي

- امنح نفسك نصيبا من الراحة في برنامج مراجعتك, حتى تسترجع طاقتك و تحسّن ما استوعبته.
- مارس الرياضة, لتمنحك الاستعداد البدني.
- من الممكن أن تشعر ليلة الامتحان بالقلق و الاضطراب, فلا داعي لإجهاد نفسك بالمزيد من المراجعة, إلا إذا أردت التأكد من معرفة معينة.

• يوم الامتحان

- استيقظ مبكرا و تناول فطورك.
- تأكد أنك أخذت بطاقة التعريف و الاستدعاء و كل الأدوات الضرورية قبل التوجه إلى مركز الامتحان.
- عندما تقدم إليك ورقة الموضوع اقرأه بتمعن و تركيز حتى تفهم المطلوب منك, إذ قد تكون الأسئلة مرتبطة فيما بينها, كما يمكن أن يلمح سؤال معين إلى معلومات هامة. بعدها ابدأ بالتمرين الذي تعتبره الأسهل.
- إن واجهتك صعوبة و أحسست أنها ستأخذ منك وقتا أكثر مما يلزم أحلها و انتقل إلى غيرها ثم عد لها في الأخير فإن الوقت مهم في الامتحان.
- لا تبق في تمرين واحد مدة أطول من اللازم.
- عالج كل جزء باستغلال الوقت الذي خصصته له.
- استعمل مسودة لكل تمرين.
- استعمل المسودة بشكل منتظم, فسجّل - أولا - عناصر السؤال ثم أجب بطريقة مرتبة و واضحة ثم انقل الحل إلى ورقة الإجابة.
- أكتب بخط واضح و مقروء.
- أشر إلى الجواب عن كل سؤال.
- راجع الحل المتوصل إليه و تحقق من صحته وأنه يلاءم السؤال المطروح قبل إعادة ورقتك.
- استغل كل مدة الامتحان و لا تعد ورقة الإجابة قبل انتهاء الوقت.

نشاط الإدماج

1 - تعريف النشاط الإدماجي:

هو نشاط تعليمي، و تتمثل وظيفته الأساسية في جعل المتعلم يجند مجموعة من مكتسباته (معارف و مهارات و مواقف) التي تحصل عليها. يمكن أن تتخلل نشاطات الإدماج مختلف فترات التعلم.

2 - أهمية النشاطات :

إن تطوير كفاءة ما عند التلميذ يعني جعله مؤهلا لحل وضعية إشكالية. ينبغي أن يتعلم التلميذ حل هذا النوع من الوضعيات من خلال نشاط منظم لهذا الغرض.

3 - مميزات النشاط الإدماجي:

- نشاط يركز على التلميذ.
- النشاط الإدماجي يجعل التلميذ يجند مجموعة من الموارد ينبغي أن تكون متنوعة مع الحرص على أن يكون تجنيدها بكل مترابط و غير متراكم.
- يهدف النشاط الإدماجي إلى تحقيق كفاءة معينة.
- المشاط الإدماجي مبني حول وضعية ذات دلالة مستوحاة من محيط التلميذ.
- هو نشاط قابل للملاحظة و التقييم.

4 - بعض النصائح التطبيقية:

1 - 4 ما يجب كتابته على المسودة:

- استخراج الفعل المفتاحي الذي يوجهك إلى طبيعة العمل المطلوب منك مثلا : (قارن , وازن , مثل , علل) .
- كتابة العلاقات الحرفية التي تعتمد عليها في حل التمرين.
- استخراج العلاقات الفرعية.
- إجراء العمليات الحسابية.
- احترام المصطلحات و الرموز و الوحدات الدولية.
- ترتيب الإجابة في كل تمرين.
- عليك بالتعبير بلغة علمية صحيحة.

2 - 4 بناء الإجابة:

- مراعاة مدى ارتباط إجابتك بالموضوع المقترح.
- إتقان الرسومات و تزويدها بالعنوان و البيانات اللازمة.
- نقل الإجابات بخط واضح دون تشطيب.

فهرس المحتويات فى التاريخ

- الرمز 1₁ يعنى الموضوع السابع 1 - السؤال 1 من جزء الأسئلة.
 - الرمز 1 يعنى الموضوع رقم 1 - الوضعية الإدماجية إ .

رقم موضوع						المحتويات
1 ₁	2 ₃	2 إ	3 ₁	3 ₂	3 إ	السياسة الاستعمارية فى الجزائر
4 إ	5 ₁	6 ₂	6 ₃	9 ₁	11 إ	
15 إ						
1 ₂	1 ₄	1 إ	2 ₁	14 إ		استمرارية المقاومة
1 ₃	2 ₂	3 ₃	4 ₁	4 ₂	4 ₃	الحركة الوطنية
5 ₂	5 ₃	5 إ	6 ₁	6 إ	7 ₁	
17 إ	19 ₁	20 إ				
7 ₂	7 ₃	7 إ	8 ₁	8 ₂	8 ₃	الثورة التحريرية 1954م: التحضير والاندلاع
9 ₂	9 ₃	10 ₁	10 إ	11 ₁	12 ₁	
12 ₂	19 ₃					
8 إ	9 إ	10 ₂	10 ₃	11 ₂	12 ₃	الثورة التحريرية 1954م: انتشار الثورة وتنظيمها
19 إ	20 ₂					
11 ₃	12 إ	18 ₃				الثورة التحريرية 1954م: المخططات الاستعمارية الكبرى
13 ₁	13 ₂	13 ₃	13 إ	14 ₁	14 ₂	الثورة التحريرية 1954م: مؤتمر الصومام 1956م
14 ₃	15 ₁	15 ₂	15 ₃	19 ₂	20 ₃	
16 ₁	17 ₁	18 ₁	18 إ			الثورة التحريرية 1954م: المفاوضات الجزائرية الفرنسية
16 ₂	16 إ	17 ₂	17 ₃			القضايا الدولية من خلال موائيق الثورة والدولة الجزائرية

فهرس المحتويات فى الجغرافيا

- الرمز 1₁ يعنى الموضوع السابع 1 - السؤال 1 من جزء الأسئلة .
 - الرمز 1₁ يعنى الموضوع رقم 1 - الوضعية الإدماجية .

رقم موضوع						المحتويات	
16 ₃	18 ₂					الجزائر والمنظمات الدولية	
16 ₃	20 ₁					الجزائر وبوادر النظام الدولي الجديد	
1 ₁	3 ₃					الجزائر الموقع والأهمية	
1 ₁	2 ₃	3 ₁	6 ₁	6 ₁		الجزائر السطح (التضاريس)	
1 ₂	2 ₂	3 ₂	4 ₂	5 ₁	6 ₂	الجزائر المناخ	
1 ₃	2 ₁	3 ₁	13 ₁			الجزائر التربة والغطاء النباتي	
2 ₁	4 ₃	4 ₁	5 ₃	5 ₁	6 ₃	السكان والتنمية في الجزائر	
7 ₁	7 ₂	7 ₁	8 ₁	8 ₂	8 ₁		
9 ₁	9 ₂	9 ₃	9 ₁	10 ₁	10 ₂		
10 ₃	10 ₁	11 ₁	11 ₂	11 ₃	11 ₁		
12 ₁	12 ₂	12 ₃	12 ₁	13 ₁	13 ₂		
14 ₁	14 ₂	15 ₁	15 ₂	15 ₁	16 ₁		
19 ₁	19 ₂	19 ₃	19 ₁	20 ₁	20 ₂		
20 ₁							
4 ₁	5 ₂	5 ₁	7 ₃	8 ₃			الجزائر الموارد الطبيعية
3 ₁	13 ₃	14 ₁	15 ₃	16 ₁	16 ₂		المخاطر الكبرى
16 ₃	17 ₁	17 ₂	17 ₃	17 ₁	18 ₁		
18 ₂	18 ₃	18 ₁					

النصوص

الموضوع الأول 1

التاريخ (13 نقطة)

الأسئلة (09 نقاط)

1. ما هي الإجراءات التي اتخذتها السلطات الاستعمارية الفرنسية في الميدان السياسي، بعد احتلالها للجزائر سنة 1830م؟
2. هنالك عدة مقاومات شعبية خاضها الشعب الجزائري ضد الاستعمار الفرنسي خلال القرن التاسع عشر. اذكر ثلاثة منها تعدّ مشهورة: واحدة في الغرب الجزائري والثانية في الوسط، والثالثة في شرق الجزائر، مع ذكر تواريخها وزعمائها.
3. اذكر أسباب ظهور المقاومة السياسية في بلادنا ضد السلطات الفرنسية.
4. بماذا تفسر تكرر وتجدد المقاومات الشعبية ضد الاستعمار الفرنسي؟

الوضعية الإدماجية (04 نقاط)

السند الأول: كتب "كفنيك" (Cavaignac) في سياق الحديث عن حب الجزائريين للأرض وتعلقهم بها «... إنّ الملكية كانت مشاعة لدى الأغلبية العظمى من الجزائريين، وكانت أراضي العرش أو الشمل أساس هذه الملكية المتوارثة، التي قوامها عدم تقسيم مناطق شاسعة من الأرض واستثمارها من طرف فئة أو عدة فئات من السكان، ونحن نعتقد بأن هذه الروح الجماعية التي تربط بين الفلاحين، دفعتهم إلى أن يحاربون من أجل الأرض ومن أجل التراب الوطني، بل من أجل البلاد بأسرها، لأنها ملك مشترك للجميع».

مصطفى الأشرف - الأمة والمجتمع - المؤسسة الوطنية للكتاب - الجزائر 1983م.

السند الثاني:

إنّ الجنرال "شانغارني" (Changarnier) الذي حارب البعض من هؤلاء في العشرية الثانية من الاحتلال، كتب يقول بعد أن وصفهم بكونهم من السكان المتمردين على الحكم الأجنبي بأنهم وطنيون شجعان: «إنّ بني حجوط استطاعوا أن يجندوا طيلة سنوات جيشا ما بين 1000 و 1800 من الفرسان الشجعان، الذين قاموا بأعمال يمكن أن يفخر بها أشهر الفرسان في أوروبا...».

مصطفى الأشرف - الأمة والمجتمع - المؤسسة الوطنية للكتاب - الجزائر 1983م - ص 88.

السؤال: حرر فقرة انطلاقا من السندين، تبرز فيها خصال الشعب الجزائري التي اعترف بها الأعداء أنفسهم.

الجغرافيا (07 نقاط)

الأسئلة (04 نقاط)

1. حدّد الموقع الفلكي للجزائر.
2. اذكر مميزات السهول الجزائرية التالية:
الساحلية - الداخلية - العليا ، من حيث الارتفاع والاتساع والموقع.
3. ما هي العوامل المؤثرة في مناخ الجزائر؟
4. اذكر أنواع التربة ومميزاتها بالجزائر.

الوضعية الإدماجية (03 نقاط)

1. ارسم خريطة الجزائر وبيّن عليها موقعها الفلكي وحدودها السياسية.
2. إذا كانت الساعة في مستغانم الواقعة بالقرب من خط غرينيتش (صفر)، التاسعة صباحا، فكم تكون الساعة عندئذ في بغداد الواقعة على خط 45° شرقا؟
3. نعلم أن محيط كل دائرة يساوي 360° ، وبما أن طول محيط دائرة الكرة الأرضية يساوي

$$\text{حوالي } 40000\text{km} ، \text{ فإن طول } 1^\circ \text{ يساوي: } 1b = \frac{40000}{360} = 111\text{km}$$

- السؤال:** إذا كانت الساعة 8 صباحا في بيروت ، وكانت هناك مدينتان تقع إحداها على خط 30° من بيروت شرقا ، والثانية على خط 30° غربا ، فكم تكون الساعة في المدينة الأولى ، وفي المدينة الثانية؟

الحلول

الموضوع الأول 1

التاريخ (13 نقطة)

إجابة الأسئلة (09 نقاط)

1. تم القضاء على مقومات الدولة الجزائرية ورموزها كما تم إلحاق الجزائر بفرنسا ، بسن قوانين ظالمة تؤيد ذلك وكذا اتباع سياسة قمع المقاومات والانتفاضات بشكل رهيب. 1,5
- ولجأت فرنسا إلى تقسيم الجزائر إلى ولايات (عمالات): الجزائر ، قسنطينة ووهران. 0,5
- كما قسمت كل ولاية إلى نوعين:
- البلديات المختلطة التي تضم أغلبية جزائرية وأقلية أوروبية. 0,5
 - البلديات الأوروبية التي تضم أغلبية من المستوطنين الأوروبيين. 0,5
2. المقاومات الشعبية الثلاثة المشهورة هي:

التاريخ	الزعيم (ة)	المقاومة
1832م - 1847م	الأمير عبد القادر	مقاومة الغرب
1851م - 1857م	لالا فاطمة نسومر	مقاومة الوسط
1837م - 1848م	أحمد باي	مقاومة الشرق

3. فشل المقاومات والانتفاضات المسلحة في تحقيق أهدافها ومشاركة الجزائريين في الحرب العالمية الأولى 1914م - 1918م. وظهور شريحة من المثقفين الجزائريين بمختلف الاتجاهات، عملوا على إصدار الصحف والمجلات باللغتين العربية والفرنسية. إضافة إلى الظروف الدولية آنذاك، التي كانت المشجعة لحركة التحرر. فكانت كل هذه الأسباب ردًا على محاولة القضاء على الشخصية الجزائرية، لغة وثقافة ودينًا وتاريخًا. 02
4. تكررت وتجددت المقاومات الشعبية ضد الاستعمار الفرنسي بسبب :

- تمسك الشعب الجزائري بحريته واستقلاله وعدم قبوله للاحتلال الفرنسي لأرضه. 0,5
- إيمان أغلبية الجزائريين بحب الوطن، و قدسية الدفاع عنه والاستشهاد في سبيل تحريره. 0,5
- صدق إيمان الجزائريين بالعقيدة الإسلامية وما تأمرُ به من واجبات، وبالجهاد لحماية الدين والوطن. 0,5
- اتساع أرض الوطن وتنوع تضاريسها، وعدم قدرة الاستعمار على حصارها كلها. 0,5
- جهل السلطات الاستعمارية بجغرافيا السكان والقبائل المختلفة. 0,5

الوضعية الإدماجية (04 نقاط)

يعترف الفرنسيون في هذين السندين بوجود الروح الوطنية والجماعية لدى الجزائريين، إذ ليسوا مجرد قبائل مشتتة لا رابط يربطها تمردوا على السلطة، وإنما وطنيون شجعان وفرسان من الطراز الأول، يفتخر بمثلهم في أوروبا في ذلك الزمان. وبفضل هذه الروح استطاعوا الدفاع عن أراضيهم وأراضي البلاد كلها على اعتبار أنها أرض وطنية مشتركة بين الجميع. وهذه الشهادة مهمة تاريخيا لأنها صادرة عن العدو. 04

الجغرافيا (07 نقاط)

إجابة الأسئلة (04 نقاط)

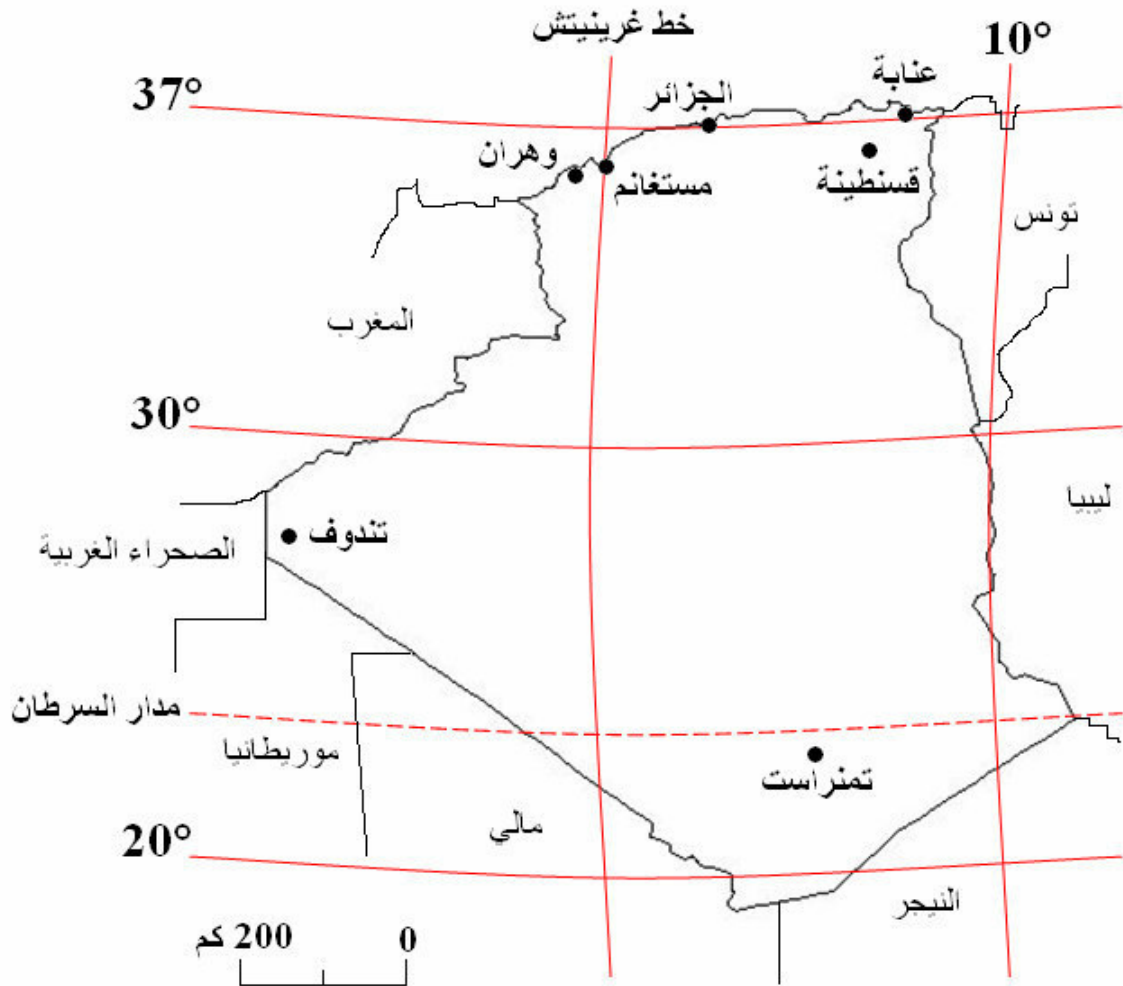
1. متد الجزائر بين درجتي عرض 19° و 37° شمالا وخطي طول 9° غربا و 12° شرقا. 01
2. مميزات السهول الجزائرية من حيث الاتساع والارتفاع والموقع: 01
 - مميزات السهول الساحلية: هي سهول يحدها شمالا البحر الأبيض المتوسط، ولا يزيد متوسط ارتفاعها عن 200 متر، وهي حديثة التكوين تخترقها أودية عديدة وترتبتها فيضية تتميز بالخصوبة.
 - مميزات السهول الداخلية: يبلغ ارتفاعها ما بين 500 و 800 متر، وتقع بعيدة عن الساحل. تتحصر بين الجبال، لذلك فهي ضيقة على العموم (متسعة في الشرق وضيقة في الغرب).
 - مميزات السهول العليا (الهضاب العليا): تقع بين الأطلس التلي والأطلس الصحراوي، يبلغ متوسط ارتفاعها 800 متر، وتنتمي إلى المنطقة الجافة التي يطول فيها فصل الصيف الجاف. أما تربتها فرقيقة، جذباء، تتعرض للتعرية القوية بعواملها المختلفة، وتتسم بعدم انتظام الأودية بها. وتعرف السهول الداخلية باحتوائها العديد من البحيرات المالحة.
3. العوامل المؤثرة في مناخ الجزائر هي الامتداد الكبير من الشمال إلى الجنوب، ووجود جبال الريف المغربية كحاجز أمام تسرب الرياح المحملة ببخار الماء. ولجبال سيرانيفاذا من الناحية الشمالية الغربية أثرها كذلك. إضافة إلى تأثير الجزائر بمؤثرات المنطقة المعتدلة في الشمال والحرارة في الجنوب. 01
4. أنواع التربة ومميزاتها بالجزائر: 01
 - التربة التلية: هي تلك الواقعة في شمال الجزائر في منطقة التل، والتي تزيد أمطارها عن 500mm سنويا. ويمكن تصنيفها إلى صنفين هما:

- أ - تربة فيضية: تنتشر في السهول وعلى طول الأودية، وهي غنية بالمواد العضوية والمعدنية.
- ب - تربة جبلية: وهي غير ناضجة وفقيرة، تتكون من صخور حصوية أو رملية.
- التربة النجدية أو تربة السهوب: وهي تنتشر في إقليم النجود والسهول العليا ومتوسط أمطارها أقل من 400mm تتميز بضعف الخصوبة لافتقارها للمواد العضوية. ونجد الأملاح فيها بكثرة.
- التربة الصحراوية: هي تربة تفتقر للمواد العضوية، ولكنها تحتوي على العناصر المعدنية اللازمة لنمو النبات. ضعف الغطاء النباتي فيها راجع لقلّة الأمطار، لكن إذا زرعت بواسطة الري، فهي خصبة.

الوضعية الإدماجية (03 نقاط)

1.

01



الموقع الفلكي للجزائر وحدودها السياسية

2. الفرق في الدرجات الطولية بين مستغانم وبغداد 45° إذن الفرق في الوقت هو: $45 \times 4 = 180$ ، أي: $180 \text{ min} = 3 \text{ h}$ ،

وبما أن بغداد تقع شرق مستغانم، فالساعة فيها متقدمة بثلاث ساعات، $9 + 3 = 12$ وتكون الساعة

في بغداد **12 ظهراً**..... **01**

3. تكون الساعة في المدينة الأولى: $8 + \frac{30}{15} = 10$ أي **العاشرة**..... **0,5**

وفي المدينة الثانية: $8 - \frac{30}{15} = 6$ أي **السادسة**..... **0,5**

النصوص

الموضوع الثاني 2

التاريخ (13 نقطة)

الأسئلة (09 نقاط)

1. ما هي أهم الأسباب التي جعلت المقاومات الشعبية الكثيرة والعنيفة تفشل في تحقيق النصر ضد الاستعمار الفرنسي في الجزائر؟
2. بعد أن انتقل الشعب الجزائري من الكفاح المسلح إلى الكفاح السياسي، ظهرت على الساحة السياسية عدة اتجاهات. حدد أهم الاتجاهات السياسية وأشهر زعمائها.
3. اذكر أهم الإجراءات الاقتصادية التي اتخذتها السلطات الاستعمارية بعد احتلالها للجزائر سنة 1830م.

الوضعية الإدماجية (04 نقاط)

السند الأول: قال الجنرال الفرنسي "سانت أرنو" (Saint-Arnaud) سنة 1851م: «تركت ورائي حريقا هائلا يندلع لظاه، فيما يقرب من مائتي قرية، أصبحت طعاما للهب. لعبت بالبساتين يد الخراب كما لعبت يد المناشير بأشجار الزيتون. عثنا في الأرض فسادا، وأصليناهم نارا، وأحرقنا أكثر من مائتي دار مغطاة بالقرميد، وقطعنا أكثر من ألف شجرة من الزيتون».

السند الثاني:

وحكى الجنرال "سانت أرنو" لأقربائه: «إن عبد القادر أطلق سراح جميع أسرانا بلا شرط أو مبادلة، وبعثهم إلينا بعد ما قال لهم: ليس بيدي ما يكفيني مؤونتكم لا أريد قتلكم، ولذا فأنتم أحرار! أكرم به من بربري!».

السؤال: قارن بين السند الأول والثاني، ثم استخراج الصفات العسكرية لكل من القائدين "سانت أرنو" و "الأمير عبد القادر الجزائري".

الجغرافيا (07 نقاط)

الأسئلة (04 نقاط)

1. تتعرض التربة في الجزائر إلى عدة أخطار، حدد هذه الأخطار.
2. ما هي الأقاليم المناخية السائدة في الجزائر؟ .
3. اذكر أسماء السهول التي تدرج ضمن الساحلية وتلك التي تدرج ضمن السهول الداخلية في الجزائر.

الوضعية الإدماجية (03 نقاط)

1. حلل الجدول التالي للنمو الديمغرافي في الجزائر ما بين سنتي 1985م - 1993م .
مبيناً الأسباب الموضوعية لهذا النمو الكبير.

السنوات	السكان بالآلاف	نسبة النمو الطبيعي بالآلاف
1985	21753	31,10
1986	22189	27,39
1987	22828	27,30
1988	23477	25,00
1989	24079	25,00
1990	24703	24,00
1991	25321	24,30
1992	25939	24,10
1993	26177	24,30

2. ادرس معطيات الجدول الثاني الذي يمثل تطور السكان النشطين في الميدان الفلاحي، واستخلص أهم أسباب انخفاض اليد العاملة الفلاحية ثم الإنتاج، خاصة في الفترة ما بين 1966م - 1977م .

السنوات	الشغل الفلاحي بالآلاف	النقصان والزيادة بالآلاف
1966	852	-760
1977	692	-160
1987	1007	315
1988	1003	-4
1989	1010	+4
1990	1124	+14
1991	1180	+56
1992	1203	+23
1993	1468	+265

الحلول

الموضوع الثاني 2

التاريخ (13 نقطة)

إجابة الأسئلة (09 نقاط)

1. أهم الأسباب التي جعلت تلك المقاومات الكثيرة والعنيفة تفشل في تحقيق النصر ضد الاستعمار الفرنسي هي :

- عدم التنسيق بين قيادات المقاومة. 0,25
- ضعف القدرات التسليحية والتموينية. 0,25
- نقص التكوين العسكري للمقاومين. 0,25
- تعاون بعض الأعيان مع الجيوش الاستعمارية. 0,25
- قمع المقاومات بوحشية طوال الجميع. 0,25
- تحالف الدول الأوروبية ضد المقاومين لسياساتهم الاستعمارية. 0,25
- عدم وجود سند ومساعدة من الإخوان الجيران. 0,25
- مراقبة السلطات الاستعمارية الحدود مراقبة شديدة. 0,25

2. أهم الاتجاهات السياسية وأشهر زعمائها: 0,75×4

الاتجاه المساواتي	الاتجاه الإصلاحية	الاتجاه الإدماجي	الاتجاه الاستقلالي
الأمير خالد	عبد الحميد بن باديس	فرحات عباس	مصالي الحاج

3. يشكل تحويل أراضي الجزائريين إلى المستوطنين الأوروبيين من أهم الإجراءات الاقتصادية التي اتخذتها السلطات الاستعمارية بعد احتلالها للجزائر سنة 1830م . وقد تم ذلك عن طريق وسائل عديدة منها:

- إجبار الملاكين على تسليم أملاكهم العقارية. 0,5
- إجبار الجمعيات الدينية على تسليم أملاك الأوقاف. 0,5
- انتزاع أراضي القبائل التي قاومت الاحتلال. 0,5
- اعتبار الأراضي المشاعية والأراضي البور والغابات والمراعي ملكا للدولة الفرنسية. 0,5
- مصادرة الأراضي التي لا يتوفر أصحابها على وثائق تثبت ملكيتهم لها. 0,5
- تفتيت الملكيات الجماعية. 0,5

● استغلال معادن الأراضي بواسطة شركات احتكارية. 0,5

● إنشاء شبكة طرق وسكك حديدية لتسهيل نقل مواد الاستغلال. 0,5

الوضعية الإدماجية (04 نقاط)

الروح العسكرية لدى الجنرال "سانت أرنو" هي روح سفاك دماء بدون أي وازع أخلاقي أو شرف عسكري. لا يحترم قانون الحروب المتعارف عليه، والدليل على ذلك قتله للبشر الأبرياء،

وتخريبه لكل مظاهر العمران (يحرق الديار ويقطع الأشجار..). 1,75

أما الأمير "عبد القادر" فهو الرجل المجاهد الشريف البطل الذي يقاتل بشرف عدوا هاجمه في أرضه واستعمر بلاده استعمارا وحشيا، ورغم ذلك يعامل أسراه المحاربين الذين لم يكونوا مدنيين

معاملة إنسانية، بل ويطلق سراحهم بدل قتلهم. 1,75

الفرق كبير بين أخلاق الرجلين، أحدهما همجي والآخر شريف، نبيل وإنساني. 0,5

الجغرافيا (07 نقاط)

إجابة الأسئلة (04 نقاط)

1. الأخطار التي تتعرض لها التربة هي:

● التصحر الذي يهدد المناطق الزراعية الخصبة بالزوال. 0,5

● فقدان البيئة لرطوبتها على مر الزمن. 0,5

● النزوح الريفي الكبير، الانجراف والجفاف. 0,5

2. أنواع الأقاليم المناخية في الجزائر :

● إقليم البحر الأبيض المتوسط، ويسود شمال الجزائر. 0,5

● إقليم شبه الجاف، ويسود المناطق الداخلية من البلاد. 0,5

● الإقليم الصحراوي، ويسود المناطق الجنوبية للبلاد. 0,5

3. أشهر السهول الساحلية هي : سهل وهران، سهل متيجة وسهل عنابة. 0,5

السهول الداخلية المرتفعة هي : سهل تلمسان، سهل بلعباس، سهل السرسو، سهل عين بسام وسهل

قسنطينة. 0,5

الوضعية الإدماجية (03 نقاط)

1. تحليل جدول النمو الديمغرافي في الجزائر ما بين 1985م و 1993م مع تبين الأسباب

الموضوعية لهذا النمو الكبير: 1,5

تعد الفترة ما بين 1965م و 1987م الأسرع من حيث النمو الديمغرافي، بمعدلات تتراوح ما بين 27 و 31 نسمة في الألف، ثم تليها فترات التراجع والاستقرار. وتعود أسباب هذا النمو الكبير إلى تناقص الوفيات، وتحسن التغذية الصحية، وارتفاع مستوى معيشة السكان، والعمل بتوجيهات الدولة بضرورة التنظيم الأسري (تباعد الولادات).

وقد أدى هذا النمو الديمغرافي السريع إلى ارتفاع نسبة الشبان في الهرم السكاني، وهي الفئة التي تحتاج إلى كميات غذائية مرتفعة ومتزايدة. وتتم الاستجابة لهذه الحاجات إما بالرفع من وتيرة وكمية الإنتاج المحلي أو الإستيراد من الخارج، وذلك مكلف جدا.

2. دراسة معطيات الجدول الثاني الذي يمثل تطور السكان النشطين في الميدان الفلاحي، واستخلاص أهم أسباب انخفاض اليد العاملة الفلاحية ثم الإنتاج، خاصة في الفترة ما بين 1966م - 1977م 1,5

نلاحظ وجود انخفاض في اليد العاملة الفلاحية من سنة 1966م إلى سنة 1977م بـ 160 ألف عامل. والسبب في ذلك هو عملية التصنيع المكثفة التي كانت من أولويات الدولة في تلك الفترة، فغادر عدد كبير من الفلاحين الأرض إلى المصانع.

ثم إن ارتفاع عدد السكان أدى إلى انخفاض حصة الفرد من الأرض الصالحة للزراعة وإلى ارتفاع عدد الفلاحين الصغار، الذين لم يعد إنتاج أراضيهم يسد حاجاتهم. إذ كانت هذه النسبة سنة 1901 تساوي 1,1 هكتار للفرد، فأصبحت سنة 2000 تساوي 0,20 هكتار فقط.

النصوص

الموضوع الثالث 3

التاريخ (13 نقطة)

الأسئلة (09 نقاط)

1. أذكر الإجراءات الاجتماعية التي اتخذتها السلطات الاستعمارية الفرنسية بعد احتلالها للجزائر سنة 1830م .

2. وضح الأساليب التي اتبعتها السلطات الاستعمارية الفرنسية ضد أحزاب الحركة الوطنية.

3. غير الشعب الجزائري أسلوبه في النضال ضد الاستعمار و إدارته بعد الحرب العالمية الأولى. فيم يتجلى هذا الأسلوب الجديد للنضال؟

الوضعية الإدماجية (04 نقاط)

السند الأول: ينقسم المستوطنون الأوروبيون في الجزائر ما بين 1920 - 1930 إلى طبقات المالكة للأراضي الجزائرية كالاتي:

- من يملكون من 100 هكتار إلى 1500 هكتار نسبتهم تساوي %74 .
- من يملكون من 50 هكتار إلى 100 هكتار نسبتهم تساوي %15,5 .
- من يملكون من 10 هكتارات إلى 50 هكتار نسبتهم تساوي %2,24 .
- من يملكون أقل من 10 هكتارات نسبتهم تساوي %1,8 .

فرحات عباس - ليل الاستعمار - ص118

السند الثاني: ((لكم أن تنتشؤوا من المزارع ما تشاءون، و لكم أن تستولوا عليها في

المناطق التي نحتلها، و كونوا على يقين بأننا سنحميكم بكل ما نملك من قوة، و بالصبر و المثابرة سوف يعيش هنا شعب جديد، يكبر و يزيد بأسرع مما كبر و زاد الشعب الذي عبر الأطلسي و استقر في أمريكا منذ بضعة قرون)).

هذا خطاب وجهه الماريشال - كلوزيل (Clausel) إلى الأوروبيين في الجزائر، بمناسبة تقلده لمنصبه كوال عام في 10 أوت 1935م.

مصطفى الأشرف - الجزائر، أمة و مجتمع

السؤال: تفحص السندين ثم صف في فقرة غاية الاستعمار الفرنسي في الجزائر و نوعية هؤلاء الفلاحين الذين جاءوا حسب زعمهم ليساعدونا على الدخول في الحضارة الحقيقية.

الجغرافيا (07 نقاط)

الأسئلة (04 نقاط)

1. التربة الجزائرية تتعرض لأنواع كثيرة من الأخطار، أذكر أنواع الإجراءات المتخذة لحمايتها.

2. أذكر أهم خصائص مناخ البحر الأبيض المتوسط.

3. بين الأهمية التي يكتسبها موقع الجزائر.

الوضعية الإدماجية (03 نقاط)

1. أرسم خريطة الجزائر و بين عليها مواقع السهول، و حدد النسبة التي تحتلها الصحراء من المساحة الكلية للجزائر.

2. الصحراء الجزائرية تبتلع سنويا مساحات جديدة من الجزء الشمالي المحدود المساحة، فما العمل للوقوف أمام هذا الزحف المخيف؟

1. الإجراءات الاجتماعية التي اتخذتها السلطات الاستعمارية الفرنسية بعد احتلالها للجزائر سنة 1830م هي:

● محاربة العقيدة الإسلامية، بإدخال الكثير من الشعوذة على الدين، و إنشاء الجمعيات

التبشيرية التي تسعى إلى نشر المسيحية و تحويل الجزائريين عن دينهم. 01

● محاربة الثقافة الوطنية، و في هذا السياق قال الجنرال - دو كروت (Ducrot) - : « يجب أن

نضع العراقيين أمام المدارس الإسلامية و الزوايا كلما استطعنا إلى ذلك سبيلا ». 01

● توظيف الأوروبيين و إغرائهم بكل خيرات الجزائر، فتدققوا عليها كالجراد الكاسح. 01

2. الأساليب التي اتبعتها السلطات الاستعمارية الفرنسية ضد أحزاب الحركة الوطنية هي:

● حُلت الأحزاب و اعتقل الزعماء السياسيين (مصالي الحاج بالخصوص). 0,5

● مراقبة الصحف و مصادرتها. 0,5

● قمع الحريات الفردية و الجماعية. 0,5

● تكثيف النشاط المخابراتي. 0,5

● وضع مشاريع إغرائية كاذبة [مشروع فيوليت (Violette) 1936 و دستور الجزائر

1947]. 0,5

3. يتجلى هذا الأسلوب الجديد في النضال في:

● ارتفاع الوعي السياسي لدى مختلف الشرائح، خاصة المتعلمة. 0,5

● تقطن الجزائريين إلى أهمية النضال السياسي المنظم. 0,5

● استخلاص العبر و الدروس من المقاومات المسلحة الكثيرة. 0,5

● مشاركة الجزائريين في الحرب العالمية الأولى و اكتسابهم للخبرة العسكرية العصرية في

صفوف الجيش الفرنسي. 0,5

● الاحتكاك المباشر بالجنود الفرنسيين، أكسب الجزائريين خبرة عن النفسية المنهزمة

لهؤلاء الجنود. 0,5

● ظهور أفكار جديدة على الساحة العالمية تتعلق بحرية الشعوب و وصول صداها إلى

الجزائر بقوة، فكانت بمثابة سلاح فعال في يد هذه المقاومة الجديدة. 01

الوضعية الإدماجية: (04 نقط)

74% من هؤلاء يملكون ما بين 100 إلى 1500 هكتار، هذا يعني أن الأغلبية

الساحقة من المعمرين الأوربيين المالكة للأراضي الجزائرية آنذاك لم يكونوا فلاحين بالمعنى

الحقيقي و إنما أناس محتكرون للأرض يستغلون فيها جزائريين بأجور زهيدة. 02

و قد سمح الحاكم العام للمعمرين باحتكار خيرات الجزائر و شجعهم على الاستحواذ

على ما يشاءون من المساحات الأرضية، التي كان الجيش ينتزعها بالقوة من أصحابها

الشرعيين. كما قدم ضمانات الحماية و الخلود في الجزائر و شبههم في ذلك بسكان أمريكا

الأوروبيين، الذين حلوا محل السكان الأصليين بعد أن قضوا على أغلبهم. 1,5

و هذا النوع من الاستعمار يسمى الاستعمار الاستيطاني، و هو أشنع أنواع الاستعمار.

..... 0,5

الجغرافيا (07 نقط)

إجابة الأسئلة: (04 نقط)

1. أنواع الإجراءات المتخذة لحماية التربة الجزائرية هي:

● إنشاء مصدات الرياح كالتشجير لمقاومة زحف الرمال. 0,25

● إنشاء المدرجات كالمصاطب ضد ظاهرة الحت و الانحراف. 0,25

● تشجيع الفلاحين على استصلاح الأراضي. 0,25

● إتباع الزراعة الكنتورية. 0,25

● بناء السدود بمختلف أحجامها. 0,25

● تنظيم المناطق الرعوية. 0,25

● القيام بكل ما من شأنه أن يحول دون اندلاع الحرائق. 0,25

2. أهم خصائص مناخ البحر الأبيض المتوسط:

أ - الفصل الجاف: $0,25 \times 2$

- يمتد ما بين شهر ماي و أكتوبر عادة.
- جو جميل و هادئ و سماء صافية مع احتمال سقوط بعض الأمطار في المناطق الجبلية.
- حرارة مرتفعة أثناء النهار و في الليل طقس منعش.
- تهب رياح صحراوية أحيانا و هي: القبلي و السيروكو تتسبب في أضرار كثيرة أحيانا.

ب - الفصل الممطر: $0,25 \times 3$

- يبدأ في شهر أكتوبر عادة.
- الأمطار شتوية غزيرة.
- عواصف قوية.
- تعاقب الجو الصحو و الجو الكئيب.
- الأمطار في مناخ البحر المتوسط يغلب عليها التذبذب.

3. لموقع الجزائر أهمية إستراتيجية وخصائص حيوية تجمع بين ميزات نادرة

استمدتها من موقعها المتوسط في خريطة العالم القديم فهي جسر اتصال ومحور التقاء بين أوربا و إفريقيا وبين المغرب العربي والشرق الأوسط وممرا حيويا للعديد من طرق الاتصال العالمية برا وبحرا وجوا، فمن الناحية الجغرافية والإقليمية يتميز موقع الجزائر بأبعاده الفاعلة والمؤثرة على الصعيد العالمي. $0,25$

البعد الأول: هو بعد الهوية والانتماء بمحوريه، المغربي و العربي الإسلامي. $0,25$

والبعد الثاني: هو بعد التفاعلات الاقتصادية والعلاقات الحضارية والبشرية، بمحوريه،

المتوسطي و الإفريقي. $0,25$

و تشكل محصلة هذه الأبعاد إلى جانب الدور الريادي للجزائر على رأس العالم

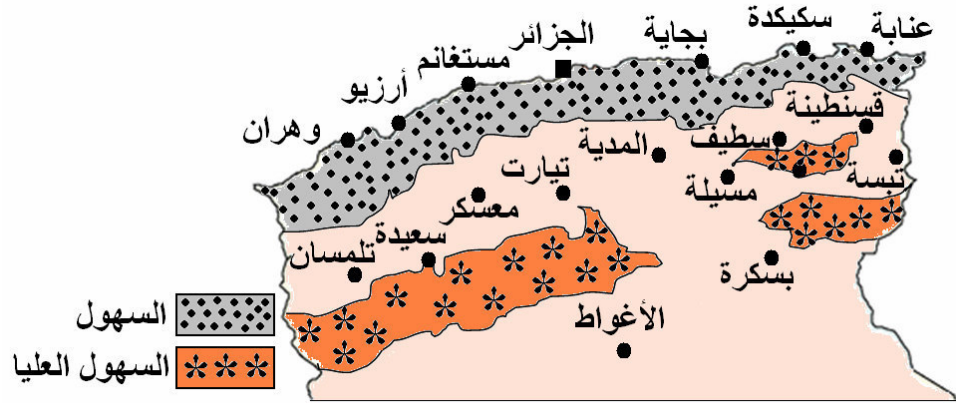
النامي في الميدان السياسي و الاقتصادي، أهم المعالم المتحكمة في تكوين الشخصية

الجغرافية للجزائر وفي تحديد وزنها الإقليمي والدولي. $0,25$

الوضعية الإدماجية: (03 نقط)

1. تبلغ مساحة الصحراء الجزائرية 1987600km^2 ، و بذلك تحتل مساحة واسعة و نسبة قدرها 90% تقريبا من المساحة الإجمالية للجزائر. حليمي عبد القادر - جغرافيا الجزائر -

ص56، الجزائر 1968. 01



خريطة الجزائر و مواقع السهول الساحلية و الداخلية و العليا

01

2. مواصلة مشروع السد الأخضر و الاعتناء بتوسيع رقعته و مراقبته و استثمار البحيرة الصحراوية الجوفية الممتدة لآلاف الكيلومترات المربعة و تشجيع الاستثمار الفلاحي في شريط الهضاب العليا. 01

النصوص

الموضوع الرابع 4

التاريخ (13 نقطة)

الأسئلة (09 نقاط)

1. تميز الكفاح السياسي للحركة الوطنية الجزائرية ما بين 1919 - 1939م بنشاط حثيث، يتجلى في عدة مجالات واستثار ردود أفعال قوية داخلية وخارجية. اذكر أهم الشخصيات المنشطة لهذه الحركة في تلك الفترة.
2. ما هي أهم الأنشطة التي قامت بها الحركة الوطنية الجزائرية خلال الفترة ما بين 1939 - 1945م؟ .

3. اذكر أهم المبادئ التي قامت من أجل تحقيقها جمعية العلماء المسلمين الجزائريين، التي تأسست في 5 ماي 1931م.

الوضعية الإدماجية (04 نقاط)

السند الأول: أدلى المعمر الكبير *ABBO* في 7 ماي 1947م لجريدة باري بريس

(*Paris - Presse*) بما يلي: «في سنة 1936م حطمت مشروع بلوم (*Blum*) فيوليت

واستسلمت الحكومة أمامي. هل يحتاج الجنرال ديغول (*De Gaulle*) إلى التدخل في هذا الأمر؟ بقدر ما تعطي للعرب بقدر ما يطلبون أكثر، صدقوني إنني أعرف كيف أحطمهم».

فرحات عباس - ليل الاستعمار - ص 230، 236

السند الثاني: قال فرحات عباس: «اتصلت أثناء مقامي بباريس بالماريشال "جوان" (*Juin*)

وعرضت عليه الحالة الجزائرية بإطناب وبصفة موضوعية، ثم طلبت منه أن يتوسط لدى الحكومة والبرلمانيين الأوروبيين، ممثلي الجزائر فقال لي الماريشال: إنني لا أعارض بادئ ذي بدء قيام جمهورية جزائرية، فمطالبكم تبدو مقبولة ولكن لكي تصبح في حيز الوجود فلا بد أن يوافق عليها المعمرون».

فرحات عباس - ليل الاستعمار - ص 230، 236

السند الثالث: كتب السيناتور "بورجو" (*Borgeaud*) أحد جبابرة المعمرين في الجزائر: «إن

فرنسا بين أمرين اثنين، إما أن تكون دولة استعمارية قوية الجانب وإما أن تكون لا شيء».

فرحات عباس - ليل الاستعمار - ص 230، 236

السؤال: واجهت المقاومة السياسية بجميع اتجاهاتها خصمين اثنين هما السلطات الاستعمارية الفرنسية من جهة، والمستوطنين الأوروبيين من جهة أخرى.
بين باختصار موقف الطرفين من مطالب الحركة الوطنية الجزائرية، والاستنتاج الذي توصلت إليه بعد اطلاعك على السندات المقدمة.

الجغرافيا (07 نقاط)

الأسئلة (04 نقاط)

1. اذكر أنواع الأودية في الجزائر حسب مصباتها.
2. حلل أسباب التباين في درجات الحرارة بين المناطق الساحلية والداخلية، والعوامل المؤثرة في التساقط.
3. ما هي باختصار مراحل تطور عدد السكان بالجزائر؟.

الوضعية الإدماجية (03 نقاط)

السند : «هناك حركة تمدن واسعة في الجزائر، فرضت نفسها دون أن تجلب كثيرا من الانتباه. ذلك أن حوالي 300 مدينة لم تصبح مدنا إلا منذ مدة قليلة فليس هناك أكثر من 20 مدينة تحتوي على تاريخ مدني وهندسة حضرية حقيقية. فمن مجمل 305 مدينة حاليا ثلاثون (30) منها فقط شملها بالذكر إحصاء 1966م بينما تسعون (90) منها أضيفت إلى إحصاء 1977م أما 185 منها فلم تضاف إلا في إحصاء 1987م. وبعبارة أخرى فإن 60% من هذه المدن انتقلت مؤخرا فقط إلى عداد المدن بالفعل.

أما المشاكل المترتبة على هذا الانتقال السريع، فإنها لا تخفى على الملاحظ...».

المراجع كتاب: L'Algeire espace et soclété, Marc cote, p, 107

1. اكتب فقرة تبين فيها المشاكل الكبرى التي تعاني منها مدننا الكبرى والمتصلة بحياة الناس فيها.
2. حلل الأسباب الرئيسية للهجرة الداخلية الكثيفة نحو المدن الشمالية الكبرى.

الحلول

الموضوع الرابع 4

التاريخ (13 نقطة)

إجابة الأسئلة (09 نقاط)

1. أهم الشخصيات التي نشطت في هذه الحركة ما بين 1919 - 1939م هي:

● أحمد مصالي الحاج، ممثل التيار الاستقلالي. 0,75

● الأمير خالد ثم أتباعه، ممثلو تيار المساواة. 0,75

● فرحات عباس، ممثل التيار الاندماجي، المساواتي فيما بعد. 0,75

● عبد الحميد بن باديس وجماعته، ممثلو الإصلاح الديني والاجتماعي. 0,75

2. أهم الأنشطة التي قامت بها الحركة الوطنية الجزائرية ما بين 1939 - 1945م :

● تلقفت مبادئ "ويلسن"، وتبنتها وطالبت بتطبيقها. وتنص هذه المبادئ على حق الشعوب في

تقرير مصيرها بعد نهاية الحرب العالمية الثانية. 0,75

● إرسال مذكرات لحلفاء فرنسا الذين نزلوا في 6 ماي 1942م بالجزائر طالبين منهم الاعتراف

بحقوق الجزائريين، والضغط على فرنسا للاعتراف بها. 0,5

● اجتماع 3 فيفري 1943م ضمّ حزب الشعب وجمعية العلماء والنواب في المجالس الفرنسية،

وخرجوا ببيان تضمن مطالب الشعب الجزائري أهمها: 0,25 × 7

أ - تطبيق مبدأ تقرير المصير.

ب - الاعتراف باللغة العربية كلغة رسمية إلى جانب اللغة الفرنسية.

ج - التعليم المجاني.

د - حرية الصحافة.

هـ - فصل الدين عن الدولة.

و - مشاركة المسلمين الجزائريين في حكم بلادهم.

ي - إطلاق سراح المعتقلين السياسيين.

3. أهم المبادئ التي قامت من أجل تحقيقها جمعية العلماء المسلمين الجزائريين، التي تأسست في

5 ماي 1931م.

● نشر الدين الإسلامي على نطاق واسع عبر جميع مناطق الوطن. 0,75

● تطهير الدين من البدع والخرافات بالتوعية الدينية الصحيحة. 0,75

● تقوية شعور الاعتزاز بالشخصية الوطنية ومقوماتها. 0,75

● السعي التدريجي إلى إقامة دولة جزائرية مستقلة عن فرنسا. 0,75

الوضعية الإدماجية (04 نقاط)

1. واجهت المقاومة السياسية بجميع اتجاهاتها خصمين اثنين هما : السلطات الاستعمارية من جهة، والمستوطنين الأوروبيين من جهة أخرى.

● ويرتكز الموقف الثابت للسلطات الفرنسية على عدم وجود كيان تاريخي سياسي للشعب

الجزائري، وأن أي حل للقضية الجزائرية ينبغي أن يكون في إطار «الجزائر الفرنسية» فقالوا

نعم للإصلاحات لا للاستقلال، ونعم للتعاون لا للانفصال. 1,5

● أما المستوطنون فيرون بقاء الجزائر فرنسية، فتسلمها فرنسا للأوروبيين المستوطنين لإدارتها.

وهم يقولون لا لاستقلال الجزائر، لا للإصلاحات السياسية والثقافية والاقتصادية. والقمع

والتعذيب والسجن والنفي والقتل هي الحل الوحيد للقضية الجزائرية.

وبعد اعتراف فرنسا باستقلال الجزائر عبر المفاوضات، أنشأوا حركة O.A.S الإرهابية،

ألحقت أضرارا كبيرة بالجزائر التي كانت تتهيأ للاستقلال. 1,5

● نستنتج من هذه السندات أن المستوطنين في الجزائر آنذاك كانوا يمارسون ضغوطا كبيرة على

حكومات فرنسا ضد أي مشروع لصالح الجزائريين. آراءهم هي النافذة، فمن رضوا عنه من

الحكام بقي ومن لم يرضوه سحب واستبدل بمن يوافقهم في النظرة. 01

الجغرافيا (07 نقاط)

إجابة الأسئلة (04 نقاط)

1. تتنوع أودية الجزائر تبعا لتنوع التضاريس والمناخ، وهي تنقسم حسب مصباتها إلى:

● أودية شمالية: تصب في البحر، أهمها من الشرق إلى الغرب: السيبوس، وادي الكبير، وادي

الصومام، وادي الشلف، وادي الفضة، وادي الهبرة ووادي التافنة. 0,5

● **أودية داخلية:** تتبع من سلسلتي الأطلس، وتصب في منطقة السبخ والشطوط في الهضاب

العليا، وأهمها: وادي بوسعادة، وادي بريكة. 0,5

● **أودية الصحراء:** تتميز بتعرضها للفيضانات صيفا، وهي أودية تغوص في رمال الصحراء

لتظهر في شكل ينابيع، أهمها: وادي عبيدي، وادي جدي، وادي الأبيض ووادي تمنغاست. 0,5

2. أسباب التباين في درجات الحرارة بين المناطق الساحلية والداخلية، والعوامل المؤثرة في التساقط هي:

● تعود أسباب التباين في درجات الحرارة بين المناطق الساحلية والداخلية إلى تأثيرات البحر

الأبيض المتوسط، التي تقل كلما ابتعدنا عن الساحل، إلى جانب عوامل التضاريس من حيث

الامتداد والارتفاع. 0,5

● أما العوامل المؤثرة في التساقط، فأهمها الضغط الجوي والرياح والتضاريس. ويتضح دور

العامل التضاريسي في التأثير في كمية التساقط، فالمناطق التي تواجه الرياح الممطرة تتلقى كمية

أكبر مما تتلقاها المناطق الواقعة في ظل التضاريس. 0,5

3. مراحل تطور عدد السكان بالجزائر:

● **المرحلة الأولى:** من خلال دراسة إنسان «تيجنيف» الذي عاش في بلادنا منذ حوالي 500 ألف

سنة، تعتبر الجزائر - بناء على ذلك - من أقدم بلدان العالم من حيث العمران البشري. .. 0,5

● **المرحلة الثانية:** أضاف الفتح الإسلامي ابتداء من القرن السابع الميلادي إلى الجماعات

البشرية المحلية جماعات جديدة وافدة من المشرق، ولو أنها قليلة العدد. 0,5

● **المرحلة الثالثة:** وصول جماعات محلية أوروبية مستوطنة، جلبها الاستعمار الفرنسي، ولكنها

غادرت البلاد بعد استعادة الاستقلال ولم يبق منها إلا القليل جدا. 0,5

الوضعية الإدماجية (03 نقاط)

1. أهم المشاكل الكبرى التي تعاني منها المدن الكبرى باختصار:

● **السكن:** تعد نسبة عدد الأفراد في الحجرة الواحدة في المدن الجزائرية من بين أعلى النسب في

بلدان البحر الأبيض المتوسط على الأقل، فأزمة السكن في الجزائر قضية تشغل بال الجميع حكاما

ومحكومين. 0,5

● **المياه الصالحة للشرب:** توزع المياه في مدننا منذ مدة بالتقسيم، فالمياه قليلة والدولة تبذل

جهودا معتبرة في هذا الميدان، لكن المشكل لا يزال قائما. 0,25

● **التلوث:** أصبحت ظاهرة تلوث البيئة والمحيط العام مقلقة للغاية، لأن النفايات المنزلية

والصناعية والغذائية...، في كل مكان. 0,5

● **الزحام:** المدن مكتظة إلى درجة أن المواصلات لم تعد كافية، الأمر الذي ساعد على تفاقم

ظاهرة التلوث والزحام. 0,25

● **سوء الصرف الصحي:** انفجار قنوات الصرف في كل مكان، شكل الروائح الكريهة،

التلوث والأمراض. 0,5

2. أهم الأسباب الكامنة وراء الهجرة الداخلية الكثيفة نحو المدن الشمالية الكبرى هي:

● عدم التطبيق الكافي لمبدأ «التوازن الجهوي» الذي نادى به الحكومات المتتالية منذ

السبعينيات، والقاضي - خصوصا - بخلق فرص الشغل لسكان الأرياف والمدن النائية القادرين

على العمل. 0,25

● عدم إنشاء وتوسيع مختلف المصالح الخدماتية التي تتصل بجميع جوانب حياة الناس الحضارية.

..... 0,25

● يضاف إلى ذلك معاناة الناس من أزمة السكن ومن قلة الأراضي الصالحة للزراعة، وضعف

المساعدات والمغريات التي تشجعهم على البقاء بها، دون أن ننسى عامل «الإغراء» الذي تتميز

به المدن عموما. 0,5

النصوص

الموضوع الخامس 5

التاريخ (13 نقطة)

الأسئلة (09 نقاط)

1. مقابل النشاط السياسي المكثف للحركة الوطنية الجزائرية خلال الفترة الحاسمة ما بين 1939م و 1945م، بالغت السلطات الفرنسية في أساليب المراوغة والمماطلة والتسويف قصد تعطيل هذا النشاط وعرقلته.

ما هي الإجراءات التي قامت بها السلطات الفرنسية لتعطيل هذا النشاط وعرقلته؟

2. حدد ما كان يدعو إليه كل تيار سياسي ضمن الحركة الوطنية الجزائرية.

3. تمثل جمعية العلماء المسلمين الجزائريين التيار الإصلاحية ضمن الحركة الوطنية.

ما هي الوسائل التي كانت تستعملها لبلوغ أهدافها؟

الوضعية الإدماجية (04 نقاط)

السند الأول: «يمكن اعتبار الشعب الجزائري أكثر وطنية من أي شعب آخر، وأكثر إخلاصا

للإسلام وقيمه، وأكثر تفتحا على القيم التي لدى الآخرين».

جريدة المجاهد الناطقة باسم الثورة الجزائرية – العدد 15/12-11-1957م

السند الثاني: «وأنت أيها الشعب الجزائري الكريم، أيها الشباب الوطني المسلم الصميم، اعتمد

على ربك وحده، واتبع الحزب الوطني وجنده ومحض ثقتك وإخلاصك وطاعتك لزعمائك

الوطنيين الصريحين، وليكن أمامك القرآن، ورائدك الإيمان، وثق بقول رب العالمين «

« [الروم الآية 47]، فسيأتي يوم ليس ببعيد تصبح فيه أيها الشعب الجزائري

الماجد، سابحا في سماء الحرية، حرا طليقا باسم الثغر وضّاح الجبين. والسلام عليكم ورحمة

الله».

من ابنكم المخلص مصالي الحاج. باريس يوم 12-11-1936م

محمد قناتش – ذكريات مع مشاهير الكفاح- دار القصة للنشر 2007 ص46

السؤال: اعتمادا على السندين وضح في فقرة درجة موضوعية وصدق النظرة القائلة بوطنية

الجزائريين وإخلاصهم للإسلام، ومدى ارتباطها بالثوابت الإيديولوجية لحزب الشعب الجزائري.

الجغرافيا (07 نقاط)

الأسئلة (04 نقاط)

1. اذكر متوسطات الحرارة في المناطق الثلاث: الساحلية، الداخلية، الصحراوية.
2. بين أهمية الأودية وأخطارها في الجزائر.
3. اذكر مميزات الكثافة السكانية في المناطق الثلاث: منطقة التل، منطقة السهول العليا، منطقة الصحراء.

الوضعية الإدماجية (03 نقاط)

1. ارسم أهم الأودية في الجزائر مع ذكر أسمائها.
2. حلل الجدول الخاص بتوزيع الرقع الزراعية حسب مستوى التساقط عام 1991م والخاصة بالحبوب.

المجموع	أخرى	350>	350-450	450-600	600<	تحديد مساحة الحبوب/هكتار
3134000	335000	480000	1410000	850000	64000	
100%	11%	15%	45%	27%	2%	النسبة المئوية

الحلول

الموضوع الخامس 5

التاريخ (13 نقطة)

إجابة الأسئلة (09 نقاط)

1. الإجراءات التي قامت بها السلطات الفرنسية :

● ألغت في 1940م قانون "كريميو" (Crémieux) الخاص بمنح الجنسية الفرنسية لليهود. 0,75

● تحقيق المساواة بين الممثلين الجزائريين والفرنسيين في البرلمان الفرنسي. 0,25

● تجنيد الجزائريين بأعداد كبيرة (وعود). 0,25

● زيارة الجنرال "ديغول" لمدينة قسنطينة في 1943م وإعلانه تطبيق مجموعة من الإصلاحات

تتمثل فيما يلي : 0,25

أ - تخصيص عدد من الوظائف الإدارية لعدد من الجزائريين الأكفاء. 0,25

ب - منح الجنسية الفرنسية لعدة آلاف من الجزائريين. 0,25

ج - خطابه في برازيل سنة 1944م والذي قال فيه : «إن هدف السياسة الفرنسية هو جعل

الشعوب المستعمرة تحكم نفسها بنفسها». 0,25

لكنها تراجعت عن هذه الوعود ولم تطبقها.

2. أهم ما كان يدعو إليه كل تيار سياسي ضمن الحركة الوطنية الجزائرية :

● أهم ما كان يدعو إليه "الأمير خالد" وجماعته (تيار المساواة) : 0,25×3

أ - التمثيل النيابي في البرلمان الفرنسي.

ب - إلغاء القوانين الاستثنائية التي كانت من صلاحيات رؤساء البلديات الأوروبية المختلفة.

ج - تطبيق القانون العام على الجزائريين مثل الفرنسيين.

● التيار الاستقلالي وزعيمه "أحمد مصالي الحاج"، كان يدعو إلى : 0,25×6

أ - إنشاء دولة جزائرية ذات حكومة مستقلة عن فرنسا.

ب - إنشاء برلمان جزائري.

ج - إنشاء جيش جزائري.

د - جعل اللغة العربية لغة رسمية إلى جانب الفرنسية.

هـ - تطبيق الإصلاح الزراعي.

و - احترام مقومات الشخصية الجزائرية : دين، لغة، ثقافة، تاريخ، ...

● دعاة الإدماج الذين طالبوا فيما بعد بالمساواة فقد دعوا إلى : $0,25 \times 4$

- أ - المساواة بين الجزائريين والفرنسيين.
 - ب - إلغاء قانون الأهالي (الأنديجينا) العنصري.
 - ج - التخلي عن نظرية التمييز العنصري.
 - د - فتح جميع الوظائف المدنية والعسكرية أمام الجزائريين.
- دعاة الإصلاح وعلى رأسهم "عبد الحميد بن باديس"، مؤسس جمعية العلماء المسلمين الجزائريين سنة 1931م، دعوا إلى : $0,25 \times 4$

- أ - تطهير العقيدة الإسلامية في الجزائر من البدع والخرافات.
- ب - إحياء اللغة العربية بتدريسها وترسيمها.
- ج - تقوية الشعور بال شخصية الوطنية.
- د - إقامة دولة جزائرية في نهاية المطاف (في الوقت المناسب) منفصلة عن فرنسا.

3. الوسائل التي كانت تستعملها لبلوغ أهدافها : $0,25 \times 4$

- إصدار الصحف : المنقذ، الشهاب، البصائر، الشريعة، الصراط، النوادي الثقافية.
- المحاضرات والخطب، المسرحيات المدرسية، الوعظ والإرشاد.
- بناء المساجد والمدارس لتعليم اللغة العربية والشريعة الإسلامية والعلوم الأخرى.
- إرسال البعثات الطلابية إلى الخارج وخاصة إلى بلدان المشرق العربي.

الوضعية الإدماجية (04 نقاط)

● قد يعتبر البعض هذا الحكم مبالغاً فيه لعدم صعوبة العثور على الأدلة الموضوعية التي تمكننا من المقارنة بين درجات الإخلاص للوطن والدين. ومع ذلك يمكن أن نقول إن الشعب الجزائري كثير الإيمان بالقيم الوطنية والإسلامية، وهذه الحقيقة يؤكدتها كثير من العلماء المسلمين وعلماء الاجتماع والدليل على ذلك عدم نجاح الاستعمار في تحويله عن دينه وثقافته وتاريخه. $1,5$

- يدعو مصالي الحاج الشباب الجزائري إلى الاعتماد على الله بالاستناد إلى القرآن الكريم، وإظهار الطاعة للزعماء الوطنيين. ويعد الشعب الجزائري بالحرية والاستقلال إن هو تمسك بهذين الشرطين. $1,5$

● إن إيديولوجية الحزب هنا تبدو قائمة على الإخلاص للوطن من خلال الإخلاص للزعماء الوطنيين والإخلاص للإسلام عبر التمسك بالقرآن وتعاليمه. فهو بالرغم من كونه تدرب على النضال في صفوف الحركة الشيوعية والنقابية إلا أنه لم يتشرب الإيديولوجية الشيوعية السائدة آنذاك بفرنسا والتي كان قائلاً بها. 01

الجغرافيا (07 نقاط)

إجابة الأسئلة (04 نقاط)

1. تنخفض درجات الحرارة في المنطقة الساحلية في فصل الشتاء كلما ابتعدنا عن البحر، إذ يبلغ متوسطها في شهر جانفي ما بين 10° إلى 12° على الساحل و 4° في الهضاب العليا. ... 0,5
وفي فصل الصيف يحدث العكس إذ ترتفع درجة الحرارة كلما ابتعدنا عن الساحل، فيبلغ متوسطها في شهر أوت 20° على الساحل و 26° في الهضاب العليا. 0,5
أما في الصحراء فنجدها في حدود الخمسين 50° ، وقد تصل إلى 70° على الرمال. 0,5
2. أهمية الأودية وأخطارها في الجزائر :

● أهمية الأودية تتمثل في : $0,25 \times 4$
أ - سقي الأراضي الزراعية.

ب - الاستعمالات الصناعية (أغلب المصانع تستعمل المياه بكثرة).

ج - توليد الكهرباء.

د - تربية الأسماك في الأحواض.

● أخطار الأنهار تتمثل في : $0,25 \times 3$

أ - انجراف التربة الصالحة للزراعة عند فيضانها.

ب - الفيضانات الفجائية التي تترتب عنها خسائر كبيرة.

ج - عودة الأودية المغمورة إلى مجاريها القديمة في مناطق تساقط الأمطار غير العادية.

3. مميزات الكثافة السكانية في المناطق الثلاث: $0,25 \times 3$

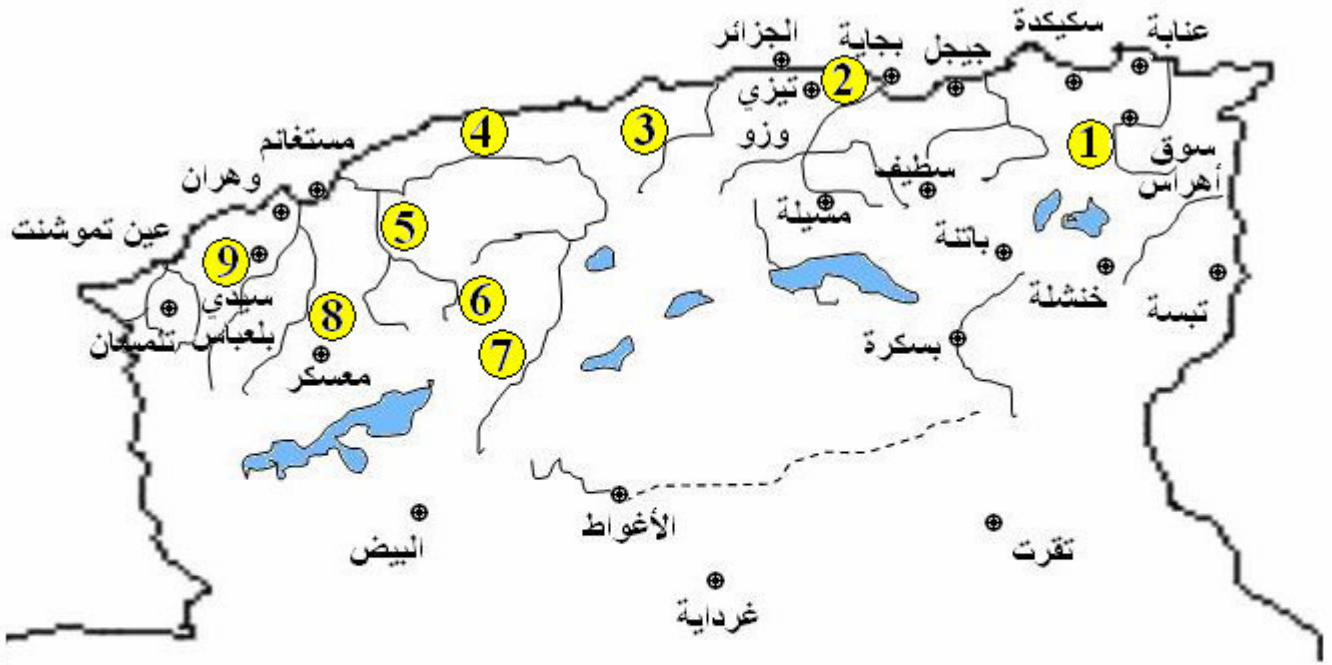
● منطقة التل : تتراوح الكثافة السكانية في هذه المنطقة ما بين 100 إلى 300 نسمة في الكيلومتر المربع، وقد تصل في بعض الجهات إلى 400 نسمة في الكيلومتر المربع.

● منطقة السهول العليا: تتراوح الكثافة السكانية في هذه المنطقة ما بين 10 إلى 100 نسمة في الكيلومتر المربع، لأنها أقل ملاءمة للعيش من حيث الظروف الطبيعية والإمكانيات الاقتصادية. وتعمل الدولة على تطوير تعميمها بمد خطوط السكك الحديدية وإقامة المشاريع الصناعية واستصلاح الأراضي الزراعية.

● منطقة الصحراء: تقل الكثافة السكانية فيها عن 10 نسمة في الكيلومتر المربع لانعدام الظروف الطبيعية الملائمة للحياة المريحة. ونستثني من ذلك الواحات والمنطقة الصناعية البترولية التي ارتفعت فيها الكثافة السكانية بشكل محسوس، وهي في ارتفاع مستمر.

الوضعية الإدماجية (03 نقاط)

1. رسم خريطة أهم الأودية في الجزائر مع ذكر أسمائها : 01



- 1 وادي السيبوس 2 وادي الصومام 3 وادي يسر 4 وادي الشلف 5 وادي مينا
6 وادي الواصل 7 وادي الطويل 8 وادي الهبرة 9 وادي سيق

أهم الأودية في الجزائر

2. تحليل الجدول الخاص بتوزيع الرقع الزراعية حسب مستوى التساقط عام 1991م والخاصة بالحبوب : 0,5×4

نلاحظ من خلال كميات التساقط ومساحة الهكتارات والنسب المئوية أن :

- 29% من المساحة الزراعية فقط تتلقى ما يكفي نسبيا من المياه.
- 70% من مساحة الحبوب هذه تقع في مناطق التساقط السنوي الأقل من 400mm.

- ميزة هذا التساقط في بلادنا عموماً هي التذبذب الكبير بين السنوات من حيث الحجم والتوزيع.
- أغلب الحبوب تزرع دون اللجوء إلى الري في مناطق حيث نسبة تساقط الأمطار ضعيفة.

النصوص

الموضوع السادس 6

التاريخ (13 نقطة)

الأسئلة (09 نقاط)

1. اذكر الوسائل التي استخدمتها الحركة الوطنية الجزائرية ما بين 1939م و 1945م لإيصال ونشر برامجها.

2. قدمت السلطات الفرنسية وعودا كثيرة للشعب الجزائري في الفترة ما بين 1939م و 1945م نتيجة للضغوط التي مارستها الحركة الوطنية الجزائرية عليها بفضل نشاطها السياسي الحثيث والفعال. فما مدى وفاء السلطات الفرنسية بوعودها؟

3. ما إن تأسست جمعية العلماء المسلمين الجزائريين في 5 ماي 1931م حتى شرعت في إنجاز برنامجها بنشاط كبير، استثار ردود أفعال كثيرة. فكيف كان موقف السلطات الاستعمارية منها؟

الوضعية الإدماجية (04 نقاط)

السند: تنص المادة الرابعة من قانون تأسيس جمعية العلماء المسلمين الجزائريين على ما يلي :
«هدف هذه الجمعية هو محاربة الآفات الاجتماعية : الخمر، القمار، الكسل، الجهل وكل ما يمنعه الدين بطبيعته وتستنكره الأخلاق وتمنعه القوانين والمراسيم المعمول بها». كما ينص في فقرة أخرى على عدم التدخل في الشؤون السياسية (المادة الثالثة من قانون التأسيس).

ترجمة عن كلود كوتو وجان روبيير هاتري - الحركة الوطنية الجزائرية- نصوص 1912-1954م ص45

السؤال: انطلاقا من معلوماتك التاريخية عن جمعية العلماء المسلمين، اكتب فقرة تبين فيها الطابع الغالب على برنامج هذه الجمعية، وهل امتنعت بالفعل عن التدخل في الشؤون السياسية؟

الجغرافيا (07 نقاط)

الأسئلة (04 نقاط)

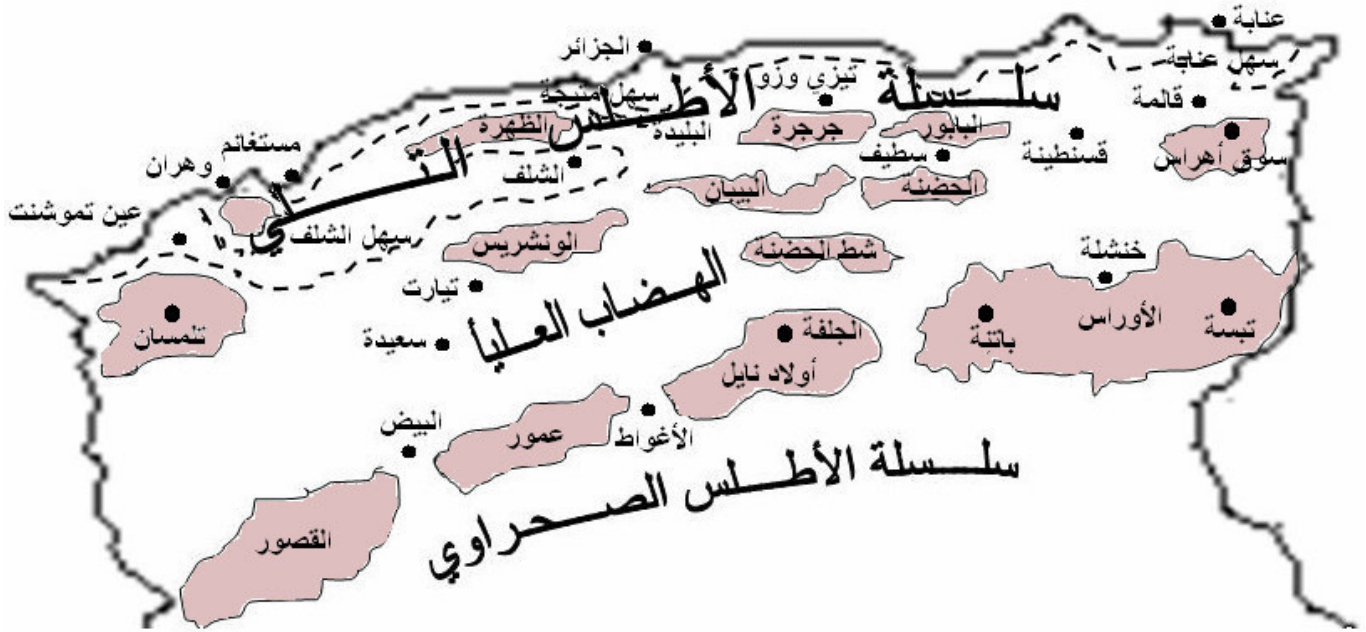
1. من بين أهم المظاهر التضاريسية الجزائرية السلسلتان الجبلتان التلية والأطلسية. تتبع تدرجهما، ثم قارن بين السلسلتين لاستخراج أوجه التباين بينهما.

2. حدد بداية ونهاية كل فصل من فصلي المناخ في الجزائر (فصل الأمطار وفصل الجفاف).

3. ما هي التحولات التي أثرت في الحركة الداخلية والخارجية للسكان؟

الوضعية الإدماجية (03 نقاط)

1. أمامك خريطة الجزائر وعليها مجموعة من الجبال المكونة للسلسلة التلية والسلسلة الصحراوية، منها ما ذكر ارتفاعها.
سمّ أربعة جبال كبرى في السلسلة التلية وأربعة أخرى في السلسلة الصحراوية.
واذكر في أيّ منها تقع قمة «لالا خديجة».



2. تجد بالصحراء الجزائرية ثلاثة مظاهر تضاريسية متباينة هي الحمّادة، الرّق والعرق. صف مميزات كل منها باختصار في فقرة متوسطة الطول.

الحلول

الموضوع السادس 6

التاريخ (13 نقطة)

إجابة الأسئلة (09 نقاط)

1. الوسائل التي استخدمتها الحركة الوطنية الجزائرية ما بين 1939م و 1945م لإيصال ونشر

برامجها هي : $0,5 \times 6$

● الصحافة، النوادي، الجمعيات، المحاضرات والمهرجانات.

● الاتصال بالشخصيات الوطنية والأجنبية.

● إرسال الوفود إلى البلدان الشقيقة والصديقة.

● الجاليات الجزائرية في الهجرة.

● المسرح.

● الرياضة، خاصة كرة القدم.

2. اضطرت السلطات الفرنسية بسبب ظروف الحرب العالمية الثانية وبسبب النشاط السياسي

للأحزاب الجزائرية وانخراط الشعب فيها، إلى تقديم وعود كاذبة قصد المماطلة والتسويق. لكن

بعد أن صمت دويّ الحرب، وانتصر الحلفاء تراجعت عما وعدت به؛ ومجازر 8 ماي 1945م

دليل قاطع على مكرها وخداعها. 02

3. اتخذت السلطات الاستعمارية موقفا عدائيا من نشاط جمعية العلماء المسلمين الجزائريين فقامت

بـ :

● إحكام إجراءات الرقابة، خاصة على أعضائها البارزين. 01

● فرض الإقامة الجبرية على النشطاء والمؤثرين جدا في الرأي العام. 01

● مصادرة صحفها ومجلاتها، وغلق نواديها. 01

● إغلاق المدارس والمساجد الفعالة. $0,5$

● بث الجواسيس وبذور التفارقة في صفوفها بواسطة العملاء. $0,5$

الوضعية الإدماجية (04 نقاط)

إن الطابع الغالب على برنامج هذه الجمعية، حسب هذه الوثيقة هو الطابع التربوي

الإصلاحي، ذلك أنها حددت أهدافا تربوية اجتماعية وثقافية ودينية وقانونية لا علاقة لها بالسياسة،

لذلك أدرجت ضمن إطار الجمعيات الإصلاحية، ولو أن الفصل الواضح بين الاختصاصات

والاتجاهات المذكورة ليس بالأمر الهين. 1,5

أما عن قضية امتناعها عن التدخل في الأمور السياسية فعلا، فإن المتتبع لنشاط هذه الجمعية لا بد وأن يعترف أنها كانت تتدخل في الأمور السياسية ولكن بنوع من الذكاء والحذر،

حتى لا ينتزع اعتمادها وتمنع من النشاط. 1,5

هذا قبل اندلاع الثورة التحريرية سنة 1954م. أما بعد ذلك فقد كان سلوكها مثل باقي

الأحزاب السياسية ولو أنها جمعية يغلب عليها الطابع الثقافي والديني حقيقة. 01

الجغرافيا (07 نقاط)

إجابة الأسئلة (04 نقاط)

1. استخراج أوجه التباين بين السلسلتين الجبلتين التلية والأطلسية :

● السلسلة الجبلية التلية: 0,25×7

أ - تمتد السلسلة الجبلية التلية من الغرب إلى الشرق.

ب - تبدأ من جبال تلمسان، وتنتهي بجبال سوق أهراس.

ج - يمكن تقسيمها إلى كتل جبلية غربية، وكتل جبلية شرقية.

د - تفصل بينهما جبال مليانة.

هـ - الكتلة الشرقية أكثر اتساعا وأكثر ارتفاعا من الكتلة الغربية.

و - كمية الأمطار التي تنزل في الإقليم الشرقي من السلسلة التلية أكثر من التي تتساقط في الإقليم الغربي.

ي - الأطلس التلي أقل ارتفاعا من الأطلس الصحراوي.

● السلسلة الأطلسية أو الأطلس الصحراوي: 0,25×5

أ - تمتد جبال الأطلس الصحراوي من فجيج غربا إلى إقليم الزاب شرقا على طول 700km.

ب - اتجاهها من الجنوب الغربي إلى الشمال الشرقي.

ج - الأطلس الصحراوي أعلى من الأطلس التلي.

د - الانحدار العام في هذا الإقليم من الغرب إلى الشرق.

هـ - ينعكس عند جبال الأوراس الاتجاه العام لسلسلة الأطلس الصحراوي التي تأخذ في الاندماج مع الأطلس التلي بالتدرج إلى أن يختفي (أي الأطلس التلي) عند منطقة القالة.
2. ينقسم مناخ الجزائر إلى فصلين مختلفين :

● فصل جاف : ويمتد من شهر جوان إلى شهر سبتمبر، حيث تكاد تنعدم فيه الأمطار. 0,25

● فصل مطير: ويمتد من شهر أكتوبر إلى شهر ماي، ويعد شهر جانفي أغزر الشهور مطرا، إذ

يتجاوز معدل التساقط فيه 100mm. 0,25

3. التحولات التي أثرت في الحركة الداخلية والخارجية للسكان هي :

● التركيز الشديد للنشاط العمراني في الشمال، مما جعله محل استقطاب للسكان الباحثين عن حياة

أفضل ومنه ظاهرة النزوح الريفي نحو المدن. 0,25

● تقادم ظاهرة البطالة في المدن الشمالية، مما أدى إلى بروز ظاهرة الهجرة نحو الخارج. 0,25

الوضعية الإدماجية (03 نقاط)

1. - جبال السلسلة التلية هي : 0,5

1: سوق أهراس.

2: جرجرة.

3: البليدة.

4: الونشريس.

- جبال السلسلة الصحراوية هي : 0,5

1: الأوراس.

2: المسيلة.

3: البيض.

4: تلمسان.

- تقع قمة لالا خديجة بجبال جرجرة. 0,5

2. نجد بالصحراء الجزائرية ثلاثة مظاهر تضاريسية متباينة هي الحمّادة، الرّق والعرق. وهذه

مميزات كل واحدة منها : 0,5×3

● **الحمادة :** هضبة صخرية تغطيها صخور جيرية ممتدة في شكل صفائح طباقية. ومن أهم

الحمادات: حمادة الدراع بالحدود الجزائرية المغربية، وحمادة القلاب بالحدود الجزائرية الموريطانية، وحمادة تادميت شمال عين صالح.

● **الرق :** سهل صخري أو حوض منخفض ملأته السيول الجارفة بالرواسب الصخرية.

● **العرق :** يختلف عن الحمادة والرق في أنه سطح واسع الأطراف تغطيه كثبان رملية تشبه

أمواج البحر، جاءت بها الرياح من الحمادة والرق وتحتل العروق مساحة كبيرة من الصحراء

الجزائرية، أشهرها : العرق الشرقي الكبير والعرق الغربي الكبير وعرق الشيخ وعرق إيجيدي.

النصوص

الموضوع السابع 7

التاريخ (13 نقطة)

الأسئلة (09 نقاط)

1. وقعت في 08 ماي 1945م أحداث أليمة بالجزائر، وصفها البعض بالمجازر والمذابح، والبعض الآخر بانتفاضة شعبية.

قدّم وصفا وجيزا بأسلوبك الخاص متناولا «المصطلح» والمكان والتاريخ والنتائج.

2. قرر حزب الانتصار للحريات الديمقراطية في مؤتمره المنعقد في فيفري 1947م إنشاء منظمة سرية قصد الإعداد للعمل المسلح (الثورة).

اذكر القرارات التي اتخذها المناضلون في هذا المؤتمر.

3. اذكر النقاط الأساسية التي طرحت للنقاش في الاجتماع التاريخي الذي عقدته مجموعة الاثنتين والعشرين (22) في 25 جويلية 1954م.

الوضعية الإدماجية (04 نقاط)

السند: ● محمد بوضياف، ● بوجمعة سويداني، ● عبد الحفيظ بوصوف، ● عمار بن عودة،

● السعيد بوعلي، ● محمد مشاطي، ● عبد السلام حباشي، ● يوسف زيغود، ● مختار باجي،

● سليمان ملاح، ● لخضر بن طوبال، ● عبد المالك رمضان، ● عبد القادر العمودي، ● بلحاج

بوشعيب، ● الياس دريش، ● عثمان بلوزداد، ● الزبير بوعجاج، ● محمد مرزاوق.

أحمد توفيق المدني – حياة كفاح - صفحة 10 - الشركة الوطنية للنشر والتوزيع - الجزائر

السؤال: إليك قائمة الأبطال «الاثنتين والعشرين» الذين اتخذوا القرار لإشعال نار الثورة

التحريرية، حذف منها أربعة كانوا قادة المناطق في بداية الثورة. اذكر أسماء هؤلاء الأربعة لتكتمل القائمة.

2. **السند:** «إن أعز صديق لنا في حربنا التحريرية هو بلا شك حماقات وأخطاء العدو».

محمد يزيد وزير الإعلام في GPRA

السؤال: حلل هذه المقولة مبرزا أفتح أخطاء العدو آنذاك.

3. راجع معلوماتك فيما يتعلق بالتحضير للثورة التحريرية الكبرى، ثم كون قائمة تتضمن لجنة التسعة الذين شكلوا قيادة الثورة في الداخل والخارج.

الجغرافيا (07 نقاط)

الأسئلة (04 نقاط)

1. تعرف الظاهرة السكانية في الجزائر نموا كبيرا، يسميه البعض إنفجارا سكانيا، وقد رافق هذا النمو توزيعا غير متوازن للسكان.

اشرح هذه الظاهرة مبينا الأسباب الحقيقية للنمو السريع للسكان ببلادنا.

2. عرفت الجزائر نزوحا ريفيا كثيفا منذ الاستقلال تسبب في العديد من المشاكل. اذكر مراحل هذا النزوح.

3. تملك الجزائر مخزونا كبيرا من الطاقة المتجددة وغير المتجددة، تبشر بمستقبل اقتصادي واعد للشعب الجزائري.

عدّد أنواع هذه الطاقة ومنابعها.

الوضعية الإدماجية (03 نقاط)

1. السند:

السنوات	1985	1986	1987	1996	1997	1998	2002	2003
الإنتاج	5,5	5,5	5	6	6	6,5	7	7

السؤال: هذا جدول تطور إنتاج البترول ببلادنا (الوحدة مليون طن).

أنجز رسما بيانيا للجدول، ثم حله مبينا تطور الإنتاج، والأسباب الرئيسية التي تؤثر في عملية رفع أو خفض الإنتاج في بلادنا.

2. السند: صادرات الجزائر من المواد المصنعة خارج المحروقات لا تتجاوز قيمتها 800

مليون دولار أمريكي، بينما بلغت حصة المحروقات في منتوجها الداخلي الخام (PIB) 46%.

دراسة للخبير الجزائري د. عبد المجيد بوزيدي في "Le Soir d'Algérie" بتاريخ 2007/09/05

السؤال: فماذا تستنتج من ذلك ؟ .

الحلول

الموضوع السابع 7

التاريخ (13 نقطة)

إجابة الأسئلة (09 نقاط)

1. إن المصطلح المناسب لوصف هذه الحوادث هو المجازر لفضاعتها، وهمجية الاستعمار في قمعها. وقد وقعت في 08 ماي 1945م في كثير من المدن الجزائرية وأريافها لكن مدن الشرق الجزائري، أصابها النصيب الأكبر من الردع والقمع، خاصة مدن سطيف، قالمة وخراطة، التي سبحت في حمام من الدماء الزكية البريئة؛ بحيث بلغ عدد الشهداء بها خمسة وأربعون ألفا ناهيك عن الجرحى والمعذبين والمسجونين.

وكان الهدف من تنظيم هذه المظاهرات هو تذكير فرنسا بوعدها القاضي بإعطاء الحكم الذاتي

للمستعمرات بعد نهاية الحرب العالمية الثانية. 3,5

2. أهم القرارات المتخذة في هذا المؤتمر هي :

● توسيع القاعدة السرية للحزب وترسيخ الروح النضالية فيه. 0,5

● الإبقاء على حزب الشعب في إطاره القديم وفي نفس النشاط السري. 0,5

● متابعة حركة الانتصار للحريات الديمقراطية نشاطها بمظهرها القانوني في النشاط العلني

والرسمي. 0,5

● إنشاء منظمة عسكرية سرية تسمى "المنظمة السرية الخاصة" مهمتها الإعداد والتدريب،

واستعدادا للكفاح المسلح مستقبلا. وقد كلف المناضل محمد بلوزداد بإنشاء هذه المنظمة. 1,5

3. أهم القرارات التي اتخذت في اجتماع 22 :

● شرح أسباب الخلافات والانقسامات التي تمزق صفوف الحزب أي حركة الانتصار للحريات

الديمقراطية. 0,5

● تحليل أوضاع المنظمة الخاصة من 1947م إلى 1950م. 0,5

● استعراض منجزات المنظمة الخاصة. 0,5

● دراسة أوضاع الجارتين : تونس والمغرب الأقصى. 0,5

● التطرق إلى نقاط مختلفة طرحها المتدخلون في النقاش. 0,5

الوضعية الإدماجية (04 نقاط)

1. أسماء قادة المناطق الأربعة في بداية الثورة الذين يكملون قائمة الـ 22 هم :

● العربي بن مهيدي، ● رابح بيطاط، ● مصطفى بن بولعيد، ● مراد ديدوش..... 01

2. صاحب هذه المقولة هو محمد يزيد وزير الإعلام في الحكومة المؤقتة للجمهورية الجزائرية التي تأسست خلال الثورة.

أما حماقات وأخطاء العدو آنذاك هي اعتقاده :

● أنه سينتصر على الشعب الجزائري بالقتل الوحشي.

● بتخلي الشعب الجزائري عن المطلب الأساسي "الاستقلال".

● بقبول الشعب الانقسام إلى عدة شعوب.

● بتخلي الشعب عن الصحراء (مصدر الثروة).

● بتخلي الشعب عن ثورته إذا اشتدّ عليه الضغط.

كل هذه حماقات والأخطاء كذبها الزمن لأنها أفكار خاطئة ولأن عزيمة الشعب الجزائري أقوى

من أن يحطمها الباطل والظلم..... 1,5

3. قائمة القادة التسعة الذين شكلوا قيادة الثورة في الداخل والخارج:

● مراد ديدوش، ● رابح بيطاط، ● مصطفى بن بولعيد، ● العربي بن مهيدي، ● كريم بلقاسم،

● محمد بوضياف، ● حسين آيت أحمد، ● أحمد بن بلة، ● محمد خيضر (الخارج)..... 1,5

الجغرافيا (07 نقاط)

إجابة الأسئلة (04 نقاط)

1. تعرف الظاهرة السكانية في الجزائر نموا كبيرا، يسميه البعض إنفجارا سكانيًا، وقد رافق هذا النمو توزيعا غير متوازن للسكان؛ إذ بالرغم من تراجع النمو الديمغرافي في السنوات الأخيرة إلى نسبة 16,5 بالألف، بعد أن كان 32 بالألف في العشرية الماضية فإن النسبة لا تزال عالية. ومن أهم أسباب هذا النمو :

● ارتفاع الدخل الفردي، وتحسن مستوى المعيشة..... 0,25

● توفر الخدمات الصحية، والقضاء على أغلب الأمراض الخطيرة والمعدية والفتاكة... 0,25

● تشجيع المعتقدات والثقافة والعادات الجزائرية الأفراد على الإنجاب. 0,25

2. مراحل النزوح من الريف إلى المدينة :

● مرحلة الحرب التحريرية 1954م - 1962م بسبب العمليات الحربية الكثيفة التي عرفتها

الأرياف الجزائرية، والدمار الذي لحق بالقرى. 0,5

● العشرية الأولى للاستقلال، حيث هاجر الأوروبيون البيوت التي استعمروها بأعداد كبيرة،

فظلت شاغرة وجلبت سكان الأرياف لإعمارها. 0,5

● مرحلة السبعينيات والثمانينيات، حيث كثرت فرص العمل في القطاعات الاقتصادية، الصناعية

والزراعية بشكل خاص. وهدف النظام السياسي آنذاك هو امتصاص البطالة بالدرجة الأولى.

..... 0,5

3. أنواع الطاقة ومنابعها في الجزائر : 0,25×7

● البترول في حاسي مسعود، وحوض عين أمناس وغدامس.

● الغاز الطبيعي في حوض حاسي الرمل.

● الفحم الحجري في حقول القنادسة ببشار.

● الكهرباء تنتجها المصادر الحرارية والسدود.

● الطاقة النووية في "درارية" و "عين وسارة" وهي في طور البحث لأغراض علمية وصناعية

مدنية.

● الطاقة الشمسية، ومصدرها الأساسي شمس الصحراء والهضاب العليا (أرض الجزائر كلها

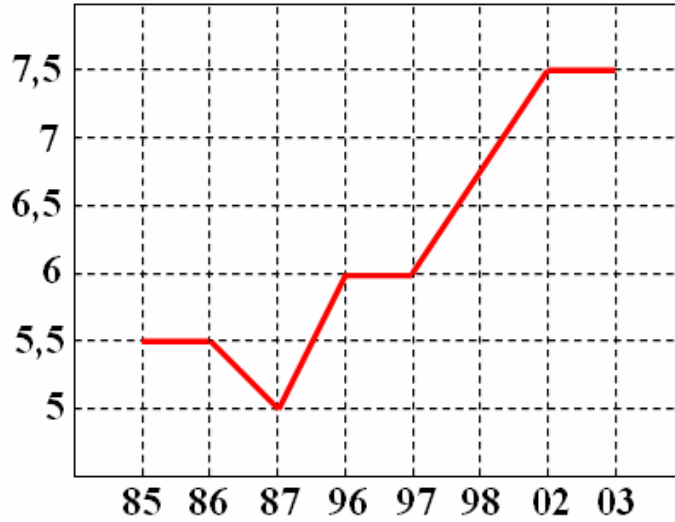
مصدر للطاقة الشمسية).

● الطاقة الهوائية في طور الإنجاز.

الوضعية الإدماجية (03 نقاط)

1. إنجاز رسم بياني لتطور إنتاج البترول ما بين 1985م و 2003م : 0,25

السنوات	1985	1986	1987	1996	1997	1998	2002	2003
الإنتاج	5,5	5,5	5	6	6	6,5	7	7



جدول تطور إنتاج البترول ببلادنا (الوحدة مليون طن).

يبدو من خلال الجدول والرسم أن الإنتاج انخفض ما بين 86 و 87. واستقر ما بين 96 و 97،

وظل يرتفع بعد ذلك ليستقر في حدود 7 مليون طن. 0,5

وتعود الأسباب الرئيسية لرفع الإنتاج إلى :

● القدرة التكنولوجية للبلاد. 0,25

● احتياجات البلاد إلى العملة الصعبة. 0,25

● ازدياد الطلب الداخلي على الطاقة. 0,25

● ارتفاع الأسعار في السوق البترولية. 0,25

أما أسباب خفض الإنتاج فراجعة إلى : 0,25×3

● عدم الحاجة إلى التصدير لضعف الطلب الداخلي والخارجي.

● ضعف الإمكانيات التكنولوجية للاستخراج أو الإنتاج.

● انخفاض الأسعار بشكل غير منطقي.

وقد يعود السبب إلى الرغبة في الحفاظ على هذه الطاقة غير المتجددة، واستغلالها بحذر وشح،

لأنها ملك لجميع الأجيال وليس للجيل الحالي فقط.

2. إن الاقتصاد الجزائري - لحد الآن - يقوم في أغلبه على الصناعة الاستراتيجية خاصة في

ميدان المحروقات : بترول وغاز وبعض مشتقاتهما. وهذا النوع من الاقتصاد الصناعي لا يعتبر

منتجا بالمعنى الصحيح للاقتصاد ما دام خاضعا لفرع واحد من الاقتصاد، أي الاستخراج، بشكل

46% من المنتج الداخلي الخام. 0,25×2

النصوص

الموضوع الثامن 8

التاريخ (13 نقطة)

الأسئلة (09 نقاط)

1. تتبّع سير النضال السياسي وتطوره بعد مجازر 08 ماي 1945م.
2. ما هي المهام الأساسية التي كلفت بها المنظمة السرية التي أنشأتها حركة الانتصار للحريات الديمقراطية بعد مؤتمرها المنعقد في فيفري 1947م ؟ .
3. ما هي القرارات التي خرجت بها مجموعة الاثنتين والعشرين في اجتماعهم الحاسم في 25 جويلية 1945م ؟ .

الوضعية الإدماجية (04 نقاط)

السند الأول :

«ليس هدف الثورة الجزائرية أن تلقي بالجزائريين من أصل أوروبي إلى البحر، ولكن هدفها تحطيم النير الاستعماري اللاإنساني».

السند الثاني :

«الثورة الجزائرية ليست حربا أهلية ولا حرب دين».

السند الثالث :

«الثورة الجزائرية تكافح للحصول على الاستقلال الوطني وتأسيس جمهورية ديمقراطية واجتماعية، ضامنة المساواة الحقيقية بين جميع مواطني الوطن الواحد».

السند الرابع :

«إن دور جبهة التحرير الوطني هو تحويل السيل الشعبي الجارف إلى طاقة مبدعة وبناءة».

La Révolution Algérienne par les textes d'André Mandouze-page 29 et 31

Editions Anep-Alger

السؤالان:

1. بماذا اتهم المعمرون والسلطات الاستعمارية الثورة الجزائرية حتى تجيب بهذه الفقرات الموضحة لمبادئها ؟ .
2. جاء في النص «تأسيس جمهورية ديمقراطية واجتماعية..» .
فيم يبرز الجانب الاجتماعي الذي قامت عليه الجمهورية بعد الاستقلال ؟ .

الجغرافيا (07 نقاط)

الأسئلة (04 نقاط)

1. عدد أهم المشاكل التي تسبب فيها النمو السريع للسكان في الجزائر.
2. اذكر أهم المشاكل التي تسبب فيها النزوح الريفي.
3. قدم أرقاما إحصائية تم تسجيلها، تتعلق بما تمتلكه الجزائر من احتياط في الطاقة المتجددة.

الوضعية الإدماجية (03 نقاط)

بعد مدّ خطين من أنابيب الغاز إلى إيطاليا - والأمل في إمداده إلى بلدان أوروبية أخرى - عبر الشقيقة تونس، وخط آخر إلى إسبانيا عبر المغرب، تكون الجزائر قد وطدت علاقاتها الاقتصادية مع الكثير من بلدان أوروبا.

السند الأول: «إن إبرام عقد "سونطراك - البازو"، قد زاد في إقناع الإيطاليين بأن الجزائر هي فعلا مستقلة وحررة في تصرفاتها تجاه مستعمرها القديم. ومما لا شك فيه أن إنجاز هذا العقد قد ساهم كثيرا في تعديل مواقف مسؤولي شركة "أوني" الإيطالية اتجاهنا وتحريرهم من خوف الارتباط معنا في إنجاز عظيم كهذا. وفعلا انتهى هذا الارتباط بإنجاز أنبوب الغاز الجزائري - الإيطالي العابر للقارتين...».

السند الثاني: «... وهكذا انطلقت العملية من قبل هذا الكونسورسيوم باتخاذها اسم الأوروغاز (Eurogaz). إنها عملية ذات منفعة بالغة الأهمية بالنسبة لنا، فمن خلالها نجحنا في تحقيق عمل مشترك مع العديد من الأعضاء في المجموعة الاقتصادية الأوروبية والدخول معها في تعاون ثنائي متبادل وفريد من نوعه نظرا لأبعادها العميقة. إن إنجاز مثل هذا العمل، إنما يدل على نجاح سياستنا الهادفة أساسا إلى تنويع علاقاتها الاقتصادية الخارجية، وهو بمثابة الدليل الملموس على قابلية استعداد بلادنا في اتخاذ المبادرة ونجاحها في خلق تعاون ثنائي بين بلد مغربي وبلدان أوروبية خارج الوصاية الفرنسية...».

الغاز الجزائري - بلعيد عبد السلام وزير الصناعة من 1965م إلى 1977م ثم رئيس الحكومة الجزائرية صفحة 141

دار النشر بوشان 1990م

السؤال: ادرس السندين بإمعان ثم بيّن في فقرة الفوائد الاقتصادية التي ستجنيها كل من الجزائر وأوروبا من هذا المشروع القابل للتوسع مستقبلا.

الحلول

الموضوع الثامن 8

التاريخ (13 نقطة)

إجابة الأسئلة (09 نقاط)

1. تطور سير النضال السياسي بعد مجازر 08 ماي 1945م.

- ارتفعت روح ومعنويات النضال في جميع الأوساط والاتجاهات السياسية الجزائرية. .. 0,5
- طالبت الجماهير الشعبية المسؤولين السياسيين بتغيير أسلوب النضال السياسي والنقابي والحقوقي إلى الأسلوب الثوري. 01
- تشكلت الأحزاب تحت أسماء جديدة، خاصة المحظورة منها. 0,5
- غير حزب الشعب الجزائري اسمه إلى "حركة الانتصار للحريات الديمقراطية"، وتحول حزب البيان إلى "الاتحاد الديمقراطي للبيان الجزائري". أما جمعية العلماء المسلمين الجزائريين فقد حافظت على اسمها. 0,5

2. المهام التي كلفت بها المنظمة السرية هي :

- الفصل بين المنظمة السرية والحزب. 0,5
- اختيار أحسن المناضلين من حيث الإخلاص والكفاءة. 0,5
- تدريب المنخرطين فيها عسكريا وثقافيا ومعنويا. 0,5
- إيجاد الملاجئ وجمع السلاح وصنعه في ورشات. 0,5
- تعويد المنخرطين على النظام والانضباط والطاعة والاجتهاد. 0,5
- تقسيم المناطق إلى نواحي. 0,5
- إنشاء شبكات الدعم : استخبارات، اتصالات، الدعم. 0,5
- تكوين أفواج وخلايا سرية، لا يعرف بعضها بعضا. 0,5

3. قررت مجموعة الاثنتين والعشرين في 25 جويلية 1945م :

- الاتفاق على حل حزب حركة الانتصار للحريات الديمقراطية. 0,5
- ضرورة انطلاق الثورة والإعداد لها حالا دون أي تأخير. 0,5
- انتخاب المسؤول الوطني وتعيينه للإشراف على تطبيق القرارات المتخذة، فعين "محمد بوضياف". 0,5

● تكليف المسؤول الوطني "بوضياف" بتعيين مساعديه. 0,5

الوضعية الإدماجية (04 نقاط)

1. اتهمت الثورة بأنها سوف ترمي بالأوروبيين إلى البحر بعد الاستقلال وبأن تمردتها نابع من فكرة الحرب الدينية بين المسلمين والكفار، وليست حربا من أجل التحرير الوطني والسيادة وهذه النصوص تؤكد عكس ذلك. 02
2. أما المحتوى الاجتماعي لسياسة الدولة بعد الاستقلال والذي يمس جانب الخدمات الاجتماعية، فيتمثل في الإصلاح الزراعي وديمقراطية التعليم وإجباريته والعلاج المجاني وسياسة تدعيم المواد الاستهلاكية ثم الضمان الاجتماعي والمساعدات الاجتماعية للمعوزين والبطالين والمنكوبين والأرامل والطلبة. 02

الجغرافيا (07 نقاط)

إجابة الأسئلة (04 نقاط)

1. أهم المشاكل التي تسبب فيها النمو السريع للسكان في الجزائر هي : $0,5 \times 7$

- انخفاض حصة الفرد من الدخل الوطني.
- انخفاض مستوى المعيشة.
- انخفاض مستوى الخدمات العامة : صحة، مواصلات، تعليم...
- انتشار البطالة في أوساط الشباب القادرين على العمل.
- النزوح الريفي نحو المدينة بحثا عن العمل والخدمات.
- البيوت القصديرية حول المدن وبعض المصانع.
- ازدحام المدن وظهور بعض الآفات الاجتماعية المختلفة.

2. المشاكل التي تسبب فيها النزوح الريفي هي : $0,5 \times 4$

- اكتضاض المدن وازدحام الحركة بها.
- ظهور المساكن القصديرية حول المدن وبداخلها.
- انخفاض مستوى الخدمات الاجتماعية (العرض أقل من الطلب).
- البطالة وانخفاض مستوى المعيشة.

3. قائمة احتياطي الطاقة المتجددة في الجزائر : $0,5 \times 5$

● البترول : يقدر احتياطي البترول بـ : 2,5 مليار طن قابل للزيادة نظرا لاكتشاف آبار جديدة من فترة لأخرى.

● الغاز الطبيعي : يقدر احتياطي الغاز الطبيعي بحوالي : 3650 مليار متر مكعب.

● الفحم الحجري : الكمية الاحتياطية من الفحم الحجري كبيرة ولكنها غير مقدر.

● الطاقة الكهربائية : 90% منها تنتجها المحطات البترولية والغازية. 10% تنتجها السدود في بلادنا.

● الطاقة النووية : إنتاجها مخصص إلى حد الآن للبحث العلمي.

الوضعية الإدماجية (03 نقاط)

يمكن هذا المشروع الجزائر من تزويد كل بلدان أوروبا الغربية التي تشتري غاز

الجزائر، مما يضمن لها دخلا ثابتا من العملة الصعبة. $0,5$

وقد سجل انخفاض ملموس في تكاليف النقل التقليدي، فازدادت قدرة الجزائر في تزويد

السوق الأوروبية وفي منافسة الغاز الروسي في عقر داره. الأمر الذي أكسبها ورقة ضاغطة

على هذه الدول وعزز من مواقفها السياسية. 02

وتستفيد أوروبا من نفس المزايا التي تستفيد منها الجزائر، إضافة إلى ضمان التزود

بالطاقة دون انقطاع أو مشاكل. $0,5$

النصوص

الموضوع التاسع 9

التاريخ (13 نقطة)

الأسئلة (09 نقاط)

1. بعد مجازر 08 ماي 1945م غير الجزائريون أسلوب نضالهم، فأصبحوا أكثر جدية وفعالية في التعامل مع السلطات الاستعمارية.
ما هو موقف السلطات الاستعمارية من هذا الأسلوب الجديد ؟
2. من بين القرارات التي اتخذتها حركة الانتصار للحريات الديمقراطية في مؤتمرها المنعقد بتاريخ فيفري 1947م، إنشاء منظمة سرية قصد الإعداد للعمل المسلح.
ما هي الشروط المطلوبة للانضمام إلى هذه المنظمة ؟
3. كان الاجتماع الذي عقدته لجنة "الستة" ببلدية "الرايس حميدو" غرب العاصمة يوم 23 أكتوبر 1954م من أجل اتخاذ قراراتين هامتين. ما هما ؟

الوضعية الإدماجية (04 نقاط)

السند :

- قال **ديدوش مراد** : «إن الشعب اليوم أشبه بعصف يابس، لا ينتظر سوى النار ليشتعل. يجب إلقاء عود ثقاب أيها الإخوة، يجب إلقاء عود ثقاب».
- وعرض بعضهم مشكلة الوسائل، فرد عليه "**ديدوش مراد**" قائلاً : «إذا كنت تملك رصاصتين لبندقيتك، فإنهما كافيتان لتستولي على سلاح عدوك. يجب أن نعطي الانطلاقة، وإذا استشهدنا فسيخلفنا آخرون يواصلون السير قدما نحو الاستقلال. يجب أن نشعل الفتيل، ومن أجل هذا فلسنا في حاجة إلى وسائل ضخمة».
- وقال **محمد العربي بن مهيدي** : «لإن السر هو قاعدة الحرب السرية، لا تتصلوا فرادى بأزيد من خمسة أشخاص دون أن يتعرف أعضاؤها عليكم».
- ثم عرض هذا الأفكار في اجتماع الاثنين والعشرين يوم 25 جويلية 1954م.

أرغيدى محمد حسين - مؤتمر الصومام وتطور ثورة التحرير الوطني - صفحة 56

السؤالان:

1. في هذه النصوص كثير من الأفكار الثورية الأساسية. فما هي الفكرة أو الفكرتان اللتان تأثرت بهما أكثر من غيرهما ؟ ولماذا ؟
2. **ديدوش مراد** رزقه الله الشهادة في الشهور الأولى من اندلاع الثورة. فما علاقة هذا الاستشهاد في ميدان القتال بمقولته : «إذا كنت تملك رصاصتين لبندقيتك، فإنهما كافيتان لتستولي على سلاح عدوك» . مع العلم أن الأجل بيد الله تعالى.

الجغرافيا (07 نقاط)

الأسئلة (04 نقاط)

1. ترتبت على النمو الديمغرافي السريع في بلادنا مجموعة من الاختلالات، أضرت بالتناسب بين النمو السكاني والنمو الاقتصادي.
فما هو الحل المناسب في رأيك لإحداث التوازن ؟
2. عدّد أهم المجهودات التي قامت بها الدولة لمعالجة مشكل النزوح الريفي.
3. قدر كميات الإنتاج السنوي من البترول والغاز الطبيعي في الجزائر.

الوضعية الإدماجية (03 نقاط)

1. نسب نمو المنتج الداخلي الخام.

د. عبد المجيد بوزيدي - تسعينيات الاقتصاد الجزائري

السنوات		القطاعات					
2000	1998	1997	1996	1995	1994	1993	
+6%	+4,6%	-39%	-7,9%	-1,4%	-4,4%	-1,3%	الصناعة
+9,5%	+11,4%	-14%	+19,5%	+15,0%	-9,0%	-3,7%	الفلاحة
+5%	+2,4%	+2,0%	+4,5%	+2,7%	-0,9%	-4,0%	البناء والأشغال العمومية
+4,5%	+3,5%	+5,2%	+7%	+1%	-2,5%	-0,8%	المحروقات

السؤال : ادرس هذا الجدول وبيّن متى بدأ تحقيق نمو اقتصادي إيجابي وهل كان ذلك كافيا. ثم وضّح إلى ما يعود هذا التحسن في نظرك.

2. حصص القطاع الخاص في القيمة المضافة الصناعية خارج المحروقات.

النسب المئوية		الفروع
2000	1989	
6%	13,8%	المناجم والمحاجر
34,1%	12,6%	مواد البناء
23,8%	24,3%	الكيمياء، الكاوبيتشو، البلاستيك
76,2%	52,5%	المواد الغذائية الفلاحية
83,0%	31,4%	الجلود والأحذية
45,6%	25,1%	الخشب - الفلين - الورق
43,5%	45,4%	الصناعات المختلفة
36,8%	25,9%	المجموع الصناعي الخام خارج المحروقات

السؤال : أقم مقارنة بين القطاع العام والقطاع الخاص، وما هي أوجه الاختلاف التي تعكسها أرقام ومعطيات الجدول الثاني.

الحلول

الموضوع التاسع 9

التاريخ (13 نقطة)

إجابة الأسئلة (09 نقاط)

1. لم تغير السلطات الاستعمارية من أسلوبها المعتاد :

ففي الجانب السياسي قامت ببعض الإصلاحات الشكلية لامتناس غضب الحركة الوطنية تتمثل

في : 01

● إصدار دستور سنة 1947م. 0,5

● تقسيم الجزائر إلى ثلاث ولايات : الجزائر، قسنطينة، وهران. 0,5

● إجراء عدة انتخابات بلدية، شاركت فيها بعض الأحزاب الوطنية وحصلت على بعض المقاعد.

..... 0,5

وقد تلوثت هذه الانتخابات بالتزوير لصالح المستوطنين الأوروبيين. والأدهى أن دستور 1947م

اعتبر الجزائر "أرضا فرنسية". 01

أما في الجانب العسكري فقد سعت إلى : 0,5×5

● قمع الشخصيات السياسية الفعالة.

● مراقبة نشاط الأحزاب عن كثب.

● حل الأحزاب الفعالة ذات الاتجاه الاستقلالي.

● سجن المناضلين البارزين، ذوي التأثير الكبير.

● بث الجواسيس في أوساط الأحزاب والجمعيات.

2. للانضمام إلى المنظمة يجب : 0,5×3

● أن يكون المنخرط من مناضلي الحزب منذ مدة معقولة.

● أن يكون ذا أخلاق وسيرة وسمعة طيبة.

● أن يكون شجاعا ومحبا لوطنه.

3. القراران الهامان اللذان اتخذا في 23 أكتوبر 1954م هما تحديد تاريخ اندلاع الثورة، حيث

تقرر أن يكون يوم أول نوفمبر 1954م، وإعطاء تسمية جديدة للحركة؛ وفي هذا الصدد يقول

السيد محمد بوضياف : «وفي الأخير قررنا تسمية التنظيم السياسي بجهة التحرير الوطني،

والتنظيم العسكري بجيش التحرير الوطني». 1,5

الوضعية الإدماجية (04 نقاط)

1. إن الفكرة التي أثرت في نفسي أكثر من غيرها هي التي احتوتها هذه المقولة : «إذا كنت تملك رصاصتين في بندقيتك فإنهما كافيتان لتستولي على سلاح عدوك».

فهذه المقولة تظهر شجاعة **ديدوش مراد** وبطولته وعلو هيمته. لأنه عاقد العزم من البداية على انتزاع السلاح من العدو الاستعماري الغاصب وهذا لعمرى ليس بالأمر الهين، السهل المنال، وإنما هو أمر يحتاج إلى قوة جسدية كبيرة وقوة معنوية لا تقهر. وقد كانت مقولته هذه شعار كثير من المجاهدين فيما بعد، ساعدتهم على تسليح أنفسهم على حساب العدو. 02

2. يبدو أن سبب استشهاد **ديدوش مراد** في الشهور الأولى من اندلاع الثورة هو دفعه بنفسه في كل مرة يلتقي فيها بجيش العدو لانتزاع أكبر عدد ممكن من قطع السلاح لتسليح مجموعته وفرق زملائه. مع العلم أن السبب الأكبر هو الأجل، فرحم الله الشهيد **ديدوش مراد** وجميع من سار على دربه. 02

الجغرافيا (07 نقاط)

إجابة الأسئلة (04 نقاط)

1. توجد عدة حلول لخلق التوازن منها : 0,25×8

- ضرورة التخطيط العائلي عن طريق التنظيم الأسري (تباعد الولادات).
- توفير الدولة الوسائل الصحية من أجل تطبيق برنامج التخطيط الأسري.
- تحسين الخدمات الصحية التي تتناسب والتخطيط العائلي.
- تحسين الدخل الفردي عن طريق تحسين النمو الاقتصادي.
- رفع مستوى التعليم.
- رفع مستوى الوعي الصحي.
- تحقيق التوازن الجهوي بين الأرياف والمدن.
- تشجيع الدولة الأسر التي تحترم التخطيط العائلي ماديا.

2. لمعالجة مشكل النزوح الريفي عملت الدولة على : 0,25×6

- بناء المساكن بوتيرة وحجم كبيرين.
- إعطاء الأراضي للفلاحين قصد تشجيعهم على الاستقرار في الريف.
- امتصاص البطالة بالتشغيل الدائم والمؤقت والفصلي.

- تشجيع تكوين الجمعيات الحرفية والصناعية والتجارية الصغيرة.
- توفير السكن ذا الكراء المعتدل للقضاء على الأحياء القصدية.
- تقديم المساعدات الاجتماعية للفئات الفقيرة والمعوزة.

3. كميات الإنتاج السنوي من البترول والغاز الطبيعي في الجزائر : $0,25 \times 2$

- البترول : قدر إنتاجه سنة 2005م بـ 77,12 مليون طن.
- الغاز الطبيعي : بلغ إنتاج الجزائر سنة 2002م ما يساوي 79,3 مليار متر مكعب، ووصل الإنتاج سنة 2005م إلى 152 مليار متر مكعب.

الوضعية الإدماجية (03 نقاط)

1. نلاحظ من دراسة هذا الجدول أن هناك تحقيقا لنمو اقتصادي إيجابي ابتداء من 1995م بعد الركود الاقتصادي الذي ظل سائدا إلى غاية هذا التاريخ. غير أن النمو الاقتصادي المسجل إلى غاية 2000م (آخر ما توفر لدينا من معلومات) لا يزال غير كاف، إذ يركز على المحروقات والفلاحة وإنتاجهما يصدر إلى الخارج.

ويعود هذا التحسن إلى تبني برنامج الاستقرار الاقتصادي الشامل، ولإصلاح الهيكل العميق الذي طبق ابتداء من 1994م. $1,5$

2. من خلال النسب المئوية التي تبين تطور الإنتاج حسب الفروع المذكورة، نلاحظ تطور هام في نسبة مشاركة القطاع الخاص، وهذا أمر يدعو إلى الغبطة والسرور. ويبدو تفوق القطاع الخاص على القطاع العمومي بارزا وبشكل خاص في فروع المواد الغذائية والجلود والأحذية. كما يبرز الجدول أن القطاع الخاص تخصص في فروع الصناعة الخفيفة الكثيرة الاستهلاك والأرباح.

وعليه نستنتج أن القيمة المضافة التي حققها القطاع الخاص، دليل على نجاحه ونجاح الوطن والدولة. $1,5$

النصوص

الموضوع العاشر 10

التاريخ (13 نقطة)

الأسئلة (09 نقاط)

1. في منتصف ليلة أول نوفمبر 1954م نفذ مسؤولو المناطق الخمس ما تمّ الاتفاق عليه، وهو بداية الثورة التحريرية ضد الاستعمار الفرنسي في الجزائر.
اذكر القادة الذين أشعلوا نار الحرب في المناطق الخمس.
2. بماذا تميز الكفاح المسلح في عامه الأول على المستوى الداخلي؟
3. اذكر الصعوبات التي واجهتها الثورة في الميدان.

الوضعية الإدماجية (04 نقاط)

1. السند: مجاهدوا الساعة الأولى (نوفمبر 1954م)

«.. أحسن دليل على التزامهم وانضباطهم وحماسهم، وروح التضحية لديهم لإيمانهم بما هم مقدمون عليه، هو ذلك التنسيق المحكم للأعمال، والتنفيذ الصارم في الجملة لما تقرر، والدقة في مراعاة التوقيت الملتزم به. من أريس وإشمول شرقا إلى سيدي علي وتارفة غربا، في الساعة الواحدة والدقيقة الواحدة من الليلة الواحدة، مما كان أكثر إثارة للدهشة والاستغراب والفرع عند الاستدمار (الاستعمار). كما سنرى في ردود الصحافة الفرنسية في الجزائر وفرنسا، التي سمت ما حدث ليلة أول نوفمبر بالزلزال».

السؤال: قدّم الكاتب وصفا يتعلق بالخصال الحميدة للمجموعة الأولى التي فجرت الثورة التحريرية الكبرى ليلة الفاتح من نوفمبر. فما هي هذه الخصال؟

2. السند:

نوفمبر جلّ جلالك فينا	ألست الذي بث فينا اليقينا؟
سبحنا على لجج من دمنا	وللنصر رحنا نسوق السفينا
وثرنا، نفجر نارا ونورا	ونصنع من صلبنا الثائرينا
ونلهم ثورتنا مبتغانا	فتلهب ثورتنا العالمينا..

شغلنا الورى وملأنا الدنيا
بشعر نرتله كالصلاة
تسابيحه من حنايا الجزائر

مرجع السندين: مولود قاسم نايت بلقاسم - ردود الفعل الأولية داخلا وخارجا على غرة نوفمبر

أو بعض مآثر فاتح نوفمبر - صفحة 52 - دار البعث - قسنطينة 1983م

السؤال : اعتبر المعمرون اندلاع الثورة ليلة الفاتح نوفمبر بمثابة الزلزال المخرب. فكيف يعتبره شاعر الثورة ؟

الجغرافيا (07 نقاط)

الأسئلة (04 نقاط)

1. تلعب الزراعة دورا هاما في الاقتصاد الجزائري، غير أن الأرض الصالحة للزراعة لا تحتل سوى نسبة بسيطة من المساحة الكلية.

اذكر مختلف الإصلاحات التي قامت بها الدولة لتحسين استغلال هذا القطاع، مع ذكر المبادئ التي قامت عليها الثورة الزراعية.

2. اذكر المواد الفلاحية الأساسية التي تعاني فيها الجزائر عجزا ملحوظا في الإنتاج.

3. يعتبر القطاع الصناعي في الجزائر الحجر الأساسي في التنمية الشاملة، ويقوم على قاعدة استراتيجية متطورة. اذكر مراحل هذه الاستراتيجية.

الوضعية الإدماجية (03 نقاط)

السند : «... من أهم المبادئ التي ينص عليها قانون الثورة الزراعية :

- تنظيم الانتفاع من الأراضي ووسائل فلاحتها بشكل يؤدي إلى تحسين الإنتاج.
- التوزيع العادل للدخل الزراعي.
- قيام الدولة بتجميع الفلاحين قصد الاستغلال المشترك للأرض ووسائل الإنتاج الزراعي.
- تنظيم الدولة للإنتاج والتسويق والتجهيز والاستثمار.

وينص قانون 1987/07/08م على تنظيم المستثمرات الفلاحية. المادة 43 من قانون هذه

المستثمرات تقول : «لا حق لأحد أن يتدخل في إدارة وتسيير المستثمرات الفلاحية الفردية والجماعية».

Les Céréales et la Sécurité Alimentaire en Algérie – Farid Abdouche

Les Editions El Hikma-Alger 2000-p 30

السؤال : قم بمقارنة النظام التعاوني في إطار الثورة الزراعية بالنظام الجديد في إطار المستثمرات الفردية والجماعية.

الحلول

الموضوع العاشر 10

التاريخ (13 نقطة)

إجابة الأسئلة (09 نقاط)

1. القادة الذين أشعلوا نار الحرب في المناطق الخمس هم :

أرقامها	أسماء المناطق	أسماء القادة	
0,5	1	منطقة أوراس النمامشة	مصطفى بن بولعيد
0,5	2	منطقة الشمال القسنطيني	ديدوش مراد
0,5	3	منطقة القبائل الكبرى	كريم بلقاسم
0,5	4	منطقة الجزائر العاصمة وضواحيها	رابح بيطاط
0,5	5	منطقة وهران	محمد العربي بن مهيدي
0,5		التنسيق	محمد بوضياف

2. تميز الكفاح المسلح في عامه الأول على المستوى الداخلي بما يلي : $0,5 \times 7$

- تعاطف الشعب الجزائري بجميع شرائحه مع الثورة، باستثناء بعض السياسيين الأنانيين المتشبهين بالأفكار المتجاوزة.
- مطالبة الشباب الانضمام إلى صفوف الثورة للمشاركة فيها.
- استشهاد عدد من أبطال الثورة أمثال ديدوش مراد، واعتقال البعض الآخر أمثال مصطفى بن بولعيد و رابح بيطاط.

- إنشاء جريدة المقاومة، لنشر أخبار الثورة وسياستها.
- قيام سكان المدن بمقاطعة شركات التبغ والخمور.
- القيام بإضرابات بأمر من قادة الثورة.
- تنظيم هجوم الشمال القسنطيني في 20 أوت 1955م.

3. الصعوبات التي واجهتها الثورة في الميدان : $0,25 \times 7$

- قلة السلاح وضعف التدريب عليه.
- قلة الأموال لشراء السلاح.
- تطبيق السلطات الاستعمارية لقانون الطوارئ ومراقبة التحركات.

- ضعف التنظيم العسكري في الوحدات القتالية.
- ضعف الاتصالات بين المناطق لعدة أسباب.
- استشهاد عدد من القادة والقبض على البعض الآخر.
- تشديد الضغط على منطقة الأوراس من طرف الجيوش الاستعمارية الثلاثة. 0,75

الوضعية الإدماجية (04 نقاط)

1. خصال المجاهدين الأوائل حسب وصف الكاتب هي : الانضباط، الحماس، روح التضحية، الإيمان بحتمية الثورة وانتصارها، احترام التوقيت المتفق عليه لتفجير الثورة، التنسيق المحكم والتنفيذ الصارم للبرنامج المتفق عليه. 01
 2. اعتبر المعمرون الثورة زلزالا لشعورهم بأنها ستقضي على النظام الاستعماري الذي شيده على الظلم والاستغلال والإجرام، الأمر الذي حدث فعلا. 01
- أما الشاعر الجزائري **مفدي زكرياء**، شاعر الحركة الوطنية الجزائرية منذ نشأتها ثم شاعر الثورة المباركة، فقد اعتبر ليلة أول نوفمبر بمثابة قبس من نور أضاء ليل الجزائر الدامس – في ذلك العهد – وبشر بعهد جديد مشرق، عهد الاستقلال والحرية. 01

الجغرافيا (07 نقاط)

إجابة الأسئلة (04 نقاط)

1. لم تتوقف الدولة منذ 1963م عن إدخال إصلاحات تلو أخرى في القطاع الزراعي أهمها :
..... 0,25×8

- التسيير الذاتي في 1963م.
- الثورة الزراعية ابتداء من 1971م وقامت على مجموعة من المبادئ.
- قانون استصلاح الأراضي الزراعية لعام 1983م.
- ومن المبادئ التي قامت عليها الثورة الزراعية :
- القضاء على الاستغلال بتطبيق مبدأ «الأرض لمن يخدمها».
- تنظيم الانتفاع من الأرض ووسائل فلاحتها بشكل يؤدي إلى تحسين الإنتاج .
- التوزيع العادل للدخل الزراعي.
- قيام الدولة بتجميع الفلاحين قصد الاستعمال المشترك للأرض ووسائل الإنتاج الزراعي.
- تنظيم الدولة للإنتاج والتسويق ووالتهيز والاستثمار.

2. المواد الفلاحية الأساسية التي تعاني فيها الجزائر عجزا ملحوظا في الإنتاج هي :

القمح، الذرة، الشعير، اللحوم الحمراء، السمك المجفف، الزيتون، الحليب، البقول الجافة، القصب السكري والشمندر، التين وكل الفواكه الصالحة لصناعة المصبرات الغذائية.....01

3. القاعدة الاستراتيجية التي يقوم عليها القطاع الصناعي في الجزائر هي :01

- تأميم المناجم، البترول والغاز.
- إنشاء شركات وطنية في القطاعات المختلفة.
- اعتماد التخطيط المركزي لتوجيه الاقتصاد ومراقبته.
- إعطاء الأولوية في الاستثمارات للصناعات.
- التركيز على الصناعات المصنعة.
- تشجيع القطاع الخاص للاستثمار في الوحدات الصغرى والمتوسطة.
- إعطاء الأولوية في الإنتاج للاستهلاك المحلي أي لاحتياجات المواطنين الأساسية.

الوضعية الإدماجية (03 نقاط)

النظام التعاوني و الإنتاجي في إطار الثورة الزراعية تتكفل به الدولة عن طريق موظفي الثورة الزراعية. إذ تقوم الدولة بتجميع الفلاحين في تعاونيات إنتاجية، وتوفر الوسائل والخطط الإنتاجية ونوع الإنتاج، إضافة إلى قيامها بتحديد الأسعار وتسويق المنتج. فمسؤولية المتعاونين الفلاحين ضمن هذا النظام محدودة.1,5

أما المستثمرة سواء كانت فردية أو جماعية، فيتولى أعضاؤها مسؤولية التسيير ولا تتدخل الدولة في تحديد نوع الإنتاج وطريقة العمل ووسائله، كما لا تتدخل في الأسعار، فالسوق حرة تماما. إذ تكفي فقط بتحصيل إيرادات الكراء والضريبة، وتقديم القروض عند اللزوم.1,5

النصوص

الموضوع الحادي عشر 11

التاريخ (13 نقطة)

الأسئلة (09 نقاط)

1. في منتصف ليلة أول نوفمبر 1954م انطلقت الشرارة الأولى للثورة الجزائرية فاستثار هذا الحدث التاريخي ردود أفعال كثيرة.
صف ردود الفعل الصادرة عن الطرف الجزائري.
2. حدّد الأهداف الداخلية لهجومات 20 أوت 1955م.
3. ما هي أهم الإجراءات التي اتخذتها السلطات الاستعمارية لتواجه امتداد نشاط الثورة في الداخل وفي الخارج؟ .

الوضعية الإدماجية (04 نقاط)

السند: عشية هجومات 20 أوت 1955م هدّد وزير الداخلية الفرنسي بقمع الانتفاضة بكل قوة وأضاف قائلا : «بأن الحكومة الفرنسية قدمت احتجاجا إلى كل من مصر وإسبانيا». أما حاكم الجزائر روبر لاكوست (Lacoste) المعروف بمواقفه المتطرفة، فقد ألقى خطابا قال فيه : «إن الحكومة ستحارب، وإن فرنسا ستناضل من أجل بقائها في الجزائر، وإنها ستبقى هناك، إن الجزائر لا مستقبل لها بدون فرنسا».

عمار بحوش - العمال الجزائريون بفرنسا - صفحة 117 - أورده أزعدي محمد لحسن في مؤتمر الصومام

وتطور ثورة التحرير الوطني صفحة 102

السؤال: ماذا تستنتج من هذا التصريح المحتج لدى مصر وإسبانيا؟

«إن الجزائر لا مستقبل لها بدون فرنسا!» ما تعليقك على هذا الاستهتار التنبئي لهذا المتطرف الاستعماري؟

الجغرافيا (07 نقاط)

الأسئلة (04 نقاط)

1. قامت الدولة الجزائرية بعدة إصلاحات في القطاع الزراعي قصد تحسين الإنتاج ورفع مستوى المنتجين والمستهلكين في آن واحد.
قيم مدى تحقيق هذه الإصلاحات لأهدافها المسطرة.

2. في إطار العملية التصنيعية الشاملة، ما هي أهم الصناعات التي وقع عليها التركيز أكثر من غيرها؟

3. حدّد النسبة المئوية - الأقرب إلى الواقع - التي تستوردها الجزائر سنويا من المواد الغذائية التالية : الحبوب، الحليب، السكر، الزيوت النباتية.

الوضعية الإدماجية (03 نقاط)

نضع أمامك جدولا لأنواع وكميات المستهلكات الغذائية من سنة 1967م إلى سنة 1988م.
(الوحدة : كيلوغرام للفرد الواحد في السنة).

هذا الجدول يمثل عينة تصلح للمقارنة حتى في أيامنا هذه ولو أن المعطيات قد تغيرت قليلا من حيث الكم.

السنوات	1968 - 1967	1980 - 1979	1988 - 1981
الحبوب	217%	186%	220%
الخضر الجافة	3,4%	83%	5,8%
السكر	14%	16%	22,1%
اللحوم الحمراء	9%	11,5%	11,5%
اللحوم البيضاء	0,6%	4,5%	10,8%
البيض	0,5%	1,1%	3,1%
السّمك	1,3%	2,2%	3,4%
الخضر الطازجة	59,5%	90,2%	187,2%
البطاطا	22%	34,5%	41,2%
الفواكه	28%	33%	34,2%
الحليب ومشتقاته	34%	65%	78,4%
الزيوت	8%	15%	15,5%

Farid Abdouche - Les Céréales et la Sécurité Alimentaire en Algérie

Les Editions El Hikma-Alger 2000-p 30

السؤال : ادرس هذا الجدول واستخرج المميزات الأساسية للوجبة الجزائرية، وأعط رأيك فيها.

1. ردود الفعل الصادرة عن الطرف الجزائري بخصوص بداية الثورة : $0,5 \times 7$
- تلقي الشباب الجزائري الخبر بفرح عظيم وأمل باسم.
 - إقبال الناس على شراء الجرائد والاستماع للإذاعات ونقل أخبارها.
 - تهليل المناضلين المخلصين وعودة الأمل إليهم.
 - أحمد مصالي الحاج وأتباعه لم يوافقوا على اندلاع الثورة.
 - الاتحاد الديمقراطي للبيان الجزائري الذي يتزعمه فرحات عباس كان لا يزال يؤمن بالحلول السياسية.
 - جمعية العلماء رحبت ببداية الثورة بعد قليل من التردد.
 - الحزب الشيوعي كان ضد القيام بالعمل المسلح.
2. الأهداف الداخلية لهجومات 20 أوت 1955م هي : $0,5 \times 7$
- فك الحصار على المنطقة الأولى (الأوراس).
 - إعطاء الدليل على قوة الثورة وشعبيتها.
 - رفع معنويات المجاهدين والمواطنين.
 - إجهاض سياسة سوستيل الإغرائية وصرف الشعب عنها.
 - دعوة الشخصيات والأحزاب السياسية المترددة للانضمام إلى الثورة.
 - تكذيب دعاة الاستعمار بكون الثورة مرتبطة بدول أجنبية.
 - انتزاع الأسلحة من العدو لحاجة الثورة إليها.
3. الإجراءات التي اتخذتها السلطات الاستعمارية هي : $0,25 \times 8$
- القيام بالدعاية على نطاق واسع في الداخل والخارج ضد الثورة لتشويه سمعتها.
 - تسليح الموظفين الأوروبيين بدعوى الدفاع عن النفس.
 - رفع المعدات العسكرية : البرية والبحرية والجوية.
 - القيام بعمليات عسكرية تمشيطية للقمع والإرهاب والتهديد.
 - تعيين الجنرالات الأكثر وحشية في القمع والقتل.

- تكثيف عمليات الاعتقال والاستنطاق في صفوف المواطنين.
- إصدار قانون الطوارئ (تقييد حركة التنقل).
- نشر الخونة في صفوف المواطنين بأعداد كبيرة، ودعوة الاحتياطين من المستوطنين الأوروبيين.

الوضعية الإدماجية (04 نقاط)

1. هذا التصريح يعبر عن السياسة الرسمية للدولة الفرنسية والمستوطنين الأوروبيين في الجزائر، فقد اتهموا مسؤولي الثورة الجزائرية بأنهم عملاء للدول الأجنبية مثل روسيا ومصر ويوغسلافيا وكوريا والصين لتأييد هذه الدول للثورة الجزائرية. والهدف من ذلك نزع الطابع الوطني والشعبي عن قادة الثورة وأتباعهم، فعاملوا الجميع معاملة الخونة، وقتلوا وعذبوا وسجنوا دون مراعاة للأخلاق والقوانين والأعراف المتعامل بها في الحروب. 02

إن أسلوب الاستعماريين يكاد يكون واحدا، فهم يعتقدون أن الشعب الجزائري مصاب بمرض القصور الذاتي، وأنه لا يستطيع أن يعيش حرا دون حماية الأجنبي. وهم كاذبون في اعتقادهم هذا، والدليل على ذلك حصول الجزائر على استقلالها واسترجاعها لحقها في تسيير شؤونها دون حاجة إلى وصاية. وهي الآن سائرة في طريق التقدم والتحضر بخطى ثابتة و بوتيرة مقبولة. وقد تمكنت من بناء علاقات دولية متينة وعلى أساس الاحترام المتبادل والمساواة. 02

الجغرافيا (07 نقاط)

إجابة الأسئلة (04 نقاط)

1. من الأهداف التي حققتها هذه الإصلاحات نجد : $0,5 \times 7$

- توسيع نسبة الأراضي المستغلة توسعا ملحوظا.
- مكننة الزراعة بنسبة مقبولة وإن لم يكن بالقدر الكافي.
- تسوية الوضعيات العقارية بنسبة كبيرة.
- رفع الإنتاج وتحسين نوعيته وانخفاض أسعاره عموما.
- استيعاب الفلاحة لأعداد إضافية من اليد العاملة.
- الاقتراب من التصدير والمنافسة في بعض المواد الزراعية.

● إصلاح النظام البنكي وإعادة النظر في سياسة القروض ونسب الفائدة.

2. أهم الصناعات التي وقع عليها التركيز : $0,25 \times 5$

● الصناعات الغذائية : دقيق، عجائن، حليب ومشتقاته، الزيتون، السكر.

● صناعة النسيج والجلود، تكرير البترول وتمييع الغاز.

● صناعة الحديد والصلب وأهم مركباته : مركب الحجار بعنابة.

● الصناعات الميكانيكية : إنتاج السيارات، الشاحنات، الجرارات، المقطورات، الآلات الفلاحية وقطع الغيار.

● الصناعات البتروكيمياوية : صناعة مشتقات البترول والغاز، البلاستيك، المطاط، الأسمدة، الأدوية والمبيدات.

3. النسب المئوية التي تستوردها الجزائر سنويا من المواد الغذائية التالية :

● الحبوب 50% $0,5 \times 7$

● الحليب 60%

● السكر 95%

● الزيوت النباتية 95%

الوضعية الإدماجية (03 نقاط)

بعد تحليل المعطيات الرقمية يتبادر إلى الذهن أن الحبوب أكثر المواد استهلاكا في

الجزائر، وتبدو الكمية كافية، ثم تأتي الخضر الطازجة، ثم الحليب ومشتقاته. وتبدو كمية السكر

المستهلكة أكثر من اللحوم الحمراء والبيض والسمك. $0,75$

فالوجبة الغذائية الجزائرية حسب الجدول غير متوازنة، واستهلاك مادة السكر مرتفعة جدا، وهي

سبب انتشار مرض السكري في الجزائر انتشارا واسعا.

كما نلاحظ عجزا ملحوظا في مواد اللحوم، الأسماك، البيض، البقول، الزيوت والحليب، وهي مواد

أساسية للحفاظ على الصحة ولخلق التوازن الغذائي. $1,25$

أما أسباب هذا العجز فهي - بالخصوص - ضعف القدرة الشرائية لأغلبية السكان، وغلاء

المواد المذكورة.

ملاحظة: نصيب الفرد من استهلاك الحليب سنويا في 2007م يقدر بـ 115ل ولا تزال الكمية غير

كافية. $0,5$

النصوص

الموضوع الثاني عشر 12

التاريخ (13 نقطة)

الأسئلة (09 نقاط)

1. صف ردود الفعل الفرنسية غداة اندلاع الثورة التحريرية الجزائرية.
2. كيف كان موقف الدول الشقيقة والصديقة من تفجير ثورة أول نوفمبر 1954م ؟
3. عدّد الأهداف الخارجية لهجومات 20 أوت 1955م .

الوضعية الإدماجية (04 نقاط)

السند الأول :

في سنة 1844م سئل رؤساء منطقة القبائل لماذا دافعوا عن قراهم ضد جيش كامل بقيادة الجنرال السفاح **بيجو** (Bugeaud) فأجابوا : «كنا مستعدين أن نستسلم بعدما شاهدنا ذلك الجيش الجرار، إلا أن نساءنا اللواتي ساءهن ميلنا إلى طلب الصلح، أقسمن اليمين على أن يخرجن عن طاعتنا إذا لم ندافع عن أنفسنا مهما يكن من أمر».

La Grande Kabylie : Daumas – أورده مصطفى الأشرف في الجزائر الأمة والمجتمع صفحة 121

السند الثاني :

«نحیی بإخلاص ونقدر عالیا الشجاعة الثورية للفتيات والنساء الشابات والمتزوجات والأمهات وكل الأخوات المجاهدات اللاتي يشاركن بنشاط، وأحيانا سلاحهن بين أيديهن في الكفاح المقدس من أجل تحرير الوطن».

مشروع ميثاق الصومام

السند الثالث تزعمت **لالا فاطمة نسومر** في منطقة القبائل الثورة ضد فرنسا من 1851م إلى

1857م تصدت لعدة جنرالات بلغ عددهم اثني عشر (12)، أذاقتهم كثيرا من الهزائم. حتى لقبها البعض من مؤرخي فرنسا بجاندارك الجزائر.

أما خلال الثورة التحريرية الأخيرة 1954م – 1962م فحدث ولا حرج عن مشاركة النساء الجزائريات في الثورة.

السند الرابع

«إن فتيات القصب (العاصمة) قدمن خلال معركة الجزائر (La Bataille d'Alger) خدمات لا تقدر بثمن للثورة الجزائرية. لقد وجدنا لديهن كل مساعدة طلبناها بما في ذلك التطوع لوضع

القنابل أو إلقائها في تجمعات العدو. وهل هناك مهمة أخطر من هذه؟ الحقيقة أنهم لم يبخلن بشيء لصالح الكفاح المسلح.

وبما أن عدد المناضلات كثير يكفي أن نرسم إليهن ببعض من قمن منهن بأدوار كبيرة - على

سبيل المثال لا الحصر - سامية لخضاري، زهرة ظريف، جميلة بوحيرد، حسيبة بن بوعلي».

ياسف سعدي - معركة الجزائر - صفحة 283

السؤال : بعد تحليلك للنصوص، ما هو الحكم الذي تخرج به عن نساتنا الجزائريات؟

الجغرافيا (07 نقاط)

الأسئلة (04 نقاط)

1. حدّد المشاكل التي اعترضت الإصلاحات الزراعية وحالت دون تحقيق كامل أهدافها المسطرة.
2. ماذا يجب القيام به لتحقيق الأمن الغذائي للجزائر؟
3. كيف اتجه التخصيص بين القطاع العام والقطاع الخاص في استراتيجية العملية الصناعية في الجزائر؟

الوضعية الإدماجية (03 نقاط)

35%	إنتاج القمح الصلب	3400	المساحة (1000 هكتار)
16%	إنتاج القمح اللين	0,62	المردود (طن/هكتار)
45%	إنتاج الشعير	2,100	الإنتاج (1000 طن)

السؤال : نعرض عليك جدولاً لتركيبة الإنتاج الزراعي في الحبوب عندنا. وقد أخذت المعطيات

من كتاب الحبوب والأمن الغذائي في الجزائر لفريد عبدوش، صفحة 44.

ادرس الجدول وعلق على بياناته.

الحلول

الموضوع الثاني عشر 12

التاريخ (13 نقطة)

إجابة الأسئلة (09 نقاط)

1. ردود الفعل الفرنسية غداة اندلاع الثورة التحريرية الجزائرية : $0,5 \times 5$

- إصابة المستوطنين بالذعر والخوف والحيرة.
- الصحف والإذاعات أوردت الأخبار بتعاليق منددة ومطالبة باتخاذ إجراءات ضد «الخارجين عن القانون».
- إعداد المستوطنين أنفسهم لمواجهة الجزائريين.
- تكرار وزير الداخلية الفرنسي لمقولته الشهيرة «الجزائر جزء من فرنسا» ووعده باتخاذ إجراءات قمعية رادعة. إلى جانب اتخاذه لقرار إرسال مزيد من القوات العسكرية الإضافية.
- وعد رئيس الحكومة الفرنسية **منديس فرانس** (Mendès France) باتخاذ إجراءات لمحاربة «الخارجين عن القانون» بدون شفقة.

2. مواقف الدول الشقيقة والصديقة :

- مارست السلطات الفرنسية ضغوطها على الدول العربية لمنعها من الإعلان عن مواقف تأييدها للثورة الجزائرية، رغم ذلك لم يستجيب البعض منها لهذه الضغوطات كمصر، بفضل زعيمها **جمال عبد الناصر**.

01

- كانت مساهمة إذاعة صوت العرب من مصر إيجابية.

01

- اتسم موقف روسيا في بداية الثورة بالغموض.

0,75

- أيد مؤتمر باندونغ للدول الأفروآسيوية المنعقد في آفري 1955م القضية الجزائرية تأييدا فعالا.

0,75

3. الأهداف الخارجية لهجومات 20 أوت 1955م : $0,75 \times 4$

- تأكيد تضامن الثورة الجزائرية مع الشعب المغربي وملكه.
- لفت أنظار العالم نحو القضية الجزائرية قصد تدويلها رغم أنف فرنسا الاستعمارية.
- لفت أنظار دول الكتلة الأفروآسيوية للتضامن مع الثورة.
- لفت أنظار الدول الشقيقة والصديقة لرفع القضية الجزائرية إلى الجمعية العامة للأمم المتحدة.

الوضعية الإدماجية (04 نقاط)

السند الأول :

إن الدارس لتاريخنا عبر القرون، وليس فقط لتاريخ كفاحنا ضد الاستعمار الفرنسي، سيكتشف حقيقة ثابتة، هي كون النساء الجزائريات لا يقلن وطنية وشجاعة عن الرجال، بل يقفن إلى جانبهم ندا لند خاصة في معارك الدفاع عن الوطن. فكل انتقاص من شأنهن إذا هو إجحاف وظلم. فمن واجب المجتمع الجزائري اليوم أن ينصف المرأة وأن يعترف بجميع حقوقها بما في ذلك الحقوق السياسية.

04

الجغرافيا (07 نقاط)

إجابة الأسئلة (04 نقاط)

1. من المشاكل التي اعترضت الإصلاحات الزراعية : $0,25 \times 8$

- تعرض عملية تمليك الفلاحين للعديد من المشاكل.
- نسبة الأراضي المستصلحة ضعيفة.
- كون تقنيات الإنتاج دون المستوى المطلوب.
- وضعية المستثمرات لم تسوى نهائيا.
- ضعف التخطيط الزراعي، مما أدى إلى كساد بعض المنتوجات، وضعف الإنتاج وغلاء في بعض المواد الأساسية (البطاطا، اللحوم، الأسماك).
- عدم كفاية السدود لتطبيق تقنية الري المنتظم.
- نقصان العتاد الفلاحي وضعف القدرة على الصيانة.
- غلاء سعر الكهرباء المستعملة في الإنتاج.

2. لتحقيق الأمن الغذائي للجزائر يجب : $0,25 \times 7$

- تشجيع زراعة الحبوب والبقول بتقديم البذور الجيدة للفلاحين.
- وضع قائمة للمواد الاستراتيجية، وتشجيع الفلاحين بكل الوسائل لإعطائها الأولوية والقيام بإنتاجها.
- شراء الدولة الإنتاج من الفلاحين بأثمان مشجعة وذلك في إطار تدعيم بعض المنتوجات الاستراتيجية.

- تكوين الإطارات التقنية الفلاحية تكويننا عاليا لمساعدة الفلاحين بالخبرة التقنية.
 - تقديم قروض بفوائد مغرية لمن ينتجون المواد الفلاحية الاستراتيجية.
 - توزيع فسائل أشجار الزيتون على صغار الفلاحين في الجبال وتشجيع الزراعة الجبلية.
 - استصلاح الواحات الصحراوية وتشجيع الفلاحين على الاستقرار في الصحراء.
3. تخصصت الدولة في الفترة الأخيرة (بالخصوص) من اقتصاد السوق بالاستثمار في الوحدات الكبرى التي تحتاج إلى أموال ضخمة وتكنولوجيا عالية. أما الصناعات المتوسطة والصغرى، فقد تخلت عنها بشكل ملحوظ لفائدة القطاع الخاص. كما تخصص القطاع الخاص في الصناعات التقليدية والحرفية بكل ما تزخر به من أنواع وأنماط. 0,25

الوضعية الإدماجية (03 نقاط)

- يحتل القمح الصلب والقمح اللين والشعير 90% من الأراضي المزروعة، وهي مساحة كبيرة، غير أن محصول الهكتار الواحد لا يتعدى 0,62 طن، وهذا قليل، حيث أن إنتاج مليونيين ومئتي ألف غير كاف ويمكن مضاعفته ثلاث مرات. 0,5
- ونجد من جهة أن 70% منها لا تسقى بالقدر الكافي ولا تتلقى إلا حوالي 350mm سنويا، ومن جهة أخرى أن الاكتفاء بالأنواع الثلاثة المذكورة لا يكفي لخلق التوازن الاقتصادي الزراعي. 0,5
- وعليه نرى أن التكفل بجلب البذور المناسبة والجيدة والرفع من كميات التسميد ودعم أسعار الحبوب لدى المنتجين مباشرة واستعمال تقنية الري الجزئي ببناء المزيد من السدود والآبار لتعويض النقص في كمية التساقط، من شأنه أن يعالج هذا الاختلال ويخلق توازنا اقتصاديا. 02

النصوص

الموضوع الثالث عشر 13

التاريخ (13 نقطة)

الأسئلة (09 نقاط)

1. اذكر خمس نقاط من جدول أعمال مؤتمر الصومام المنعقد في إيفري أوزلافن في 20 أوت 1956م.
2. حققت الثورة الجزائرية بعد مؤتمر الصومام انتصارات عسكرية وسياسية أوقعت الرعب في قلوب جنرالات فرنسا. اذكر التدابير التي اتخذتها السلطات الاستعمارية بعد هذه الانتصارات للرفع من المعنويات المنهارة في معسكرها.
3. سجلت الدبلوماسية الجزائرية بعد مؤتمر الصومام، انتصارات سياسية عززت الكفاح المسلح وعجلت باستقلال البلاد. اذكر الوسائل التي استخدمتها ديبلوماسية الثورة الجزائرية لتحقيق هذه الانتصارات.

الوضعية الإدماجية (04 نقاط)

السند :

قام أحد الصحفيين الفرنسيين المرسلين لجريدة "المقاومة الجزائرية" بعد مؤتمر الصومام، بتحقيق في الولاية الثورية الثالثة جاء فيه : «إن الثورة الجزائرية أوجدت إدارتها الخاصة، إدارة سرية تأخذ الضرائب وتقضي بين الناس وتفصل في النزاعات. وبذلك صارت محكمة تيزي وزو خالية لا يقدم إليها أحد، وصار المحامون بدون قضايا يكتسبون منها، مما اضطرهم إلى طلب إعانة مالية من وزارة المال الفرنسية».

السؤال : ما قاله هذا الصحفي عن الولاية الثالثة ينطبق على ولايات الثورة الست. استعن بما أخذته من حقائق عن نتائج مؤتمر الصومام، واذكر باختصار المؤسسات الإدارية التي أنشأتها الثورة بعد مؤتمر الصومام.

الجغرافيا (07 نقاط)

الأسئلة (04 نقاط)

1. تعد شبكة المواصلات في الجزائر من بين أحسن الشبكات في العالم الثالث، وهو مؤشر جيد على السيوالة الاجتماعية والاقتصادية.

اذكر مختلف الشبكات التي يتكون منها قطاع المواصلات.

2. ما هي أهم الإجراءات التي طبقتها الجزائر لتسيير اقتصادها من 1981م إلى غاية 1989م،

حيث اضطررتها الظروف بعد ذلك لتغيير استراتيجيتها (الشروع في تأسيس السوق)؟

3. هناك ثلاثة عوامل طبيعية تؤثر سلبا على البيئة المحلية الجزائرية هي الجفاف، الانجراف

والتصحّر. حلل أسباب الظواهر الثلاث.

الوضعية الإدماجية (03 نقاط)

إليك بعض ملامح (صفات) أنواع التربة، حسب ما تبدو لعين الناظر، تأمل أنواعها ثم رتبها في

جوابك من الأصح إلى أقل صلاحية للزراعة.

أ - اللون الضارب للسواد : تتركز في ه المواد العضوية بكثرة.

ب - اللون الضارب للبنّي : تتركز فيه المواد العضوية بكمية أقل.

ج - اللون الضارب للحمرة والزرقة : تتركز فيه المواد الكيماوية : الحديد.

د - اللون الضارب للبياض : تتركز فيه الأملاح المعدنية.

د. يوسف عبد المجيد فايد - جغرافيا المناخ والنبات - صفحة 280

دار النهضة العربية للطباعة والنشر - بيروت 1979

السؤال : حدّد الأنواع الأكثر ملاءمة للزراعة.

الحلول

الموضوع الثالث عشر 13

التاريخ (13 نقطة)

إجابة الأسئلة (09 نقاط)

1. النقاط الخمس من جدول أعمال مؤتمر الصومام المنعقد في إيفري أوزلاثن في 20 أوت 1956م هي :

● تقديم التقرير : نظامي، عسكري، مالي. 01

● توحيد النظام وتقسيم البلاد إلى مناطق. 0,5

● تنظيم جيش التحرير الوطني : الألقاب والرتب. 0,5

● توضيح العلاقة بين جبهة التحرير وجيش التحرير، ونظام العمل : عسكريا، سياسيا وماديا.

..... 0,5

● المفاوضات مع فرنسا وشروطها. 0,5

2. التدابير التي اتخذتها السلطات الاستعمارية هي :

● اللجوء إلى المخططات العسكرية الرهيبة. 01

● تجنيد فرق خاصة من المستوطنين الأوروبيين. 0,5

● إنشاء خط موريس على الحدود الجزائرية التونسية. 0,5

● تجنيد الجزائريين إجباريا وتشجيع الخونة الجزائريين على التطوع. 0,5

3. الوسائل التي استخدمتها ديبلوماسية الثورة الجزائرية هي :

● تنظيم وتجنيد المنظمات الجماهيرية كسند كبير للثورة. 0,5

● وسائل الإعلام : صحف (المجاهد - المقاومة)، إذاعة صوت الجزائر، صوت العرب من

القاهرة. 0,5

● صحف البلدان الشقيقة والصديقة. 0,5

● الوفد الخارجي لجبهة التحرير الوطني ونشاطه المكثف في جميع الاتجاهات. 01

● مقابلات رياضية مع الدول الشقيقة والصديقة عن طريق فريق جبهة التحرير الوطني. 0,5

● التحرك عبر المنظمات الدولية : الجامعة العربية، مؤتمر الأفروآسيوي، الأمم المتحدة. 0,5

الوضعية الإدماجية (04 نقاط)

أنشأت الثورة بعد مؤتمر الصومام مؤسسات عملت على تسيير شؤون الشعب الجزائري الإدارية، وذلك في نطاق المجالس الشعبية التي كانت تسيير تسييرا جماعيا وتتولى مهام العناية بأحوال السكان المدنية والشرعية، وتسيير الشؤون المالية التي أصبح دخلها مشجعا جدا. إلى جانب الاهتمام بالاستعلامات، الدعاية، التنظيم العمومي والشرطة والأمن.01

كما قامت بإنشاء محاكم شرعية تحل جميع النزاعات، تستمد أحكامها من الشريعة الإسلامية، فصارت بذلك المحاكم الفرنسية مهجورة من طرف الجزائريين.

وقد قال الكاتب **أزغيد محمد لحسن** في كتابه مؤتمر الصومام وتطور ثورة التحرير الوطني الجزائرية: «لقد استطاع مؤتمر الصومام إقامة إدارة جزائرية، تمكنت الثورة من خلالها بمحاصرة الإدارة الاستعمارية، التي انصرف عنها الشعب، وهذا في حد ذاته انتصار للثورة».

01.....

الجغرافيا (07 نقاط)

إجابة الأسئلة (04 نقاط)

1. الشبكات التي يتكون منها قطاع المواصلات :

● الطرق البرية : الوطنية والولائية والبلدية، طريق الوحدة الإفريقية الرابط بين دول الساحل الإفريقي والجزائر.0,25

● السكك الحديدية : التي تربط مدن الشمال، وتعتبر الجزائر من أهم الدول الإفريقية في هذا النوع من المواصلات.0,25

● النقل الجوي : وتمتلك الجزائر 55 مطارا منها 12 مطارا دوليا، وأسطولا جويا بحوالي 60 طائرة مدنية.0,5

● النقل البحري : هناك 12 ميناء مستعملا للنقل البحري إلى جانب الموانئ الخاصة بالمحروقات.0,5

2. أهم الإجراءات التي طبقتها الجزائر لتسيير اقتصادها من 1981م إلى غاية 1989م هي :

● تأمين الثروات الطبيعية.0,25

● تأمين الوسائل الكبرى للإنتاج.0,25

● تأمين أراضي المعمرين وبعض الجزائريين. 0,25

● تأمين البنوك والمحروقات. 0,25

● احتكار التجارة الخارجية. 0,25

3. أسباب الظواهر الثلاث هي :

● **الجفاف** : يحدث الجفاف للأسباب التالية :

أ - قلة الأمطار عن النسبة المطلوبة، ففي بلادنا تقل كلما اتجهنا من الشمال إلى الجنوب، ومن

الشرق إلى الغرب. ويشمل الجفاف المناطق التي يقل المطر فيها عن 400mm سنويا. .. 0,25

ب - عدم انتظام سقوط المطر سنويا. 0,25

ج - تسجيل فروق كبيرة بين الحد الأدنى والحد الأقصى (المدى الحراري). 0,25

● **الانجراف** : يحدث الانجراف بتفتت التربة وضياعها بسبب الأمطار والرياح والحرارة

والبرودة (أي بسبب تعاقب هذه الظواهر). 0,25

● **التصحّر** : وهو تقدم الصحراء رويدا ، رويدا في اتجاه المناطق الرطبة لتغزوها وتصبح منها.

..... 0,25

الوضعية الإدماجية (03 نقاط)

التربة السوداء أفضلها ثم تليها الحمراء والزرقاء ثم البيضاء وكلما كان سمك التربة أعمق كلما

كانت التربة أكثر خصوبة. 01

ذلك أن الطبقة «أ» و«ج» هما الصالحتان للعمل الزراعي وهما أعمق. 01

بينما الطبقة «ب» و«د» هما الطبقتان الصخريتان الأقل نفعا للزراعة وهما أقل عمقا. 01

الموضوع الرابع عشر 14

النصوص

التاريخ (13 نقطة)

الأسئلة (09 نقاط)

1. اذكر القرارات التي خرج بها مؤتمر الصومام المنعقد في 20 أوت 1956م والمتعلقة بمؤسسات الثورة.
2. حدّد الإجراءات التي اتخذتها السلطات الاستعمارية قصد الاستعانة بالخونة الجزائريين بعد الانتصارات التي سجلتها الثورة بعد مؤتمر الصومام.
3. سجلت الدبلوماسية الجزائرية الثورية بعد مؤتمر الصومام انتصارات سياسية ملموسة، حدّدها.

الوضعية الإدماجية (04 نقاط)

السند :

«إن الجزائريين وزعماءهم الذين ظهروا على مسرح الأحداث من 1832م إلى 1872م (الأمير عبد القادر، المقراني، بومزراق، عزيز بن الشيخ الحداد) كانوا ثوريين بآتم معنى الكلم، لأنهم لم يولوا المساعي الدبلوماسية إلا دورا ثانويا. واعتمدوا في كفاحهم بالدرجة الأولى على محاربة الاستعمار وأعوانه من الخونة الجزائريين. ولم ينحصر كفاحهم في رفع السلاح ضد العدو، بل قاموا بتربية روح الثورة التي خاضوا بها المعركة، تلك الروح التي كانت تغذيها المثل السياسية والاجتماعية معا... إن تاريخ الجزائر خلال القرن التاسع حافل بالأحداث لمن يشاء أن يستخلص بعض العبر الحية عن الحركة الوطنية الجزائرية وعواملها ومقوماتها...».

مصطفى الأشرف - الجزائر : الأمة والمجتمع - صفحة 45

السؤال : الأمير عبد القادر، محمد المقراني، الحاج أحمد مصالي، هؤلاء الزعماء الثلاثة يشتركون في ثلاث خصال حميدة كما يشتركون في ثلاث أنواع من الضغوط، عانوا منها في كفاحهم ضد الاستعمار، وربما كانت السبب في عدم تحقيق أهدافهم. ما هي هذه الخصال الحميدة المشتركة؟ وما هي هذه الضغوط التي عانوا منها؟

الجغرافيا (07 نقاط)

الأسئلة (04 نقاط)

1. تعد شبكة المواصلات في الجزائر من بين أحسن الشبكات في العالم الثالث، وهو مؤشر جيد على السيولة الاجتماعية والاقتصادية. صف أهمية المواصلات في بلادنا.
2. ما هي أهم الظروف التي أرغمت الجزائر على إدخال إصلاحات جذرية على اقتصادها ابتداء من سنة 1989م؟

الوضعية الإدماجية (03 نقاط)

حدّد بعض القيود والمعوقات التي تفرضها العوامل الطبيعية على جهود الإنسان الساعي إلى استثمار الأرض ومصادر رزقها أحسن استثمار.

1. القرارات التي خرج بها مؤتمر الصومام المنعقد في 20 أوت 1956م والمتعلقة بمؤسسات

الثورة هي : 0,5×5

● قرارات تتعلق بجبهة التحرير الوطني.

● قرارات تتعلق بجيش التحرير الوطني.

● قرارات تتعلق بالمؤتمر الوطني.

● قرارات تتعلق بالمجلس الوطني للثورة الجزائرية.

● قرارات تتعلق بلجنة التنسيق والتنفيذ.

2. حدّد الإجراءات التي اتخذتها السلطات الاستعمارية هي :

● جلب المجندين السود من إفريقيا. 0,5

● تقوية مكاتب وأجهزة الاستخبارات والجوسسة. 0,5

● إنشاء المكاتب الأهلية «لاصاص». 0,5

● إغراء بعض الجزائريين بالترقيات في الجيش الاستعماري. 0,25

● بث عدد كبير من الجواسيس في أوساط الشعب. 0,25

● تلقي المساعدات من الحلف الأطلسي. 0,25

● رفع عدد الجيوش الثلاثة إلى مئات الآلاف. 0,25

3. شملت هذه الانتصارات السياسية المستوى الداخلي والخارجي :

● المستوى الداخلي :

أ - تكثيف جيش التحرير الوطني العمليات العسكرية بسبب توفر الأسلحة نسبيا. 0,25

ب - إلحاق هزائم كبيرة بالجيش الاستعماري (معارك من جميع الأحجام). 0,25

ج - انخراط الشباب في جيش التحرير الوطني إلى حد الاكتفاء. 0,25

د - إيمان الشعب بحتمية الانتصار، وتطبيقه لأوامر الثورة (إضراب الثمانية أيام دليل قاطع على

التحام الشعب بالثورة). 0,25

هـ - إجبار الجنرال ديغول على الاعتراف بمبدأ تقرير المصير للشعب الجزائري.....0,5

و - إجبار السلطات الفرنسية على الدخول في مفاوضات مع جبهة التحرير الوطني كمثل وحيد للشعب الجزائري المكافح.....0,5

. شملت هذه الانتصارات السياسية المستوى الداخلي والخارجي :

● المستوى الخارجي :

أ - اعتراف عدة دول بالحكومة المؤقتة للجمهورية الجزائرية.....0,5

ب - مشاركة الوفد الجزائري في أشغال عدة منظمات دولية (مؤتمر باندونغ 1955م، مؤتمر

القاهرة 1958م.....0,5

ج - تسجيل القضية الجزائرية في الجمعية العامة للأمم المتحدة.....0,5

د - اضطرار فرنسا إلى الاعتراف باستقلال تونس والمغرب وعدد من الشعوب الإفريقية، بفضل ضغط الثورة الجزائرية عسكريا وسياسيا.....0,5

الوضعية الإدماجية (04 نقاط)

إن الخصال الحميدة التي يشترك فيها الزعماء الثلاثة هي : حب الوطن، الإيمان الصادق

والشجاعة الحقيقية.....01

غير أن الأمير عبد القادر أثرت فيه ضغوط الاستعمار الفرنسي والجزائريين الخونة إضافة إلى

ضغوط شخصية، فارتاب في بادئ الأمر في قضية من يحارب أولا، الاستعمار الفرنسي أم

الخونة، وقرر أخيرا محاربة الطرفين في آن واحد.....01

وخضع المقراني لنفس الضغوط، فمن جهة الاستعمار ومن جهة ثانية تمرد الإقطاعيين

الجزائريين عليه، إذ أعابوا عليه ميله للشعب وجعل ثورته شعبية، ومن جهة ثالثة الضغط النفسي

الداخلي الشخصي الذي دفعه أخيرا إلى تفضيل الجماهير الشعبية على الإقطاعيين.....01

أما الحاج أحمد مصالي فقد عانى إلى جانب الضغط القومي الفرنسي المستمر عليه بالسجن

والغرامات والنفي والإقامات الجبرية، من ضغط مناضلي حزبه الشبان المثقفين ذوي الميول

الثورية. وقد دفعت به ميوله الشخصية إلى رفض التنازل عن مواقفه التي وصفها خصومه الشبان

بالمصلبة فانفصلوا عنه في نهاية المطاف.....01

الجغرافيا (07 نقاط)

إجابة الأسئلة (04 نقاط)

1. تكمن أهمية المواصلات في : $0,25 \times 7$

- فك العزلة وربط جميع مناطق الوطن وولاياته.
- تحقيق التكامل الاقتصادي بين جميع الولايات بترويج السلع.
- نقل المواد الأولية من أماكن الاستخراج إلى أماكن التصنيع.
- تسهيل نقل الفلاحين والصناعيين والحرفيين لمنتجاتهم.
- تسهيل حركة العمال بين منازلهم وأماكن الشغل.
- توفير اليد العاملة في السياحة والصيانة وغيرهما مما يتصل بالمواصلات.
- ازدهار الحركة الاجتماعية.

2. الظروف التي أرغمت الجزائر على إدخال إصلاحات جذرية هي :

● الأزمة الاقتصادية العالمية، خاصة في العالم الثالث والعالم الاشتراكي. $0,75$

● الأزمة الداخلية المتمثلة في : $0,5 \times 3$

- أ - عجز الدولة عن تحسين تسيير شركاتها وتوفير فائض القيمة.
- ب - الخلل في تزويد الدولة السوق باحتياجات المواطنين من المواد الاستهلاكية.
- ج - تهميش قدرات القطاع الخاص.

الوضعية الإدماجية (03 نقاط)

إن فصل النمو مرتب بنظام الحرارة. ومعنى ذلك أن الحرارة تضع قيودا على أنواع

النباتات التي تزرع، وتحدد مواطن وجودها في جهات الأرض المختلفة.

ولعل أهم ما يؤثر في النبات الصقيع، فهو يقتل النباتات الصغيرة ويلحق ضررا بالغا بالأشجار

والفواكه في العروض العليا. كما يعتبر الضباب عائقا في استغلال الأرض في الزراعة. .. 01

من جهته فإن نظام المطر وكميته يحددان مدى صلاحية الأرض للزراعة أو الرعي، إن

هي خصبة أم أرض بور، كما يحددان أنواع النبات الطبيعي إن هو شجر أم عشب. فمثلا إذا

انخفضت كمية المطر بنسبة 75% عن المتوسط السنوي حل الجفاف. وقد يتكرر تذبذب المطر

لبضع سنوات فيؤدي لاختفاء الحياة وهجرة الإنسان والحيوان. 01

وأضرار الفيضانات كثيرة ولا تحصى، لكن رغم ذلك فهي المسؤولة عن تكوين التربة
الفيضية الخصبة.

وتأتي الرياح والأعاصير بخسائر مدمرة يصعب في أحيان كثيرة التكهن بمداها.01

النصوص

الموضوع الخامس عشر 15

التاريخ (13 نقطة)

الأسئلة (09 نقاط)

1. أذكر القرارات السياسية التي اتخذت في مؤتمر الصومام المنعقد بإيفري أوزلاقن في 20 أوت 1956م.

2. صف المخطط الدبلوماسي الذي وضعته السلطات الاستعمارية لخداع الرأي العام قصد مواجهة الانتصارات التي حققتها الثورة بعد مؤتمر الصومام في جميع الميادين.

3. أذكر المنظمات الجماهيرية و الحركات التي وضع أسسها مؤتمر الصومام.

الوضعية الإدماجية (04 نقاط)

السند:

((يا عمال العالم، واحد من رفاقكم - عيسات إيدير - أغتيل في هذا اليوم من طرف المعمرين الفرنسيين، إن هذا الفعل الإجرامي يشكل تحديا لكل الطبقة العاملة في العالم لا ينبغي للتضامن العمالي العالمي أن يقتصر عن التنديد، ينبغي أن يتم التعبير عنه بفعل ملموس)).

السؤال:

يعتبر - عيسات إيدير - مناضلا نقابيا جزائريا كبيرا، أسس الاتحاد العام للعمال الجزائريين سنة 1956م بأمر من جبهة التحرير الوطني، تم اغتياله من طرف الاستعمار سنة 1959م بطريقة خبيثة.

هل حقق الاستعمار الهدف الذي كان يرمي إليه من هذا الاغتيال أم أنه حقق عكس ما توقع؟ أجب عن ذلك باختصار.

الجغرافيا (07 نقاط)

الأسئلة (04 نقاط)

1. ما هي المشاريع المخططة لتوسيع و تحديث المواصلات ببلادنا؟ .

2. راجعت الدولة الجزائرية سياستها الاقتصادية مراجعة جذرية ابتداء من التسعينات بالخصوص. فما هي أهم الإصلاحات التي أدخلتها على الاقتصاد عموما؟.

3. ماذا ينبغي القيام به للتخفيف من سلبية العوامل التالية: الجفاف، الانجراف، التصحر؟.

الوضعية الإدماجية (03 نقاط)

- المعطيات الواردة في هذا الجدول قُدِّرت استنادا إلى حصة الاستهلاك من الحبوب لسنة 1988م.

الاستهلاك	الاستيراد		الإنتاج		السنوات
	ب	أ	ب	أ	
59,3	29,3	29,3	30,0	30,0	1995
66,1	24,1	30,1	42,0	36,0	2000
72,9	40,7	29,7	58,8	43,2	2005

- يمثل هذا الجدول دراسة توقعية مستقبلية لكميات إنتاج و استيراد الحبوب (بملايين القنطير) في السنوات 1995 ، 2000 و 2005م .

- تم توقع ارتفاع الإنتاج بوتيرة قدرها 2% في الاحتمال (أ) و 4% في الاحتمال (ب).

ملاحظة: الاستهلاك = الإنتاج + الاستيراد.

السؤال:

حلل الجدول و اقترح حلولا تحسينية لضمان الاكتفاء الذاتي و بالتالي ضمان الأمن الغذائي.

التاريخ (13 نقطة)

إجابة الأسئلة (09 نقاط)

1. القرارات السياسية التي اتخذت في مؤتمر الصومام هي: $0,5 \times 6$

- توحيد النظام الثوري، هياكله و تنظيماته السياسية والعسكرية.
- إقامة خريطة عسكرية للتراب الوطني و تحديد الرتب العسكرية.
- إقرار قواعد محددة يقوم عليها النظام الاقتصادي والاجتماعي والسياسي والعسكري والإعلامي والثقافي.
- التركيز على النشاط الدبلوماسي.
- تكييف العمل العسكري.
- أولوية السياسي على العسكري والداخل على الخارج.

2. المخطط الدبلوماسي للسلطات الاستعمارية لخداع الرأي العام:

- عملت الدبلوماسية الاستعمارية على تأكيد مقولة « الجزائر فرنسية » ، « القضية الجزائرية قضية فرنسية داخلية » $0,5$
- محاولة عزل الجزائر عن جارتها تونس والمغرب، بإعطائهما الاستقلال الداخلي، وبالتهديد بالتراجع عنه، وبضرب بلديهما في حالة تأييدهما للثورة الجزائرية. ومن ذلك اعتداء ساقية سيدي يوسف التونسية. 01
- الضغط على الدول العربية والإفريقية بمختلف الوسائل حتى لا تؤيد الثورة الجزائرية. $0,5$
- السعي الحثيث لمنع وصول القضية الجزائرية إلى منبر الأمم المتحدة. $0,5$
- محاولة تقسيم صفوف الثورة بمفاهيم مثل « سلم الشجعان » 01

3. المنظمات الجماهيرية والحركات التي وضع أسسها مؤتمر الصومام هي: $0,5 \times 5$

- منظمة الفلاحين.
- منظمة العمال.
- منظمة المثقفين وأصحاب المهن الحرة.
- منظمة التجار والصناع.
- الحركة النسائية.

الوضعية الإدماجية (04 نقاط)

عيسات إيدير هو المؤسس العام للاتحاد العام للعمال الجزائريين (UGTA) ، وقد تم اغتياله في الجزائر العاصمة سنة 1959 حرقا في غرفته. وادعت السلطات أن الحريق نشب بسبب عقب سيجارة سقطت من يد عيسات الذي كان مريضا في المستشفى ! 01

تم اغتياله بهذه الطريقة حتى لا تتهم السلطات الاستعمارية بقتل رؤساء الاتحادات النقابية وحتى لا تثير الثورة الجزائرية تعاطف الرأي العام العالمي. 01

وقد استتكرت الحركة العمالية آنذاك في كل بلدان العالم خاصة منها الشقيقة والاشتراكية، الحدث استنكارا شديدا، الأمر الذي لم تكن تنتظره فرنسا وكلفها الكثير سياسيا. 01

الجغرافيا (07 نقاط)

إجابة الأسئلة (04 نقاط)

1. المشاريع المخططة لتوسيع وتحديث المواصلات ببلادنا هي: $0,25 \times 4$ (أجب عن 4 من 5 أجوبة).

- تمديد خط السكة الحديدية إلى الهضاب العليا من الشرق إلى الغرب، وإلى المدن الصحراوية.
- الطريق السيار من الحدود التونسية الشرقية إلى الحدود المغربية الغربية.
- توسيع المطارات والموانئ.
- شق طريق صحراوي آخر.
- إشراك القطاع الخاص في مجال النقل بنسبة أعلى.

2. أهم الإصلاحات التي أدخلتها على الاقتصاد عموما هي: (أجب عن 8 من 11) .. $0,25 \times 8$

- الانتقال من الاقتصاد الاشتراكي إلى اقتصاد السوق.
- تعديل الدستور ليتطابق مع الوضع الجديد للاقتصاد الوطني.
- ضمان الملكية الخاصة.
- مشاركة القطاع الخاص في الاستثمار الاقتصادي.
- تحويل الشركات العمومية إلى شركات مساهمة.
- السماح للاستثمار الأجنبي بالمساهمة في حدود معينة مع تقديم ضمانات تتعلق بتحويل الأموال.
- إقامة بورصة جزائرية لبيع وشراء القيم الاقتصادية.

● إعادة التوازن للاقتصاد الجزائري.

● الحصول على الميزان التجاري الراجح.

● إنشاء منطقة التبادل الحر.

● تحرير التجارة الخارجية من هيمنة الدولة بإشراك القطاع الخاص في الاستيراد والتصدير.

3. للتخفيف من سلبية عوامل الجفاف، الانجراف والتصحر ينبغي: (أجب عن 4 من 8). $0,25 \times 4$

● تشجيع الدولة الفلاحين والسكان على ممارسة عملية التشجير واختيار الأشجار المناسبة لكل

منطقة وتقديم تشجيعا ماديا ومعنويا لعمليات التشجير الناجحة.

● سن القوانين لحماية البيئة، وتطبيقها بصرامة.

● الإكثار من بناء السدود المائية والحواجز من جميع الأحجام.

● إتباع تقنية المصطبات في الأراضية الجبلية.

● تحديد مناطق الرعي واستصلاحها.

● إيقاف زحف الصحراء بالسدود الخضراء، وتشجيع الاستثمار الفلاحي في الواحات الجنوبية.

● القيام بحملات التوعية الدائمة عن طريق جميع وسائل الإعلام.

● إلزام مصلحة الغابات بالقيام بواجباتها كاملة.

الوضعية الإدماجية (03 نقاط)

من دراسة البيانات الرقمية نلاحظ أن الاستهلاك في ارتفاع محسوس منذ 1995، وهذا

دليل تحسن القدرة الشرائية للمواطنين بسبب تحسن الدخل الفردي. كما تضاعف في السنوات ما

بين 1995 و 2005.

أما الاستيراد فقد استقر في الاحتمال « أ » و انخفض إلى النصف في الاحتمال « ب » .. **01**

ونلاحظ أن النسبة المئوية للاستيراد و الاستهلاك قد انخفضت قليلا في الاحتمال « أ ».

وانخفضت إلى أكثر من النصف في الاحتمال « ب » سنة 2005.

ويعود انخفاض الاستيراد إلى تحسن الإنتاج الوطني، وانخفاض الاستهلاك إلى تحسن القدرة

الشرائية للمواطنين و كذا دخلهم الفردي.

من جهة أخرى يعود انخفاض استهلاك المواطنين للحبوب إلى استهلاك البدائل الأخرى للسמיד

(العجين) كالخضر والفواكه والحبوب الجافة ومشتقات الحليب. **01**

ومن الحلول التحسينية التي يمكن اقتراحها لضمان الاكتفاء الذاتي و الأمن الغذائي، نجد تسوية قضية العقار التي تعتبر جد حيوية بالنسبة للفلاحين، و تنظيم مهنة الفلاحة بحيث يتولاها الفلاحون الحقيقيون الجديرون بالتشجيع، وتطهير القطاع من الفلاحين المزيفين الذين لا تهمهم إلا المضاربة.

إلى جانب توسيع الأراضي الصالحة للزراعة، توفير المياه، انتقاء البذور والأسمدة الجيدة، تكوين الفلاحين تكويننا عمليا (أدوات تدريبية) وتقديم القروض للمستحقين..... 01

التاريخ (13 نقطة)

الأسئلة (09 نقاط)

1. أجبرت الثورة الجزائرية السلطات الفرنسية على الدخول معها في المفاوضات على أساس مبدأ «تقرير المصير»، أي مصير الشعب الجزائري. فأجرت من أجل ذلك عدة لقاءات توجت في النهاية باتفاقية «إيفيان».

حدّد - باختصار - المراحل التي مرت بها المفاوضات بين الثورة الجزائرية والسلطات الفرنسية. 2. انتهجت الجزائر منذ استرجاع سيادتها الوطنية سياسة تقوم على مجموعة من المبادئ الثابتة، توارثتها الحكومات المتعاقبة، سواء على الصعيد الداخلي أو الخارجي. حدّد هذه المبادئ المتبعة على الصعيد الداخلي.

3. لعبت الجزائر بعد استرجاع سيادتها أدواراً إيجابية بوّأتها مكانة مرموقة ضمن أغلب المنظمات الكبرى، جهوية، إقليمية وعالمية.

أذكر - باختصار - ما ساهمت و تساهم به السياسة الجزائرية ضمن المنظمات التالية: الاتحاد المغاربي، الاتحاد الإفريقي، الجامعة العربية، الأمم المتحدة، إضافة إلى مدى بلورة فكرة النظام الدولي الجديد.

الوضعية الإدماجية (04 نقاط)

السند الأول:

«للجزائر اتجاه إفريقي، كفاحها هو كفاح كل شعوب القارة. كفاح الشعب الجزائري لنيل استقلاله جزء من التيار الكاسح الذي هو الحركة التحررية الإفريقية، و هذا التيار لا يقصي أي شعب. إفريقيا قبر الاستعمار هي اليوم واقفة، و هي تحمل في نفسها ضمير العالم الحر الحقيقي. إفريقيا متحدة قادرة على الكثير من الأشياء».

خطاب محمد يزيد - أورده أندري مادوز في كتابه الثورة الجزائرية - صفحة 53

السند الثاني:

في القرن الثاني قبل الميلاد، رفع الملك الجزائري «ماسينيسا» شعاراً هاماً في خضم صراعه مع القرطاجيين و الرومان، يقول فيه: «إفريقيا للأفارقة».

السؤال:

حلل السند الأول و أذكر إلى أي مدى شرّفت الجزائر بسياستها الخارجية مبدأ انتماءها الإفريقي، وما مدى ارتباط مفهوم الانتماء الإفريقي لدى وزير الإعلام في الحكومة الجزائرية المؤقتة «محمد يزيد»، بالشعار الذي دعا إليه «ماسينيسا».

الجغرافيا (07 نقاط)

الأسئلة (04 نقاط)

1. أصبح التلوث من أخطر مشاكل البيئة، إذ يقلق بال المسؤولين و الباحثين الذين يحاولون وضع الضوابط و المعايير لتخليص البشرية من خطره. فما هي أشكال التلوث؟.
2. تقع الجزائر ضمن المنطقة الزلزالية النشيطة في العالم، خاصة في جزئها الشمالي، و قد تعرضت عبر التاريخ لكثير من الهزات الأرضية القوية، آخرها زلزال سنة 2003. ما هي أنواع الزلازل حسب موقع مركزها؟.
3. الجراد آفة خطيرة تهدد جميع البلدان بدون استثناء، و تتعرض الجزائر بدورها لهذه الظاهرة المخربة من فترة لأخرى، فتكلفتها خسائر جسيمة في الاقتصاد. قدم وصفا مختصراً لهذه الآفة.

الوضعية الإدماجية (03 نقاط)

يقسم السكان من حيث الإنتاج إلى ثلاثة فئات بصورة عامة:

- الفئة الأولى: الأطفال و الفتيان من يوم الولادة إلى سن العشرين.
- الفئة الثانية: الراشدون من سن سن الواحد و العشرين إلى سن التاسعة و الستين.
- الفئة الثالثة: الشيخوخ بعد التاسعة و الستين من العمر.



د. عزت رجب - الاقتصاد السياسي - صفحة 149 - دار العلم للملايين - بيروت

السؤال:

إليك خمسة أشكال من هرم الأعمار المختلفة تبعاً لتكوين فئات السكان فيها. لاحظ ما يمثله كل هرم، انطلاقاً من الفئات الثلاث المذكورة، و فسر الهرم الذي يمثل التركيبة العمرية الجزائرية حالياً.

التاريخ (13 نقطة)

إجابة الأسئلة (09 نقاط)

1. مرت مفاوضات إيفيان بعدة مراحل أهمها: $0,25 \times 4$

- محادثات 25 جوان 1960م في «مولان».
- محادثات «لوسيرن» و «بال» سنة 1961م.
- محادثات «ليروس» و «إيفيان» سنة 1962م.
- تم وقف إطلاق النار عملياً يوم 19 مارس 1962م.

2. مبادئ وثوابت السياسة الداخلية الجزائرية هي: $0,25 \times 7$

- استكمال السيادة الوطنية باسترجاع الثروات الوطنية من أيدي الشركات الأجنبية.
- انتهاج النظام الاشتراكي لضرورته وحتميته في تلك الظروف.
- توزيع الدخل القومي بصفة عادلة على الشرائح الاجتماعية على أساس المبدأ القائل: «لكل حسب عمله».
- التكفل بالاحتياجات الأساسية للمواطنين كالتعليم الإلزامي والمجاني، العلاج المجاني، الضمان الاجتماعي، بالإضافة إلى مساعدات مختلفة.
- امتصاص البطالة و تقديم المساعدات الاجتماعية للمعوزين الحقيقيين.
- إقامة نظام ديمقراطي تعددي، تدريجي بعد 1989م.
- إقامة اقتصاد السوق بعد الإصلاحات الاقتصادية التي شرع فيها في 1989م، وتشجيع المبادرة الفردية و الشراكة الأجنبية.

3. مساهمات السياسة الجزائرية:

● على مستوى الاتحاد المغربي:

أ - توحيد شعوب بلاد المغرب العربي الكبير لاشتراكها في وحدة التاريخ، العقيدة، الثقافة

والمصير. $0,5$

ب - عقد قمة زرالدة في 10 جوان 1988م، وترسيخ صرح «الاتحاد المغربي» الذي توج

بمعاهدة تاريخية بين الدول الخمس: ليبيا، تونس، الجزائر، المغرب و موريطانيا (مشكل

الصحراء الغربية لا يزال قائماً). وقد بلورت هذه المعاهدة أهداف الوحدة في ميادين السياسة،

الاقتصاد، الدفاع والثقافة. والجزائر لا تزال المحرك الأساسي للوصول إلى تشييد هذا الصرح

المأمول..... 0,5

● على مستوى الاتحاد الإفريقي: $0,25 \times 8$

الجزائر هي المنشط الأساسي في هذا الاتحاد الذي ظهر أول مرة باسم «النيباد» سنة 2002م بمبادرة من الجزائر وجنوب إفريقيا ونيجيريا، وقد نشأ على أنقاض «منظمة الوحدة الإفريقية» المؤسسة عام 1963م. وتتمثل مساهمة الجزائر في السعي لتحقيق الأهداف التالية:

أ - القضاء على النزاعات والحروب بين الدول الإفريقية على الحدود الموروثة.

ب - التوسط في فض النزاعات القبلية الداخلية التي تحدث هنا وهناك.

ج - القضاء على الخلافات مهما كانت طبيعتها، بالطرق السلمية.

د - تعزيز التعاون في جميع المجالات بين الدول الإفريقية.

س - إنشاء سوق اقتصادية إفريقية.

هـ - توحيد المواقف الإفريقية في المحافل الدولية فيما يخص إفريقيا على الأقل.

و - إنشاء صناديق الدعم ضد الأمراض الخطيرة والمجاعات.

ي - استكمال تحرير إفريقيا.

● على مستوى الجامعة العربية: $0,25 \times 5$

أ - السعي باستمرار لتفعيل الموقف العربي.

ب - توحيد مواقف الدول العربية إزاء القضايا الدولية الهامة.

ج - إقامة مشاريع اقتصادية مشتركة.

د - التفكير في إنشاء سوق عربية.

و - توحيد الجهود لإيقاف نزيف «هجرة الأدمغة».

● على مستوى الأمم المتحدة: $0,25 \times 3$

الجزائر عضو في هذه المنظمة، وتناضل من أجل:

أ - الدفاع عن قضايا التحرر ومبدأ تقرير المصير للشعوب.

ب - الدفاع عن الإسلام العالمي والتعايش السلمي والقضاء على العنصرية وكل أشكال التمييز.

ج - إقامة نظام دولي جديد، يقوم على المساواة بين الدول في التقدير والاحترام.

- كانت الجزائر سباقة إلى طرح «فكرة النظام الدولي الجديد» و «حوار شمال جنوب» منذ عهد بومدين - رحمه الله - وهي تناضل من أجل تحقيق الأهداف التالية: $0,25 \times 5$
- أ - نظام عالمي إنساني ينتهي فيه استغلال الإنسان لأخيه الإنسان، وكذلك استغلال شعوب لشعوب أخرى.
- ب - إقامة علاقات بين الدول على أساس الاحترام المتبادل والعدل والحرية والسلام للجميع.
- ج - عدم التدخل في شؤون الدول الداخلية.
- د - تشجيع فكرة العالمية ورفض فكرة ذوبان الثقافات وخصوصيات الشعوب.
- هـ - تشجيع فكرة النظام الدولي الجديد على أساس المساواة بين الشعوب. ورفض النظام الدولي الجديد الواحد القطبية الذي تسيطر عليه الإمبريالية.

الوضعية الإدماجية (04 نقاط)

إن هذه الأفكار التي تضمنها خطاب وزير الإعلام في الحكومة المؤقتة للجمهورية الجزائرية سنة 1959م، لا تزال متماشية مع واقعنا الحاضر. فالجزائر منذ استرجاع سيادتها لم تبخل بأي جهد عبر منظمة الوحدة الإفريقية ثم الاتحاد الإفريقي، للتعاون مع الأشقاء الأفارقة، قصد التقريب بين شعوب القارة وتكثيف الجهود للقضاء على بؤر التوتر والنزاعات القبلية والتدخلات الأجنبية في الشؤون الداخلية لشعوب القارة بذرائع مختلفة والمجاعات والأوبئة. $2,5$

ونجد فحوى خطاب «محمد يزيد» لا يختلف بالمرّة عن شعار «إفريقيا للأفارقة» الذي ناضل من أجله «ماسينيسا»، هذه الشخصية التاريخية الوطنية التي رفضت الاستعمار وأبت أن تقبل الهيمنة الرومانية والقرطاجية، ودعت إلى حرية واستقلال إفريقيا. $1,5$

الجغرافيا (07 نقاط)

إجابة الأسئلة (04 نقاط)

1. نستطيع أن نقسم التلوث إلى ثلاث أقسام رئيسية هي : التلوث الهوائي، التلوث المائي والتلوث الأرضي. وتشمل الملوثات كل العناصر الضارة التي تطلق في الغلاف الجوي، أو تقذف في الغلاف المائي أو تنتشر فوق سطح الأرض. 01
2. تنقسم الهزات الأرضية لثلاثة أنواع حسب موقع مركزها من منطقة الاهتزاز، إذ نجد:

● الهزات الأفقية: وهي أغلب الهزات حدوثًا، نتعرف عليها بواسطة كيفية سقوط المباني

وانشقاقات الأرض. 0,5

● الهزات العمودية: ونتعرف عليها من خلال ملاحظة قذف الأرض الأشياء إلى الأعلى أو

ابتلاعها في غورها. 0,5

● الهزات الدورانية: هو النوع الأقل حدوثًا، ونتعرف عليه من خلال اقتلاع الأشياء من الأرض

بشكل دائري. 0,5

جميع الزلازل مؤثرة في البيئة الطبيعية والإنسان، وتكون عنيفة بالقرب من مركزها ويقل تأثيرها كلما ابتعدنا عنه.

3. عرفت بلادنا اجتياحات الجراد منذ القديم أي منذ عصور ما قبل التاريخ. ويعتبر اجتياحه

مصيبة كبرى، لما يلحقه من أضرار فادحة بالمزروعات. وهو يمثل ثلاثة أنواع: الجراد المغربي

والجراد المهاجر الذي يأتي من إفريقيا وآسيا. 01

الوضعية الإدماجية (03 نقاط)

يمثل الهرمان الأول و الثاني (الجزائر و البرازيل) شعبًا شابًا لكون قاعدة الهرم عريضة و

قمته ضيقة أي أن فئة الشباب أكبر بكثير من فئة الشيوخ، و بالتالي فإن شعبًا كهذا يمتلك إمكانيات

أكبر في تزويد سوق العمل بالطاقات الإنتاجية (اليد العاملة). 01

أما الهرمان الثالث والرابع فأقل من ذلك حظًا أي أن فئة الشباب أقل، لذا هناك احتمال

اللجوء إلى اليد العاملة الخارجية. 0,5

أما الهرم الخامس فإنه مثال الهرم السكاني الذي وصل إلى حد العجز في نسبة المواليد، إذ

في هذا النوع من البلدان تقل نسبة المواليد بشكل يصبح معه عدد أفراد الفئة الأولى غير كاف

لتقوم مقام الفئة الثانية في الإنتاج، فينتج عن ذلك نقص في عدد سكان البلد يتولد عنه عجز في

القدرة الإنتاجية. 01

ومن ذلك نستنتج أن الهرم الأول يمثل إلى حد كبير حقيقة النمو السكاني في الجزائر. 0,5

النصوص

الموضوع السابع عشر 17

التاريخ (13 نقطة)

الأسئلة (09 نقاط)

1. أذكر الشروط التي طرحها وفد الثورة الجزائرية ووفد السلطات الاستعمارية الفرنسية في مفاوضات إيفيان سنة 1962م.
2. أذكر المبادئ الثابتة التي احتفظت بها الدولة الجزائرية في سياستها الخارجية منذ استرجاع السيادة الوطنية.
3. ما هي الوثائق المرجعية التي تستند إليها الحكومات الجزائرية المتعاقبة في تسيير سياستها؟.

الوضعية الإدماجية (04 نقاط)

السند الأول:

«إن الغرب يتحمل مسؤولية جسيمة في تطويل الحرب، فهو لا يكتفي بإقراره المعنوي لإبادة الشعب الجزائري، بل يمد الاستعمار الفرنسي بإعانة مادية هامة. فالجزائر قد أقحمت في الحلف الأطلسي بالرغم منها، والفيالق الفرنسية المجهزة بعتاد الحلف الأطلسي تحارب في الجزائر، وميزانية الحرب الفرنسية تتغذى من القروض الأمريكية والألمانية. هذا ما سجله شعبنا وما يجب أن يسجله العالم كله».

تصريح فرحات عباس رئيس الحكومة المؤقتة في 25 أبريل 1960م.

السؤال:

تأمل هذا التصريح واستخرج محتوى الرسالة التي يريد «فرحات عباس» إيصالها إلى دول الحلف الأطلسي وإلى دول العالم كله.

الجغرافيا (07 نقاط)

الأسئلة (04 نقاط)

1. ما هي العوامل التي تسبب التلوث؟.
2. كيف ينتشر الجراد؟.
3. ما هي أسباب الزلازل؟.

الوضعية الإدماجية (03 نقاط)

أمامك جدول يمثل درجات الزلازل، حسب السلمين العالميين «مركالي» و «ريشتر». سُجّلت درجات الزلازل في الجدول و عليك أن تسجل مقابل كل درجة التأثيرات (الخسائر) المحسوسة التي تحدثها في البيئة.

التأثيرات المحسوسة (الخسائر)	سلم ريشتر	سلم مركالي
	$8 \leq$	12-11
	$7,5 \leq$	11-10
	$7,3 - 7$	10-9
	$6,9 - 6,2$	9-8
	$6,1 - 5,5$	8-7
	$5,4 - 4,9$	7-6
	$4,8 - 4,3$	6-4,5
	$4,2 - 3,5$	4-3
	$3,4 - 2$	3-1

1. تتمثل الشروط المطروحة بين الوفد الجزائري والوفد الفرنسي في مفاوضات إيفيان سنة

1962م فيما يلي : $0,25 \times 12$

شروط الوفد الفرنسي	شروط الوفد الجزائري
- الجزائر تابعة للسيادة الفرنسية.	- السيادة الكاملة (الاستقلال التام).
- الحكم الذاتي.	- وحدة التراب الوطني بما فيه الصحراء.
- فصل الصحراء عن الجزائر.	- وحدة الأمة الجزائرية.
- تجزئة الجزائر عرقياً.	- وجود أقلية أوروبية أجنبية.
- طاولة مستديرة.	- جبهة التحرير الوطني هي الممثل الوحيد للشعب الجزائري.
- الهدنة.	- وقف إطلاق النار.

2. المبادئ التي احتفظت بها الدولة الجزائرية في سياستها الخارجية بعد الاستقلال: $0,5 \times 6$

- مبدأ احترام الحدود المعترف بها دولياً.
- عدم التدخل في الشؤون الداخلية للدول، والعمل بمبدأ حسن الجوار.
- تأييد الشعوب المستعمرة على تقرير مصيرها بنفسها.
- الالتزام بمبدأ عدم الانحياز أثناء الحرب الباردة، واحترام ميثاق الأمم المتحدة وهيئاتها.
- احترام مبدأ التعايش السلمي، الدفاع والحفاظ على السلام العالمي وفض النزاعات الجهوية والإقليمية بالطريقة السلمية.
- العمل بمبدأ التعاون وتبادل المصالح مع جميع الدول، عدا إسرائيل. إذ لن نتعامل معها قبل أن تعترف بالحقوق الشرعية للشعب الفلسطيني وتقوم بالجلء عن الأراضي العربية المحتلة.

3. الوثائق المرجعية التي تستند إليها الحكومات الجزائرية المتعاقبة هي : $0,5 \times 6$

- نداء أول نوفمبر 1954م.
- ميثاق مؤتمر الصومام.

● جميع المواثيق التي خرجت بها المؤتمرات: مثل ميثاق الجزائر 1963م، الميثاق الوطني 1976م، ميثاق 1986م.

- مقررات مؤتمرات جبهة التحرير الوطني (قبل التعددية).
- جميع القوانين التي صادقت عليها مختلف المجالس الوطنية.
- القرارات والمراسيم التي صدرت عن رئاسة الجمهورية ورئاسة الوزراء.

الوضعية الإدماجية (04 نقاط)

يريد «فرحات عباس» من خلال هذا التصريح أن يهز ضمير الغرب وأمريكا ويدفعهم إلى التفكير في الحقائق المذكورة في النص، عساهم يضغطون على حكوماتهم لترغم فرنسا على الدخول في مفاوضات جدية مع الجزائريين، بعد أن ساعدوها على محاربتهم. وهذا للتكفير عن ذنوبهم التي اقترفوها بمساعدتهم اللامشروطة مادياً ومعنوياً لدولة استعمارية قوية على شعب ضعيف قوته الوحيدة هي إيمانه بالنصر والظفر بالاستقلال، لكونه صاحب حق وقضية عادلة.

04.....

الجغرافيا (07 نقاط)

إجابة الأسئلة (04 نقاط)

1. تكون العوامل التي تسبب التلوث: $0,5 \times 3$

- غازية، ممثلة في الغازات الضارة التي تطلقها عوادم السيارات، مداخن المصانع، وسائل التدفئة، حرق القمامات وما تقذفه البراكين.
- سائلة ممثلة في الكيماويات التي تقذفها المصانع في المجاري المائية، تصريف مياه المجاري، المبيدات الحشرية وغيرها.
- صلبة ممثلة في نفايات المصانع والقمامات المنزلية التي تتزايد كمياتها كل يوم.

2. يعود السبب في الزلازل إلى: $0,75 \times 2$

- الانكسارات والشقوق التي تحدث في القشرة الأرضية، وتجعل أجزاء من الكتل الأرضية تهبط أو تنزلق جانباً، مما يؤدي إلى تحرك الطبقات الأرضية الباطنية واحتكاكها، فيحدث الاصطدام.
- البراكين: بعض الزلازل وليس كلها تحدث نتيجة ثوران بركان، سواء على اليابسة أو في البحار والمحيطات.

3. ينتقل وينتشر الجراد في شكل أسراب كبيرة، يتكون كل منها من عشرات الملايين من الوحدات (جرادات)، ويستقر حيث يتوفر له الغذاء. وعندما يقضي على كل ما هو أخضر (كل ما يؤكل)، ينتقل إلى مكان آخر. 0,5

تصل سرعته القصوى إلى 50km في اليوم، وتستهلك كل جرادة يوميًا ما يعادل أو يفوق وزنها من المواد الغذائية الحقلية. 0,5

الوضعية الإدماجية (03 نقاط)

سلم ماركالي	سلم ريشتر	التأثيرات المحسوسة (الخسائر)
12-11	$8 \leq$	تدمير كلي
11-10	$7,5 \leq$	أضرار كبيرة
10-9	7,3-7	أضرار كبيرة - اعوجاج السكك الحديدية
9-8	6,9-6,2	خسائر معتبرة في البنايات
8-7	6,1-5,5	خسائر خفيفة في البنايات
7-6	5,4-4,9	يشعر بها كل الناس
6-4,5	4,8-4,3	يشعر بها العديد من الناس
4-3	4,2-3,5	يشعر بها بعض الناس
3-1	3,4-2	لا يشعر الناس بها و لكن تسجل على أجهزة التسجيل (السيسموغراف)

التاريخ (13 نقطة)

الأسئلة (09 نقاط)

1. ما هي أهم نتائج اتفاقية إيفيان المبرمة بين الحكومة المؤقتة للجمهورية الجزائرية والسلطات الاستعمارية؟
2. ما إن استرجعت الدولة الجزائرية سيادتها في 1962م حتى أصبحت عضوا فعالا في عدة منظمات إقليمية ودولية، حيث اعترف لها بالدور الريادي فيها. فما هي أبرز هذه المنظمات؟
3. حاول الجنرال ديغول، رئيس الدولة الفرنسية بعد وصوله إلى الحكم سنة 1958م أن يصرف الجماهير الشعبية الجزائرية عن الثورة التحريرية بمجموعة من الإصلاحات الإغرائية. حدّد هذه المخططات الإغرائية في الميدان الاقتصادي والاجتماعي.

الوضعية الإدماجية (04 نقاط)

السند الأول:

«أقول وبكل وضوح أن أغلب رجال الثورة قد حاربوا بشجاعة... فليأت سلم الأبطال... كيف العمل لتنظيم نهاية هذه المعارك؟ فحيث توجد المعارك المحلية، ليس على قادتهم إلا أن يتصلوا بالقيادة العسكرية الفرنسية. في هذه الحالة فإن المحاربين سيستقبلون استقبالا مشرفا، وإن الحكمة القديمة للمعارك تتطلب أن يستعمل في هذه الظروف العلم الأبيض للمفاوضين».

تصريح لديغول (De Gaulle) 23-10-1958م

السند الثاني:

«من الأفضل موت الأبطال ولا سلم الشجعان».

جريدة المجاهد - الناظر الرسمي باسم الثورة الجزائرية في 10-04-1959م

السند الثالث:

«إن موقف فرنسا بدأ بتطور وسيطور أكثر بسرعة في الاتجاه الذي يتوقعه الجزائريون».

د. لمين دباغين ممثل الحكومة المؤقتة الجزائرية في الأمم المتحدة 28-09-1959م

السؤال: أدرس دراسة تحليلية السندات الثلاث وأجب عما تستخلصه من نوايا ديغول في تقديمه هذا الاقتراح، وما تستنتجه من مواقف قادة الثورة اتجاه ما يسمى بـ «سلم الأبطال».

الجغرافيا (07 نقاط)

الأسئلة (04 نقاط)

1. كيف نعيد - يا ترى - للبيئة التوازن الذي زعزعه التلوث، للحفاظ على صحتنا وصحة البيئة التي نحيا فيها؟
2. ما هي الآثار التي تحدثها الزلازل على الطبيعة والإنسان؟
3. ما هي الحلول المناسبة للتصدي لخطر الجراد الذي تتعرض له الجزائر من فترة لأخرى، مخلفا خسائر جسيمة؟

الوضعية الإدماجية (03 نقاط)

السند الأول:

«التعريف الشائع للتلوث هو إلقاء النفايات بما يفسد جمال البيئة ونظافتها. أما التلوث بالمفهوم العلمي فهو حدوث تغيير وخلل في النظام الإيكولوجي للبيئة».

السند الثاني:

«أصبح التلوث - وهو وليد الصناعة بالدرجة الأولى - من أخطر مشاكل البيئة، بل هو مشكلة العصر الملحة، والتي باتت تؤرق المسؤولين والباحثين من أجل وضع الضوابط الحاكمة والمعايير التي تخلص البشرية من خطر هذه المشكلة المخيفة».

السند الثالث:

«... وقد وجد من الدراسات التي أجريت على هواء بعض المدن الصناعية المزدحمة، أن القدم المكعب الواحد من الهواء تحمل على ما يزيد عن ألف مليون جسيم. ومن المعروف أن الإنسان يستنشق 230 قدما مكعبا من الهواء يوميا. وهذا يعني أن عشرة ملايين جسيم غريب يدخل أجسامنا مع ما نستنشقه من هواء المدن الصناعية في الساعة الواحدة...».

د. زين الدين عبد المقصود - أبحاث في مشاكل البيئة - صفحة 76 - منشأة المعارف - الإسكندرية

السؤال: أدرس بإمعان السندات الثلاث ثم اقترح لنا حولا عاجلة، يؤدي تطبيقها إلى تخفيض محسوس في خلق أسباب للتلوث.

التاريخ (13 نقطة)

إجابة الأسئلة (09 نقاط)

1. أهم نتائج اتفاقية إيفيان : $0,5 \times 6$

- الاتفاق على مبدأ تقرير مصير الشعب الجزائري.
- الاستقلال ووحدة التراب الجزائري.
- تحديد التعاون مع فرنسا.
- توضيح مصير الفرنسيين المدنيين.
- الاعتراف بالحدود الجزائرية الحالية بشمالها وجنوبها.
- الاعتراف بوحدة الشعب الجزائري (شعب واحد).

- في الاستفتاء، الذي تم في 01 جويلية 1962م رحّب 97,5% من الشعب الجزائري بالاستقلال. وفي 03 جويلية أعلنت فرنسا عن استقلال الجزائر، وقررت جبهة التحرير أن يكون

الاستقلال في يوم 05 جويلية 1962م، لكونه يوم تاريخي خالد. $0,5$

2. الأمم المتحدة وجميع هيئاتها تقريبا : $0,5 \times 4$

- جامعة الدول العربية.
 - الوحدة الإفريقية ثم الاتحاد الإفريقي.
 - حركة عدم الانحياز.
 - الاتجاه المغربي أو اتحاد المغرب العربي.
- وتعتبر الجزائر عضوا مؤسسا في بعض المنظمات المغاربية والإفريقية.

3. طرح الجنرال ديغول مشروع قسنطينة القاضي بما يلي : $0,5 \times 7$

- إغراء الشعب الجزائري بإصلاحات اقتصادية تصرفهم عن الثورة.
- استصلاح الأراضي الفلاحية الجديدة لفائدة الجزائريين.
- شق الطرق، بناء المستشفيات والمدارس.
- إعطاء حقوق للجزائريين تتساوى وحقوق الأوروبيين.
- ضمان زيادة الدخل الوطني بنسبة 7,5%.
- القضاء التدريجي على الفروق في المستوى المعاشي بين الجزائريين وفرنسيين.

● ضمان مستقبل تعايش سلمي بين الأوروبيين والجزائريين.

لم يكن لهذا المخطط أثر كبير على الجزائريين لكونه جاء متأخرا ولكون الثورة لم تقبل بديلا للاستقلال التام.

الوضعية الإدماجية (04 نقاط)

السند الأول:

جاء **ديغول** إلى السلطة بعد أن عجز المسؤولون الفرنسيون قبله عن تصور حل مقبول من الطرفين للقضية الجزائرية، لذلك وجد نفسه مجبرا على إيجاد الحل، فاقترح «سلم الأبطال» الذي كان محاولة تلتها محاولات أخرى في مسيرة المفاوضات الجزائرية الفرنسية. 02

أما جواب الثورة فقد تحلى «بتكتيك مدروس»، ذلك أن السياسيين كانوا يراوغون ويناورون ويترددون بين العتامة والوضوح لاستدراج فرنسا نحو المزيد من التنازلات، في أظهر العسكريون شدة وعزما كبيرين. فقد كانوا يتشددون عمدا ويعكسون معنويات عالية وعزم على الاستمرار في الحرب حتى يتحقق الاستقلال التام، فنجحت الخطة في نهاية الأمر. 02

الجغرافيا (07 نقاط)

إجابة الأسئلة (04 نقاط)

1. السلوكات اللازمة للحفاظ على التوازن البيئي :

● الدولة هي المسؤولة الأولى عن حماية البيئة، لذلك ينبغي أن تسن القوانين التي تحمي البيئة وتتابع تطبيقها بصرامة من خلال : 0,25

أ - مراقبة نفايات المصانع وإرغام المسيرين على احترام المقاييس. 0,25

ب - مراقبة نفايات المستشفيات التي تعد بالآلاف الأطنان سنويا مراقبة صارمة جدا. 0,25

ج - حماية الغابات من الحرائق، وحماية مصادر المياه ومسطحاتها، ومراقبة المستنقعات بتنظيفها أو ردمها. 0,25

د - بناء محطات إعادة رسكلة المياه القذرة واستغلالها في الزراعة. 0,25

هـ - مراقبة المنتوجات الغذائية مراقبة صارمة وتسويقها. 0,25

و - وضع مواقيت محددة لإخراج النفايات المنزلية مع إقامة الرقابة الدائمة على الأسواق والتجارة بصفة عامة. 0,25

0,25

ر - مراقبة عوادم السيارات

0,25×4

2. ما هي الآثار التي تحدثها الزلازل :

- تشقق الأرض وانخفاض أجزاء منها، وانجراف الصخور من المرتفعات.
- نضوب مياه الآبار وتدمير السدود والمباني.
- اعتلاء البحر أمواج عاتية، قد تغرق السواحل وما عليها مثل الذي حدث في جنوب آسيا (تسونامي) وترك آثار نفسية عميقة خاصة لدى الصغار، ولدى من يفقدون فردا أو أفرادا من عائلاتهم أو ممتلكاتهم.
- الأضرار الاقتصادية الوخيمة التي تتركها قد تضر ضررا كبيرا بمستوى معيشة السكان لمدة طويلة.

0,25×4

3. الحلول المناسبة لاتقاء خطر الجراد :

- تنسيق الجهود وتكثيف التعاون الجهوي بين الدول المغاربية والإفريقية لكونها أكثر عرضة من غيرها، وتكثيف التعاون مع المنظمات الدولية.
- التزود بالمبيدات الخاصة بالجراد، وبالطائرات الخاصة لمحاربته.
- تشديد الرقابة الوقائية على جميع المستويات، ومراقبة المسطحات المائية والمستنقعات.
- تحسين برامج الدراسات المتخصصة في المعاهد الزراعية.

الوضعية الإدماجية (03 نقاط)

إن مسؤولية السلطات كبيرة في هذا الميدان، فعليها أن تدعم المنظومة القانونية بمجموعة

0,75

من القوانين وتحرص على تنفيذها بصرامة

وتختص هذه القوانين بمراقبة مواقع الصناعات المختلفة لإجبارها على احترام معايير نظافة البيئة والمحيط، ومراقبة حركة العربات الصناعية من سيارات، طائرات، بواخر، دراجات نارية، ... إلى جانب مراقبة جميع مصادر النفايات المنزلية والاستشفائية، وجميع المحلات المنتجة لما يستهلك من مواد غذائية

1,5

و على المؤسسات التربوية والدينية أن تكثف من توعية الناس بهذا الموضوع الخطير،

0,75

فشعار الجميع «صحة الأبدان من صحة المكان» و «الجسم السليم في المحيط السليم».

الموضوع التاسع عشر 19

النصوص

التاريخ (13 نقطة)

الأسئلة (09 نقاط)

1. كان ميلاد نجم شمال إفريقيا سنة 1926م بمثابة بشرى سعيدة فتحت أمام الجزائريين آفاقا واسعة وآمالا عريضة في نهج الكفاح السياسي.
اذكر قائمة المطالب السياسية التي تضمنها برنامج هذا الحزب.
2. اذكر بعض المبادئ الأساسية للثورة الجزائرية والتي أعلن عنها عبر موثيقها.
3. أحدثت بداية الثورة الجزائرية في أول نوفمبر 1954م صدمة قوية لدى السلطات الفرنسية وسياستها. فما هي النقاط الرئيسية المشتركة في ردود أفعالهم الأولى بعد انتشار خبر الاندلاع؟

الوضعية الإدماجية (04 نقاط)

السند:

تلبية لنداء الحكومة المؤقتة، قام الشعب الجزائري في أغلب المدن الجزائرية بمظاهرات عارمة يوم أول نوفمبر 1961م أذهلت العدو، قال عنها السيد محمد يزيد وزير الإعلام في الحكومة المؤقتة ما يلي: «أما الشعب الجزائري فقد قرر مصيره في هذه المظاهرات...» وعن هذا اليوم، قال سارفن شرايبار (Servan-Schreiber) مدير جريدة ليكسبريس (l'Express): «إن يوم أول نوفمبر 1961م يجب أن يقارن بـ ديان بيان فو».

السؤال: وظف معلوماتك التاريخية حول هذه المرحلة الحاسمة وفسر على أساسها ما قالته هتان الشخصيتان.

الجغرافيا (07 نقاط)

الأسئلة (04 نقاط)

1. عرف الاقتصاد الجزائري تغيرات كبيرة وإصلاحات متتالية أفضت به إلى اقتصاد السوق.
فما هو بالضبط اقتصاد السوق الذي تخوض بلادنا معركته حاليا؟
2. ما هو نظام اقتصاد السوق الأكثر نجاعة بالنسبة للجزائر؟
3. ما هي النتائج السلبية للزحف العمراني؟

الوضعية الإدماجية (03 نقاط)

السند الأول:

«يقول الخبراء الاقتصاديون أنه بدون ضبط سياسي ديمقراطي فإن تسيير اقتصاد السوق في دول الجنوب سوف يكون من شأنه مضاعفة عدم المساواة الاجتماعية والاقتصادية، أي يزداد الأغنياء غنى والفقراء فقرا».

السند الثاني:

«إن الخصوصية تفرض على الدولة إعداد وتطبيق سياسة اجتماعية مسعفة إن أرادت تجنب اضطرابات سياسية. إن سياسة تسيير البطالة (التي ستتطور) هي من أهم الإجراءات التي ترافق برنامج الخصوصية، ولا يمكن حصرها فقط في إنشاء صندوق لمنحة البطالة، إذ يجب التفكير في سياسة حماية اجتماعية لصالح «منعدي الدخل» خاصة. وإنه لمن الأهمية بإمكان اتخاذ العبر من تجارب الدول الرأسمالية المتطورة».

عبد المجيد بوزيدي - تسعينات الاقتصاد الجزائري صفحة 67

ترجمة جريبب أم الحسن - المؤسسة الوطنية للفنون المطبعية - وحدة الرعاية - الجزائر 1999م

السند الثالث:

«إن اقتصاد السوق لن ينتج التنمية إلا إذا كان مرفوقا بتسيير سياسي ديمقراطي للضغوط الاجتماعية التي ستنشأ بين الاستثمار الاقتصادي والمشاركة الاجتماعية في ثمار التنمية».

المرجع السابق صفحة 139

السؤال: ماذا يمكن أن يحققه اقتصاد السوق المعزز بالنظام الديمقراطي، في رأيك انطلاقا من السندات الثلاث؟

التاريخ (13 نقطة)

إجابة الأسئلة (09 نقاط)

1. المطالب السياسية التي تضمنها برنامج هذا الحزب هي : $0,5 \times 9$

- الاستقلال التام والسيادة الكاملة للجزائر.
- تكوين جيش وطني وحكومة وطنية ثورية.
- الانسحاب التام لقوات الاحتلال.
- تكوين المجالس على جميع المستويات عن طريق الانتخابات العامة التي يشارك فيها جميع الجزائريين.

● إطلاق سراح جميع المعتقلين السياسيين.

● تكوين برلمان جزائري.

● حرية التعبير والصحافة والتجمع والعمل النقابي.

● إلغاء البلديات المختلطة وتعويضها ببلديات منتخبة.

● إقرار اللغة العربية لغة رسمية.

2. من المبادئ الأساسية للثورة الجزائرية نجد : $0,5 \times 3$

● «الثورة الجزائرية تريد الحصول على الاستقلال الوطني، لتأسيس جمهورية ديمقراطية واجتماعية ضامنة للمساواة الحقيقية بين جميع مواطني الوطن الواحد».

● «ليس هدف الثورة الجزائرية أن تلقي بالجزائريين من أصل أوروبي إلى البحر ولكن هدفها تدمير النير الاستعماري اللاإنساني».

● «الثورة الجزائرية ليست حربا أهلية أو دينية».

3. النقاط الرئيسية المشتركة في ردود أفعالهم السلطات الفرنسية وسياستها :

● يرى الكثير منهم أن هذه الحركة مدعومة من القاهرة، في حين ردد البعض الآخر أن مصدرها بودابست التي تمثل العالم الشيوعي. فهم يجمعون على أنه لا يوجد في الجزائر إلا حفنة من

المتمردين العملاء تحركهم هذه الأيدي الخارجية. $0,5$

● إظهار القوة والعزيمة لخنق هذا التمرد، وإحكام العمليات البوليسية في جبال الأوراس

وجرجرة. $0,5$

● تحسين الوضع المادي بتوفير فرص العمل للجزائريين، وتحقيق المساواة في الحقوق

وواجبات ونشر التعليم وإصلاح الطرق والري. 0,5

● تطبيق دستور الجزائر 1947م وترسيم اللغة العربية، مع تشجيع البعض لفكرة احترام الدين

الإسلامي وإلغاء البلديات الممتزجة ونظام الحكم العسكري في جنوب البلاد. 0,5

● رفض التفاوض مع حفنة من المتمردين، سيتم القضاء عليهم بقوة السلاح. والتمسك بفكرة عدم

وجود مشكل سياسي، مع التأكيد على شعار «الجزائر فرنسية». 01

الوضعية الإدماجية (04 نقاط)

اعتبر السيد محمد يزيد هذه المظاهرات بمثابة تقرير للمصير. إذ ما كان ليصدر هذا الحكم لو لم تكن هذه المظاهرات كبيرة جدا، شاركت فيها جميع الشرائح الاجتماعية بالرغم من الإرهاب الذي كانت تمارسه شرطة المدن معززة بالجيش الاستعماري؛ ولولا ذلك الأثر البالغ الذي تركته هذه المظاهرات في الرأي العام الفرنسي بما في ذلك الجيش نفسه وكذا الرأي العام العالمي. أما القول الثاني لصحفي كبير في جريدة مشهورة تصدر في عاصمة العدو، فهو بمثابة شهادة لا يمكن أن يستهان بها، إذ أقام مقارنة منطقية بين هذه المظاهرات ومعركة «ديان بيان فو» التي انتصر فيها الثوار الفيتناميون سنة 1954م على الجيش الفرنسي الذي كان في أوج قوته.

ولذلك يمكن القول أن تلك المظاهرات المباركة قد عجلت بالدخول في المفاوضات الجدية والنهائية، التي توجت بالاستقلال التام سنة 1962م. وهكذا وقع التكامل بين العمل المسلح للثورة والعمل السياسي الجماهيري السلمي للشعب ككل. وصدق الدكتور الشهيد سي محمد الذي قال مقولته المشهورة «جيش التحرير ليس شيئا بدون الشعب والشعب ليس شيئا بدون جيشه».

André Mandouz-La Révolution Algérienne

Editions Anep 2006

الجغرافيا (07 نقاط)

إجابة الأسئلة (04 نقاط)

1. تعريف اقتصاد السوق : 0,25×5

● اقتصاد السوق هو قبل كل شيء الاقتصاد الذي تظهر فيه حقيقة الأسعار، ويجب القيام بثلاث إجراءات حتى تؤدي حقيقة الأسعار دورها، وهي :

أ - تحرير الأسعار من أجل السماح لها بأداء دورها المتمثل في الملاءمة بين العرض والطلب وكذا في بث المعلومات.

ب - القضاء على الاحتكار وتطوير ميكانيزمات المنافسة للاستفادة من تحرير الأسعار. فالاحتكار ينجم عن توزيع رديء للموارد.

ج - تشجيع الاقتصاد الوطني من جهة على التفتح على الاقتصاد العالمي لتقبل فكرة أن يصبح نطاق الأسعار العالمي هو الضابط للندرة على المستوى الوطني وحثه من جهة أخرى على المشاركة في التوزيع الدولي للعمل.

● اقتصاد السوق هو اقتصاد تنمو فيه الوساطة المالية.

● اقتصاد السوق هو اقتصاد تهيمن فيه الملكية الخاصة لوسائل الإنتاج.

2. نظام اقتصاد السوق الأكثر نجاعة بالنسبة للجزائر : $0,25 \times 4$

● لم يتم بعد في الجزائر إرساء أسس قاعدية متينة لاقتصاد السوق، لذلك ينبغي أن يتواصل تدخل الدولة الاستثمار لتفادي استمرار التراكم لفائدة الخراج فقط. ولذلك فإن اقتصادنا ينبغي أن يستمر في الحفاظ على بعده الحكومي لفترة.

● استمرار إنتاج احتياجات المواطنين، والقدرة على منافسة الشركات العملاقة.

● الاحتفاظ بدور الدولة مع الاحتفاظ بالتشاور الاجتماعي وتدخل الدولة كلما دعت الضرورة

لذلك، مع ترك المبادرة الخاصة تلعب دورها كاملا.

● توسيع مجال الشراكة مع القطاع الأجنبي، وضرورة التفكير والاستعداد لغزو أسواق خارجية.

3. من النتائج السلبية للزحف العمراني : $0,25 \times 7$

● اكتضاض المدن وظهور المشاكل الاجتماعية والنفسية.

● البناء الفوضوي والقصديري وتقلص الأراضي الفلاحية لصالح العمران.

● التجارة الفوضوية على الأرصفة والتهافت على الأعمال الطفيلية غير المنتجة.

● صعوبة الحركة والتنقل في المدينة الواحدة وبين المدن.

● انخفاض الاهتمام بالعمل الفلاحي بكل فروع.

● عدم مسايرة الخدمات الاجتماعية للكثافة المتزايدة.

● تفاقم ظاهرة التلوث بجميع أشكاله ودرجاته.

الوضعية الإدماجية (03 نقاط)

يضع اقتصاد السوق المعزز بالديمقراطية حدا في دول الجنوب لثلاثة احتكارات: الاحتكار السياسي، الاحتكار الإيديولوجي والاحتكار الاقتصادي. ويحقق التوازن بفضل وفرة السلع والبدايل الاستهلاكية، انتشار موارد التنمية في المجتمع والضبط السياسي والإداري للتغيرات الاقتصادية والاجتماعية. 01

ثم إن اقتصاد السوق والديمقراطية وجهان لعملة واحدة هي التنمية. كما أن اقتصاد السوق يتطلب دولة عصرية، والدولة العصرية هي قبل كل شيء دولة ديمقراطية، تقبل التداول على السلطة بالانتخابات. 01

وهكذا يكون اقتصاد السوق المعزز بالديمقراطية محققا للمساواة بين كافة المستخدمين فيما يتعلق بالاستفادة من المرافق العامة الكبرى : التربية، الصحة، الأمن العمومي، التضامن الاجتماعي والتماسك الاجتماعي. 01

التاريخ (13 نقطة)

الأسئلة (09 نقاط)

1. دخلت الجزائر منذ تفجير ثورتها التحريرية معترك الحياة العالمية، تقوم فيها بدور خلاق وفعال. ولا تزال تعمل جاهدة لتغليب مبادئها ضمن رؤيتها لهذا النظام الدولي الجديد المزمع تثبيت أركانه.

حدّد أهم ما ينادي به هذا النظام الدولي الجديد، وما رأيك في النوايا الخلفية للجزائر أن تتعامل معه ؟

2. خرج الشعب الجزائري يوم 11 ديسمبر 1960م في مظاهرة كبيرة بالعاصمة.

اذكر السبب المباشر لتنظيم هذه المظاهرة وكيف ووجهت من طرف السلطات الاستعمارية ؟ وما هي النتائج المترتبة عنها ؟

3. من أجل تعزيز الكفاح المسلح في أرض الوطن قرر قادة الثورة في مؤتمر الصومام تشديد الخناق على السلطات الفرنسية في عقر دارها باريس، فكلفت فدرالية جبهة التحرير الوطني بفرنسا بمهام جديدة. ما هي هذه المهام ؟

الوضعية الإدماجية (04 نقاط)

السند :

«بما أن الاستعمار الفرنسي يستهدف تجريد الشعب الجزائري من شخصيته بالقمع ثم القضاء على ثقافته الخاصة، فإن الاتحاد العام للطلبة المسلمين الجزائريين يحدّد لنفسه مهمة استرجاع وتطوير الثقافة العربية الإسلامية التي بدونها يشعر المثقف الجزائري بأنه مستلب ومعزول عن شعبه».

André Mandouz-La Révolution Algérienne par les textes P 125

السؤال: استعن بالسند وبمعلوماتك السابقة عن الموضوع وحدّد النموذج الثقافي للطلبة الجزائريين كما عبروا عنه خلال الثورة التحريرية.

الجغرافيا (07 نقاط)

الأسئلة (04 نقاط)

1. تعتبر المسألة العقارية أهم مشكل يشغل اليوم الفلاحين.

فما هي خلفيات هذه المسألة وما السبيل إلى حلها ؟

2. إن الاقتصاد الوطني لم يصل بعد حسب الخبراء إلى ما يصبو إليه المسؤولون عنه والشعب الجزائري من القدرة على التنافس من جهة، واستيعاب كل اليد العاملة التي تجوب سوق العمل من جهة أخرى. فما السبيل إلى بلوغ هذين الهدفين؟

الوضعية الإدماجية (03 نقاط)

السند :

«عُرّف الاكتفاء الذاتي بالكفاءة التي يملكها بلد ما للاستجابة بشكل مستقل للحاجيات الغذائية لسكانه. تقاس هذه الكفاءة بتحديد مؤشر الاكتفاء الذاتي الغذائي الذي يستطيع أن يأخذ بعين الاعتبار عينة من المنتجات التي تستهلك في البيوت أو جميع المنتجات المحسوبة في الاحتياطات الغذائية بما في ذلك تلك التي حصصت للسوق الخارجية».

فريد عبدوش - الحبوب والأمن الغذائي في الجزائر - صفحة 19

السؤال: يحاول القائمون على السياسة الفلاحية ببلادنا أن يصلوا بالبلاد إلى مرحلة الاكتفاء الذاتي في المواد الغذائية الأساسية على الأقل، لكن تبعيتنا للخارج في بعض المواد مثل القمح ومشتقاته والبقول بل وحتى البطاطا لا تزال قائمة !
استعن بمحتوى السند وبمعلوماتك السابقة عن الموضوع فيما يتعلق بكميات الإنتاج والاستيراد، ثم اقترح ما ينبغي على السياسة الفلاحية أن تقوم به للوصول إلى الاكتفاء الذاتي الغذائي عندنا.

التاريخ (13 نقطة)

إجابة الأسئلة (09 نقاط)

1. ينادي به هذا النظام الدولي الجديد، على الأقل في الظاهر بما يلي : $0,25 \times 11$

- نظام اقتصادي جديد تتلاشى فيه الحدود الجمركية بمفهومها القديم، بمعنى تسهيل مرور البضائع لجميع الدول إلى جميع الأسواق العالمية.
- تمكين الجميع من الاستفادة من الرفاه الاقتصادي العالمي.
- تمكين الشركات عن طريق قوانين جديدة من الاستثمار في كل مكان دون قيود، أي الاتجاه نحو الشراكة بين شركات متعددة الجنسيات.
- نشر الديمقراطية على نطاق واسع، ومنع الأنظمة الديكتاتورية من السيطرة بالقوة على شعوبها. وهذا النوع من التدخل في الشؤون الداخلية للشعوب.
- منع الحروب الداخلية والخارجية، والاتجاه نحو التعايش السلمي بين الشعوب وفض النزاعات عن طريق التحكيم.

أما النوايا الحقيقية للمتزمين لهذا النظام فهي :

- الوصول إلى تحقيق الوحدة القطبية، حيث تصبح أمريكا صاحبة النفوذ الأكبر في التسيير العالمي، تليها أوروبا.
- من أهم المؤسسات المؤثرة في هذا النظام مجلس الأمن، البنك العالمي والمنظمة العالمية للتجارة. والجزائر من أوائل الدول التي نادت ولا تزال تنادي بإقامة نظام دولي جديد يقوم على مجموعة من مبادئ أكثر عدلا، هي :
- نظام قائم على الشرعية الدولية وليس على شرعية الدول العظمى فقط.
- علاقات الاحترام المتبادلة بين دول الشمال ودول الجنوب.
- احترام خصوصيات كل دولة.
- احترام حق الشعوب في تقرير مصيرها بنفسها.
- الحوار المتبادل بين الديانات والثقافات والحضارات للقضاء على ما يسمى بصراع الحضارات.

2. السبب المباشر لتنظيم هذه المظاهرة هو : 1,25

اعتداء بعض المستوطنين الأوروبين على بعض الجزائريين، فتدخل الشبان الجزائريون لمساعدة إخوانهم وأطلق الجيش الاستعماري النار عليهم. وهنا عمت المظاهرات أحياء مدينة الجزائر، شاركت فيها النساء، الأمر الذي رفع من معنويات الشبان المتظاهرين فهتفوا بحياة الجزائر وجبهة التحرير والحكومة المؤقتة، ورفعوا العلم الوطني. وقد أفضت هذه المظاهرات إلى :

● تظن الجيش الفرنسي إلى حقيقة مساندة الشعب الجزائري للثورة وللحكومة المؤقتة. ... 0,5

● تأثر الرأي العام العالمي بهذه المظاهرة، وتأييد الدول لحق الشعب الجزائري في تقرير

مصيره. 0,5

● ارتفاع معنويات المجاهدين، وانخراط الشباب بأعداد كبيرة في صفوف جيش التحرير

الوطني. 0,5

● ارتباط الشعب أكثر بالثورة وتنفيذه لأوامر القيادة الثورية. 0,5

3. من مهام فدرالية جبهة التحرير الوطني بفرنسا : 0,5×6

● تنظيم الجالية الجزائرية بفرنسا وتجنيدتها في صفوف جيش التحرير الوطني وتعبئتها لخدمة

أهداف الثورة المضفرة.

● نقل الكفاح المسلح إلى ما وراء الحدود الجزائرية وبالتحديد إلى أراضي العدو.

● إشراك الجالية الجزائرية التي فاق عددها آنذاك 450.000 نسمة في الثورة التحريرية.

● تكوين تنظيم سياسي وعسكري وفتح جبهة ثانية داخل أرض العدو، قصد إرهاقه وتشتيت طاقته

والتخفيف من الضغط الذي يمارسه جيش العدو على الجبهة الداخلية بواسطة الصحافة والملتقيات

والإضراب والاحتجاج ضد نقل الجنود والأسلحة والبضائع إلى الجزائر.

● العمل من أجل كسب أنصار الحاج مصالي إلى صفوف جبهة التحرير الوطني وجمع

الاشتراكات حيث شكلت نسبة 50% من ميزانية الحكومة الجزائرية المؤقتة.

● تحسيس الرأي العام الفرنسي والدولي بالمأساة التي يعيشها الشعب الجزائري جراء الاستعمار،

والذي توجّ بإنشاء شبكات دعم شارك فيها فرنسيون متعاطفون مع الثورة الجزائرية.

الوضعية الإدماجية (04 نقاط)

أثر إلتحاق الطلبة بصفوف الثورة بصفة كبيرة في السياسة التضليلية الفرنسية، فافتنع السياسيون والشعب الفرنسي تصريحاً أو ضمناً بأن الثورة ليست معزولة عن الشعب ومثقفيه.

01.....

أما على المستوى الداخلي، فقد تلقت الثورة دعماً جديداً عزز صفوفها، وحسّن من أدائها عسكرياً وإدارياً، ومنهم من أرسل إلى الخارج لمتابعة دراسته ليعود إلى الجزائر بعد الاستقلال كإطار؛ فأصبحوا فيما بعد النواة الأولى للدولة الجزائرية المستقلة. 1,5

والنموذج الثقافي الذي تمسكوا به ودافعوا عنه هو النموذج العربي الإسلامي المتفتح سواء على الثقافة المحلية أو العالمية. فبفضل تلك الإيديولوجية حافظت الجزائر على شخصيتها وثقافتها وتاريخها وعقيدتها. وقد تكرر كل ذلك في الدستور الجزائري والقوانين المنبثقة عنه. 1,5

الجغرافيا (07 نقاط)

إجابة الأسئلة (04 نقاط)

1. تعتبر المسألة العقارية في بلادنا المحور الأساسي والمشكل الجوهري في السياسة الفلاحية ببلادنا، وهي أهم قضية تشغل بال الفلاحين وغيرهم من المواطنين، لكون الحياة الاقتصادية في جوهرها مرتبطة بها أيما ارتباط. فمن الناحية التاريخية وجدت الجزائر نفسها مجبرة على تسيير 22000 مستثمرة فلاحية غادرها المعمرون الأوروبيون، فأصبحت الدولة تملك 36% من

الأراضي الصالحة للزراعة (SAU). وقد صنفتم المستثمرات وإلى عهد قريب إلى : 0,75

● مستثمرات فلاحية جماعية (EAC) وعددها 30234. 0,25

● مستثمرات فلاحية فردية (EAI) وعددها 51783 تتقاسم 32% من الأراضي الفلاحية

الصالحة (SAU). 0,25

وتعاني هذه المستثمرات من مشاكل عدة نذكر منها : 0,25×3

● قلة المياه وسوء توزيعها إذ يتلقى 70% في الجزء الشمالي 92% من المياه. و 80% من

الكمية الإجمالية تتركز على الأحواض الوسطى والغربية.

● ضعف الري، إذ لا تتعدى نسبة الأراضي الفلاحية الصالحة المروية %4، ونسبة زيادة الأرض المروية سنويا %1,5.

● المساحة الفلاحية الصالحة للفلاحة قليلة جدا.

والسبيل إلى حل هذه المشاكل يكمن في : $0,25 \times 5$

● إعادة النظر في السياسة العقارية، وذلك بتمليك الفلاحين الأرض أو كراءها لهم لفترات طويلة المدى.

● توسيع الأراضي الصالحة للزراعة على حساب الصحراء والجبال والأحراش والأراضي المهجورة هنا وهناك.

● تحسين المساعدات المقدمة للفلاحين.

● إعادة النظر في سياسة عجز المياه لتوسيع الرقع المسقية.

● تزويد الفلاحين بالوسائل والتقنيات المساعدة على تطبيق الرش قطرة قطرة.

2. هناك مجموعة من الإجراءات يجب القيام بها لتحقيق الهدفين المذكورين وهي : $0,25 \times 5$

● تطوير الزراعة في المناطق الصحراوية والجبلية في شكل تعاونيات أو بصفة فردية.

● تشجيع الاستثمار الأجنبي ابتداء من إخواننا العرب على أن تشغل اليد العاملة الجزائرية.

● تشجيع الصناعات المتوسطة والحرفية ذات العلاقة بالحاجيات الاستهلاكية الوطنية الحقيقية.

● إجراء تجارب على أنواع جديدة من المزروعات القابلة للنمو ببلادنا.

● تشجيع وتطوير الصناعة السياحية لأن الجزائر تملك قدرات هائلة في هذا المجال.

الوضعية الإدماجية (03 نقاط)

رتبت الجزائر في المرتبة الأولى من حيث استهلاك الحبوب خاصة القمح، إذ يصل معدل

الاستهلاك الفردي يوميا 500g في حين تستورد %70 من احتياجاتها من هذه المادة.

كما تستهلك 3 ملايين لترا من الحليب سنويا، ثلثا هذه الكمية مستورد من الخارج. وسعره قد

تضاعف في السوق العالمية في سنة 2007م، كما ارتفع سعر القمح أيضا إلى أزيد من الضعف!

..... $1,5$

لذا فإن السياسة الفلاحية في بلادنا تقتضي اختيار اتجاه سياسي يرمي إلى توجيه المنتجين

الفلاحيين مهما كان وضعهم القانوني، وتشجيعهم بكل الأساليب والإمكانيات المتاحة للرفع من

الإنتاج الفلاحي عموما ومن المواد الأساسية التي يكثر استهلاكها في البلاد خصوصا. إلى جانب

السهر على تنظيم ثم تصريف الإنتاج، إعادة تنظيم الأسواق بطريقة عصرية، ضبط قضية الأسعار ذات العلاقة بالعرض والطلب، التوسط بين العمال في هذا القطاع وأرباب العمل حتى لا تتصارع مصالحهم إلى درجة تعطيل دواليب الإنتاج وتدعيم الأسعار عند الضرورة لحماية القدرة الشرائية لذوي الدخل المحدود.1,5

فهرس الكتاب

- 1 ● جدول اختبارات شهادة التعليم المتوسط 01
- 2 ● طبيعة اختبار مادة التاريخ والجغرافيا 02
- 3 ● تنظيم الوقت 02
- 4 ● كيف تستعمل هذا الكتاب ؟ 03
- 5 ● نصائح عامة لتحضير الامتحان من 03 إلى 04
- 6 ● نشاط الإدماج 05
- 7 ● فهرس المحتويات في التاريخ 06
- 8 ● فهرس المحتويات في الجغرافيا 07
- 9 ● المواضيع وحلولها

حلول	نصوص		
10	08	الموضوع 01
16	14	الموضوع 02
21	19	الموضوع 03
27	25	الموضوع 04
33	31	الموضوع 05
40	38	الموضوع 06
46	44	الموضوع 07
52	50	الموضوع 08
57	55	الموضوع 09
62	60	الموضوع 10
67	65	الموضوع 11
72	70	الموضوع 12
77	75	الموضوع 13
81	80	الموضوع 14
87	85	الموضوع 15
93	91	الموضوع 16
99	97	الموضوع 17
104	102	الموضوع 18
109	107	الموضوع 19
115	113	الموضوع 20