

الوحدة المفاهيمية: تحويل الأغذية في الأنبوب الهضمي

الحصة التعليمية: I- الهضم على مستوى الفم (1) الجهاز الهضمي للإنسان

الكفاءة القاعدية: يتعرف على مختلف التحولات التي تطرأ على الأغذية في الأنبوب الهضمي.

مؤشر الكفاءة: أن يتعرف التلميذ على أعضاء الأنبوب الهضمي والأعضاء الملحقة ويميز بينها.

الوسائل: مجسم لجسم الإنسان - لوحة صماء أو رسم للجهاز الهضمي - كتاب التلميذ.

### المنهجية

\* **وضعية الانطلاق:** مراجعة علاقة الإنسان ببيئته وضرورة توفر الغذاء لاستمرار الحياة.

\* **طرح المشكلة:** تساؤل: أين تذهب الأغذية التي يتغذى عليها الإنسان؟  
الفرضية: تذهب إلى الفم - الأمعاء - الأنبوب الهضمي ...

\* **مسعى حل الإشكالية:** مخطط العمل

\* فكك المجسم الموجود على المكتب وحدد الأعضاء التي يمر بها الغذاء منذ دخوله الفم.

1 - ارسم الشكل (أ) من السبورة واكتب البيانات المناسبة.

2 - اذكر الأعضاء الملونة بالأحمر وقل ماذا تشكل.

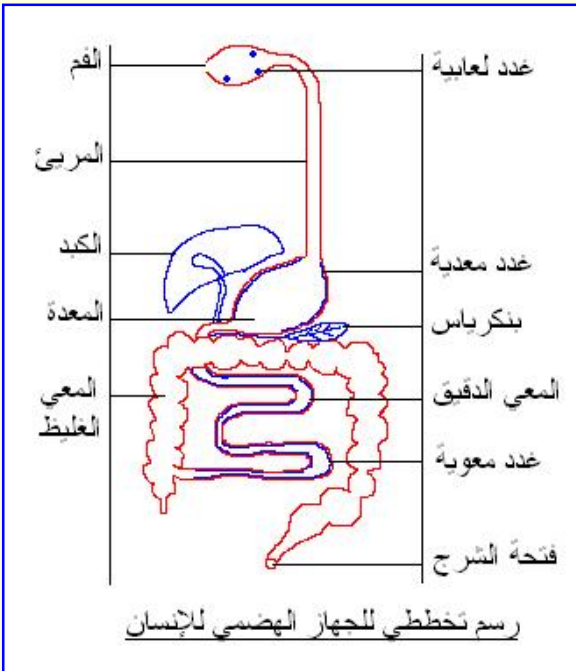
3 - ماذا تشكل الأعضاء الملونة بالأزرق؟

4 - أكمل المعادلة التالية: الجهاز الهضمي = ..... + .....

\* **النتيجة:**

1 - الشكل

(يصحح التلاميذ البيانات على الكراس بعد كتابتها على السبورة).



2 - الأنبوب الهضمي.

3 - الأعضاء الملحقة.

4 - الجهاز الهضمي = الأنبوب الهضمي + الأعضاء الملحقة.

\* **الخلاصة**

أ - الأنبوب الهضمي: هو مجموعة من الأعضاء المتصلة

بعضها على شكل أنبوب وهي الفم، البلعوم، المريء، المعدة، المعى الدقيق، المعى الغليظ وفتحة الشرج.

ب - الأعضاء الملحقة هي: الغدة اللعابية، الغدة المعدية، الكبد، البنكرياس والغدة المعوية.

\* الأنبوب الهضمي والأعضاء الملحقة تشكل الجهاز الهضمي.

\* **التقويم:** النشاط 1 - صفحة 14 من كتاب التلميذ.

حدد الأعضاء التي تمثلها الصور (أ)، (ب) و (ج).

(أ) المعى الدقيق.

(ب) المعدة.

(ج) المعى الغليظ.

بسم الله الرحمن الرحيم

الأستاذ عوشت عمر

رقم المذكرة: 02

المجال المفاهيمي: التغذية عند الإنسان

الوحدة المفاهيمية: تحويل الأغذية في الأنبوب الهضمي

الحصة التعليمية: I - الهضم على مستوى الفم

(2) الهضم الآلي في الفم

الكفاءة القاعدية: يتعرف على مختلف التحولات التي تطرأ على الأغذية في الأنبوب الهضمي.

مؤشر الكفاءة: أن يلخص التلميذ عملية الهضم الآلي في فقرة قصيرة بأسلوب سليم.

الوسائل: خبز (قطعة لكل فوج) - علب بيتري (5) - لوحة تمثل أعضاء الفم.

المنهجية

وضعية الانطلاق.

الإشكالية: تساؤل: ما دور الجهاز الهضمي؟

الفرضية: هضم الأغذية - تحويل الأغذية ...

مسعى حل الإشكالية: مخطط العمل

التجربة: امضغ جيدا قطعة خبز صلبة

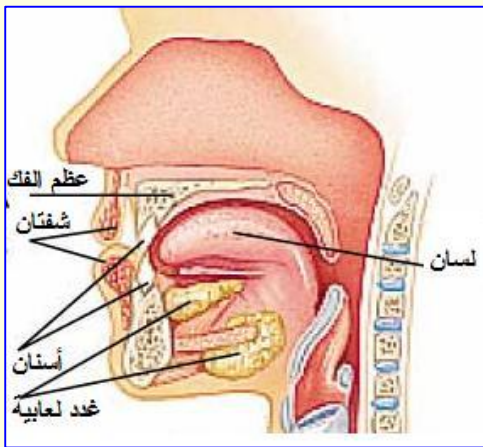
ثم ضع اللقمة المحصل عليها في وعاء.

1 - قل كيف أصبحت قطعة الخبز.

2 - اذكر العناصر التي سمحت بتحويل الخبز.

3 - كيف تسمى هذه العملية؟

4 - لخص هذه التجربة وما استنتجته في فقرة قصيرة.



النتيجة: 1 - تصبح لقمة الغذاء نصف سائلة.

2 - العناصر التي تحول الغذاء هي الأسنان واللحاب بمساعدة اللسان.

3 - تسمى هذه العملية الهضم الآلي.

4 - خلاصة

الخلاصة: يطحن الغذاء في الفم بفضل الأسنان ويلبب بفضل اللعاب الذي تفرزه الغدة اللعابية

إلى أن يتحول إلى لقمة نصف سائلة و تسمى هذه العملية بالهضم الآلي.

الوحدة المفاهيمية: تحويل الأغذية في الأنبوب الهضمي

الحصة التعلمية : I - الهضم على مستوى الفم

(3) الهضم الكيميائي في الفم (4) الأنزيمات

الكفاءة القاعدية: يتعرف على مختلف التحولات التي تطرأ على الأغذية في الأنبوب الهضمي.

مؤشر الكفاءة: أن يستنتج دور اللعاب من تحليل تجربة يقوم بها.

الوسائل: موقد - أنابيب اختبار - ماسك - محلول فهلينج - ماء اليود - مطبوخ النشاء - كتاب التلميذ - لوحات.

المنهجية

**وضعية الانطلاق.** ما الذي يحدث للأغذية في الأنبوب الهضمي؟ - تهضم الأغذية آليا.

**طرح المشكلة:**

**المشكلة:** تساؤل: كيف يكون شكل الأغذية في الأمعاء الغليظة؟

- تتغير الأغذية من حيث الشكل ، اللون والرائحة - لماذا يحدث ذلك؟

**الفرضية:** يوجد إذن هضم آخر هو الهضم الكيميائي.

**مسعى حل الإشكالية:**

**مخطط العمل**

التجربة: نضع في أنبوبين (أ) (ب) كمية من مطبوخ النشاء ونضيف للأنبوب (ب) قليلا من اللعاب ثم نضع الأنبوبين في حمام حرارته 37 درجة حيث تتركهما مدة 10 دقائق.

- بعد 10 دقائق نوزع محتوى كل أنبوب على أنبوبين آخرين (أ1) (أ2) و(ب1) (ب2)

1 - ضع قطرات من ماء اليود في الأنبوب (أ1) - سجل ما تلاحظه واستنتج.

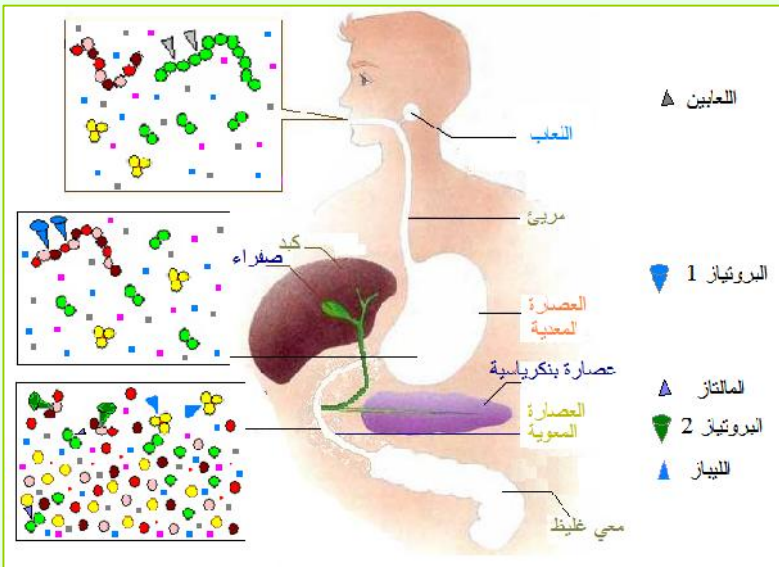
2 - ضع قطرات من محلول فهلينج في الأنبوب (أ2) وسخنه - سجل ما تلاحظه واستنتج.

3 - ضع قطرات من ماء اليود في الأنبوب (ب1) - سجل ما تلاحظه واستنتج.

4 - ضع قطرات من محلول فهلينج في الأنبوب (ب2) وسخنه - سجل ما تلاحظه واستنتج.

5 - استخلص من هذه التجربة دور اللعاب.

6 - لاحظ الوثيقة (4) صفحة 17 من الكتاب وفسر كيف يقوم اللعاب بدوره.



**\* الأنزيمات**

7 - ما هو اللعاب.

8 - ارجع إلى الكتاب صفحة 20

واذكر عناصر أخرى مثل اللعاب.

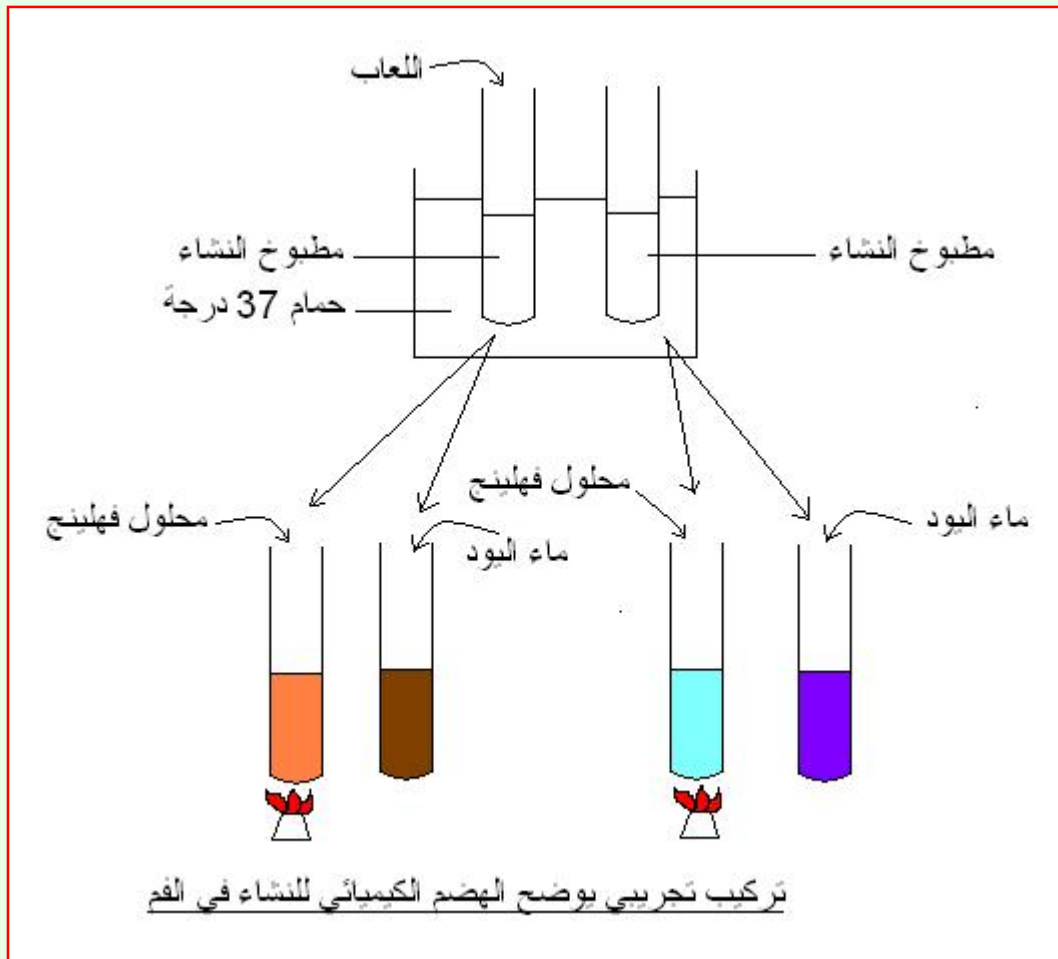
9 - ادرس الوثيقة 2 صفحة 18

واكتب في فقرة ما تستخلصه من التجربة.

## النتيجة:

- 1 - يظهر في الأنبوب (أ1) لون أزرق بنفسجي يدل على وجود النشاء.
- 2- لم يتغير لون محلول فهلينج إلى الأحمر أجوري في الأنبوب (أ2) إذن لا يوجد فيه سكر مرجع
- 3- لا يظهر لون أزرق بنفسجي في الأنبوب (ب1). إذن، هو لا يحتوي على النشاء.
- 4- يظهر لون أحمر أجوري في الأنبوب (ب2). إذن يوجد سكر في هذا الأنبوب.
- 5- اللعاب حول النشاء إلى سكر الشعير.
- 6- اللعاب يقوم بتفكيك جزيئات النشاء (غذاء بسيط متعدد الوحدات) إلى عناصر أبسط هي سكر الشعير.
- 7- اللعاب سائل تفرزه الغدة اللعابية ويحتوي على خميرة اللعابين (مالتاز) التي تحول النشاء إلى سكر الشعير.
- 8- أنزيمات أخرى مثل اللعابين: البروتياز والليباز.
- 9- نستخلص من هذه التجربة أن للأنزيمات تأثير نوعي حيث أن كل أنزيم يحول غذاءا معينا.

**الخلاصة:** تتمثل في خلاصة أجوبة التلاميذ أي النتيجة أعلاه.



الوحدة المفاهيمية: تحويل الأغذية في الأنبوب الهضمي.

الحصة التعليمية: II- مسار ومصير الغذاء في الأنبوب الهضمي.

الكفاءة القاعدية: يتعرف على مختلف التحولات التي تطرأ على الأغذية في الأنبوب الهضمي.

مؤشر الكفاءة: أن يربط التلميذ بين مستويات الهضم، الأنزيمات المناسبة والمغذيات الناتجة.

الوسائل: كتاب التلميذ - لوحة الجهاز الهضمي - جدول تحليل الأغذية.

### المنهجية

#### وضعية الانطلاق:

- أين تمر الأغذية التي يتغذى عليها الإنسان؟
- ماذا يحدث لهذه الأغذية؟
- أين يبدأ الهضم وماذا ينتج عنه؟
- في الأنبوب الهضمي.
- تهضم آليا وكيميائيا.
- يبدأ في الفم وينتج عنه لقمة نصف سائلة بها سكر الشعير.

**الإشكالية:** تساؤل: تكون المدة التي تقضيها الأغذية في الأنبوب الهضمي طويلة. لماذا؟

**الفرضية:** تطول مدة الهضم حتى تؤثر العصارات الهاضمة على الأغذية وتحولها.

#### مخطط العمل

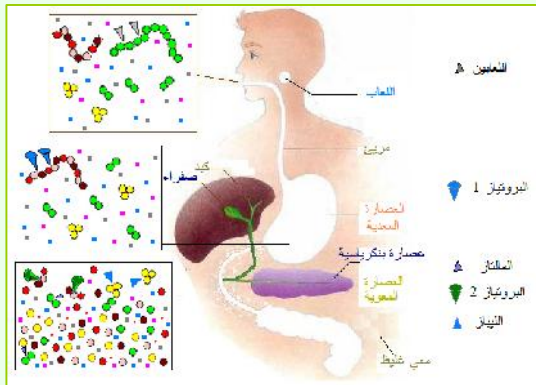
#### مسعى حل الإشكالية:

\* ادرس الوثيقة 1 للنشاط 4 ( صفحة 20 من الكتاب ) واجب عن الأسئلة المناسبة 2،1 و3.

#### النتيجة:

- 1- \* في المعدة: عصارة هاضمة بها أنزيم البروتياز(1) - بروتين - نشاء - دسم - سكر الشعير - ماء - أملاح معدنية - فيتامينات.
- \* في المعى الدقيق: عصارات هاضمة (العصارة البنكرياسية والمعوية) بها الأميلاز البنكرياسية، البروتياز(2)، الليباز وأنزيمات مبسطة للسكريات
- \* في المعى الغليظ : فضلات.
- 2- محتوى المعدة : أغذية ذات جزيئات ضخمة وأخرى محللة.
- محتوى المعى الدقيق : أغذية محللة ذات جزيئات بسيطة.
- محتوى المعى الغليظ : أغذية لم تهضم.
- 3- تنتقل الأغذية عبر أعضاء الأنبوب الهضمي إلى أن تصل إلى الأمعاء الدقيقة وخلال ذلك تحدث لها عدة تحولات .

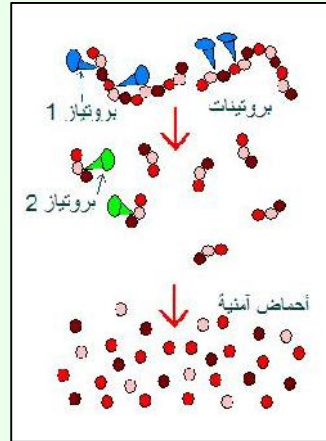
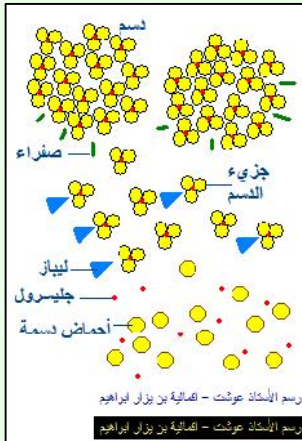
\* ادرس الوثيقة 2 صفحة 21 واجب عن الأسئلة المناسبة (2و1).



الغذاء	الغذاء المبسط	الأنزيم
البروتيد		
النشاء		
سكر الشعير		
الدسم		
ماء		
أملاح معدنية		
فيتامينات		
ألياف		

- \* تتحول الأغذية خلال مرورها في الأنبوب الهضمي بفضل الأنزيمات إلى أغذية ذات جزيئات بسيطة هي:
- سكر العنب (الجلوكوز).
  - الأحماض الأمينية.
  - الأحماض الدسمة - غليسيرول.
- \* بعض الأغذية تمر دون تحول وهي الماء - الفيتامينات والأملاح المعدنية (الأيونات).
- \* مجموع هذه العناصر يشكل في الأمعاء المغذيات.
- \* أما العناصر التي لا يتم هضمها تنتقل إلى الأمعاء حيث تشكل الفضلات.

الغذاء	الغذاء المبسط	الأنزيم
البروتين	أحماض أمينية	البروتياز 1 + البروتياز 2
النشاء	سكر الشعير (مالتوز)	الأميلاز
سكر الشعير	سكر العنب (جلوكوز)	المالتاز
الدسم	أحماض دسمة + جليسيرول	الليباز
ماء	ماء : لا يتحول	/
أملاح معدنية	أملاح معدنية : لا تتحول	/
فيتامينات	فيتامينات : لا تتحول	/
ألياف	لا تتحول : ألياف	/



### الخلاصة: الفقرة 3 من النتيجة .

#### التقويم التحصيلي:

- حدد الخطأ في الوثيقة 3 - صفحة 19.
- حدد ما ينقص في الوثيقة 4 - صفحة 19.

#### الحل:

- أنزيم البروتياز (2) في الوثيقة 3.
- ينقص شكل الأنزيم في الوثيقة 4.



المجال المفاهيمي: التغذية عند الإنسان	رقم المذكرة: 05	الأستاذ عوشت عمر
<p>الوحدة المفاهيمية: امتصاص المغذيات</p> <p>الحصة التعليمية: I) بنية جدار المعى الدقيق II) بنية الزغابة المعوية III) مقر الامتصاصي</p> <p>الكفاءة القاعدية: يحدد الخصائص البنيوية لمقر امتصاص المغذيات.</p> <p>مؤشر الكفاءة: أن يلخص التلميذ بنية المعى ودور الزغابة في امتصاص المغذيات.</p> <p>الوسائل: كتاب التلميذ ( الوثائق صفحة 22 - 23 ) - لوحات تمثل البنية الداخلية للمعى والزغابة المعوية.</p>		
المنهجية		
<p>* <b>وضعية الانطلاق:</b> قل في أي عضو انتهت عملية الهضم - انتهت في المعى الدقيق.</p> <p>* <b>الوضعية الإشكالية:</b> تساؤل: أين تذهب المغذيات؟</p> <p><b>الفرضية:</b> تذهب إلى الدم - إلى مختلف أنحاء الجسم.</p> <p>* <b>مسعى حل الإشكالية</b> <u>مخطط العمل</u></p> <p>اعتمادا على الوثائق صفحة 22 - 23 من كتاب العلوم اجب عن الأسئلة التالية:</p>		
<p><b>أ) البنية الداخلية للمعى الدقيق</b></p> <p>1- ادرس الوثيقة (6) وصف ما تلاحظه.</p> <p>2- لاحظ الوثيقة (2) وحدد ما يحمله الجدار الداخلي للمعى الدقيق.</p> <p>3- لاحظ الوثائق (1) (3) و (4) و اشرح ما هي الزغابات المعوية.</p>		
<p><b>ب) بنية الزغابة المعوية</b></p> <p>4 - لاحظ الوثيقة (1) وقل أين تذهب الأوعية الدموية المنتشرة في جدار المعى الدقيق.</p> <p>5 - ماذا تمثل كل من الوثائق (3)، (4) و (7).</p>		
<p><b>ج) مقر الامتصاص</b></p> <p>6 - ماذا يمثل جدول الوثيقة (5)؟</p> <p>7 - قل كيف هي نسبة المغذيات في الدم الصادر من الزغابات المعوية مقارنة مع الدم الوارد إليها.</p> <p>8 - قل ما تستنتج إذن عن دور الزغابة المعوية.</p> <p>9 - الوثيقة (8) توضح رقة جدار الزغابة المعوية - ما أهمية ذلك؟</p>		
<p><b>النتيجة:</b></p> <p>1- المعى الدقيق يشده غشاء غني بالأوعية الدموية يسمى المساريقي.</p> <p>2- يحمل اشتاءات.</p> <p>3- هي عبارة عن شعيرات تحملها اشتاءات المعى الدقيق.</p> <p>4- تذهب إلى الزغابات المعوية.</p> <p>5- بنية الزغابة المعوية تحت المجهر.</p> <p>6- نسب المغذيات في دم الزغابة المعوية قبل وبعد وجبة غذائية.</p> <p>7- نسبة المغذيات في الدم الصادر من الزغابات المعوية تزيد مقارنة مع نسبتها في الدم الوارد.</p> <p>8- نستنتج أن الزغابة المعوية تسمح بانتقال المغذيات من جوف المعى الدقيق إلى دم.</p> <p>9- رقة جدار الزغابة المعوية يسهل انتقال المغذيات من المعى إلى الدم.</p>		
<p><b>الخلاصة:</b> يتميز الجدار الداخلي للمعى الدقيق بوجود اشتاءات عليها زغابات معوية كثيرة غنية بالأوعية الدموية و تشكل هذه البنية سطح تماس واسع بين الأغذية والدم مما يسمح بامتصاص جيد للمغذيات.</p>		

- قل إلى ماذا تتحول الأغذية المهضومة

- أين توجد هذه المغذيات؟

- ما دور المغذيات؟

- إلى مغذيات.

## - فى الأمعاء الدقيقة.

## - تغذية خلايا الجسم.

## كيف تصل المغذيات إلى الخلايا؟

### الفرضيات :

- تمر غير الدم أو غير اللف.

\* مسعى حل الإشكالية

## مخطط العمل

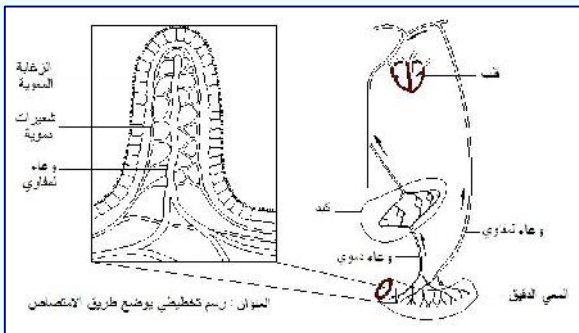
أ - ادرس الوثيقة 1 - صفحة 30 و اشرح ما هي الأوعية للمفاوية.

ب - ما دور هذه الأوعية؟ علل إجابتك.

ج - اقرأ الوثيقة (2) واجب عن الأسئلة 1- 2 - 3.

د - ادرس معطيات الجزء (3) صفحة 31 واجب عن الأسئلة المناسبة.

## النتيجة:



( أ ) هي أوعية تتصل بالمعى الدقيق.

(ب) دورها نقل بعض المغذيات - التعليل: لا تكون هذه الأوعية مرئية إلا عندما تكون الأطعمة المتناولة غنية بالدهن.

ج 1 - يجرى التحليل بعد أن تنتهى عملية الهضم.

2 - اللون الفاتح للأوعية في صورة الوثيقة (2) المأخوذة بعد عملية الهضم تدل على أنها تحوي أغذية.

3 - في حالة صيام كمية الأحماض الأمينية والجلوكوز تكون متساوية في الدم الوارد إلى الأمعاء والدم الصادر منه.

- بعد وجبة، تزيد كمية الأحماض الأمينية والجلوكوز في الدم الصادر من المعى.

\* نستنتج أن الأحماض الأمية والجلوكوز ينتقلان إلى الدم.

(د) 1- المغذيات التي تتنقل في الدم واللمف هي: ماء - أملاح معدنية - جلوكوز - أحماض أمينية - أحماض عضوية

(دسمة) - جليسيرول (حلوين) - فيتامينات.

\* العناصر التي تنتقل إلى الدم فقط هي: الجلوكوز والأحماض الأمينية والفيتامينات.

\* العناصر التي تنتقل إلى اللفف فقط هي: الأحماض العضوية والجليسيرول.

2 - العناصر التي لم تنتقل هي: السليولوز والأنزيمات لأن ليس لها أنزيمات تهضمها ولا تكون بذلك من المغذيات.

### 3 - تصل كل المغذيات إلى الخلايا عن طريق الدم لأن بعضها مر مباشرة في الدم والبعض الآخر مر إلى اللف في

القناة للمفاوية التي تصب في الوريد تحت ترقوي الأيسر - نستنتج أن اللف جزء من الدم لأنه يعود إليه.

**الخلاصة :** - تتغل المغذيات من داخل المعى الدقيق إلى الدم واللمف.

- بعض المغذيات تتغل عبر الدم وبعضها عبر اللف الذي يجرى فى أوعية لمفاوية.

- تصب المغذيات التي مرت إلى اللف في الدم عبر القناة للمفاوية التي تتصل بالوريد تحت ترقوي الأيسر.

- ينقل الدم المغذيات إلى كل خلايا الجسم.



### المنهجية

#### \* وضعية الانطلاق:

- مقدمة: - أين تنتقل المغذيات من الأمعاء؟
- تنتقل المغذيات إلى الدم.
- أين يوجد الدم؟
- يوجد الدم في أوعية دموية.

#### \* الوضعية الإشكالية:

- تساؤل: كيف تصل المغذيات إلى الخلايا إذن؟
- الفرضية: تمر عبر الأوعية الدموية.

#### \* مسعى حل الإشكالية

#### مخطط العمل

#### أ - السائل البيني

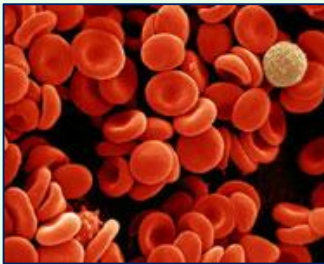
\* اقرأ الوثيقة (1) صفحة 32 من الكتاب واجب.

- 1- ما هو السائل البيني؟
- 2- ما مصدره؟
- 3- أين ينتقل وماذا يشكل؟

#### ب- مكونات الدم

\* اقرأ الوثيقة (2) واجب.

- 1- ماذا يعتبر الدم وما كميته عند شخص وزنه 75 كلغ.
- 2- لمعرفة تركيب الدم يتم فصل مكوناته - قل كيف يتم ذلك.
- 3- ما هي مصورة الدم؟
- 4- أذكر العناصر التي تحتوي عليها المصورة.
- 5- حدد العنصر الذي لم يذكر في الجدول ضمن مكونات المصورة؟
- 6- لاحظ اللوحة (ب) التي تمثل سحبة دموية تحت المجهر واذكر مكونات الدم.
- 7- مثل صورة الوثيقة (2) برسم تخطيطي واكتب البيانات المناسبة.

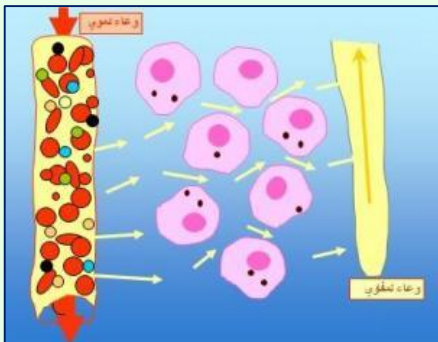


ج - خلاصة: اجب عن الأسئلة 1-2-3-4 و5 من الصفحة 33.

#### النتيجة:

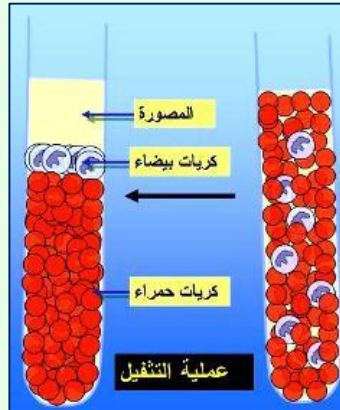
أ) العلاقة بين السائل البيني ، اللف والدم.

- 1- السائل البيني سائل غني بالمغذيات يتخلل كل خلايا الأعضاء.
- 2- مصدر السائل البيني هو الدم (المصورة).
- 3- ينتقل السائل البيني إلى الأوعية اللمفاوية حيث يشكل اللف.



## ب- مكونات الدم

- 1- الدم مكون أساسي للوسط الداخلي تقدر كميته ب 5 لترات عند شخص يزن 75 كغ.
- 2- يتم فصل مكونات الدم عن طريق الترسيب أو التثقيب.
- 3- مصورة الدم سائل مصفر يحتوي على مغذيات وفضلات الخلايا (البولة).
- 4- العناصر هي: بروتينات- جلوكوز- أحماض أمينية- دسم- كوليسترول- بولة- كالسيوم- فيتامينات.
- 5- العنصر الذي لم يذكر هو الماء.
- 6- مكونات الدم هي المصورة - كريات حمراء - خلايا لمفاوية - خلايا وحيدة النواة - خلايا متعددة النواة - صفائح دموية.



## 7- الشكل المقابل:

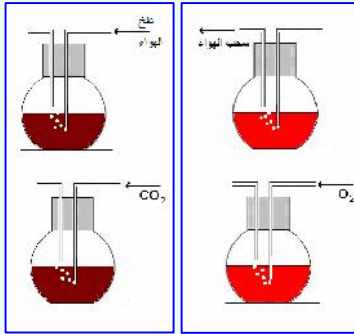
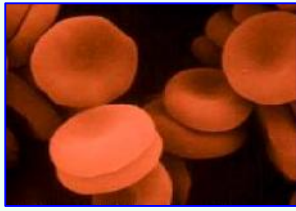
## ج - خلاصة.

- 1- يعتبر السائل البيني وسيطا بين الدم وخلايا الأعضاء لأنه يخرج من الأوعية الدموية حاملا المغذيات التي يوفرها للخلايا.
  - 2- اختلاف اللون بين اللمف والدم يرجع إلى أن هذا الأخير يحتوي على كريات حمراء عكس اللمف الذي يكون أصفرا لعدم احتوائه عليها.
  - 3- المكونات الأساسية للدم التي تم فصلها هي المصورة، الكريات الحمراء وكريات بيضاء.
  - 4- أنواع الخلايا التي يحتويها الدم هي : كريات حمراء وكريات بيضاء تتمثل في الخلايا للمفاوية، الخلايا وحيدة النواة والخلايا متعددة النواة.
  - 5- الفرق بين الوسط الداخلي والوسط الخارجي:
    - الوسط الداخلي يتمثل في مختلف السوائل التي تجري داخل الجسم
    - الوسط الخارجي يتمثل في مختلف تجاويف الأعضاء التي تتصل بالوسط الخارجي مثل الأنبوب الهضمي، المجاري التنفسية والمجاري البولية ...
- \* يعتبر الدم كمكون أساسي للوسط الداخلي لأنه مصدر تشكل السائل البيني الذي ينتج عنه اللمف.

**\* الخلاصة :** حوصلة أجوبة التلاميذ

## بسم الله الرحمن الرحيم

المجال المفاهيمي: التغذية عند الإنسان	رقم المذكرة: 08	الأستاذ عوشت عمر
<p style="text-align: center;"><b>الوحدة المفاهيمية : نقل المغذيات في الجسم</b></p> <p style="text-align: center;"><b>الحصة التعليمية : II- الوسط الداخلي (3) دور الدم في النقل III- الدوران الدموي</b></p>		
الكفاءة القاعدية: يحدد دور كل من الدم والبلغم في نقل المغذيات.		
مؤشر الكفاءة: أن يحدد التلميذ دور مكونات الدم في نقل المغذيات، الغازات والفضلات انطلاقا من تحليل وثائق.		
الوسائل: لوحة (تركيب الدم) – كتاب التلميذ.		
الأشكال المطلوب رسمها: الوثيقة 3 – ص 35 (تفاصيل سنخ واحد فقط).		
<b>المنهجية</b>		
<p>* وضعية الانطلاق: مقدمة: مراجعة مكونات الدم - كريات حمراء، كريات بيضاء، مصورة</p> <p>* الوضعية الإشكالية: - تساؤل: لماذا يكون الدم سائلا وخلاياه منفصلة عن بعضها ؟</p> <p>- الفرضية: لنقل المغذيات، الغازات والفضلات</p> <p style="text-align: right;">* مسعى حل الإشكالية</p> <p style="text-align: right;"><u>مخطط العمل</u></p> <p style="text-align: right;">II- الوسط الداخلي</p> <p style="text-align: right;">(3) دور الدم في النقل</p> <p style="text-align: right;">أ) دور الكريات الحمراء</p> <p style="text-align: right;">لاحظ اللوحة (أ) واجب.</p> <p style="text-align: right;">1- على ماذا يدل اللون الأحمر قان للدم؟</p> <p style="text-align: right;">2- على ماذا يدل اللون الأحمر قاتم؟</p> <p style="text-align: right;">3- ما هو العنصر Hb وما دوره؟</p> <p style="text-align: right;">4- حدد اللون المناسب في المعادلتين التاليتين:</p> <p style="text-align: right;"><math>Hb + 4O_2 \rightarrow HbO_8</math> (لون.....)</p> <p style="text-align: right;"><math>HbO_8 \rightarrow Hb + 4O_2</math> (لون.....)</p> <p style="text-align: right;">5- لاحظ الشكل (ب) واستنتج لون الدم الوارد إلى الرئتين والدم الصادر عنهما.</p> <p style="text-align: right;">(ب) دور المصورة في النقل.</p> <p style="text-align: right;">* ادرس الوثيقة صفحة 36 واجب عن الأسئلة 1- 2 و 3.</p> <p style="text-align: right;"><u>النتيجة:</u></p> <p style="text-align: right;">أ) 1- يدل اللون الأحمر قان للدم على احتوائه كمية كبيرة من <math>O_2</math>.</p> <p style="text-align: right;">2- يدل اللون الأحمر القاتم على قلة <math>O_2</math> في الدم.</p> <p style="text-align: right;">3- العنصر Hb هو مادة الهيموغلوبين أو خضاب الدم الموجود في الكريات الحمراء و دوره يتمثل في تثبيت ونقل <math>O_2</math></p> <p style="text-align: right;">4- اللون المناسب في المعادلتين التاليتين:</p> <p style="text-align: right;"><math>Hb + 4O_2 \rightarrow HbO_8</math> (لون أحمر قان)</p> <p style="text-align: right;"><math>HbO_8 \rightarrow Hb + 4O_2</math> (لون أحمر قاتم)</p> <p style="text-align: right;">5- الدم الوارد إلى الرئتين يكون أحمر دافئا لقلّة <math>O_2</math> والدم الصادر يكون أحمر قانا لكثرة <math>O_2</math> به.</p> <p style="text-align: right;">ب) 1- الدم الخارج من الأمعاء يحتوي على المغذيات أكثر من الدم الداخل إليها ونستنتج أن الدم يتزود بالمغذيات على مستوى الأمعاء.</p> <p style="text-align: right;">2- الدم الخارج من العضلة يحتوي على فضلات أكثر من الدم الداخل إليها ونستنتج أن الدم يحمل الفضلات التي تطرحها العضلة.</p> <p style="text-align: right;">3- خلاصة: مصورة الدم تنقل المغذيات وبعض <math>O_2</math> من الوسط الخارجي إلى الوسط الداخلي وتنقل الفضلات وبعض <math>CO_2</math> من الوسط الداخلي إلى الوسط الخارجي.</p>		



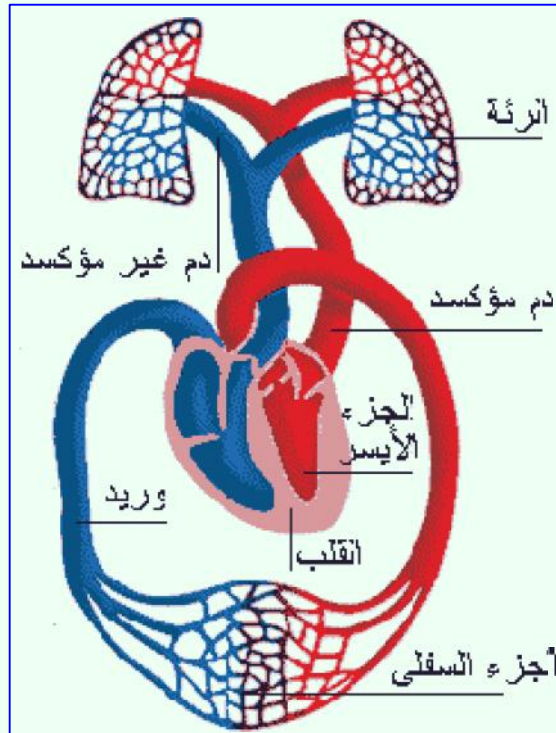
### III- الدورتان الدمويتان

لاحظ اللوحة (أ) واجب عن الأسئلة التالية:

- 1- يتجه الدم من القلب إلى الرئتين ويعود إلى القلب – وضح الفائدة من هذه الدورة.
- 2- يتجه الدم من القلب إلى مختلف الأعضاء ويعود إلى القلب.  
أ- اشرح ما يحدث على مستوى الأعضاء (العضلة مثلا).  
ب- ماذا يحدث على مستوى الكليتين؟  
ج- ماذا يحدث على مستوى الأمعاء الدقيقة.
- 3- كيف تسمى كل دورة من الدورتين الأولى والثانية؟
- 4- اشرح في فقرة قصيرة الفائدة من دوران الدم.

#### النتيجة:

- 1- يذهب الدم للرئتين ليتزود بالأكسجين ويتخلص من ثاني أكسيد الفحم.
- 2- أ – يحدث تبادل بين الدم والأعضاء حيث يوفر الدم للأعضاء المغذيات والأكسجين ويأخذ منها الفضلات البولية وثاني أكسيد الفحم.  
ب- على مستوى الكلية يتخلص الدم من الفضلات البولية.  
ج- في الأمعاء يتزود الدم بالمغذيات.
- 3- دورة الدم بين القلب والرئتين تسمى الدورة الدموية الصغرى أما الدورة بين القلب وباقي الأعضاء تسمى الدورة الدموية الكبرى.
- 4- الفائدة من دوران الدم: يدور الدم في جهاز الدوران ويمر بالرئتين ليتزود بالأكسجين ويتخلص من ثاني أكسيد الفحم أما عند مروره بالأعضاء الأخرى فيزودها بالأكسجين ويخلصها من الفضلات البولية وثاني أكسيد الفحم. الفضلات البولية يتخلص منها في الكليتين وثاني أكسيد الفحم يطرحه في الرئتين.



بسم الله الرحمن الرحيم

المجال المفاهيمي: التغذية عند الإنسان	رقم المذكرة: 09	الأستاذ عوشت عمر
الوحدة المفاهيمية: استعمال المغذيات		
الحصة التعليمية: I- المبادلات بين الدم والعضلة	II- استعمال الجلوكوز و O2 من طرف العضلة	
الكفاءة القاعدية: يحدد دور الأغذية في الجسم.		
مؤشر الكفاءة: أن يستنتج التلميذ تغيرات المبادلات بين العضلات والدم من خلال مقارنة معطيات جدول.		
الوسائل: كتاب التلميذ – لوحات وجداول تمثل المبادلات الغازية والغذائية بين العضلة والدم.		
المنهجية		
<p>* وضعية الانطلاق: بعد حصة الرياضة في المؤسسة والعودة إلى البيت أحسست بتعب، آلام في العضلات وجوع شديد.</p> <p>* الوضعية الإشكالية: <b>تساؤل</b>: لم تحس بآلام في العضلات والجوع بعد حصة الرياضة؟</p> <p>- <b>الفرضيات</b>: وجود مواد سامة في العضلات – استهلاك العضلات للمغذيات.</p> <p>* مسعى حل الإشكالية</p> <p><u>مخطط العمل</u></p> <p><u>I- المبادلات بين الدم والعضلة</u></p> <p><u>أ) امتصاص الجلوكوز وO2</u></p> <p>1- لاحظ صور الوثيقة (1) ص 42 وفسر غزارة الأوعية الدموية في النسيج العضلي.</p> <p>2- ادرس الوثيقة (2) ص 43 وقل كيف هي كمية الجلوكوز في الدم الصادر من العضلة مقارنة مع كميته في الدم الوارد، في حالة راحة ثم قل ما تستنتجه من هذه الملاحظة (المقارنة).</p> <p>3- قارن بين كمية O2 في الدم الصادر والدم الوارد في نفس الحالة وقل ما تستنتجه.</p> <p>4- ما رأيك في كمية الجلوكوز وO2 المسجلة في حالة نشاط - فسر سبب هذا الاختلاف.</p> <p><u>ب) طرح CO2</u></p> <p>1- لاحظ الوثيقة (3) وقل كيف هي كمية CO2 في الدم الصادر عن العضلات مقارنة مع كميته في الدم الوارد إليها وقل ما تستنتجه.</p> <p>2- قارن الكميات في حالة راحة وحالة نشاط واستنتج.</p> <p><u>ج) نسب الدم في العضلة</u></p> <p>1- اعتمادا على الوثيقة (4) استخرج نسبة زيادة الدم في العضلة بمقارنة حجمه في الحالتين وشرح سبب الاختلاف.</p> <p>2- لخص في جمل قصيرة ما توصلت إليه في هذا النشاط.</p> <p><u>النتيجة:</u></p> <p><u>أ) امتصاص الجلوكوز وO2</u></p> <p>1- تكون الأوعية غزيرة في العضلات حتى يحمل الدم المغذيات وO2 بكمية كافية للخلايا.</p> <p>2- كمية الجلوكوز في الدم الصادر من العضلة تكون أقل منها في الدم الوارد في حالة راحة ومن ذلك نستنتج أن العضلات تحتفظ بكمية من الجلوكوز.</p> <p>3- كمية O2 في الدم الصادر أقل منها في الدم الوارد ونستنتج أن العضلات تحتفظ كذلك بكمية من O2.</p> <p>4- يلاحظ من خلال الجدول أن كمية الجلوكوز وO2 المحتفظ بها من طرف العضلات تزيد في حالة نشاط ونفسر ذلك بأن زيادة نشاط العضلة يتطلب زيادة من الطاقة والتي يحصل عليها بالمزيد من المغذيات وO2 .</p>		

## ب) طرح CO<sub>2</sub>

- 1- كمية CO<sub>2</sub> في الدم الصادر أكبر منها في الدم الوارد ونستنتج أن العضلات تطرح كمية من CO<sub>2</sub>.
- 2 - كمية CO<sub>2</sub> المطروحة في حالة نشاط تكون كبيرة مقارنة مع حالة الراحة ونستنتج أن طرح العضلات لـ CO<sub>2</sub> يزيد بزيادة النشاط .

## ج) نسبة الدم في العضلة

- 1- نسبة زيادة الدم في العضلة هي  $10 = 1250/12500$  وهذا يدل على أن نسبة الدم في حالة نشاط تزيد 10 مرات مقارنة مع حالة الراحة وذلك بسبب زيادة الحاجة للمغذيات و O<sub>2</sub> التي يحتاجها الجسم أكثر.
- 2- حوصلة لأجوبة التلاميذ.

\*الخلاصة: هي حوصلة أجوبة التلاميذ في جمل مفيدة على شكل فقرة تتضمن المعارف المستهدفة.

- تتم في عضلات الجسم مبادلات مع الدم حيث العضلات تستهلك O<sub>2</sub> والمغذيات (خاصة الجلوكوز) وتطرح فيه فضلات (خاصة CO<sub>2</sub>) .
- يزيد استهلاك المغذيات و O<sub>2</sub> بزيادة النشاط.
- يزيد طرح الفضلات مثل CO<sub>2</sub> كذلك بزيادة النشاط .
- تزيد نسبة الدم في العضلات عند زيادة النشاط حتى 10 مرات لتوفير ما تحتاجه هذه العضلات من مغذيات و O<sub>2</sub>.
- هذه الزيادة تفسر غزارة الأوعية الدموية على مستوى العضلات.

## II – استعمال الجلوكوز و O<sub>2</sub> من طرف العضلة

أ) إظهار استهلاك O<sub>2</sub> من طرف العضلة.

\* ادرس الوثيقة (1) صفحة 44 من الكتاب واجب عن السؤالين 1 و 2.

- 1- نلاحظ أن كمية O<sub>2</sub> المتوفرة في الوعاء مع العضلة تتناقص مع مرور الوقت ونستنتج أن العضلة تحتاج إلى O<sub>2</sub> للقيام بنشاطها.

- 2- أهمية ما توصلنا إليه هو أن كل نشاط يقوم به الإنسان يحتاج إلى هواء نقي غني ب O<sub>2</sub>.

ب) إظهار استهلاك السكريات من طرف العضلة.

\* ادرس الوثيقة 2 واجب عن السؤال المناسب.

- نلاحظ من خلال الوثيقة 2 ص 45 أن العينة المأخوذة من عضلة في حالة راحة تتلون بالبنفسجي دليل على احتواء الخلايا على الجليكوجين (مولد سكر) وهي مدخرات غذائية، عكس خلايا العينة المأخوذة من عضلة في حالة نشاط والتي لا تتلون وسبب الاختلاف هو أن العضلة التي قامت بنشاط استهلكت مولد السكر الذي كان بها.

ج) إظهار إنتاج CO<sub>2</sub> من طرف العضلة.

\* ادرس الوثيقة 3 واجب عن السؤال المناسب.

- ماء الكلس في الحيز (س) حيث يوجد قطعة لحم (عضلة) يتعكر عكس ماء الكلس في الحيز (ع) حيث لا توجد عضلة إذن العضلة تطرح CO<sub>2</sub>.

نستخلص من دراسة هذه المعطيات أن العضلة تقوم بعملية التنفس حيث تمتص O<sub>2</sub> وتطرح CO<sub>2</sub> وتستهلك خلال ذلك الجلوكوز.



### المنهجية

\* وضعية الانطلاق: مراجعة حول ما تقوم به العضلة من أخذ للـ  $O_2$  والجلوكوز وطرح لـ  $CO_2$

\* الوضعية الإشكالية: تساؤل: ما الذي يتنفس في العضلة وما الفائدة من ذلك؟

- الفرضية: الخلايا تنفس لإنتاج الطاقة

\* مسعى حل الإشكالية

مخطط العمل

(أ) مفهوم التنفس الخلوي

\* ادرس الوثيقة (1) صفحة 46 واجب عن الأسئلة المناسبة

1- يوضح منحني الوثيقة (1) ص 46 أن كمية

$O_2$  تكون ثابتة إلى أن يضاف الجلوكوز

للخميرة فيتناقص إلى أن ينعدم ونستنتج أن

الخلايا تستهلك  $O_2$  عند استعمال الجلوكوز.

2- تعكر ماء الكلس يدل على أن خلايا الخميرة

طرحت  $CO_2$ .

3- تسمى الظاهرة التي قامت بها خلايا الخميرة

بالتنفس.

(ب) دور المغذيات

\* دور الجلوكوز

\* ادرس الوثيقة (2) صفحة 47 واجب عن الأسئلة المناسبة.

1- كتلة الخميرة المتشكلة في وسط هوائي أكبر من الكتلة المتشكلة في وسط لا هوائي.

2- كتلة السكر المستهلكة في وسط هوائي أكبر من الكتلة المستهلكة في وسط لا هوائي.

3- تزيد كتلة الخميرة المتشكلة عند توفر الجلوكوز و  $O_2$ .

4- الظاهرة في وسط هوائي تسمى التنفس وفي وسط لا هوائي تسمى تخمر.

5- دور السكريات في الخلايا هو إنتاج الطاقة.

\* دور الأحماض الأمينية

\* ادرس الوثيقة (3) صفحة 47 واجب عن الأسئلة المناسبة.

1- كتلة البروتين تساوي دائما 5\1 من كتلة العضو ونستنتج أن البروتين يدخل في تركيب أو بناء الجسم.

2- تتكون البروتينات من أحماض أمينية.

3- مصدر هذه الأحماض الأمينية هو البروتينات التي تم هضمها.

4- تستعمل الخلايا هذه الأحماض في بناء البروتينات الخاصة بها.

\* الخلاصة: تستهلك الخلايا  $O_2$  والجلوكوز لإنتاج الطاقة وتسمى هذه العملية بالتنفس أما إذا حدث

في غياب الهواء ( $O_2$ ) فتكون عملية تخمر. يتمثل إذن دور السكريات في إنتاج الطاقة ودور

الأحماض الأمينية في بناء الجسم.



وسط لا هوائي	وسط هوائي	الشروط
المدة	9 أيام	3 أشهر
تركيز السكر (%)	5	5
حجم المحلول (ملل)	3000	3000
الكمية الابتدائية للسكر	150 غ	150 غ
كمية السكر المستهلكة	150 غ	45 غ
كتلة الخميرة المتشكلة	1.970	0.255

الكفاءة القاعدية: يبنى السلوكيات الغذائية الحسنة من خلال التعرف على المشاكل الصحية المرتبطة بالتغذية.

مؤشر الكفاءة: أن يستخلص التلميذ القواعد الصحية للتغذية اعتمادا على جدول يوضح العادات السيئة للتغذية.

الوسائل: كتاب التلميذ - صور وجدول يمثل بعض السلوكيات السيئة في التغذية وما يترتب عنها من أمراض.

### المنهجية

#### النتيجة

#### (أ) نخر الأسنان

- 1- الأسنان تهضم الأغذية آليا.
- 2- تأثير فترات التغذية على الأسنان:
- نستنتج من الجدول أنه كلما كانت فترات التغذية مستمرة ومتقاربة زادت الحموضة في الفم مما يؤدي إلى تفتت الأسنان ونخرها.
- 3- الوثيقة 2 توضح توضع الأغذية والبكتيريا على سطح الأسنان مما يؤدي إلى نخرها.
- 4- الوثيقة 3 توضح هذا التأثير.
- 5- الوثيقة 4: صورة سن + رسم تخطيطي للسن
- 6- مكونات السن هي: المينا - العاج - لب السن.
- 7- مراحل نخر السن.
- (1) الأكل في أوقات منتظمة - تنظيف الأسنان بانتظام.

- (2) قلع الأسنان وانعدامها يؤدي إلى عسر في الهضم حيث ينقص الهضم الآلي والهضم الكيميائي فتقل المغذيات في الأمعاء.
- (3) إصابة الأسنان تؤدي إلى أمراض مختلفة تسببها البكتيريا التي تنتشر من السن المصاب إلى الأعضاء كالكلى والقلب والمفاصل...

#### (ب) السلوكيات السيئة في التغذية

-1

سلوكيات غذائية غير صحية	سلوكيات سوية
-	-
-	-
-	-

2- القواعد الصحية :

- تنظيف الأسنان.
- الأكل بانتظام.
- عدم الإكثار من الغذاء وخاصة السكريات.
- تنوع الأغذية واستهلاك الخضر والفواكه بكمية كافية.

\* **وضعية الانطلاق:** يصاب بعض الأشخاص بأمراض مختلفة واثار ذلك ينصحهم الأطباء بحمية غذائية.

\* **الوضعية الإشكالية:**

**التساؤل:** ما علاقة التغذية بصحة الجسم؟  
**الفرضيات:** كثرة أو قلة الغذاء تضر بالجسم.

\* **مسعى حل الإشكالية** مخطط العمل  
\* ادرس الوثائق صفحة 54 - 55 واجب عن الأسئلة التالية:

#### (أ) نخر الأسنان

- 1- حدد دور الأسنان في التغذية.
- 2- ماذا توضح الوثيقة (1) وماذا تستنتج منها.
- 3- وضح ما تمثله الوثيقة (2) وماذا ينتج عنه.
- 4- حدد الوثيقة التي تبرز هذه النتيجة.
- 5- ماذا تمثل الوثيقة (4)؟
- 6- اذكر مكونات السن.
- 7- قل ما تمثله الوثيقة (5) واجب عن الأسئلة المناسبة 1 - 2 - 3.

#### (ب) السلوكيات السيئة في التغذية

- 1- ادرس معطيات الجدول صفحة 55 واقترح سلوكيات سوية مقابلة للسلوكيات الغذائية غير الصحية في خانة ثالثة.



2- لخص القواعد الصحية لسلامة الجهاز الهضمي.

\* **الخلاصة :** حوصلة أجوبة التلاميذ.

المجال المفاهيمي: التنسيق الوظيفي في العضوية

رقم المذكرة: 12

الأستاذ عوشت عمر

الوحدة المفاهيمية: الاتصال العصبي

الحصة التعليمية: 1- دراسة الأعضاء الحسية (1) الأعضاء الحسية (2) دراسة بنية الجلد

الكفاءة القاعدية: يعرف الجملة العصبية كنظام يسمح بالتنسيق الوظيفي في الجسم.

مؤشر الكفاءة: أن يستخلص التلميذ وظيفة الجسيمات الحسية من دراسة مقطع للجلد.

الوسائل: لوحة لمقطع مجهرى في جلد الإنسان.

### المنهجية

- \* وضعية الانطلاق: يتصل الإنسان بالوسط الذي يعيش فيه لتلبية مختلف حاجياته من غذاء وغيره.
- \* الوضعية الإشكالية: كيف يمكن للإنسان الاتصال بالوسط؟
- الفرضية: يعتمد على حواسه، أعضائه الحسية، أطرافه...
- \* مسعى حل الإشكالية

### مخطط العمل

(1) الأعضاء الحسية

اعتمادا على معلوماتك أكمل الجدول (أ)

الأعضاء الحسية	المنبه

(2) دراسة بنية الجلد

لاحظ الوثيقة 1 - صفحة 64 واجب:

- 1- ماذا تمثل هذه الوثيقة ؟
- 2- توجد في الجلد عناصر مهمة - ما هي؟
- 3- حدد دور هذه العناصر.
- 4- ماذا توضح الوثيقة 5 - صفحة 65؟

### النتيجة:

(1) الأعضاء الحسية

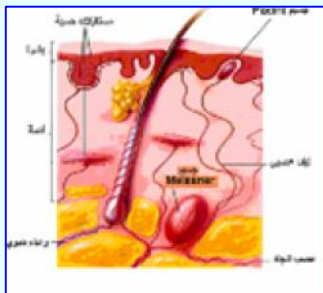
الأعضاء الحسية	المنبه
العين	الضوء
الأذن	الصوت
اللسان	النكهة
الأنف	الرائحة
الجلد	الضغط - الألم - الحرارة - البرودة

(2) دراسة بنية الجلد

- 1- الوثيقة تمثل مقطعا مجهرى في جلد الإنسان.
- 2- جسيمات حسية (ذكر أمثلة: جسيمات باسيني - ج. ميسنر، ...)
- 3- دورها : التقاط المنبهات كالحرارة...
- 4- يتغير عدد الجسيمات في الجلد حسب المنطقة.

\*الخلاصة : حوصلة أجوبة التلاميذ

الرسم: الوثيقة 4 - صفحة 65.



الوحدة المفاهيمية: الاتصال العصبي

الحصة التعلمية: II- السيادة العصبية

(1 مسار السيادة العصبية - 2) المظهر الكهربائي للسيادة العصبية

الكفاءة القاعدية: يعرف الجملة العصبية كنظام يسمح بالتنسيق الوظيفي في الجسم.

مؤشر الكفاءة: يحدد مسار السيادة العصبية وطبيعتها من خلال تحليل وثائق.

الوسائل: كتاب التلميذ - لوحات تمثل بنية العصب والتجربة المناسبة.

### المنهجية

\* وضعية الانطلاق: يستقبل العضو الحسي التنبيه الذي يسمح له بالاتصال بالمحيط.

\* الوضعية الإشكالية: ماذا يحدث للتنبيه؟

الفرضية: يتحول التنبيه إلى رسالة عصبية تنتقل إلى المخ.

\* مسعى حل الإشكالية.

### مخطط العمل

(1 مسار السيادة العصبية

(أ) دور العصب

\* ماذا تستخلص من دراستك للوثيقة 1 صفحة 66؟

(ب) بنية العصب

\* ادرس الوثيقة (2) صفحة 66 والوثيقة (3) صفحة 67 وقل مما يتركب العصب وبم يذكر.

(2) المظهر الكهربائي للسيادة العصبية

1- قل ماذا تمثل الوثيقة (3) صفحة 67.

2- قل على شكل ماذا تظهر السيادة العصبية من خلال الجهاز.

### التنحية:

(1 مسار السيادة العصبية

(أ) دور العصب

\* توضح الوثيقة أن العصب هو الدعامة لنقل السيادة العصبية حيث أن إصابة العصب البصري

تتسبب في فقدان البصر.

(ب) بنية العصب

\* يتركب العصب من ألياف عصبية وبذكر بسلك هاتفي.

(2) المظهر الكهربائي للسيادة العصبية

1- تمثل الوثيقة تسجيلا كهربائيا لانتقال الرسالة العصبية براسم الذبذبات المهبطي.

2- تظهر السيادة العصبية في شكل إشارات كهربائية.

\* الخلاصة : حوصلة أجوبة التلاميذ + الفقرة 3 صفحة 67 من كتاب التلميذ (تولد...إلى...المهبطي).

الرسم: الوثيقة 1 - صفحة 66.

بسم الله الرحمن الرحيم		
المجال الفاهيمي: التنسيق الوظيفي في العضوية	رقم المذكرة: 14	الأستاذ عوشت عمر
الوحدة المفاهيمية: الاتصال العصبي الحصة التعليمية: III- دور السطوح لقشرة المخ (1) دراسة تعضي المخ (2) دراسة الفصوص المخية (3) دور ساحات المخ		
الكفاءة القاعدية: يعرف الجملة العصبية كنظام يسمح بالتنسيق الوظيفي في الجسم.		
مؤشر الكفاءة: يحدد دور ساحات المخ من دراسة وتحليل صور - رسومات تخطيطية و نصوص.		
الوسائل: لوحة تمثل الدماغ - لوحة تمثل ساحات المخ - كتاب التلميذ.		
المنهجية		
وضعية الانطلاق	* تتطلق السيات العصبية من الأعضاء الحسية وتتقل عبر الأعصاب.	
الوضعية الإشكالية	تساؤل: أين تذهب هذه السيات العصبية؟	
الفرضية	تذهب إلى الدماغ - إلى المخ.	
مسعى حل الإشكالية	<u>مخطط العمل</u> (1) دراسة تعضي المخ 1- ماذا تمثل الوثيقة (1) صفحة 68؟ 2- أين يسكن الدماغ؟ 3- ماذا يحمل الغشاء السحائي؟ 4- ماذا يوضح المقطع العرضي للمخ؟ 5- يحمل المخ تلافيف - ما أهميتها؟ (2) دراسة الفصوص المخية * لاحظ الوثيقة 4 صفحة 69 وقل ماذا توضح. (3) دور ساحات المخ * ادرس الوثيقة (6) والجدول المناسب وقل ماذا تستخلص منها.	 



<p>المجال المفاهيمي: <b>التنسيق الوظيفي في العضوية</b></p> <p>رقم المذكرة: 15</p> <p>الأستاذ عوشت عمر</p>	<p>الوحدة المفاهيمية: <b>الاتصال العصبي</b></p> <p>الحصة التعليمية: <b>IV- الفعل الإرادي والفعل اللا إرادي</b></p> <p>(1) أمثلة للفعلين (2) تعريف الفعلين (3) علاقة الحركة اللاإرادية بالإحساس</p> <p>الكفاءة القاعدية: يعرف الجملة العصبية كنظام يسمح بالتنسيق الوظيفي في الجسم.</p> <p>مؤشر الكفاءة: أن يعرف التلميذ أنواع الفعل العصبي بتحليل وثائق وإجراء تجارب بسيطة.</p> <p>الوسائل: كتاب التلميذ - صور تمثل بعض الأفعال الإرادية وأخرى لا إرادية عند الإنسان.</p>	<p>المنهجية</p>	<p>وضعية الانطلاق</p> <p>* أصيب شخص بشلل كلي إثر حادث - - ما مصير هذا الشخص؟ - الموت لعدم القدرة على الاتصال بالوسط.</p> <p>الوضعية الإشكالية</p> <p><b>تساؤل:</b> إلى ماذا يحتاج الإنسان إذن لكي يعيش؟</p> <p>الفرضية</p> <p>- يحتاج الإنسان إلى حركة.</p> <p>مسعى حل الإشكالية</p> <p><b>مخطط العمل</b></p> <p>(1) أمثلة للفعلين</p> <p>دراسة وثائق توضح أنواع الحركة عند الرضيع.</p> <p>1- اذكر بعض الحركات التي يقوم بها الرضيع.</p> <p>2- ما نوع هذه الحركات؟</p> <p>3- هل تعلم الرضيع هذه الحركات؟</p> <p>4 - كيف تسميها إذن؟</p> <p>5- اذكر أمثلة للحركة عند الطفل والبالغ.</p> <p>6- ما نوع هذه الحركات.</p> <p>(2) تعريف الفعلين</p> <p>1- عرف إذن الفعلين.</p> <p>(3) علاقة الحركة اللاإرادية بالإحساس</p> <p>1- أذكر أمثلة لحركات لاإرادية.</p> <p>2- حدد في كل حالة مصدر حدوث كل فعل والعضو الملتقط.</p> <p>3- ماذا تستنتج من هذه العلاقة؟</p> <p><b>الخلاصة</b></p> <p><b>حوصلة أجوبة التلاميذ = النتيجة</b></p>	<p>النتيجة</p> <p>(1) أمثلة للفعلين</p> <p>1- المص (الرضاعة) - المسك.</p> <p>2- حركات لاإرادية.</p> <p>3- لم يتعلمها بل ولد بها.</p> <p>4- الحركات اللاإرادية حركات فطرية وراثية.</p> <p>5- أمثلة لبعض الحركات: المشي، المضغ، المنعكس الحدقي، إلخ...</p> <p>6- بعضها إرادي والبعض الآخر لاإرادي.</p> <p>(2) تعريف الفعلين</p> <p>الفعل الإرادي حركة يقوم بها الإنسان بفعل إرادته أما الفعل اللاإرادي حركة يقوم بها دون إرادته وهي فطرية وراثية.</p> <p>(3) علاقة الحركة اللاإرادية بالإحساس</p> <p>1- أمثلة لحركات لاإرادية: سحب اليد عند الإحساس بالحرارة - تغير قطر الحدقة عند تغير الإضاءة - اهتزاز الجسم عند حدوث دوي.</p> <p>2- الحرارة تلتقط بالجلد - الضوء بالعين - الصوت بالأذن.</p> <p>3- ترتبط الحركة اللاإرادية دائما بالإحساس حيث يحدث الفعل نتيجة التقاط منبه من طرف أحد الأعضاء الحسية.</p>
-----------------------------------------------------------------------------------------------------------	--------------------------------------------------------------------------------------------------------------------------------------------------------------------------------------------------------------------------------------------------------------------------------------------------------------------------------------------------------------------------------------------------------------------------------------------------------------------------	-----------------	---------------------------------------------------------------------------------------------------------------------------------------------------------------------------------------------------------------------------------------------------------------------------------------------------------------------------------------------------------------------------------------------------------------------------------------------------------------------------------------------------------------------------------------------------------------------------------------------------------------------------------------------------------------------------------------------------------------------------------------------------------------------------------------------------------------------------------------------------------------------------------------------------------------------------------------	-----------------------------------------------------------------------------------------------------------------------------------------------------------------------------------------------------------------------------------------------------------------------------------------------------------------------------------------------------------------------------------------------------------------------------------------------------------------------------------------------------------------------------------------------------------------------------------------------------------------------------------------------------------------------------------------------------------------------------------------------------------------------------------------------------------



بسم الله الرحمن الرحيم		
المجال المفاهيمي: التنسيق الوظيفي في العضوية	رقم المذكرة: 16	الأستاذ عوشت
الوحدة المفاهيمية: الاتصال العصبي الحصة العلمية: IV - الفعل الإرادي والفعل اللاإرادي (تابع) (4) الأعضاء الفعالة في الحركة اللاإرادية.		
الكفاءة القاعدية: يعرف الجملة العصبية كنظام يسمح بالتنسيق الوظيفي في الجسم.		
مؤشر الكفاءة: أن يحدد التلميذ الأعضاء الفعالة في الحركة اللاإرادية بدراسة نتائج تجارب.		
الوسائل: كتاب التلميذ - لوحات تمثل نتائج تجارب تحدد أعضاء الحركة اللاإرادية.		
المنهجية		
وضعية الانطلاق  الوضعية الإشكالية  الفرضية  مسعى حل الإشكالية	عند القيام بحركة لاإرادية يلاحظ توظيف واستجابة عدة أعضاء.  ما هي الأعضاء الفعالة في الحركة اللاإرادية؟  العضو الحسي، العضو الحركي، العصب... <u>مخطط العمل</u> أ) التنبيه الفعال * ادرس النشاط (1) صفحة 72 واجب عن الأسئلة 1-2-3.  ب) الجلد 1- ادرس الوثيقة (ب) ودون ملاحظاتك في جمل مفيدة مع التفسير. 2- قل ما تستنتجه من هذه الملاحظات.  ج) العصب * ادرس التجربة (3) صفحة 73 واجب عن الأسئلة 1-2-3.	
النتيجة  أ) التنبيه الفعال 1-التنبيه الفعال هو تنبيه كاف لحدوث استجابة في شكل حركة. 2- الاستجابة في هذه الحالة لإرادية لأن الدماغ مخرب. 3- أهمية المنعكس في حياة الضفدع أنها تسمح له بتجنب الأخطار الموجودة في الوسط.  ب) الجلد 1- الملاحظات أ- الطرف يتحرك لأن الجلد غير مخرب. ب- الطرف لا يتحرك لأن الجلد مخرب. 2- نستنتج أن الجلد عضو ضروري لحدوث الحركة اللاإرادية.  ج) العصب 1- التجربة أ: نلاحظ عدم وجود استجابة للطرف الذي قطع عصبه الوركي عكس الطرف الآخر. التجربة ب: عند تنبيه النهاية المركزية للعصب المقطوع تحدث استجابة في الطرف السليم. التجربة ج: عند تنبيه النهاية المحيطية للعصب المقطوع يستجيب الطرف المتصل بهذا العصب.  2- تفسير التجربة (أ): الطرف الأيسر لا يستجيب لأن العصب مقطوع بينما الطرف الأيمن يستجيب لأن العصب سليم ونستخلص أن العصب ضروري لحدوث الحركة اللاإرادية.  3- في التجربة (ب) تتجه السيالة إلى مركز عصبي فهي سيالة حسية بينما في التجربة (ج) تتجه السيالة إلى عضو حركي فهي سيالة حركية.		



## د) النخاع الشوكي

\* ادرس الوثيقة (د) واجب.

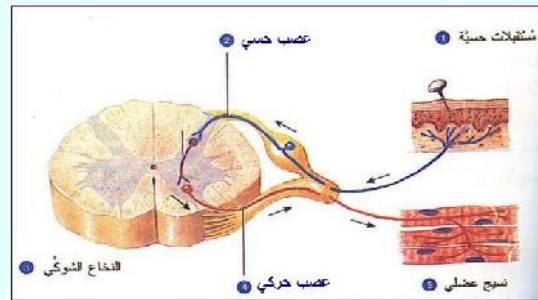
- 1- دون ملاحظاتك.
- 2- قل ما تستنتج من التجربة.

## ه) العضلة

\* ادرس الوثيقة (ه)، سجل الملاحظات وقل ما تستنتج.

## و) خلاصة

\* أكتب فقرة تلخص فيها ما استنتجته من كل هذه التجارب.



## د) النخاع الشوكي

- 1- عند تخريب النخاع الشوكي لاتحدث استجابة
- 2- نستنتج أن النخاع الشوكي ضروري لحدوث الحركة الإرادية.

## ه) العضلة

\* نلاحظ أن العضلة التي قطع وترها تتقلص دون أن تحدث حركة ونستنتج أن العضلة السليمة ضرورية لحدوث الحركة.

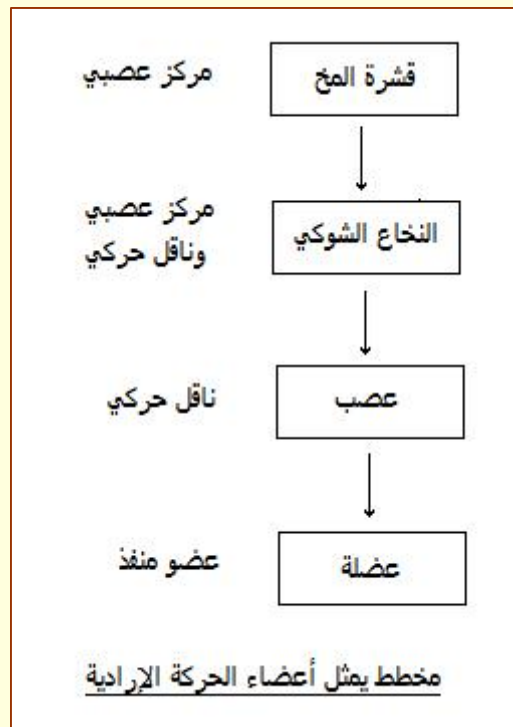
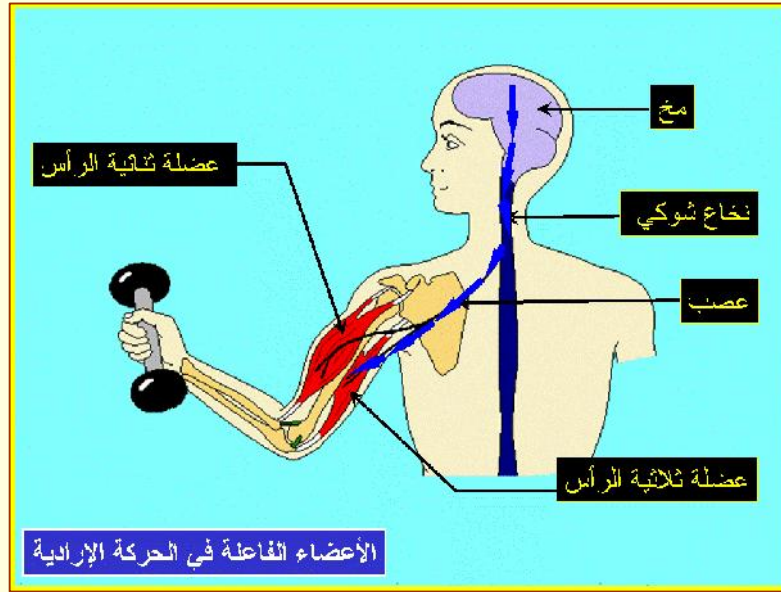
## و) خلاصة

\* فقرة قصيرة يلخص فيها التلميذ الأعضاء الفاعلة في الحركة الإرادية بأسلوب لغوي سليم وعلمي دقيق.

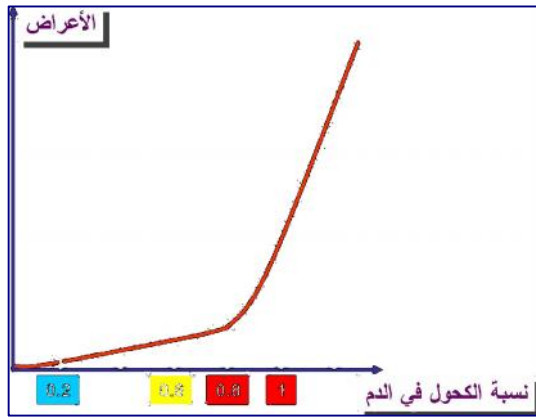
حوصلة أجوبة التلاميذ = النتيجة

الرسم: الأشكال صفحة 73.

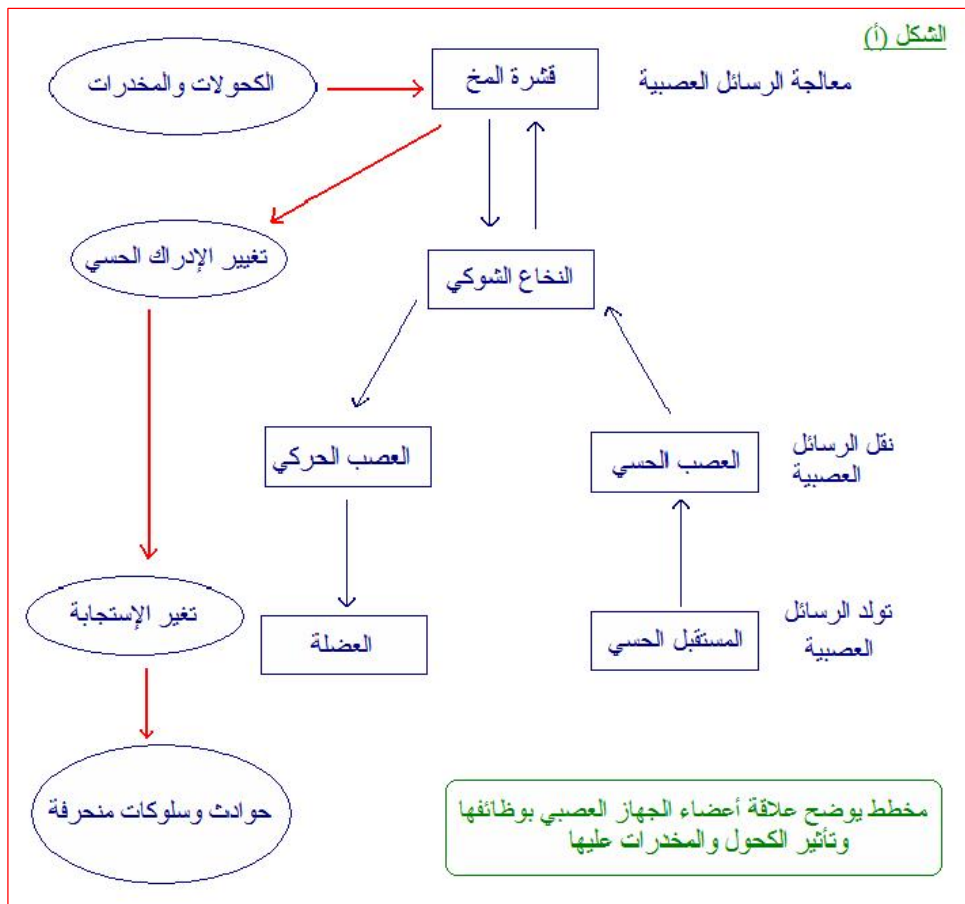
المجال المفاهيمي: التنسيق الوظيفي في العضوية	رقم المذكرة: 17	الأستاذ عوشت
<p>الوحدة المفاهيمية: الاتصال العصبي</p> <p>الحصة التعليمية: IV- الفعل الإرادي والفعل اللاإرادي (تابع)</p> <p>(5) الأعضاء الفعالة في الحركة الإرادية</p> <p>الكفاءة القاعدية: يعرف الجملة العصبية كنظام يسمح بالتنسيق الوظيفي في الجسم.</p> <p>مؤشر الكفاءة: يحدد التلميذ الأعضاء الفاعلة في الحركة الإرادية بتحليل وثائق.</p> <p>الوسائل: كتاب التلميذ - لوحة توضح الأعضاء الفاعلة في الحركة الإرادية.</p>		
المنهجية		
<p><b>وضعية الانطلاق</b></p> <p>* تكون أفعال الرضيع لإرادية وتتم بفعل أعضاء معينة ثم ينمو ويكبر وتصبح أفعاله إرادية.</p> <p>- ما هي الأعضاء الفعالة في الحركة الإرادية؟</p> <p><b>الوضعية الإشكالية</b></p> <p>- المخ - الأعصاب - العضلات...</p> <p><b>الفرضية</b></p> <p><b>مسعى حل الإشكالية</b></p> <p>* ما هو في رأيك مقر تولد الحركات الإرادية؟</p> <p><b>أ- مقر الفعل الإرادي</b></p> <p>* دراسة الفقرة 2 صفحة 74.</p> <p>1- ماذا يوضح الجدول وماذا تستخلص منه؟</p> <p>2- قل إلى ماذا يؤدي تنبيه منطقة معينة من قشرة المخ؟</p> <p>3- ما دور العصب في الحركة؟</p> <p><b>ج- النخاع الشوكي</b></p> <p>* ادرس الفقرة 3 - صفحة 75 وقل ما تستخلصه مع التعليل.</p> <p><b>د- العضلات</b></p> <p>* دراسة الفقرة 4 - صفحة 75</p> <p>- استخلص دور العضلة في الحركة الإرادية.</p> <p><b>هـ- الخلاصة</b></p> <p>* دراسة الفقرة 5 - صفحة 75</p> <p>- اجب عن الأسئلة 1-2-3.</p> <p><b>الخلاصة</b></p> <p><b>حوصلة أجوبة التلاميذ = النتيجة.</b></p>	<p><b>النتيجة</b></p> <p><b>أ- مقر الفعل الإرادي</b></p> <p>مقر الفعل الإرادي هو المخ.</p> <p><b>ب- مناطق الحركة الإرادية في المخ</b></p> <p>1- يوضح الجدول أن إصابة بعض المناطق من قشرة المخ يؤدي إلى شلل عضو حركي معين في الجسم ونستخلص أن:</p> <p>- قشرة المخ هي مقر الفعل الإرادي.</p> <p>- كل منطقة من قشرة المخ تتحكم في عضو معين من الجسم.</p> <p>2- يؤدي ذلك إلى قيام عضو مناسب بحركة.</p> <p>3- دور العصب في الحركة هو نقل السيالة العصبية من المخ إلى العضو الحركي (العضلة).</p> <p><b>ج- النخاع الشوكي</b></p> <p>النخاع الشوكي ناقل حركي يسمح بالقيام بالحركة الإرادية حيث أن إصابة هذا العضو تؤدي إلى شلل بعض الأعضاء وعدم القدرة على القيام بالحركة الإرادية.</p> <p><b>د- العضلات</b></p> <p>1- تسمح العضلات بالقيام بمختلف حركات الجسم بصفة عامة والحركة الإرادية بصفة خاصة.</p> <p><b>هـ- الخلاصة</b></p> <p>1- وضع الأسهم على رسم منقول من الكتاب على ورق شفاف.</p> <p>2- المخطط ينقل على السبورة (أو لوحة) ويكمل من طرف التلاميذ (الصفحة التالية).</p> <p>3- الأعضاء الفاعلة في الحركة الإرادية هي قشرة المخ - النخاع الشوكي - العصب - العضلة.</p>	



المجال المفاهيمي: التنسيق الوظيفي في العضوية	رقم المذكرة: 18	الأستاذ عوشت عمر
<p>الوحدة المفاهيمية: الاتصال العصبي</p> <p>الحصة التعليمية: V- الجملة العصبية والمخدرات (بحث)</p>		
الكفاءة القاعدية: يعرف الجملة العصبية كنظام يسمح بالتنسيق الوظيفي في الجسم.		
مؤشر الكفاءة: أن يقدم التلميذ توصيات تحد من الحوادث الناجمة عن تناول الكحول والمخدرات.		
الوسائل: كتاب التلميذ - لوحة تمثل رسما وظيفيا يوضح علاقة الأعضاء بالوظائف وتأثير المخدرات عليها.		
المنهجية		
<p><u>النتيجة</u></p> <p>(1) تأثير الكحول على الجهاز العصبي</p> <p>1- يمثل الجدول أعراض تناول الكحول على جسم الإنسان.</p> <p>2- ارتفاع خطر الإصابة بدلالة نسبة الكحول.</p> <p>3- تزيد خطورة الإصابة عندما تصل نسبة الكحول إلى 0.8 غرام في اللتر من الدم حيث يفقد الشخص التوازن ويصبح غير قادر على التنسيق الوظيفي العصبي.</p> <p>4- للحد من هذه الحوادث</p> <p>- يجب الامتناع عن شرب الكحول (الخم).</p> <p>- مراقبة السائقين من طرف الشرطة ب قياس نسبة الكحول في الدم.</p> <p>(2) تأثير التبغ</p> <p>التبغ يحتوي على مادة النيكوتين التي تؤثر على منطقة الشعور بالمتعة في المخ وتحدث تبعية نفسية وبدنية.</p> <p>(3) تأثير المخدرات</p> <p>العمود الثالث من الجدول صفحة 77.</p> <p>(4) خلاصة</p> <p>الشكل التالي: مخطط يوضح علاقة أعضاء الجهاز العصبي بوظائفها وتأثير الكحول والمخدرات عليها.</p>	<p>* يتعرض كثير من الأشخاص إلى إصابات خطيرة وأمراض مختلفة جراء تناولهم مواد مختلفة تؤثر على جهازهم العصبي.</p> <p>تساؤل: ما هي هذه المواد الخطيرة؟</p> <p>- المخدرات - التبغ - الكحول...</p> <p><u>مخطط العمل</u></p> <p>(1) تأثير الكحول على الجهاز العصبي</p> <p>1- ماذا يمثل الجدول صفحة 76؟</p> <p>2- ماذا توضح الوثيقة 2 - صفحة 76؟</p> <p>3- حلل منحنى الوثيقة 2.</p> <p>4- اقترح توصية للحد من الحوادث الناجمة عن تناول الكحول.</p> <p>(2) تأثير التبغ</p> <p>اقرأ الفقرة (2) صفحة 77</p> <p>واجب عن السؤال 1.</p> <p>(3) تأثير المخدرات</p> <p>اقرأ الفقرتين (3) و (4) من الصفحة 77</p> <p>واجب عن السؤال 2.</p> <p>(4) خلاصة</p> <p>أكمل الرسم التخطيطي (أ): تكتب بعض الخانات فارغة وتكمل من طرف التلاميذ.</p> <p>حوصلة أجوبة التلاميذ = النتيجة</p>	<p>وضعية الانطلاق</p> <p>الوضعية الإشكالية</p> <p>الفرضية</p> <p>مسعى حل الإشكالية</p> <p>الخلاصة</p>



الأعراض	نسبة الكحول في الدم
شعور خفيف بالنشوة	0.2
تطاؤل زمن الاستجابة	0.6
فقدان التوازن الحركي	1
حالة الثمالة	2
غيبوبة	4
موت	5 إلى 6





بسم الله الرحمن الرحيم								
المجال المفاهيمي: التنسيق الوظيفي في العضوية	رقم المذكرة: 19	الأستاذ عوشت عمر						
الوحدة المفاهيمية: الاستجابة المناعية الحصة التعليمية: I- الموانع الطبيعية والأجسام الغريبة (1) الموانع الطبيعية								
الكفاءة القاعدية: يحدد دور النظام المناعي في الدفاع عن العضوية.								
مؤشر الكفاءة: أن يحصى التلميذ الموانع الطبيعية ويحدد أدوارها ثم يصنفها اعتمادا على وثائق.								
الوسائل: كتاب التلميذ - لوحة تمثل عناصر الخط الدفاعي الأول للعضوية.								
المنهجية								
وضعية لانطلاق	<p>* لاحظ الصورة صفحة 83 وقل ماذا تمثل؟</p> <p>- منظر مجهري لرأس إبرة تحمل مكروبات.</p> <p>* أين تعيش المكروبات؟</p> <p>- تعيش في كل مكان.</p> <p>* رغم انتشار المكروبات في كل مكان وبعدد كبير يستطيع الإنسان تجنب الكثير من الأمراض الجرثومية.</p> <p>* ما الذي يحمي الجسم من هذه الجراثيم؟</p> <p>- الجلد - الكريات البيضاء...</p> <p><u>مخطط العمل</u></p> <p>1- الموانع الطبيعية</p> <p>* ادرس الوثائق صفحة 84 - 85 واجب عن الأسئلة المناسبة 1- 2 - 3.</p> 	الوضعية لإشكالية						
الفرضية								
مسعى حل الإشكالية								
الخلاصة	<p>حوصلة أجوبة التلاميذ (النتيجة) + خلاصة النشاط 1 - صفحة 100.</p>							
	<table><tr><td>حواجز ميكانيكية</td><td>حواجز كيميائية</td></tr><tr><td>جلد - مخاطية مخاط - شعيرات</td><td>دموع - عصارات بول - المنى إفرازات المهبل</td></tr><tr><td>توقف الجراثيم</td><td>تقتل الجراثيم</td></tr></table>	حواجز ميكانيكية	حواجز كيميائية	جلد - مخاطية مخاط - شعيرات	دموع - عصارات بول - المنى إفرازات المهبل	توقف الجراثيم	تقتل الجراثيم	
حواجز ميكانيكية	حواجز كيميائية							
جلد - مخاطية مخاط - شعيرات	دموع - عصارات بول - المنى إفرازات المهبل							
توقف الجراثيم	تقتل الجراثيم							

المجال المفاهيمي: التنسيق الوظيفي في العضوية

رقم المذكرة: 20

الأستاذ عوشت عمر

الوحدة المفاهيمية: الاستجابة المناعية

الحصة التعليمية: I- الموانع الطبيعية والأجسام الغريبة (تابع)

(2) الميكروبات

الكفاءة القاعدية: يحدد دور النظام المناعي في الدفاع عن العضوية.

مؤشر الكفاءة: أن يصنف التلميذ الجراثيم إلى ضارة وأخرى مفيدة من خلال دراسة بعض العينات.

الوسائل: كتاب التلميذ - صور لأنواع الجراثيم (ضارة ومفيدة) وبعض استعمالاتها.

المنهجية

وضعية الانطلاق

الوضعية لإشكالية

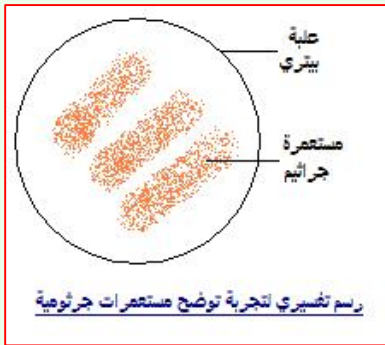
الفرضية

مسعى حل الإشكالية

**النتيجة**

(أ) مميزات الميكروبات

1- رسم تفسيري يمثل مستعمرات جرثومية.



2- توجد البكتيريا على شكل مستعمرات لأن كل بكتيريا تتكاثر وتشكل مستعمرة.

3- أهم مميزات البكتيريا: التغذية، النمو والتكاثر في حرارة مناسبة.

(ب) تعريف الميكروبات

\* الميكروبات كائنات حية مجهرية تعيش في الوسط الخارجي.

ميكروبات ممرضة	ميكروبات غير ممرضة
ميكروبات سبحية	بكتيريا القولون
فيروسات	خميرة الخبز
بلازموديوم	عفن البنسيلوم

(ج) تصنيف الميكروبات إلى ممرضة وغير ممرضة

\* توجد جراثيم ضارة وأخرى غير ضارة حيث تعيش في الوسط دون إصابة الإنسان كما تستعمل في مختلف الصناعات.

(د) فوائد الميكروبات

صناعة الأغذية، الأدوية.....

\* ملاحظة صور لأنواع مختلفة من الميكروبات.

\* كثيرا ما نسمع عن أمراض جرثومية مختلفة وخطيرة.

تساؤل: ما الذي يجعل هذه الأمراض تختلف؟

تختلف الأمراض باختلاف الجراثيم.

**مخطط العمل**

(أ) مميزات الميكروبات (الجراثيم)

\* ادرس الفقرة (1) صفحة 86 واجب عن الأسئلة 1 - 2 - 3.

(ب) تعريف وتصنيف الميكروبات


\* اعتمادا على باقي الفقرات (2) إلى (6)، عرف الميكروبات وصنفها في جدول.

(ج) أنواع الميكروبات

\* حسب التصنيف الذي حصلت عليه في الجدول ما رأيك في الجراثيم؟

(د) فوائد الميكروبات

\* قدم أمثلة توضح فيها فوائد بعض الجراثيم.



حوصلة أجوبة التلاميذ = النتيجة

الخلاصة

المجال المفاهيمي: التنسيق الوظيفي في العضوية

رقم المذكرة: 21

الأستاذ عوشت عمر

الوحدة المفاهيمية: الاستجابة المناعية

الحصة التعلمية: II- الاستجابة المناعية اللانوعية

(1) نشاط الميكروبات في العضوية

الكفاءة القاعدية: يحدد دور النظام المناعي في الدفاع عن العضوية.

مؤشر الكفاءة: يحدد أنواع الأجسام الغريبة الممرضة ومميزاتها.

الوسائل: كتاب التلميذ - لوحة توضح مميزات تكاثر البكتيريا والفيروسات (صور، جداول، منحني).

### المنهجية

وضعية الانطلاق

\* تنتشر الجراثيم في الوسط الذي يعيش فيه الإنسان دون أن يشعر بها.

الوضعية الإشكالية

\* تساؤل: متى يحس الإنسان بوجود الجراثيم؟

الفرضية

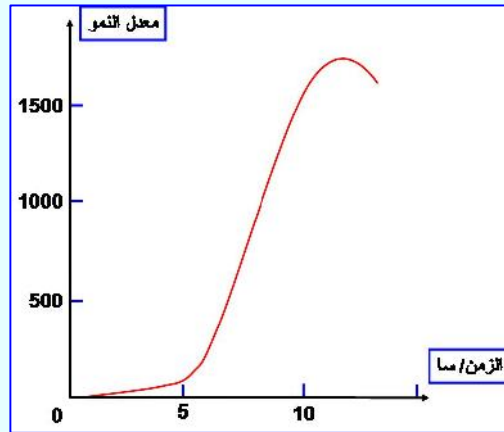
- يحس الإنسان بوجود الجراثيم عندما تخترق عضوته وتنشط بداخلها.

مسعى حل الإشكالية

مخطط العمل

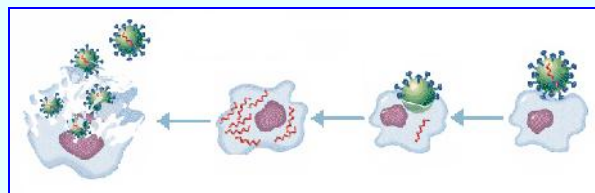
(أ) تكاثر البكتيريا

\* ادرس الوثيقة صفحة 88 واجب عن الأسئلة 1- 2 - 3.



(ب) تكاثر الفيروسات

\* ادرس الوثيقة صفحة 89 واجب عن السؤالين 1 و 2.



حوصلة أجوبة التلاميذ = النتيجة

الخلاصة

### النتيجة

(أ) تكاثر البكتيريا

- 1- تحليل الجدول: تتكاثر البكتيريا ببطء خلال الساعات الخمس الأولى ثم يزيد التكاثر ما بين الساعة الخامسة والثانية عشر حيث يبدأ في التناقص.
- 2- حساب معدل التكاثر: نسبة التكاثر \ الزمن =  $1500 \div 10 = 150$
- 3- مميزات عدوى البكتيريا:
  - تتكاثر بسرعة.
  - بعض البكتيريا يغزو كل أعضاء الجسم مثل المكورات السبحية.
  - بعضها يستقر في مكان واحد وينتج سموما تنتشر في الجسم مثل عصيات الكزاز.

(ب) تكاثر الفيروسات

- 1- مراحل العدوى الفيروسية: يدخل الفيروس إلى الخلية السليمة حيث يتكاثر ثم يغادر الخلية وينتشر لغزو خلايا أخرى.

2- المميزات العامة للمكروبات هي:

- تتكاثر بسرعة.
- بعضها يغزو كل الأعضاء.
- بعضها ينتج مواد سامة.
- الفيروسات تتكاثر داخل الخلايا.

المجال المفاهيمي: التنسيق الوظيفي في العضوية

رقم المذكرة: 22

الأستاذ عوشت عمر

الوحدة المفاهيمية: الاستجابة المناعية

الحصة التعليمية: II- الاستجابة المناعية الانوعية (تابع)

(2) التفاعل الالتهابي والبلعمة

الكفاءة القاعدية: يحدد دور النظام المناعي في الدفاع عن العضوية.

مؤشر الكفاءة: أن يربط التلميذ بين أعراض الالتهاب وردود فعل العضوية بتدخل الكريات البيضاء.

الوسائل: كتاب التلميذ - لوحة تمثل التفاعل الالتهابي - لوحة تمثل البلعمة.

### المنهجية

وضعية الانطلاق

\* وأنت تقطف بعض الأزهار وخزتك شوكة في أصبعك وبعد دقائق لاحظت احمرارا وانتفاخا في موضع الوخز.

الوضعية الإشكالية

**تساؤل:** ماذا تعني هذه الأعراض؟

الفرضية

- هي تدل على وجود رد فعل من طرف الجسم على دخول الجراثيم إلى الوسط الداخلي.

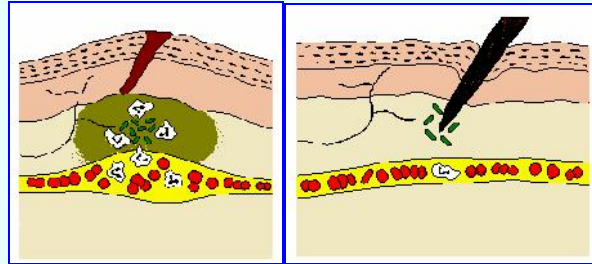
مسعى حل الإشكالية

### مخطط العمل

أ - التفاعل الالتهابي

\* ادرس الوثائق صفحة 90 واجب عن الأسئلة

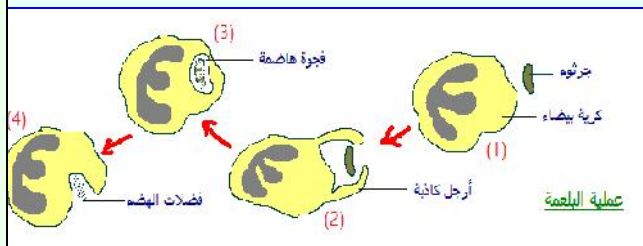
المناسبة 1 إلى 4.



ب - البلعمة

\* ادرس الوثائق صفحة 91

واجب عن الأسئلة 1 إلى 4.



حوصلة أجوبة التلاميذ = النتيجة

الخلاصة

### النتيجة

أ - التفاعل الالتهابي

1- مقارنة بين الوثيقتين (3) و(4):

- (3) دخول شوكة في الجلد ووصول الجراثيم إلى الأدمة قرب الأوعية الدموية

- (4) خروج المصورة والكريات البيضاء من الأوعية الدموية مع انتفاخ الجرح - مهاجمة الكريات البيضاء للجراثيم.

2- تفسير الأعراض الملاحظة في الوثيقتين

(1) و (2):

\* (1) الاحمرار يكون بسبب احتقان الأوعية الدموية

بالدم - السائل المصفر هو المصورة التي تخرج

من الأوعية الدموية - القيح هو ناتج الجراثيم التي حطمتها الكريات البيضاء.

\* (2) صورة توضح أن الكريات البيضاء البلعمية

تهاجم وتلتهم الجراثيم.

3- المراحل الأساسية للاستجابة المناعية

- احتقان الأوعية الدموية.

- خروج البلازما والكريات البيضاء من الأوعية

الدموية.

- احمرار وانتفاخ موقع الجرح.

ب - البلعمة

1- المراحل الأساسية للبلعمة هي:

- التهام الكريات البيضاء للجراثيم.

- هضم الجراثيم داخل فجوة عصارية بفضل مواد هاضمة.

- طرح فضلات الهضم.

2- رسم تخطيطي (الشكل المقابل).

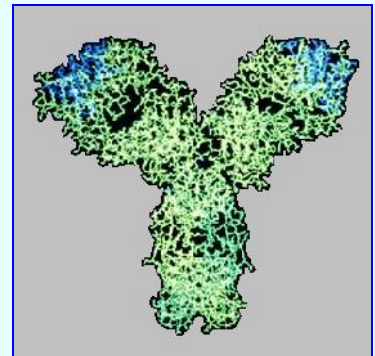
3- تعتبر البلعمة مهمة في الدفاع عن

العضوية حيث تسمح بتحطيم الأجسام الغازية.

4- البلعمية تلتهم أنواعا عديدة من الميكروبات

ولذلك تعتبر هذه الاستجابة لانوعية.

الأستاذ عوشت عمر	رقم المذكرة: 23	المجال المفاهيمي: <b>التسيق الوظيفي في العضوية</b>
		الوحدة المفاهيمية: <b>الاستجابة المناعية</b> الحصة التعليمية: <b>III- الاستجابة المناعية النوعية</b>
الكفاءة القاعدية: يشرح بعض أمراض فرط الحساسية والمناعة الذاتية.		
مؤشر الكفاءة: يحدد أنواع ومميزات الاستجابة المناعية النوعية.		
الوسائل: كتاب التلميذ - لوحات تمثل بعض التجارب التي توضح الاستجابة المناعية النوعية.		
المنهجية		
<p style="text-align: center;"><b><u>النتيجة</u></b></p> <p style="text-align: center;"><b>1- الاستجابة الخلطية</b></p> <p><b>(1) - الملاحظة: الحيوان الذي حقن له <b>الأناتوكسين</b> <b>التكرزي</b> لا يموت عكس الحيوان الذي لم يحقن أي (الشاهد).</b></p> <p>- ونستنتج أن الحيوان المحقون <b>اكتسب مناعة</b> ضد الكزاز.</p> <p><b>(2) الملاحظة: الحيوان الذي حقن له <b>مصل حيوان</b> معالج بالأناتوكسين التكرزي يقاوم <b>التوكسين</b> <b>التكرزي</b>.</b></p> <p>- ونستنتج أن نقل المصل يحدث استجابة مناعية في الجسم وتسمى <b>استجابة مناعية خلطية</b>.</p> <p style="text-align: center;"><b>2- النوعية في الأجسام المضادة</b></p> <p style="text-align: center;"><b>(أ) توضيح النوعية</b></p> <p><b>(1) - الملاحظة: المصل المأخوذ من حيوان محصن ضد الكزاز يحمي الحيوان المحقون بالتوكسين التكرزي بينما لا يحمي الحيوان المحقون بتوكسين الخناق.</b></p> <p>- نستنتج أن الاستجابة الخلطية تكون <b>نوعية</b> حيث أن الجسم المضاد يقاوم مولد ضادة من نوع معين.</p> <p style="text-align: center;"><b>(ب) تعديل الأجسام الغريبة</b></p> <p>* <b>المصل المنقول يحتوي على مواد تسمى الأجسام المضادة.</b></p> <p>* <b>للأجسام المضادة مواقع تفاعل خاصة تثبت مولد الضد لتشكل <b>معقد "جسم مضاد- مولد ضد"</b> هذا التثبيت يعدل الأجسام الغريبة أي يبطئ مفعولها في الجسم.</b></p>	<p><b>* مراجعة حول الاستجابة المناعية اللانوعية:</b> ما هي العوامل التي تتدخل في الاستجابة المناعية اللانوعية؟</p> <p><b>* الحواجز الطبيعية مثل الجلد والمخاط والخلايا البلعمية.</b></p> <p><b>* أحيانا تعجز هذه الوسائل لمقاومة لأجسام الغريبة.</b></p> <p><b>تساؤل: كيف يتم إذن القضاء على الجراثيم؟</b></p> <p style="text-align: center;"><b><u>مخطط العمل</u></b></p> <p style="text-align: center;"><b>1- الاستجابة الخلطية</b></p> <p>(1) قارن بين التجريبتين (أ) و (ب) صفحة 92 وقل ما تلاحظه وما تستنتجه</p> <p>(2) قارن بين التجريبتين (ج) و (د) صفحة 92 وقل وما تلاحظه وما تستنتجه</p> <p style="text-align: center;"><b>2- النوعية في الأجسام المضادة</b></p> <p style="text-align: center;"><b>(أ) توضيح النوعية</b></p> <p>(1) ادرس التجربة (أ) صفحة 93 وقل ما تلاحظه وتنتنتجه.</p> <p style="text-align: center;"><b>(ب) تعديل الأجسام الغريبة</b></p> <p>* اعتمادا على الوثيقتين (2) و (3) صفحة 93، فسر نتيجة التجربة (أ)</p>	<p><b>وضعية الانطلاق</b></p> <p><b>الوضعية الإشكالية</b></p> <p><b>مسعى حل الإشكالية</b></p>





### 3- إنتاج الأجسام المضادة

\* ادرس الفقرة (3) صفحة 94

وأجب عن الأسئلة التالية:

#### أ) مصدر الأجسام المضادة

\* حدد العلاقة بين الخلايا للمفاوية والأجسام المضادة.

#### ب) تطور إنتاج الأجسام المضادة

- 1- ماذا يمثل منحى الوثيقة (2)؟
- 2- حلل هذا المنحنى وقل ما تستنتج؟

#### ج) الإيجابية المصلية

- 1- قل ماذا يمثل منحى الوثيقة (3) صفحة 94
- 2- متى تظهر الأجسام المضادة ؟
- 3- ماذا نقول عن الشخص الذي يكون في هذه الحالة ؟

#### 4- الاستجابة الخلوية

ادرس الوثيقة (4) صفحة 95 واجب

#### أ) التلقيح والاستجابة النوعية

قل ما تستنتج من ملاحظة التجريتين (أ) و (ب).

#### ب) دور الخلايا في الاستجابة النوعية

قل ما تستنتج من ملاحظة التجريتين (ج) و (د).

#### ج- رفض الطعوم

لاحظ الوثيقة (5) صفحة 95

- 1- قل بم تفسر رفض الطعم في هذه التجربة
- 2- قارن بين الزرع الأول والزرع الثاني وقل ما تستنتج.

#### د- خصائص الاستجابة النوعية

\* اعتمادا على الاستنتاجات السابقة استخلص خصائص الاستجابة النوعية.

حوصلة أجوبة التلاميذ = النتيجة

الخلاصة

### 3- إنتاج الأجسام المضادة

#### أ) مصدر الأجسام المضادة

الخلايا للمفاوية تنتج الأجسام المضادة حيث أن التحاليل الطبية توضح ظهور الأجسام المضادة في الجسم مع زيادة الخلايا للمفاوية.

#### ب) تطور إنتاج الأجسام المضادة

- 1- تغيرات نسبة الأجسام المضادة في الدم تبعا لمولد الضد (جسم غريب).
- 2- تزيد الأجسام المضادة في الجسم تدريجيا تبعا لتماسه مع مولد الضد (الأجسام الغريبة) ثم تتناقص وعند التماس الثاني تكون الاستجابة سريعة ومهمة.

#### ج) الإيجابية المصلية

- 1- يمثل إنتاج الأجسام المضادة **لفيروس السيدا (VIH)**.
- 2- تظهر عند دخول الفيروس إلى الجسم.
- 3- هو موجب المصل.

#### 4- الاستجابة الخلوية

#### أ) التلقيح والاستجابة الخلوية

الملاحظة: الحيوان الملقح بال BCG لا يموت عند حقنه بيكتيريا السل (عصيات كوخ) عكس الحيوان غير الملقح (الشاهد) ونستنتج وجود استجابة مناعية لدى الحيوان الملقح.

#### ب) دور الخلايا في الاستجابة النوعية

نلاحظ أن الحيوان الذي حقن بمصل الحيوان الملقح يموت عند تعرضه لعصيات كوخ بينما الحيوان الذي حقن بخلاياه للمفاوية لا يموت ونستنتج أن هذه الاستجابة تمت بفعل الخلايا للمفاوية وتسمى **استجابة مناعية خلوية**.

#### ج- رفض الطعوم

- 1- يتم رفض الطعم لأن خلايا الحيوان المعطى تخرب بفعل **الخلايا للمفاوية الثانية (LT)** للحيوان الآخذ.
- الخلايا للمفاوية تهاجم الأجسام التي تكون من نوع آخر فهذه **استجابة نوعية**.
- 2- نلاحظ أن رفض الطعم كان بطيئا في المرة الأولى بينما كان سريعا في المرة الثانية.

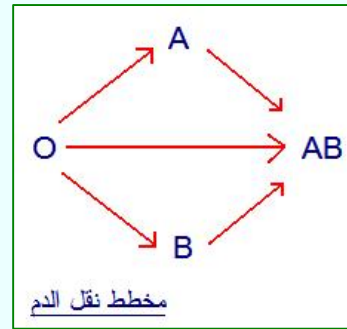
#### د- خصائص الاستجابة النوعية

- \* خصائص الاستجابة الخلوية أنها:
- تتم بفعل تدخل الخلايا للمفاوية.
- تكون نوعية.
- تتميز بالذاكرة.



المجال المفاهيمي: التنسيق الوظيفي في العضوية	رقم المذكرة: 24	الأستاذ عوشت عمر
<p>الوحدة المفاهيمية: الاستجابة المناعية</p> <p>الحصة التعليمية: III- الاستجابة المناعية النوعية (تابع)</p> <p>5- الذات واللاذات</p>		
الكفاءة القاعدية: يشرح بعض أمراض فرط الحساسية والمناعة الذاتية.		
مؤشر الكفاءة: أن يحدد التلميذ مفهوم الذات واللاذات من خلال دراسة نتائج عمليات نقل الدم.		
الوسائل: كتاب التلميذ – بحوث حول نقل الدم وزرع الطعوم.		
المنهجية		
<p><b>النتيجة</b></p> <p>5- الذات واللاذات</p> <p><b>أ) نقل الدم</b></p> <p>يتم نقل الدم بين الأفراد لأغراض علاجية في حالات مرض أو حوادث إلا أن العملية لا تكون ممكنة إلا إذا كان توافق بين دم المعطي ودم المستقبل (الآخذ).</p> <p><b>ب) تحديد الزمر الدموية</b></p> <p>لإمكانية نقل الدم من شخص لآخر يتم تحديد الزمر الدموية للأشخاص وهذا باختبار التوافق حيث توضع ثلاث قطرات ..... الوثيقة (1) صفحة 96.</p> <p>وبذلك نصنف الأشخاص إلى أربع زمر هي:</p> <p>A - B - AB - O (انعدام مولد الضد وحرف O أصله صفر) (الجدول: الوثيقة 2 صفحة 97).</p> <p><b>ج) مولد الضد والمضاد</b></p> <p>- تحمل الكريات الحمراء على أغشيتها عناصر تسمى <b>مولد الضد</b> (مولد الضد A أو مولد الضد B) كما توجد خلايا لا تحمل مولد الضد.</p> <p>- يوجد في بلازما الدم (المصورة) أجسام مضادة تسمى <b>المضاد</b> فنلاحظ المضاد A أو (a) والمضاد B أو (b).</p>	<p><b>مراجعة</b> حول الأجسام المضادة: ما هي الأجسام المضادة؟</p> <p>- هي مواد توجد في مصل الدم (البلازما) تقضي على الأجسام الغريبة التي تدخل الجسم.</p> <p><b>تساؤل:</b> بعض الأشخاص يتعرضون إلى حوادث وينزفون كثيرا – كيف يمكن تعويض الدم الذي فقده؟</p> <p>- يتم ذلك عن طريق نقل الدم من شخص آخر.</p> <p><b>مخطط العمل</b></p> <p>* يمكن معالجة هذا الموضوع على شكل بحث (تحدد عناصره) من طرف التلاميذ أو دراسة النشاطات المقترحة في الكتاب خلال الحصة وهذا حسب الوقت المتوفر والتقدم في البرنامج.</p> <p>5- الذات واللاذات</p> <p>* ادرس الوثائق صفحة 96 إلى 99 وأجب عن الأسئلة التالية:</p> <p><b>أ)</b> متى تتم عملية نقل الدم؟</p> <p><b>ب)</b> لماذا تنجح عملية نقل الدم أحيانا وتفشل أحيانا أخرى؟</p> <p><b>ج)</b> ماذا يوجد على سطح الكريات الحمراء وفي مصل الدم (المصورة أو البلازما)؟</p> <p><b>د)</b> ما هي القاعدة التي يجب إتباعها لنقل الدم؟</p> <p><b>هـ)</b> ما هو عامل الريزوس وبم يرمز له؟</p> <p><b>و)</b> متى يمكن زرع الطعوم؟</p>	<p>وضعية الانطلاق</p> <p>الموضعية الإشكالية</p> <p>الفرضية</p> <p>مسعى حل الإشكالية</p>

ملاحظة: الشخص الذي يحمل مولد الضد A لا يحمل المضاد A المناسب بل يحمل المضاد B الذي لا يتفاعل معه.



\* عند اتصال الكريات الحمراء للمعطي مع بلازما المستقبل يتفاعل مولد الضد مع المضاد المناسب وبذلك يحدث الإرتصاص حيث تلتصق الكريات ببعضها وتسد الأوعية الدموية فيموت الشخص المستقبل.

#### (د) قواعد نقل الدم

\* يتم نقل الدم بين الأشخاص حسب القاعدة التالية: يجب نقل الدم الذي يحتوي على مولد ضد معين إلى دم لا يحتوي على المضاد المناسب له.

- (الدم من زمرة O لا يحتوي على مولد الضد فيمكن نقله إلى أي زمرة أخرى). (رسم مخطط نقل الدم).

#### (هـ) العامل ريزوس

\* يوجد مولد ضد آخر (D) على أغشية الكريات الحمراء لبعض الأشخاص يسمى الريزوس (Rh) ومن يحمله يسمى موجب الريزوس (Rh+) عكس الذي لا يحمله والذي يسمى سالب الريزوس (Rh-).

\* الشخص سالب الريزوس يحتوي مصل دمه عموما على مضاد الريزوس D.

\* لا يمكن نقل الدم من زمرة Rh+ إلى شخص من زمرة Rh- ويمكن النقل في باقي الحالات الأخرى. (الجدول صفحة 98).

#### (و) زرع الطعوم

\* الجسم يقبل الطعوم التي من ذاته بينما يرفض الطعوم التي تكون من شخص آخر والتي تحمل على سطح خلاياها سيمات تميزها وبذلك تتعرف عليها الكريات البيضاء وتهاجمها.

الخلاصة: نتيجة النشاط 6 - صفحة 101.

إمكانية النقل	حالة النقل
نقل ممكن	Rh+ ← Rh+
نقل غير ممكن	Rh- ← Rh+
نقل ممكن	Rh- ← Rh-
نقل ممكن	Rh+ ← Rh-



الخلاصة

حوصلة أجوبة التلاميذ = النتيجة

الأستاذ عوشت عمر	رقم المذكرة: 25	المجال المفاهيمي: التنسيق الوظيفي في العضوية
الوحدة المفاهيمية: الإعتلالات المناعية الحصة التعليمية: I- الحساسية : الاستجابة المفرطة		
الكفاءة القاعدية: يشرح بعض أمراض فرط الحساسية والمناعة الذاتية.		
مؤشر الكفاءة: أن يحدد نتائج الإعتلالات المناعية من خلال دراسة وثائق.		
الوسائل: كتاب التلميذ - لوحات تمثل بعض حالات الحساسية وأعراضها + بعض مسببات الحساسية.		
المنهجية		
<p><u>النتيجة</u></p> <p><b>1- أعراض الحساسية</b></p> <p>1- الأسباب العضوية لنوبة الربو هي:</p> <ul style="list-style-type: none"> <li>- تمدد الأوعية الدموية في الجهاز التنفسي.</li> <li>- تجمع عدد كبير من الكريات البيضاء في أنسجة الجهاز.</li> <li>- رشح لمصل الدم في أنسجة الجهاز.</li> <li>- تقلص الألياف العضلية للجهاز التنفسي.</li> </ul> <p>(هذه الأعراض تحدث نتيجة دخول الأجسام الغريبة إلى الجسم وهي عبارة عن تفاعل التهابي).</p> <p>2- مسببات الربو في المحيط هي: غبار المنازل، صوف الخراف، ريش، زغب الحيوانات، حبوب الطبع.</p> <p>3- هذه العناصر تعتبر بالنسبة للجسم مولدات ضد يقاومها الجسم عن طريق الاستجابة المناعية.</p> <p>4- يعتبر الربو استجابة مناعية مفرطة حيث تكون الاستجابة تجاه عناصر غير ممرضة وبهذا يسمى بالحساسية.</p> <p><b>2- الاختبارات الجلدية</b></p> <p>1- يوضع على سطح جلد المريض مستخلص مخفف لمسببات الحساسية الموجودة في المحيط وبعد دقائق تلاحظ النتائج، وفي حالة حدوث استجابة موضعية على شكل احمرار وانتفاخ يقدم للمريض العلاج المناسب حسب العنصر المسبب.</p> <p>2- تعتبر هذه المسببات مولدات ضد حيث تؤدي إلى استجابة مناعية تنتج أجساما مضادة تسمى (IgE).</p>	<p><b>وضعية الانطلاق</b></p> <p>* أخذ حالة من بين التلاميذ، أقاربهم أو معارفهم وطرح أسئلة حول أعراض الحساسية وأسبابها.</p> <p><b>تساؤل:</b> ما هي الحساسية وما أسبابها؟</p> <p>- الحساسية مرض تسببه أجسام غريبة توجد في الوسط وتدخل العضوية.</p> <p><b>مخطط العمل</b></p> <p><b>1- أعراض الحساسية</b></p> <p>* اقرأ الفقرة 1 (أ) من الصفحة 106 واجب عن الأسئلة 1 إلى 4.</p> <div data-bbox="874 1198 1077 1460"> </div> <div data-bbox="1129 1198 1316 1460"> </div> <p><b>2- الاختبارات الجلدية</b></p> <p>* ادرس الفقرة 1 (ب) من الصفحة 106 واجب عن السؤالين 1 و 2.</p> <div data-bbox="938 1675 1236 1899"> </div>	<p>الوضعية الإشكالية</p> <p>الوضعية الإشكالية</p> <p>الفرضية</p> <p>مسعى حل الإشكالية</p>

### 3- أمثلة عن أمراض الحساسية

\* ادرس الفقرة 1(ج) من الصفحة 107 واجب عن الأسئلة المناسبة.

### 4- آلية الاستجابة المفرطة

\* ادرس الفقرة 2 من الصفحة 107 واجب عن الأسئلة 1 - 2 - 3.



الخلاصة

حوصلة أجوبة التلاميذ = النتيجة

### 3- أمثلة عن أمراض الحساسية

1- توضح الوثيقة 3 صفحة 107 أن نسبة الأجسام المضادة (IgE) في دم الأشخاص المصابين بالحساسية تكون مرتفعة مقارنة مع الأشخاص العاديين.

2- المسببات تحفز العضوية على إنتاج الأجسام المضادة مما يؤدي إلى ظهور أعراض الحساسية.

### 4- آلية الاستجابة المفرطة

1- مراحل حدوث الاستجابة المفرطة:

تثير مسببات الحساسية الجهاز المناعي عند التماس الأول فتنتج الخلايا للمفاوية LB الأجسام المضادة

(IgE) التي تثبت على أغشية الخلايا الصارية

وتحرضها على إنتاج الهيستامين ومواد أخرى تبقى متجمعة فيها ضمن حويصلات وعند التماس الثاني من نفس المسبب للحساسية الأولى، تحرض الخلايا الصارية وتحرر محتوى الحويصلات من الهيستامين وغيرها مسببة بالتالي أعراض الحساسية (ارجع إلى الرسم (أ) من الوثيقة 2 - صفحة 107).

2- مسببات الحساسية أجسام عادية مكونة للوسط يتعامل معها جسم معظم الأشخاص على أنها غير غريبة إلا أن عضوية نسبة من الناس تستجيب لها وهذه تعتبر استجابة غير عادية (مفرطة).

3- الإجراءات الوقائية لتجنب الحساسية تتمثل في:

- تجنب مسببات الحساسية بالابتعاد عنها (غبار الطلع، دخان السيارات ...) وتنظيف البيت من الغبار والقراديات.

- العلاج بتقديم مسبب الحساسية بتركيز ضعيف يتزايد بمرور الزمن.

- تقديم مواد مضادة للهيستامين لإيقاف أزمات الحساسية عند حدوث النوبة.

المنهجية

<p><b>النتيجة</b></p> <p><b>1- أسباب أمراض المناعة الذاتية</b></p> <p>1- العوامل المتسببة في مرض داء المفاصل والغدة الدرقية:</p> <p>- داء المفاصل يكون بسبب الغلوبولينات المناعية (IgG) التي تنشط ضد أعضاء الفرد نفسه وهذا تفرز الخلايا للمقاومة أنزيمات حالة للبروتينات تهاجم أغشية المفاصل وتخرّبها.</p> <p>- انتفاخ الغدة الدرقية يكون بسبب وجود مادة تنشط ضد الغلوبولينات (IgG) وتحتفز الغدة الدرقية على إفراز هورمونات لمدة أطول مما هو في الحالة الطبيعية مما يجعلها تتضخم وتتفخ ويصحب ذلك جحوظا في العينين.</p> <p><b>2- لا يمكن للعضوية أن تقاوم بجهازها المناعي</b></p> <p>مسببات هذه الأمراض لأن هذه الأخيرة ظهرت نتيجة:</p> <p>- مواد تشكّلت خلال الاستجابة المناعية للجسم.</p> <p>- هذه المواد تهاجم الغلوبولينات المناعية التي تحمي الجسم.</p> <p><b>2- أمراض مناعية أخرى</b></p> <p>* أمراض المناعة الذاتية أمراض ناتجة عن مواد طبيعية ينتجها الجسم وتهاجم مختلف أعضائه وتحدث بذلك تأثيرات تظهر على شكل اعتلالات مناعية ذاتية (جدول صفحة 109).</p>	<p><b>مقدمة</b></p> <p>* مراجعة حول الحساسية.</p> <p><b>الوضعية الإشكالية</b></p> <p>* تظهر التحليلات عند بعض الأشخاص المرضى نسبة كبيرة من الغلوبولينات المناعية في الدم رغم انعدام أجسام غريبة في الجسم.</p> <p><b>الفرضية</b></p> <p>الجسم ينتج موادا مضادة تهاجم عناصر طبيعية في الجسم.</p> <p><b>مخطط العمل</b></p> <p><b>1- أسباب أمراض المناعة الذاتية</b></p> <p>اقرأ الوثيقتين (1) و (2) من الصفحة 108 واجب عن السؤالين 1 و 2.</p> <div data-bbox="1024 1339 1295 1552">  </div> <div data-bbox="1031 1565 1295 1796">  </div> <p><b>2- أمراض مناعية أخرى</b></p> <p>ادرس الجدول صفحة 109 وأكتب نصا قصيرا تعرف فيه أمراض المناعة الذاتية.</p> <p><b>الخلاصة</b></p> <p>حوصلة أجوبة التلاميذ = النتيجة</p>
------------------------------------------------------------------------------------------------------------------------------------------------------------------------------------------------------------------------------------------------------------------------------------------------------------------------------------------------------------------------------------------------------------------------------------------------------------------------------------------------------------------------------------------------------------------------------------------------------------------------------------------------------------------------------------------------------------------------------------------------------------------------------------------------------------------------------------------------------------------------------------------------------------------------------------------------------------------	---------------------------------------------------------------------------------------------------------------------------------------------------------------------------------------------------------------------------------------------------------------------------------------------------------------------------------------------------------------------------------------------------------------------------------------------------------------------------------------------------------------------------------------------------------------------------------------------------------------------------------------------------------------------------------------------------------------------------------------------------------------------------------------------------------------------------------------------------------------------------------------------



بسم الله الرحمن الرحيم

الأستاذ عوشت عمر	رقم المذكرة: 27	المجال المفاهيمي: التنسيق الوظيفي في العضوية
الوحدة المفاهيمية: الإعتلالات المناعية الحصّة التعليمية: III- اللقاحات والأمصال		
الكفاءة القاعدية: يشرح بعض أمراض فرط الحساسية والمناعة الذاتية.		
مؤشر الكفاءة: أن يحدد دور التلقيح المصل في حماية العضوية بالاعتماد على دراسة وثيقة.		
الوسائل: كتاب التلميذ - الدفتر الصحي للتلميذ - لوحة حول موضوع التلقيح.		
المنهجية		
<p><b>النتيجة</b></p> <p>1- اللقاحات</p> <p>(أ) الوقاية باللقاح</p> <p>1- تحليل التجربة صفحة 110:</p> <p>- دجاج المجموعة (ب) لم يمّت لأن جهازه المناعي أنتج مضادات لعصيات الكوليرا بينما دجاج المجموعة (أ) يموت لأنه لا يحمل هذه المضادات.</p> <p>2- العالم يتوقع عدم موت المجموعة (ب) بعد الحقن الأول.</p> <p>3- مصدر مناعة دجاج المجموعة (ب) هو الحقن الأول بفضل ميكروبات ضعيفة تحفز الجسم على إنتاج الأجسام المضادة (عملية اللقاح).</p> <p>4- لللقاحات أهمية في حياة الإنسان حيث تقيه من كثير من الأمراض المنتشرة في الوسط.</p> <p>(ب) الذاكرة المناعية مبدأ اللقاح</p> <p>1- تحليل المنحنى صفحة 110 وتفسيره:</p> <p>- عند التلقيح الأول ينتج الجسم المضادات ببطء وبكمية قليلة ثم تتناقص المضادات في اليوم الثامن.</p> <p>- عند التلقيح الثاني ينتج الجسم المضادات بكمية أكبر وبسرعة أكثر لتعرفه على اللقاح وتتناقص المضادات تدريجيا.</p> <p>- عند التلقيح الثالث ينتج الجسم كمية كبيرة من المضادات وبسرعة كبيرة تتناقص تدريجيا لكنها تبقى بكمية كافية في الجسم لحمايته من الجراثيم.</p> <p>2- التذكير باللقاح مهم للمحافظة على نسبة معتبرة من الأجسام المضادة في الدم.</p> <p>3- الاحتياطات الواجب اتخاذها من أجل ضمان فعالية إعادة اللقاح هي عدم تباعد إعادة الحقن حتى تبقى الخلايا المناعية تحمل ذاكرة تجاه الجسم الغريب ولا تزول.</p>	<p>* عند وصول جريح بآلة صدنة إلى مصلحة الاستعجالات بالمستشفى قرر الطبيب في الحال حقنه بمصل مضاد للكرزاز ثم حقنه بعد أيام بلقاح مضاد لنفس المرض.</p> <p>- ما الفائدة من حقن المصل واللقاح للمصاب؟</p> <p>قتل الجراثيم - مقاومة الجراثيم.</p> <p><b>مخطط العمل</b></p> <p>1- اللقاحات</p> <p>(أ) الوقاية باللقاح</p> <p>ادرس الوثيقة 1 من الصفحة 110 واجب عن الأسئلة المناسبة.</p> <p>(ب) الذاكرة المناعية مبدأ اللقاح</p> <p>ادرس منحنى الوثيقة (2) من الصفحة 110 واجب عن الأسئلة المناسبة.</p>	<p><b>وضعية الانطلاق</b></p> <p><b>الوضعية لإشكالية</b></p> <p><b>الفرضية</b></p> <p><b>مسعى حل الإشكالية</b></p>



## ج) التلقيحات

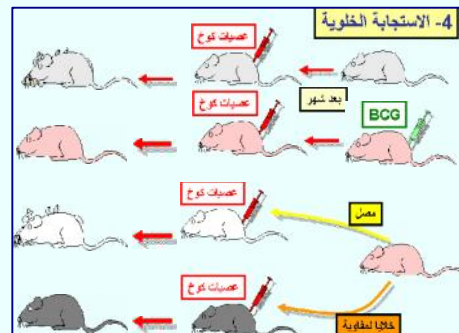
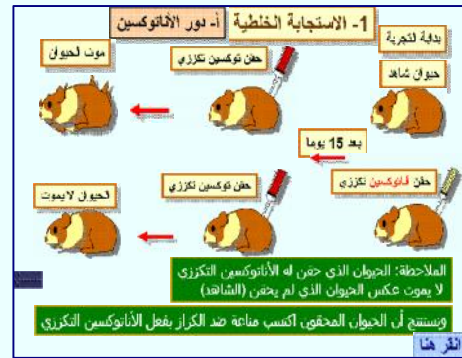
اقرأ الصفحة 8 من دفترك الصحي  
واذكر مختلف التلقيحات التي أجريتها  
ومتى تمت.

## 2- العلاج بالأمصال

اقرأ الفقرة (4) من الصفحة 111  
واجب عن الأسئلة 1 - 2 - 3.

## الخلاصة

حوصلة أجوبة التلاميذ = النتيجة



## ج) التلقيحات

\* التلقيحات تكون مثلا ضد السل - الخناق - الكزاز - السعال الديكي (يسجلها التلميذ في جدول مع فترة التلقيح).

## 2- العلاج بالأمصال

- 1- مصل شخص ممنوع (محسن) ضد الكزاز يكون غنيا بالأجسام المضادة للكزاز وعند نقله إلى شخص آخر على شكل غاماغلوبيولين يجعل جسمه يحتوي على أجسام مضادة تقاوم ميكروبات الكزاز.
- 2- تعريف العلاج بالأمصال: هو نقل أجسام مضادة على شكل مصل، من جسم إلى آخر ليقضي في هذا الأخير على الأجسام الغريبة التي أصيب بها.
- 3- اللقاحات تسمح بالوقاية من الإصابة بالأمراض بينما الأمصال تسمح بمعالجة المصابين بالأمراض. (نقل الجدول من النشاط 3، صفحة 112).



المجال المفاهيمي: انتقال الصفات الوراثية	رقم المذكرة: 28	الأستاذ عوشت عمر
الوحدة المفاهيمية: تشكل الأمشاج	الحصة التعليمية: I- مراحل تشكل الأمشاج	الكفاءة القاعدية: يتعرف على مراحل تشكل الأمشاج.
مؤشر الكفاءة: أن يصف مراحل تشكل الأمشاج اعتمادا على وثائق في شكل مخططات.	الوسائل: كتاب التلميذ - لوحات تمثل مقاطع في المنسولين الذكري والأنثوي ومراحل تشكل الأمشاج.	المنهجية
وضعية الانطلاق	1- دور المناسل (تمت دراسته في السنة الأولى). * كيف يمكن توضيح دور المناسل بتجربة بسيطة؟	الوضعية الإشكالية
النتيجة	1- دور المناسل تجربة: عملية استئصال خصيتي ذكر أرنب أو مبيضي أثناءه. الملاحظة: عجز الحيوانات على إنتاج الأمشاج (الخلايا التناسلية). الاستنتاج: الخصية والمبيض ينتجان الأمشاج.	مخطط العمل 2- إنتاج الأمشاج الذكورية (النطاف) أ- تركيب الخصية * يوضح مقطع الخصية (الشكل 1 - صفحة 120) أنها تتكون من فصوص تحتوي على أنابيب ملتفة تسمى الأنابيب المنوية. * يوضح مقطع الأنابيب المنوية احتواءها على خلايا أصلية تتكون منها النطاف.
مسعى حل الإشكالية	* لاحظ الوثيقتين 1 و 2 من الصفحة 120 وقل مما تتكون الخصية.   ب- مراحل تشكل النطاف لاحظ الوثيقة 4 من الصفحة 121 و صف مراحل تشكل النطاف في فقرة قصيرة.	ب- مراحل تشكل النطاف * حسب مخطط الوثيقة 4 - صفحة 121، يمر تشكل النطاف بمراحل متتالية هي: - مرحلة التكاثر: تنقسم فيها الخلايا الأصلية ذات الصيغة (2ن) وتتكاثر إلى مجموعة من الخلايا. - مرحلة النمو: تنمو هذه المنسلات المنوية مشكلة خلايا منوية من الدرجة الأولى (2ن). - مرحلة النضج: تمر الخلايا المنوية من الدرجة الأولى بانقسام منصف أول (اختزالي) فتعطي خلايا منوية من الدرجة الثانية بالصيغة (ن) تنقسم مرة أخيرة لتعطي منويات حديثة بالصيغة (ن). - مرحلة التمايز: تحدث للمنويات الحديثة تغيرات شكلية حيث تتحول إلى نطاف متكونة من رأس، قطعة متوسطة وسوط.

### ج- مميزات النطاف

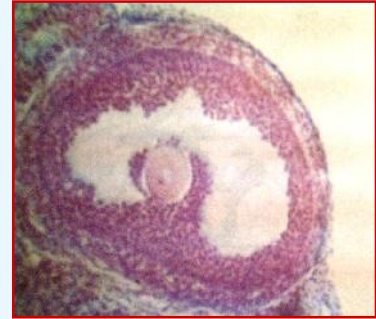
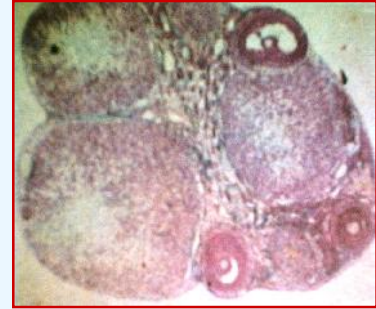
لاحظ الشكل (أ) (لوحة) على السبورة  
وقل بم تتميز النطفة.



### 3- إنتاج الأمشاج الأنثوية (البويضات)

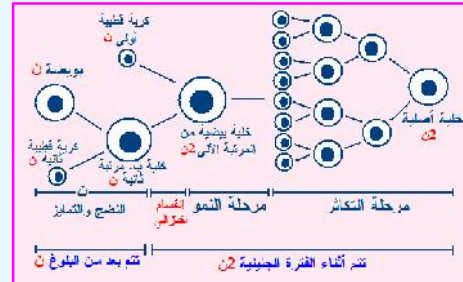
#### أ - تركيب المبيض

- 1- لاحظ الوثيقتين 1 و 2 صفحة 122 وقل  
مما يتركب المبيض.
- 2- ما هي الجريبات؟



### ب- مراحل تشكل البويضات

\* اكتب نصا تلخص فيه مراحل تشكل  
البويضات مستعينا بمخطط الوثيقة 5  
من الصفحة 123.



حوصلة أجوبة التلاميذ = النتيجة.

### ج- مميزات النطاف

تتميز النطفة برأس به نواة، قطعة متوسطة  
وسوط يسمح لها بالحركة.

### 3- إنتاج الأمشاج الأنثوية (البويضات)

#### أ - تركيب المبيض

- 1- المبيض عضو لوزي الشكل صغير أبعاده 3×4  
2× سم، يظهر مقطعه أنه يتكون من منطقتين  
هما:

- القشرة: هي المنطقة التي تتشكل على  
مستواها الجريبات التي تحمل البويضات.
  - اللب: هو نسيج ضام غني بالأوعية الدموية.
- 2- الجريبات تشكيلات تحمل الخلايا التناسلية  
الأنثوية، تتطور وتتضج لتقذف بالبويضة خارج  
المبيض (عملية الإباضة).

### ب- مراحل تشكل البويضات

- \* تتشكل البويضات خلال فترتين هما الفترة  
الجنينية والفترة بعد سن البلوغ.
- \* خلال الفترة الجنينية تمر الخلايا ب03 مراحل  
هي:
- مرحلة التكاثر حيث تتكاثر الخلايا الأصلية.
- مرحلة النمو التي تعطي خلايا بيضيه من  
المرتبة الأولى بصيغة (2ن).
- مرحلة الانقسام (الاختزال) حيث تنقسم الخلايا  
البيضية إلى خلايا تناسلية وكرات قطبية أولى  
بصيغة (ن).
- \* خلال الفترة بعد سن البلوغ وهي فترة النضج  
والتمايز حيث تنقسم الخلايا التناسلية إلى  
بويضات وكرات قطبية ثانية بصيغة (ن).

الخلاصة

### المنهجية

وضعية  
الانطلاق

\* درسنا في الحصة الماضية كيفية تشكل  
الأمشاج في المناسل والصبغة التي تتميز بها  
كل خلية.

تساؤل: ما معنى الصيغة (2ن) والصبغة (ن)؟

الوضعية  
الإشكالية

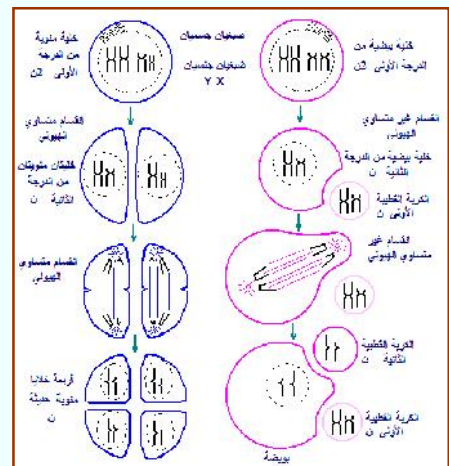
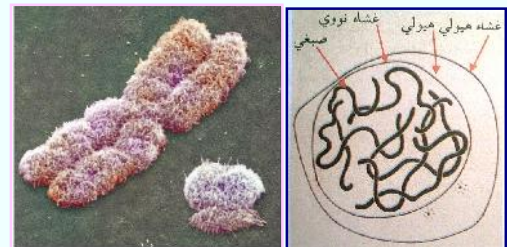
### مخطط العمل

1- الصبغيات أثناء تشكل الأمشاج

مسعى  
حل  
الإشكالية

أ- ظهور الصبغيات

ادرس الوثيقة صفحة 124 من الكتاب  
واجب عن السؤالين 1 و 2.



ب- العدد الصبغي عند الإنسان

ادرس الوثيقة 4 من الصفحة 125 واجب

عن الأسئلة 1 إلى 5.

النتيجة

1- الصبغيات أثناء تشكل الأمشاج

أ- ظهور الصبغيات

1- قبل دخول الخلية في الانقسام تكون الصبغيات  
دقيقة وغير واضحة داخل نواة صغيرة (لاحظ  
الوثيقة 1- صفحة 124).

2- أثناء الانقسام تتخن الصبغيات وتظهر بوضوح مع  
زيادة حجم النواة (الوثيقتان 2 و 3 من الصفحة  
124).

ب- العدد الصبغي عند الإنسان

1- عدد الصبغيات في الخلية الأصلية يكون زوجيا  
ويعبر عنه بالصبغة (2ن).

2- الخلية الناتجة عن انقسام الخلية من الدرجة  
الأولى تحتوي على نصف عدد الصبغيات، إذن  
خلال الانقسام الخلوي يقسم عدد الصبغيات  
على 2.

3- الانقسام الذي تعرضت له الخلية من الدرجة  
الأولى يسمى انقسام اختزالي.

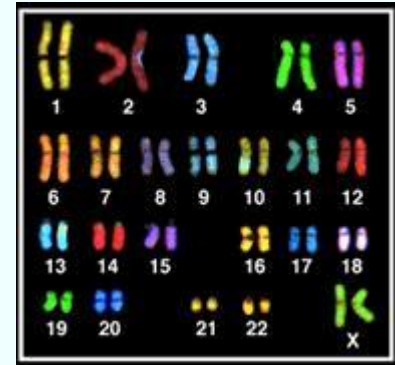
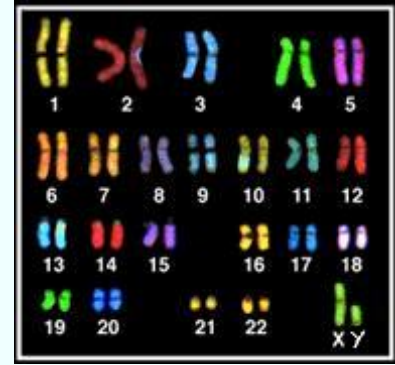
4- نعبر عن العدد الصبغي في الخلية الناتجة  
بـ (ن) لأن  $2ن = 2$ .

5- الخلية الجسمية لها صبغة صبغية (2ن) وعدد  
صبغياتها زوجي بينما خلية المشيج تكون ذات  
صبغة صبغية (ن) لأنها تحتوي على نصف عدد  
صبغيات الخلية الجسمية.



## 2 - النمط النووي عند الإنسان

ادرس الوثائق صفحة 126 – 127 من الكتاب واجب عن الأسئلة 1 إلى 4.



## 2 - النمط النووي عند الإنسان

1- عدد الصبغيات في الخلايا الجسمية للإنسان 46 صبغي.

2- الصبغيات المتماثلة عند الذكر 44 وعند الأنثى 46.

3- الفرق بين النمط النووي للذكر والأنثى هو وجود صبغين جنسيين مختلفين عند الذكر هما (x و y)

بينما عند الأنثى صبغيان متماثلان هما (x و x).

4- عدد الصبغيات في البويضة أو النطفة هو  $23 = \frac{46}{2} = 2n$  صبغي.

الخلاصة

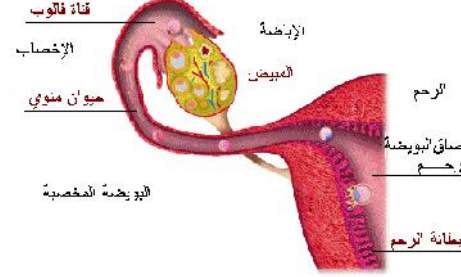
حوصلة أجوبة التلاميذ = النتيجة.

	رقم المذكرة: 30	المجال المفاهيمي: انتقال الصفات الوراثية
الأستاذ عوشت عمر		الوحدة المفاهيمية: تشكل الأمشاج
		الوحدة التعليمية: III- مراحل الإلقاح عند الإنسان
		الكفاءة القاعدية: يتعرف على مراحل تشكل الأمشاج.
		مؤشر الكفاءة: أن يحدد مراحل الإلقاح ودور الصبيين X و Y في تحديد الجنس اعتمادا على وثائق.
		الوسائل: كتاب التلميذ - لوحة تمثل الجهاز التناسلي للمرأة وعملتي الإلقاح والتعشيش.
المنهجية		
<p><b>النتيجة</b></p> <p><b>1- الإلقاح</b></p> <p>1- المسالك التناسلية الأثوية التي تعبرها النطاف هي: المهبل - الرحم - القناة الناقلة للبويضات.</p> <p>2- تلتقي النطاف بالبويضات في نهاية القناة الناقلة للبويضات.</p> <p>3- تسمى هذه الظاهرة: الإلقاح.</p> <p><b>2- تشكل البويضة الملقحة</b></p> <p>الوثيقة 2 صفحة 129 تمثل مراحل الإلقاح التي تكون كالتالي:</p> <p>(أ) تحيط النطاف بالبويضة.</p> <p>(ب) تدخل نطفة واحدة داخل البويضة مخترقة الغشاء السيتوبلازمي.</p> <p>(ج) تتحد نواتا المشيجين داخل البويضة حيث تصبح هذه الأخيرة بويضة ملقحة ذات صيغة (2ن) صبغي.</p> <p><b>3- التقاء الصبغيات</b></p> <p>1- تلتقي البويضة الملقحة 23 صبغي من الأب و 23 صبغي من الأم.</p> <p>2- نسبة النطاف المتشكلة الحاملة للصبغي X تقدر ب 50 %.</p> <p>3- نسبة البويضات المتشكلة الحاملة للصبغي X تقدر ب 100 %.</p>	<p><b>وضعية الانطلاق</b></p> <p><b>الوضعية الإشكالية</b></p> <p><b>مسعى حل الإشكالية</b></p> <p>* درسنا في السنتين الأولى والثانية الإلقاح وعرفناه على أنه اتحاد النطفة بالبويضة.</p> <p><b>تساؤل: ماذا يحدث خلال عملية الإلقاح؟</b></p> <p><b>مخطط العمل</b></p> <p><b>1- الإلقاح</b></p> <p>ادرس الوثيقة 1 - صفحة 128 واجب عن الأسئلة 1- 2- 3</p>  <p><b>2- تشكل البويضة الملقحة</b></p> <p>ادرس الوثيقة (2) صفحة 129 وقل ماذا توضح الصور (أ) (ب) (ج).</p>    <p><b>3- التقاء الصبغيات</b></p> <p>ادرس الوثيقة (3) صفحة 129 واجب عن الأسئلة 1- 2- 3</p>	



#### الإلقاح والتخصيب

تتم عملية الإخصاب عند إنثى بويضة الأنثى بالحيوان المنوي للذكر ، وتسمى هذه العملية بالإخصاب ، ويتم ميكانيكية هذه العملية عند ولوج قضيب الذكر في مهبل الأنثى في عملية تسمى بالجماع الجنسي ، ويطلق القضيب المملئين من الحيوانات المنوية التي تسبح في المهبل والرحم حتى تصل البويضة وتلتحقها ، وهذه البويضة الممتعة تتعلّق إلى الرحم ، حيث تكبر وتتحوّل إلى مئذنة.



#### 4- دور الصبغيين X,Y

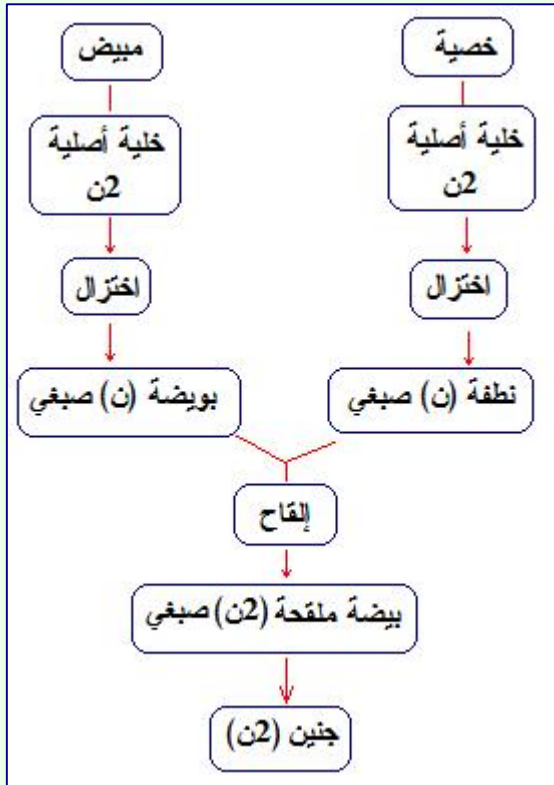
نطفة بصبغي (X) + بويضة بصبغي (X) = أنثى.  
نطفة بصبغي (Y) + بويضة بصبغي (X) = ذكر.

#### 5- خلاصة

\* للإلقاح أهمية حيث يسمح باتحاد الأمشاج ذات صيغة (ن) وبذلك تتشكل خلية جسمية ذات صيغة (2ن).

#### 6- مخطط مراحل الإلقاح

يقارن المخطط بالوثيقة صفحة 131.



#### 4- دور الصبغيين X,Y

حسب الوثيقة (3) ، قل ماذا ينتج عندما تلتحق البويضة من طرف نطفة تحمل الصبغي X وماذا ينتج عندما تحمل النطفة الصبغي Y.

#### 5- خلاصة

حدد في نص علمي قصير أهمية الإلقاح

#### 6- مخطط مراحل الإلقاح

مثل بمخطط مراحل الإلقاح اعتمادا على الوثيقة (2) صفحة 129

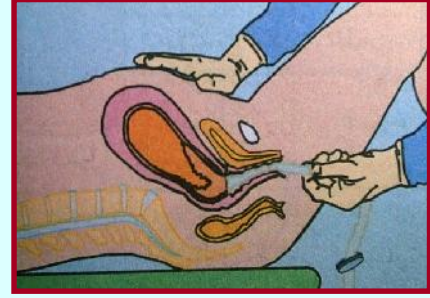
حوصلة أجوبة التلاميذ = النتيجة

الخلاصة

الأستاذ عوشت عمر	رقم المذكرة: 31	المجال المفاهيمي: انتقال الصفات الوراثية
الوحدة المفاهيمية: مراحل تطور الجنين عند الإنسان الحصة التعليمية: I- أهم مراحل تطور الجنين		
الكفاءة القاعدية: يميز أهم مراحل تطور جنين الإنسان.		
مؤشر الكفاءة: أن يبرز أهم مراحل تطور جنين الإنسان اعتمادا على دراسة وثائق.		
الوسائل: كتاب التلميذ - لوحة بصور تمثل مراحل تطور الجنين.		
المنهجية		
<p><b>النتيجة</b></p> <p><b>1- تطور البويضة الملقحة إلى جنين</b> <b>خلاصة الأجوبة 1 إلى 4:</b></p> <p>* تنقسم البويضة الملقحة في مرحلة أولى إلى خليتين مشكلتين جنينا بخليتين ويتواصل انقسام الخلايا التي تتضاعف في كل مرحلة مما يسمح بتطور ونمو الجنين.</p> <p>* يتغذى الجنين أثناء حياته الحرة من الإلقاح إلى التعشيش اعتمادا على مدخرات البويضة ومفرزات القناة الناقلة للبويضات والرحم.</p> <p>* يتشكل البرعم الجنيني ويتميز إلى طبقات تتشأ منها أجهزة الجنين.</p>   <p><b>2- نمو الجنين</b></p> <p>1- يوضح الجدول صفحة 137 أن قامة الجنين وكتلته تزيدان مع مرور الزمن.</p> <p>2- توضح الأشكال أن الجنين يتطور مع مرور الزمن حيث أن خلايا البرعم الجنيني تتميز إلى أنسجة مختلفة كالتالي:</p> <ul style="list-style-type: none"> <li>- الأسبوع 3: يظهر الرأس والقلب بوضوح</li> <li>- الأسبوع 5: ظهور أطراف بشكل بداءات.</li> <li>- الأسبوع 6: يتضح شكل الإنسان بأطراف واضحة على شكل مجاديف.</li> </ul>	<p><b>وضعية الانطلاق</b></p> <p>* عرفنا في الدرس السابق أن الإلقاح ينتج بويضة بصيغة (2ن) تعشش في الرحم.</p> <p><b>تساؤل : ماذا يحدث لهذه البويضة؟</b></p> <p><b>مخطط العمل</b></p> <p><b>1- تطور البويضة الملقحة إلى جنين</b> اعتمادا على دراسة الفقرة وشكل الوثيقة صفحة 136 اجب عن الأسئلة 1 إلى 4.</p>   <p><b>2- نمو الجنين</b></p> <p>1- لاحظ الوثيقة 4 من الصفحة 137 وقل ماذا يوضح هذا الجدول.</p> <p>2- ماذا توضح الوثائق 2 - 3 - 5؟</p> <p><b>حوصلة أجوبة التلاميذ = النتيجة.</b></p>	<p><b>الوضعية الإشكالية</b></p> <p><b>مسعى حل الإشكالية</b></p> <p><b>الخلاصة</b></p>

الأستاذ عوشت عمر	رقم المذكرة: 32	المجال المفاهيمي: انتقال الصفات الوراثية
الوحدة المفاهيمية: مراحل تطور الجنين عند الإنسان الحصة التعليمية: II- العلاقة بين الحمل وأمه		
الكفاءة القاعدية: يميز أهم مراحل تطور جنين الإنسان.		
مؤشر الكفاءة: أن يصف في فقرات قصيرة كيفية حصول الحمل على العناصر المغذية والتخلص من الفضلات داخل الرحم اعتمادا على المشيمة.		
الوسائل: كتاب التلميذ - لوحة تمثل جنينا داخل الرحم - لوحة لمنحنيات توضح تطور الحمل.		
المنهجية		
<p><b>النتيجة</b></p> <p><b>1- تطور الحمل داخل رحم الأم</b></p> <p>1- يعيش الجنين في جدار الرحم ويواصل تطوره إلى أن يشكل حميلا في الشهر الثاني.</p> <p>2- يتصل الحمل بجدار الرحم بفضل المشيمة عن طريق الحبل السري.</p> <p>3- نستنتج من المنحنى: يتواصل التطور والنمو داخل الرحم حيث تزيد القامة والوزن مع مرور الزمن.</p>  <p><b>2- توضيح العلاقة بين الحمل وأمه</b></p> <p>1- يثبت الحمل برحم الأم بفضل المشيمة الغنية بالأوعية الدموية.</p> <p>2- تسمح المشيمة بالمبادلات بين دم الأم ودم الحمل دون اختلاط الدمين حيث تتقل المغذيات و <math>O_2</math> من الأم إلى الحمل.</p> <p>3- وتتقل الفضلات و <math>CO_2</math> من الحمل إلى الأم.</p> <p>4- الحبل السري يؤمن هذا التبادل بالدورة ذات الاتجاهين بين الحمل والمشيمة.</p> <p>5- المشيمة تلعب دور الرئة حيث توفر <math>O_2</math> للجنين وتلعب دور الأمعاء بتوفيره المغذيات.</p> <p>6- جنين الإنسان يكون محميا داخل رحم الأم عكس الحيوانات البيوضة.</p>	<p><b>وضعية الانطلاق</b></p> <p>* درسنا في الموضوع السابق أن الجنين يمر بمراحل داخل الرحم إلى أن يتحول إلى كائن كامل.</p> <p><b>الوضعية الإشكالية</b></p> <p>تساؤل: كيف يحصل الجنين على متطلباته من غذاء و <math>O_2</math> لكي يستطيع التطور والنمو.</p> <p><b>مخطط العمل</b></p> <p><b>1- تطور الحمل داخل رحم الأم</b></p> <p>ادرس الوثائق صفحة 138 واجب عن الأسئلة التالية</p> <p>1- قل أين يعيش الجنين وإلى ماذا يتحول.</p> <p>2- قل بم يتصل الحمل وماذا يحيط به.</p> <p>3- اعتمادا على الجدول صفحة 138 ارسم منحنى بياني يمثل تطور قامة الحمل تبعا للزمن وقل ما تستنتجه.</p> <p><b>2- توضيح العلاقة بين الحمل وأمه</b></p> <p>ادرس الوثائق صفحة 139 واجب عن الأسئلة 1 إلى 6.</p>  <p><b>الخلاصة</b></p> <p>حوصلة أجوبة التلاميذ = النتيجة</p>	<p><b>مسعى حل الإشكالية</b></p>

الأستاذ عوشت عمر	رقم المذكرة: 33	المجال المفاهيمي: انتقال الصفات الوراثية
الوحدة المفاهيمية: مراحل تطور الجنين عند الإنسان الحصة التعليمية: III- أهم مراحل الولادة		
الكفاءة القاعدية: يميز أهم مراحل تطور جنين الإنسان.		
مؤشر الكفاءة: أن يصف أهم مراحل الولادة اعتمادا على وثائق مرسومة ويحدد العلاقة بين الأم المولود اعتمادا على مكتسباته القبلية.		
الوسائل: كتاب التلميذ - لوحة تمثل مراحل الولادة + جدول مقارنة حليب الأم والحليب الاصطناعي.		
المنهجية		
<p><u>النتيجة</u></p> <p>1- أهم مراحل الولادة</p> <p>1- مراحل الولادة:</p> <p>* المرحلة الأولى</p> <ul style="list-style-type: none"> <li>- حدوث آلام ومغص شديد في البطن</li> <li>- يتسع عنق الرحم.</li> <li>- تمزق الكيس الأمنيوسي وخروج السائل الأمنيوسي إلى الخارج.</li> </ul> <p>* المرحلة الثانية</p> <ul style="list-style-type: none"> <li>- تزداد تقلصات جدار الرحم وتقوى وتدوم حوالي 6 إلى 12 ساعة.</li> <li>- يتبع خروج المولود إصدار الصيحة الأولى نتيجة اندفاع الهواء إلى الرئتين وامتلائهما دفعة واحدة (حوالي 25 مليون سنخا تملأ دفعة واحدة).</li> </ul> <p>* المرحلة الثالثة</p> <ul style="list-style-type: none"> <li>- يقطع الحبل السري الذي كان يربط الجنين بالمشيمة.</li> </ul> <p>* المرحلة الرابعة</p> <ul style="list-style-type: none"> <li>- إخراج المشيمة وما تبقى من الحبل السري وبهذا تنتهي الولادة.</li> </ul> <p>2- يوفر O2 للمرأة خلال الولادة لأنه ضروري لإنتاج الطاقة التي تسمح بعمل عضلة الرحم.</p> <p>3- بعد الولادة يحصل الطفل على O2 من الهواء عن طريق التنفس الرئوي.</p>	<p>* تساؤل حول مصير الحمل عند اكتمال النمو داخل الرحم.</p> <p>التلميذ: "تحدث الولادة"</p> <p>تساؤل : كيف تحدث الولادة؟</p> <p><u>مخطط العمل</u></p> <p>1- أهم مراحل الولادة</p> <p>ادرس الوثيقة صفحة 140 واجب عن الأسئلة 1 - 2 - 3</p>  	<p>وضعية الانطلاق</p>



## 2- ما بعد الولادة

ادرس الوثيقة صفحة 141 واجب عن  
الأسئلة 1 إلى 4.



## الخلاصة

حوصلة أجوبة التلاميذ = النتيجة

## 2- ما بعد الولادة

- 1- أشكال العلاقة التي تستمر بين الأم ومولودها: التغذية - الحماية - التنظيف.
- 2- تقدم الأم للمولود الحليب الذي يحتوي على مضادات حيوية تحمي المولود من الأمراض ويتميز بحرارة 37 درجة يصعب ضبطها اصطناعيا.
- 3- النصائح التي تقدم للأم:
  - تناول أغذية متوازنة، متنوعة وكاملة لإنتاج الحليب الكافي للرضيع.
  - تجنب تناول الأدوية دون استشارة الطبيب حتى لا تنتقل إلى الحليب وتضر بالرضيع.
- 4- مقارنة بين وسط حياة المولود، تنفسه، وتغذيته قبل وبعد الولادة.

بعد الولادة	قبل الولادة	
الهواء	الرحم	الوسط
الجهاز الهضمي	المشيمة	التغذية
الجهاز التنفسي	المشيمة	التنفس



## 1- الصفة الوراثية

1-

الصفات الفردية	الصفات النوعية
- شعر أصفر أو أسود - جلد أسمر- جسم قصير - أعين عسلية	- جسم منتصب - شعر قليل يكسو الجسم - دماغ كبير

2- الصفات النوعية هي الصفات التي تميز بين أنواع من الحيوانات بينما الصفات الفردية هي الصفات التي تميز بين أفراد النوع الواحد.

3- للفرد صفات غير وراثية يكتسبها خلال تطوره وتسمى الصفات المكتسبة.

## 2- انتقال صفة وراثية

1- يمكن لصفة معينة الاختفاء في جيل معين لأنها صفة متنحية (مقهورة) بالنسبة للصفة التي تظهر وتعتبر صفة سائدة (قاهرة).

2- إذا ما اختفت الصفة السائدة تظهر الصفة المتنحية عند جيل معين (الجيل 1 أو 2).

3- الصفة التي تختفي في جيل معين لا تذهب كليا بل يمكنها الظهور في أي جيل إذا ما اجتمع أبوان يحملان نفس الصفة.

4- أعين أبناء زوجين أعينهما زرقاء تكون زرقاء.

5- مجموع الصفات الوراثية التي تحدد لون وشكل الفرد تمثل النمط الظاهري.

6- شجرة النسب تسمح بتتبع انتقال صفات وراثية معينة عبر عدة أجيال وذلك لتحديد:

- مختلف الصفات.
- الصفات السائدة.
- الصفات المتنحية.
- الربط بين أفراد العائلة خلال الأجيال.

\* يتم المدخل إلى هذا الموضوع من خلال مناقشة مع التلاميذ حول تشابههم مع أفراد عائلاتهم.

تساؤل: لماذا يتشابه بعض أفراد العائلة ويختلف البعض الآخر؟

- لأن الصفات التي يحملها الفرد تكون وراثية تأتي من الأب والأم.

## مخطط العمل

### 1- الصفة الوراثية

1- لاحظ الصور صفحة 148 من الكتاب واكمل الجدول التالي.

2- عرف الصفات النوعية والصفات الفردية.

3- الصفات الموضحة في الوثيقة (3) لا تعتبر وراثية - كيف تسميها إذن؟



### 2- انتقال صفة وراثية

لاحظ المخطط صفحة 149 وجب عن الأسئلة المناسبة.

حوصلة أجوبة التلاميذ = النتيجة

وضعية الانطلاق

الوضعية الإشكالية

الفرضية

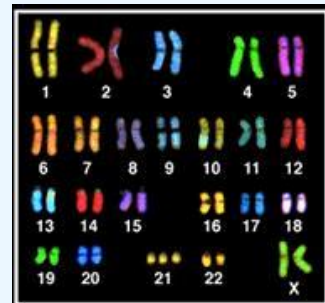

مسعى حل الإشكالية

الخلاصة



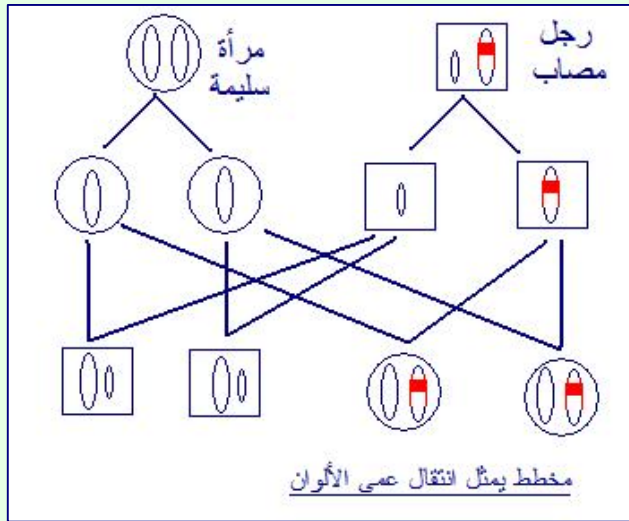
الأستاذ عوشت عمر	رقم المذكرة: 35	المجال المفاهيمي: انتقال الصفات الوراثية
		الوحدة المفاهيمية: الدعامات الوراثية لانتقال الصفات الحصة التعليمية: II- مقر المعلومات الوراثية
الكفاءة القاعدية: يعرف الصبغيات كدعامات لانتقال الصفات الوراثية.		
مؤشر الكفاءة: أن يحدد مقر المعلومات الوراثية من خلال تحليل نتائج تجارب وظواهر في شكل وثائق.		
الوسائل: كتاب التلميذ – لوحة تمثل تجربة النعجة "دولي" – صور لتوأم حقيقي وآخر غير حقيقي.		
المنهجية		
<p>النتيجة</p> <p>1- دراسة انتقال صفة وراثية</p> <p>1- نلاحظ أن النعجة المولودة ورثت نمطها الظاهري (الصوف الأبيض) من النعجة (ب).</p> <p>2- نستخلص أن مقر الصفات الوراثية هو النواة (الصبغيات).</p> <p>2- التوأم عند الإنسان</p> <p>1- مقارنة بين توأمين:</p> <p>- الصورة (أ) تمثل توأما غير حقيقي حيث يوجد بعض التشابه بين الفردين مع وضوح الاختلاف.</p> <p>- الصورة (ب) تمثل توأما حقيقيا لأن الفردين متطابقان والتشابه بينهما يكون في كل التفاصيل.</p> <p>2- التوأم الحقيقي يكون دائما متشابهين حتى من حيث الجنس لأنه نشأ من بيضة واحدة بينما التوأم غير الحقيقي يختلف لأنه نشأ من بويضتين مختلفتين.</p>	<p>وضعية الانطلاق</p> <p>الوضعية الإشكالية</p> <p>الفرضية</p> <p>مسعى حل الإشكالية</p> <p>* جسم الإنسان بشكله المعقد وتنوع أعضائه تشكل من خلية بيضية واحدة سمحت له بوراثة صفات أبويه.</p> <p>التساؤل: ما هو مقر المعلومات الوراثية؟</p> <p>- الخلية – النواة.</p> <p><u>مخطط العمل</u></p> <p>1- دراسة انتقال صفة وراثية</p> <p>ادرس التجربة الممثلة في الوثيقة 1 من الصفحة 150 واجب عن السؤالين 1 و 2.</p> 	
<p>* خلاصة: يتوضع البرنامج الوراثي للكائن الحي في نواة الخلية حيث أن الصفات الوراثية تنتقل إلى الفرد عبر نواة الخلية البيضية وإذا ما اختلفت الخلية البيضية اختلفت الصفات.</p>	<p>2- التوأم عند الإنسان</p> <p>ادرس الوثائق صفحة 151 من الكتاب واجب عن السؤالين 1 و 2.</p>  <p>حوصلة أجوبة التلاميذ = النتيجة.</p>	<p>الخلاصة</p>

<p>المجال المفاهيمي: انتقال الصفات الوراثية</p> <p>الوحدة المفاهيمية: الدعامات الوراثية لانتقال الصفات</p> <p>الحصة التعليمية: III- الدعامات الوراثية على مستوى النواة</p> <p>الكفاءة القاعدية: يعرف الصبغيات كدعامات لانتقال الصفات الوراثية.</p> <p>مؤشر الكفاءة: أن يربط التلميذ بين النمط النووي الشاذ لشخص ما والصفات المرضية التي تظهر عليه.</p> <p>الوسائل: كتاب التلميذ - لوحات تمثل صوراً لأنماط ظاهرية وأنماط نووية توضح تناذرات مختلفة.</p> <p>المنهجية</p>	<p>رقم المذكرة: 36</p> <p>الأستاذ عوشت عمر</p>	<p>وضعية الانطلاق</p> <p>الوضعية الإشكالية</p> <p>مسعى حل الإشكالية</p> <p>الخلاصة</p>
<p>النتيجة</p> <p>1- تناذر داون (ثلاثية 21)</p> <p>1- عند المقارنة بين النمط النووي للشخص المنغولي (الوثيقة 2 صفحة 152) والنمط النووي للشخص العادي (الوثيقة 3 أو 4 صفحة 127) نلاحظ وجود صبغي إضافي للزوج 21.</p> <p>2- وجود الثلاثية 21 ضمن النمط النووي للشخص يكون سبباً في التشوهات لدى هذا الشخص.</p> <p>3- النمط الوراثي الممثل في الوثيقة 2 صفحة 152 هو لطفلة حيث نلاحظ وجود صبغين XX يميزان الأنثى.</p> <p>2- شذوذات أخرى في النمط النووي</p> <p>1- عدد الصبغيات الممثلة في الوثيقة 3 صفحة 153 هو "47".</p> <p>2- الصبغيات التي وقع فيها خلل هي الصبغيات الجنسية XX.</p> <p>3- الشذوذ الصبغي لا يتمثل دائماً في وجود صبغي إضافي بل يحدث كذلك عند نقص أحد الصبغيات مثل تناذر تيرنر حيث يوجد صبغي X واحد.</p> <p>4- توجد أنماط نووية شاذة حيث يزيد أو ينقص فيها صبغي معين وهذا ما يحدث اختلالات في صفات الفرد.</p>	<p>* تقدم للتلاميذ صور لأشخاص مصابين بأمراض وراثية : منغوليون مثلاً.</p> <p>تساؤل: كيف أصيب هؤلاء الأشخاص بهذا المرض؟</p> <p>- هذا المرض لم ينتقل لهم من الوسيط بل هو وراثي.</p> <p>تساؤل آخر: ما سببه؟</p> <p>مخطط العمل</p> <p>1- تناذر داون (ثلاثية 21)</p> <p>ادرس الوثائق صفحة 152 واجب عن الأسئلة 1 - 2 - 3.</p>	<p>2- شذوذات أخرى في النمط النووي</p> <p>ادرس الوثائق صفحة 153 واجب عن الأسئلة 1 إلى 4.</p> <p>حوصلة أجوبة التلاميذ = النتيجة</p>

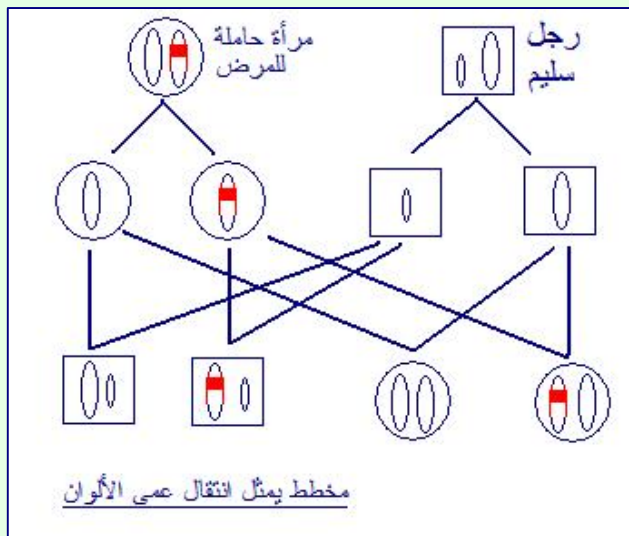


الأستاذ عوشت عمر	رقم المذكرة: 37	المجال المفاهيمي: انتقال الصفات الوراثية
الوحدة المفاهيمية: الدعامة الوراثية لانتقال الصفات الحصة التعليمية: IV- أمراض تنتقل وراثيا - مثال: مرض عمى الألوان		
الكفاءة القاعدية: يعرف الصبغيات كدعامة لانتقال الصفات الوراثية.		
مؤشر الكفاءة: أن يمثل انتقال مرض عمى الألوان عبر الأجيال بمخطط.		
الوسائل: كتاب التلميذ - لوحة تشمل أشكالا كما يراها شخص مصاب بمرض عمى الألوان.		
المنهجية		
<p><u>النتيجة</u></p> <p><b>الجزء الأول</b></p> <p>1- مريض عمى الألوان لا يستطيع تمييز اللونين الأحمر والأخضر.</p> <p>2- الطفل "11" أصيب بمرض عمى الألوان في الجيل الثاني لأن هذا المرض انتقل إليه عبر الصبغي الجنسي X من الجد "1" إلى الأم "6" في الجيل الثاني.</p> <p><b>الجزء الثاني</b></p> <p>1- * النساء اللواتي يحملن المرض دون أن يصبن به: - في الجيل 2: المرأتان "8" أو "10" - في الجيل 3: المرأة "14"</p> <p>* لا توجد هذه الحالة عند الرجال لأنهم يحملون صبغي x واحد إذا ما كان يحمل هذا الصبغي المرض يظهر في الشخص وإذا لم يحمل الصبغي المرض فيكون الرجل غير مريض.</p>	<p>* نلاحظ أحيانا ظهور مرض وراثي عند طفل دون أن يعرف عند والديه.</p> <p><b>تساؤل:</b> لماذا يظهر المرض الوراثي عند فرد معين دون ظهوره عند الأبوين؟</p> <p><u>مخطط العمل</u></p> <p><b>الجزء الأول</b></p> <p>1- ادرس الوثائق صفحة 154 واجب عن السؤالين 1 و 2.</p> <div data-bbox="869 1131 1324 1400"> </div> <p><b>الجزء الثاني</b></p> <p>2- ادرس الأشكال صفحة 155 واجب عن الأسئلة 1 إلى 6.</p>	<p>وضعية الانطلاق</p> <p>الوضعية الإشكالية</p> <p>مسعى حل الإشكالية</p>

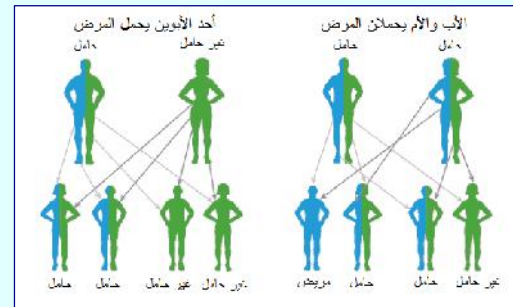
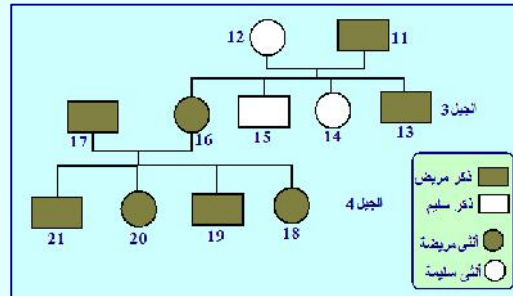
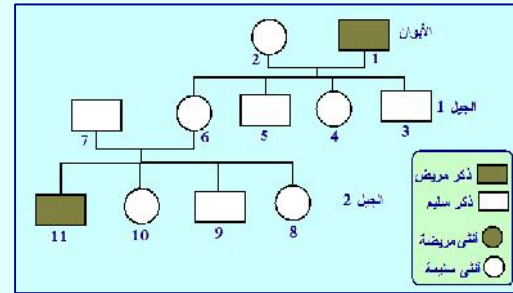
2- نمط الأبناء الظاهر إذا كان الأب مصاب والأم سليمة:  
- أبناء سليمون وبنات حاملات للمرض.  
\* الشكل:



3- إذا كان 50% من الأبناء مصابا بعمى الألوان فهذا يدل على أن الأب مصاب والأم سليمة.  
4- مخطط يمثل امرأة حامله للمرض متزوجة من رجل سليم وأبنائهم.



5- مرض عمى الألوان مرض وراثي مرتبط بالجنس لأنه ينتقل مع الصبغي X الذي يحدد جنس الفرد  
6- ننصح الشباب المقبل على الزواج بأن يتحرى ويسأل عن الأمراض الوراثية التي يمكن أن توجد عند الفرد الآخر.



الخلاصة

حوصلة أجوبة التلاميذ = النتيجة