

التوازي ومنتصفات أضلاع مثلث

* * * * * اع الحصالي ازيلال-محمد بنعدي- * * * * *

ملاحظات	الكفايات	المحتوى
البرهنة على بعض الخصائص كل ما أمكن أي إذا كان مستوى التلاميذ يسمح بذلك	معرفة واستعمال المبرهنات التالية - في كل مثلث المستقيم المار من منتصف ضلعي مثلث يوازي حامل الضلع الثالث - في كل مثلث المستقيم المار من منتصف ضلع والموازي لحامل ضلع ثاني يمر من منتصف الضلع الثالث - طول القطعة التي تربط بين منتصف ضلعي مثلث يساوي نصف طول الضلع الثالث	- المستقيم المار من منتصف ضلعي مثلث - مستقيم يمر من منتصف ضلع ويوازي ضلع آخر في مثلث

1- خاصية 1

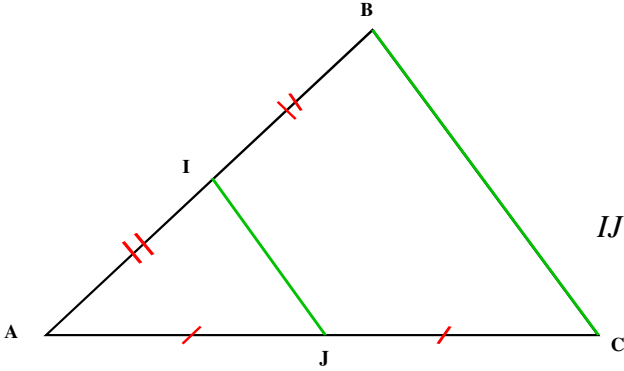
تمرين : مثلث معلوم و I منتصف القطعة [AB] و J منتصف [AC]

1- انشئ (d) مائلة I بالنسبة للنقطة J

2- حدد طبيعة الرباعي AICI' ؟ علل جوابك

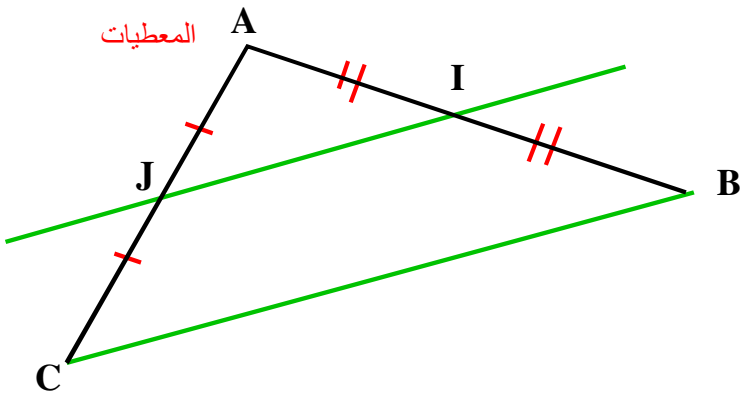
3- ماهي طبيعة الرباعي IBCI'

4- استنتج من خلال ماسبق أن (IJ) يوازي (BC) وان $IJ = \frac{1}{2} BC$



خاصية

في كل مثلث المستقيم العار من منتصف ضلعي مثلث يوازي حامل الضلع الثالث



المعطيات

المعطيات

I منتصف القطعة [AB]
و J منتصف [AC]

$IJ = \frac{1}{2} BC$ وان (IJ) يوازي (BC)

2- خاصية 2

تمرين

ABC مثلث معلوم و I منتصف القطعة [AB] ، الموازي للمستقيم (BC) و المار من I يقطع (AC) في J

1- انشئ المستقيم المار من C و الموازي للمستقيم (AB) ، هذا المستقيم يقطع (IJ) في D

2- حدد طبيعة الرباعي IBCD ؟ علل الجواب

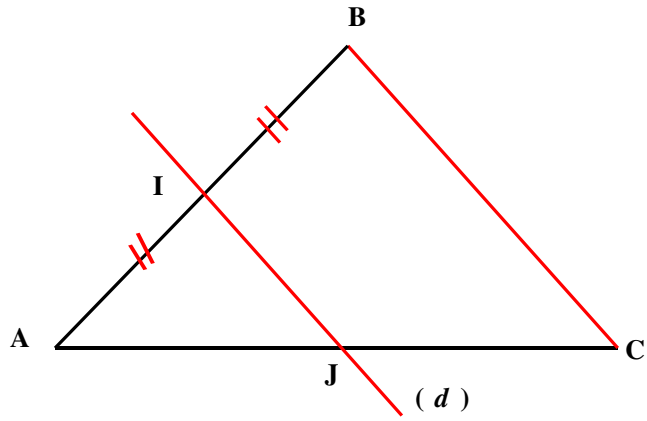
3- حدد طبيعة الرباعي AICD ؟ علل الجواب

4- استنتج ان J منتصف [AC]

في كل مثلث ، المستقيم العار من منتصف ضلع والموازي لحامل ضلع ثاني يمر من منتصف الضلع الثالث

في المثلث ABC
المستقيم (d) يمر من منتصف القطعة [AB]
و يوازي (BC)

(d) منتصف J يمر من [AC]



3- تطبيقات

نموذج 1

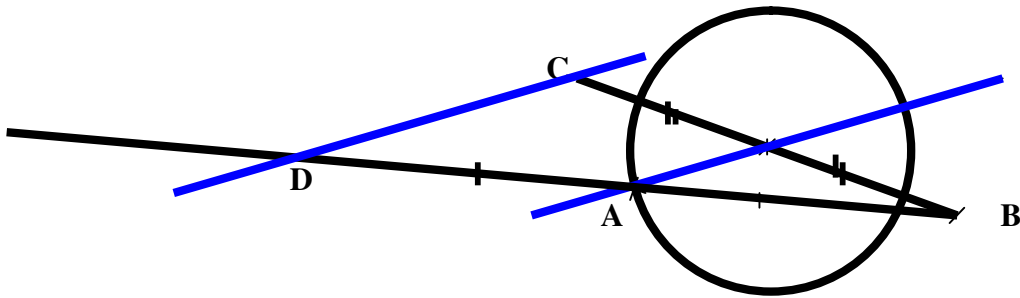
ارسم دائرة مركزها I و A نقطة من الدائرة و B نقطة خارج الدائرة
نعتبر C ممالة B بالنسبة للنقطة I و النقطة D ممالة B بالنسبة للنقطة A

a. ارسم المستقيمين (DC) و (AI).

b. أثبت أن (AI) و (DC) متوازيان

c. بين أن $DC = 2 \times AI$

الجواب



في المثلث CBD

لدينا I منتصف [CB] و [CB] منتصف [BD]

إذن (AI) و (CD) متوازيان

ولدينا $AI = \frac{1}{2} \times DC$

وبالتالي $DC = 2 \times AI$

نموذج 2

نعتبر مستقيمين (D_1) و (D_2) متقاطعان في I

لتكن M نقطة من (D_1) و N ممالة I بالنسبة للنقطة M

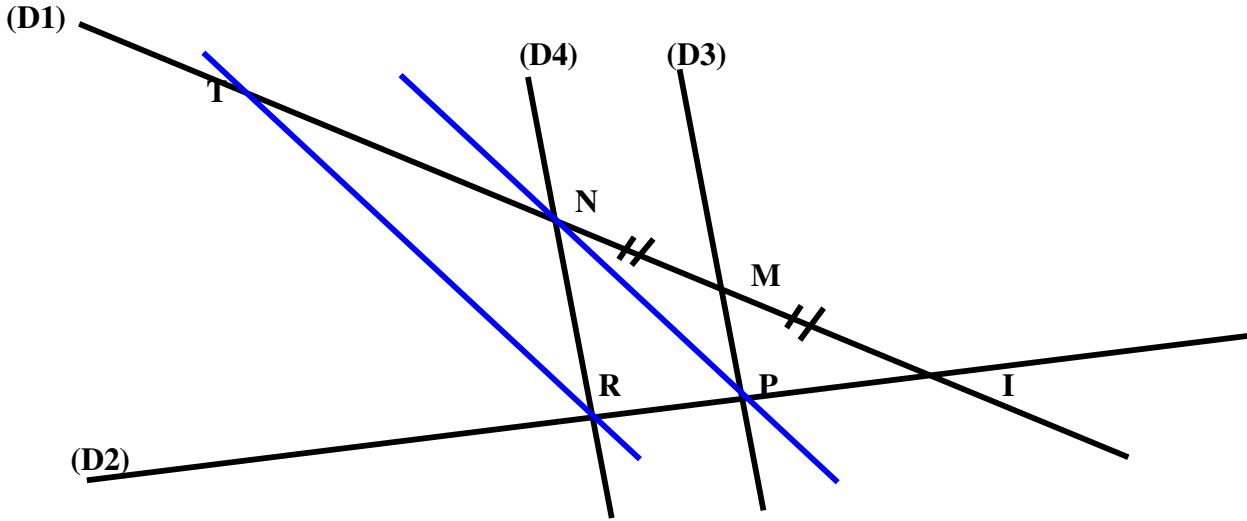
المستقيم (D_3) المار من M يقطع (D_2) في P

المستقيم (D_4) الموازي ل (D_3) والمار من N يقطع (D_2) في R

أنشئ المستقيم (NP) ثم مستقيم مواز له ومار من R يقطع (D_1) في T.

1- أثبت أن P منتصف [IR].

2- بين ان N منتصف [IT].



اثبت أن P منتصف [IR]

في المثلث INR

لدينا M منتصف [NI] و المستقيم (D4) مواز ل (MP) و مار من M
اذن (D4) يمر من منتصف [RI] أي P منتصف [RI]

بين ان N منتصف [IT].

في المثلث ITR

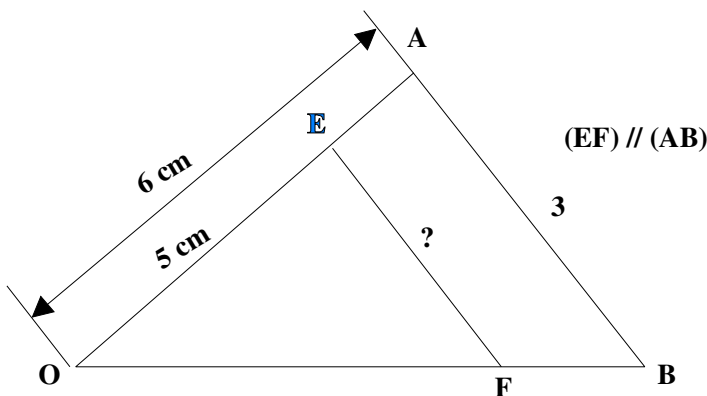
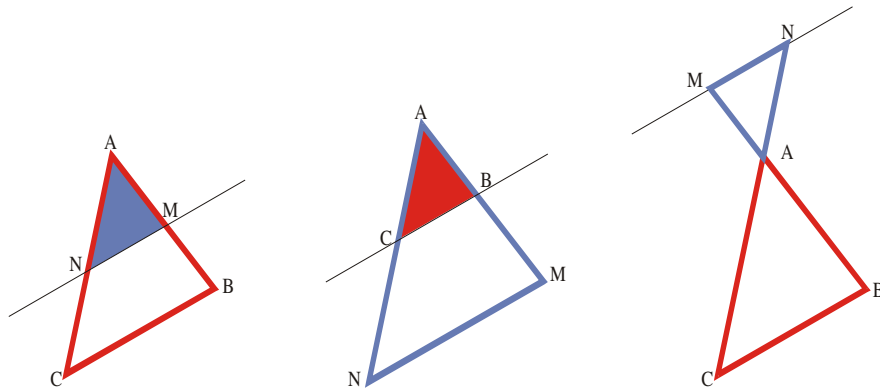
لدينا P منتصف [RI] و (NP) يوازي (TR)

اذن N منتصف [IT]

- -4

اذا كان AMN و ABC مثلثان حيث A, B, M و A, C, N نقط مستقيمة

$$\frac{AM}{AB} = \frac{AN}{AC} = \frac{MN}{BC} \text{ و } (MN) \text{ و } (BC) \text{ متوازيان فان}$$



EF

1

متوازيان (AB) و (EF) و يتقاطعان في O

لدينا
اذن

$$\therefore \frac{OE}{OA} = \frac{OF}{OB} = \frac{EF}{AB}$$

$$\frac{5}{6} = \frac{EF}{3}$$

$$EF \times 6 = 5 \times 3$$

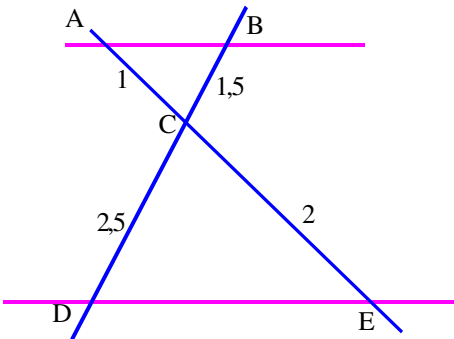
$$Ef = \frac{15}{6} = 2,5$$

$$\boxed{EF = 2,5 \text{ cm}}$$

2

OA = 2,5 cm ; OB = 3 cm ; OC = 2 cm et BD = 3,6 cm. (BD)//(AC) AC OD

: OD •



$$\frac{OA}{OB} = \frac{OC}{OD} = \frac{AC}{DB}$$

$$\frac{2,5}{3} = \frac{2}{OD} = \frac{AC}{3,6}$$

$$OD = \frac{2 \times 3}{2,5} = 2,4 \quad \frac{2,5}{3} = \frac{2}{OD}$$

$$\boxed{OD = 2,4 \text{ cm}}$$

AC

$$\frac{2,5}{3} = \frac{AC}{3,6}$$

$$AC = \frac{2,5 \times 3,6}{3} = 3.$$

$$\boxed{AC = 3 \text{ cm}}$$