



الجمهورية الجزائرية الديمقراطية الشعبية

وزارة التربية الوطنية



سلسلة **التفوق** والنجاح في الاجتماعيات

# أسئلة مواضيع شهادة التعليم المتوسط مع الإجابة النموذجية 1996م الى 2019م مادة التاريخ والجغرافيا

السنة رابعة متوسط

# 4

**جمع واعداد الأستاذ: لبصير عامر**  
**المصدر: شهادات التعليم المتوسط 1996م الى 2019م**

**الاهـداء:**

الى اساتذتي ... الى كل من علمني حرفا ...  
الى كل من اضاء بعلمه عقل غيره أو هدى بالجواب الصحيح حيرة ساتليه ...  
الى كل ابنائي التلاميذ عبر التراب الجزائري...

**" إن أحسنت فمن الله، وإن أسأت أو أخطأت فمن نفسي والشيطان "**

**السنة الدراسية: 2021/2020**

## مادة التاريخ

دورة جوان 1996

شهادة التعليم الأساسي (المتوسط).

سبق اندلاع الثورة التحريرية الجزائرية 1954 ضد الاستعمار الفرنسي ظهور مقاومة سياسية. أما هي أسباب (عوامل) ظهور المقاومة السياسية؟  
ب-اذكر اهم اتجاهاتها وأشهر زعمائها.  
ج-ما هي الإجراءات (الأساليب) التي اتبعتها الاستعمار ضدها؟  
د-ما هو الاتجاه الذي فرض نفسه. وكيف؟

### الإجابة النموذجية

ج1/ أسباب (عوامل) ظهور المقاومة السياسية:

- فشل المقاومات (الثورات) المسلحة.  
- استمرار الاحتلال العسكري وحرب الإبادة.  
- مشاركة الجزائريين في الحرب العالمية الأولى (1914-1918)  
- حركات الإصلاح الديني والجامعة الإسلامية -تأسيس النوادي والجمعيات العلمية والثقافية.  
- فرض القوانين الاستثنائية مثل قانون التجنيد الاجباري.

ج2/ اهم اتجاهاتها وأشهر زعمائها:

اتجاه المساواة	الاتجاه الاستقلالي	الاتجاه الإدماجي (الليبرالي)	الاتجاه الاصلاحى
الأمير خالد	مصالي الحاج	فرحات عباس	عبد الحميد بن باديس

ج3/ الإجراءات (الأساليب) التي اتبعتها الاستعمار ضدها:

- حل الأحزاب السياسية وممارسة سياسة النفي، الإبعاد، الإقامة الجبرية.  
- تجميد نشاط الحركة الوطنية ومصادرة صحفها وتوقيفها.  
- فرض غرامات مالية باهظة على قادة الأحزاب ومناضليهم.

ج4/ الاتجاه الذي فرض نفسه. وكيف:

هو دعاة الاستقلال الذي اقتنع بعض زعمائه بعدم جدوى المقاومة السياسية فشكوا اللجنة الثورية للوحدة والعمل والتي خططت لاندلاع الثورة التحريرية في اول نوفمبر 1954.

دورة جوان 1997

شهادة التعليم الأساسي (المتوسط).

س/ استعملت السلطات الفرنسية الاستعمارية لإفشال الثورة التحريرية الجزائرية عدة أساليب.  
**المطلوب:**

أ-وضح هذه الأساليب.  
ب-بين رد فعل الشعب الجزائري من ذلك.

### الإجابة النموذجية

ج1/ الأساليب هي:

\*الأساليب العسكرية: -تقوية جهازها العسكري عداد وعدة -إقامة المحتشدات -إقامة الاسلاك الشائكة -تأسيس الميليشيات -الحصول على الدعم  
\*الأساليب الاقتصادية والسياسية: -سياسة الاغراء -مشروع جاك سوستال -مشروع قسنطينة -تأليب الجزائريين ضد بعضهم البعض -وضع قوانين للإدماج -التلاعب بالمفاهيم السياسية مثل سلم الشجعان -الضغط على الدول الداعمة للثورة الجزائرية. الخ  
ج2/ رد فعل الشعب الجزائري: التفاف الشعب الجزائريين بجميع شرائحه حول الثورة ومساندتها ماديا وبشريا ومعنويا وذلك من خلال المظاهرات والاضرابات ورفض المشاريع مثل مشروع قسنطينة. الخ

لقد حققت الثورة الجزائرية النجاح والاستقلال بعد كفاح طويل وتضحيات جسام.

**المطلوب:**

أحدد مراحل المفاوضات الجزائرية الفرنسية.  
ببين العقبات التي واجهتها.  
جأبرز دور الشعب الجزائري في التمجيد بالاستقلال.

**الإجابة النموذجية**

ج1/ مراحل المفاوضات ال الجزائرية الفرنسية:

\***المرحلة السرية:** بدأت الاتصالات منذ 1956 بالقاهرة. أكدت فيها جبهة التحرير مبادئ الثورة وأهدافها أما فرنسا جعلتها مناورات لربح الوقت وتوقفت إثر القرصنة الجوية الفرنسية ضد قيادي جبهة ب.و.

\***المرحلة العلنية:** في 16 سبتمبر 1959 اعترف ديغول بحق الجزائريين في تقرير مصيرهم وأعلنت الحكومة المؤقتة في 28 سبتمبر قبولها لمبدأ تقرير المصير واستعدادها للتفاوض لكن اختلاف جهات النظر حال دون الوصول إلى نتائج. فجاءت لقاءات ثانية بعد تصريح ديغول 14 جوان 1960. تمثلت في: مفاوضات مولان 1960 ثم لوسارن 1961 ثم إيفيان الأولى 20 ماي 1961 ثم بال وأيروس 1962.

ج2/ **العقبات التي واجهتها:** اختلاف كل طرف مثل فصل الصحراء عن الجزائر -جزيرة الجزائر عرقيا -الهدنة. الخ

ج3/ **دور الشعب الجزائري في التمجيد بالاستقلال:**

-الاستجابة لتعليمات وأوامر جبهة التحرير الوطني -تنظيم إضرابات مثل إضراب فبراير 1957. -الخروج في المظاهرات داخل الوطن وفي المهجر مثل مظاهرات 11 ديسمبر 1960م ومظاهرات المهاجرين في 17 أكتوبر 1961. -التأكيد على هوية الشعب الجزائري واصالته.

خلال دراستك لبرنامج التاريخ في السنة التاسعة أساسي، أدركت ان الشعب الجزائري تصدى للاستعمار الفرنسي بمقاومة عنيفة في كل المناطق التي نزل فيها.

**المطلوب:**

أما هي الاحداث الهامة التي تذكرك بها التواريخ التالية: 1956- 1954- 1912- 1827.  
ب-اذكر (03) مقومات مسلحة ضد الاستعمار الفرنسي وحدد زمانها وقلائتها وفق الجدول الموالي.

الرقم	اسم المقاومة	تاريخها	مكانها	قائدها
1	.....	.....	.....	.....
2	.....	.....	.....	.....
3	.....	.....	.....	.....

ج-في سنة 1954 صممت جماعة من الوطنيين على تفجير الثورة من جديد ضد المستعمر الفرنسي.  
-اذكر الأسباب الداخلية والخارجية المساعدة على قيامها.

**الإجابة النموذجية**

ج1/ **الاحداث هي:** -1827: معركة نافرين -1912: التجنيد الاجباري -1954: اندلاع الثورة التحريرية -1956: مؤتمر الصومام.  
ج2/ ذكر ثلاث مقومات شعبية:

الرقم	اسم المقاومة	تاريخها	مكانها	قائدها
1	مقاومة الغرب الجزائري	1847-1832	الغرب والوسط	الأمير عبد القادر
2	مقاومة المقراني	1872-1871	الشرق والوسط	الشيخ المقراني
3	مقاومة بوعمامة	1906-1881	الغرب والجنوب الغربي	الشيخ بوعمامة

ج3/ **الأسباب الداخلية والخارجية المساعدة على قيام الثورة:**

\***الأسباب الداخلية:** -عدم جدوى الكفاح السياسي في تحقيق الاستقلال -نمو الوعي السياسي لدى الجزائريين -مجازر 08 ماي 1945.  
\***الأسباب الخارجية:** -اندلاع الثورة في كل من تونس والمغرب ونجاح الثورة المصرية. -نشاط المنظمات العالمية والإقليمية وتبنيها لقضايا التحرر. -انهزام فرنسا في معركة ديان بيان فو 1954 في الفيتنام.

**السؤال الأول:**

تعتبر الثورة التحريرية الكبرى 1954 في الجزائر تتويجا لكفاح طويل وشاق، مسلح وسياسي، ضد الاحتلال الفرنسي.

**المطلوب:**

- أ- حدد الإطارين الزماني والمكاني للمقاومة التي قادها كل من الأمير عبد القادر و احمد باي.  
ب- قارن بين هاتين المقاومتين السابقتين الذكر.  
ج- ماذا تعني عبارة المقاومة السياسية في الجزائر؟  
د- بين التضحيات التي قدمها الشعب الجزائري من اجل استرجاع سيادته وحرية.

**السؤال الثاني:****اجب عن جميع الأسئلة الآتية:**

- أ- اذكر أنواع المقاومات التي قام بها الشعب الجزائري ضد المستعمر الفرنسي من 1830 الى 1962.  
ب- بماذا تتميز الثورة التحريرية الكبرى لعام 1954 عن المقاومات السابقة لها؟  
ج- اهم مرحلة في رأيك مرت بها الثورة التحريرية الجزائرية. ولماذا؟

**الإجابة النموذجية****الجواب عن السؤال الأول:****ج1/ الإطار الزماني والمكاني:**

- \*مقاومة الأمير عبد القادر: الإطار الزماني 1832 الى 1847. الإطار المكاني بالغرب الجزائري والوسط معسكر، تلمسان، المدية حتى بسكرة  
\*مقاومة احمد باي: الإطار الزماني 1836 و 1837. الإطار المكاني إقليم قسنطينة.

**ج2/ المقارنة بين المقاومتين:**

مقاومة احمد باي	مقاومة الأمير عبد القادر
-اعتماده على سمعته كونه الوارث الشرعي لسلطة الدايات المنهارة -مقاومته اقل عتاد و عدة. -نطاقها الجغرافي محدود. -قصر مقاومته.	-اعتماده على الولاء الشعبي (البيعة) -مقاومة أكثر تنظيما إداريا، سياسيا، عسكريا. -نطاقها الجغرافي أكثر اتساعا -تأسيسه لأول دولة جزائرية حديثة. -الاعتراف الدبلوماسي بدولته (تبادل القناصل) -طول مدة مقاومته.

- ج3/ معنى عبارة المقاومة السياسية: يعني تحول الشعب الجزائري من المقاومة الشعبية المسلحة الى المقاومة السلمية أي استخدام جميع الوسائل الممكنة ما عدا السلاح مثل انشاء الأحزاب والجمعيات والنوادي والصحف والعرائض والمشاركة في الانتخابات. الخ  
ج4/ التضحيات هي: -مليون ونصف المليون من الشهداء -الاف اليتامى والارامل والمعطوبين -تدمير القرى والمداشر -تشريد الشعب الجزائري -الهجرة نحو الدول المجاورة -الامية الحرمان الفقر. الخ

**الجواب عن السؤال الثاني:****ج1/ أنواع المقومات:**

- المقاومة المنظمة 1832 الى 1847 -المقاومة الشعبية 1850 الى 1919 -المقاومة السياسية 1919 الى 1954.  
ج2/ مميزات الثورة التحريرية: -الشمولية للوطن -التنظيم المحكم لها -القيادة الموحدة والجماعية -وضوح مبادئها وأهدافها -التفاف الشعب حولها بكل شرائحه -اعتمادها على الكفاح المسلح وفي نفس الوقت العمل السياسي والدبلوماسي.

- ج3/ اهم مرحلة في رأي لان: المرحلة الأولى 1954 الى 1956 لأنها مرحلة شهدت فيها الحركة الوطنية ازمة سياسية كبيرة والحصار الفرنسي للوطن لعزله عن العالم الخارجي ضعف الاتصال الداخلي بين مناطق الثورة وانعدام العتاد والعدة والدعاية المغرضة ضد الثورة والثوار. الخ

**الموضوع الأول:**

كان حول الوجود العثماني في الجزائر واسطولها البحري وقد حذف هذا الدرس في المناهج اللاحقة

**ملاحظة: الموضوع الأول محذوف في المناهج الجديدة (الجيل الثاني)**

**الموضوع الثاني:**

انتهج الشعب الجزائري أساليب متنوعة في كفاحه ضد الاستعمار الفرنسي من مقاومة الأمير عبد القادر الى اندلاع الثورة التحريرية الكبرى سنة 1954

**المطلوب:**

أ-ما المقصود بالمقاومة؟ وما اساليبها؟

ب-سم ثلاث مقاومات شعبية مسلحة محددا مناطقها الجغرافية وتاريخ اندلاعها وفق النموذج التالي:

المقاومة	منطقتها الجغرافية	تاريخ اندلاعها
1-.....	.....	.....
2-.....	.....	.....
3-.....	.....	.....

ج-تحول أسلوب المقاومة من أسلوب مسلح الى أسلوب سياسي نتيجة لأحداث متعددة.

أ-اذكر ثلاثة أحداث بارزة.

ب-علل لجوء الشعب الجزائري الى الكفاح المسلح معتمدا على أحداث 08 ماي 1945 ودستور 1947.

**الإجابة النموذجية**

ج1/ **المقصود بالمقاومة:** ردود أفعال شعبية وطنية اتجاه الاستعمار والتصدي له بمختلف الأساليب

\***أساليب المقاومة:** أسلوب عسكري وأسلوب سياسي (الاتجاهات السياسية)

ج2/ **ثلاث مقاومات شعبية مسلحة:**

المقاومة	منطقتها الجغرافية	تاريخ اندلاعها
1-مقاومة الزعاطشة	-الجنوب (بسكرة)	1849
2-مقاومة المقراني	-برج بوعريريج والشرق	1871-1872
3-مقاومة بوعمامة	-الغرب	1882 الى 1906

ج3/

**أ-ثلاثة أحداث بارزة:** -عدم نجاعة المقاومة المسلحة -التجنيد الاجباري والحرب العالمية 1 -هجرة الجزائريين الى الخارج واثارها.

**ب-التعليل:** -مجازر 08 ماي 1945 أعطت درسا عمليا للجزائريين بان ما اخذ بالقوة يسترد بالقوة. -دستور 1947 رسخ فكرة الجزائر فرنسية وخبب امال الشعب الجزائري وطموحاته.

**الموضوع الأول:**

ورد في بيان اضراب الثمانية أيام 1957 ما يلي:  
«...أيها الشعب الجزائري:

ان القيادة العليا لجيش وجبهة التحرير التي هي مرشدك في النضال، والتي تعززها ثققتك المطلقة بها، ترسل اليك هذا النداء لتنفيذ اضراب شامل لمدة ثمانية أيام في كامل التراب الوطني... في اجماع كامل ووحدة لا انفصام لها... يا أبناء الامة الجزائرية بكل شرائحها انكم ستبعثونها صرخة مدوية في وجه الاستعمار وان القيادة العليا لجيش وجبهة التحرير الوطني توصيكم بجمع حاجياتكم لهذه المدة، اعينوا بعضكم بعضا... ان نجاح هذا الاضراب سيكون معناه امام العالم انكم تعتبرون وفد جيش وجبهة التحرير الوطني هو المتكلم الأوحد لشعب الجزائر المناضل.  
أيها الشعب الجزائري! لتقف صفا واحدا متراسا وراء جيشك الفتي وجبهتك العتيدة لينجح اضرابك العام، العزة للأبطال والمجد للشهداء! يحيا جيش وجبهة التحرير! تحيا الجزائر حرة مستقلة!

ثوار عظام - محمد عباس - يتصرف

**المطلوب:**

- 1- عرف ما يلي: جيش التحرير - الإضرابات.
- 2- حدد الفكرة العامة للنص.
- 3- استخرج من النص مطالب جيش وجبهة التحرير الوطني من الشعب الجزائري.
- 4- بين صدى الإضرابات محليا (وطنيا) وعالميا.

**الموضوع الثاني:**

كان حول النهضة الأوربية والثورة الصناعية وقد تم حذفهما في المناهج الجديدة.

ملاحظة: الموضوع الثاني محذوف في المناهج الجديدة (الجيل الثاني)

**الإجابة النموذجية****ج1/ التعريف:**

- جيش التحرير: هو الجناح العسكري للثورة التحريرية الكبرى.  
- الإضرابات: تعبير سلمي رافض للاستعمار بالامتناع عن ممارسة أي نشاط.

**ج2/ الفكرة العامة للنص:** الدعوة الى الاضراب.**ج3/ مطالب جيش وجبهة التحرير الوطني من الشعب الجزائري:**

- شن اضراب شامل لمدة 8 أيام في كامل التراب الوطني.
- وحدة موقف الشعب الجزائري.
- الاستعداد المسبق للإضراب بتوفير الحاجيات.
- التضامن بين افراد الشعب.
- نجاح الاضراب إقرار بتفويض جيش وجبهة التحرير الوطني كمثل شرعي للشعب الجزائري
- الوقوف صفا واحدا وراء جيش وجبهة التحرير الوطني.

**ج4/ صدى الاضراب:**

\*محليا ووطنيا: - استجابة الشعب الجزائري لنداء الاضراب. - التقاف الشعب حول الثورة - دحض مزاعم المشككين.  
\*دوليا: - دحض مزاعم فرنسا في المحافل الدولية - الاضراب رسالة واضحة بان الجزائر ليست فرنسية. - كسب التأييد الدولي للقضية الفرنسية.

ملاحظة: يمكن ان يطرح الموضوع الأول على شكل وثيقة تاريخية لتحليلها وفقا للمنهجية التي درسناها.

**الموضوع الأول:**

«...في يوم 10 ديسمبر 1960 انطلقت المظاهرات الوطنية في حي بلكور في الجزائر العاصمة، وكان المتظاهرون يحملون الاعلام الوطنية ويهتفون باستقلال الجزائر وشعارات مؤيدة لجبهة التحرير الوطني والحكومة المؤقتة ومدددة بالاستعمار...حاصرت القوات الاستعمارية حي بلكور واخذ الاوربيون المدنيون يطلقون النار على المتظاهرين. وفي اليوم الموالي تدخلت قوات المظليين فطلقت النار على الجماهير بوحشية وجنون في الساعة الخامسة مساء الى الرابعة صباحا، واستمرت الجماهير في التظاهر، حيث انتشرت المظاهرات الى بقية احياء العاصمة ثم تابعتها معظم المدن الجزائرية...»  
ثورات الجزائر يحيى بوعزيز يتصرف

**المطلوب:**

أعرف ما يلي: الحكومة المؤقتة -قوات المظليين -المظاهرات.  
بحدد الفكرة العامة للنص.  
جتتبع سير المظاهرات مستعينا بالنص.  
دوضح أسباب ونتائج هذه المظاهرات. (الاكتفاء بثلاثة أسباب وثلاثة نتائج)

**الموضوع الثاني:**

كان حول العالم الإسلامي والحركة الإصلاحية وقد تم حذفها في المناهج الجديدة.

ملاحظة: الموضوع الثاني محذوف في المناهج الجديدة (الجيل الثاني)

**الإجابة النموذجية****ج1/ التعريف:**

-الحكومة المؤقتة: هو الجهاز التنفيذي للثورة الجزائرية تأسست في 19 سبتمبر 1958م  
-المظليون: هي الفرق الخاصة من القوات الفرنسية المحمولة جوا.  
-المظاهرات: هي مسيرات احتجاجية معبرة عن رفض الشعب الجزائري للاستعمار الفرنسي ومساندة لجبهة التحرير الوطني.

**ج2/ الفكرة العامة للنص:** سير مظاهرات ديسمبر 1960**ج3/ تتبع سير المظاهرات مستعينا بالنص:**

انطلقت من حي بلكور بالعاصمة وقد حمل المتظاهرون الاعلام الوطنية هاتفين بالاستقلال ثم انتقلت الى احياء العاصمة ثم تبعها معظم المدن الجزائرية

**ج4/ أسباب ونتائج هذه المظاهرات:****\*الأسباب:**

-رفض الشعب الجزائري الوجود الاستعماري  
-تأييد ودعم جبهة التحرير الوطني والحكومة المؤقتة  
-المطالبة بالاستقلال.

**\*النتائج:**

-افشال مخططات الاستعمار الفرنسي  
-تقوية روح المقاومة لدى الشعب الجزائري  
-استشهاد عدد كبير من الجزائريين.

**ملاحظة:** يمكن الموضوع الأول ان يطرح على شكل وثيقة تاريخية لتحليلها وفق المنهجية التي درسناها.

**الموضوع الأول:**

خاض الشعب الجزائري العديد من الثورات ضد الاستعمار الفرنسي، منها ثورة أولاد سيدي الشيخ -الأمير عبد القادر -الزعاطشة -لالة فاطمة نسومر

**المطلوب:**

1- حدد الإطار الزمني والمكاني لكل ثورة حسب الجدول الموالي.

الثورة (المقاومة)	مكانها	زمانها
أولاد سيدي الشيخ	.....	.....
الأمير عبد القادر	.....	.....
الزعاطشة	.....	.....
لالة فاطمة نسومر	.....	.....

2- لماذا لم تحقق هذه الثورات اهدافها

3- ترتيب عن فشل هذه الثورات عدة نتائج. اذكر أربعاً منها.

**الموضوع الثاني:**

بعد سنوات من الكفاح المسلح، أجبرت فرنسا على التفاوض مع ممثلي جبهة التحرير الوطني.

**المطلوب:**

أ- لماذا لجأ الشعب الجزائري الى الكفاح المسلح سنة 1954؟

ب- لماذا أجبرت فرنسا على التفاوض مع جبهة التحرير الوطني؟

ج- هناك عدة صعوبات واجهت المفاوضات. اذكر خمساً منها.

**الإجابة النموذجية****الجواب عن السؤال الأول:**

ج1/ الإطار الزمني والمكاني لكل ثورة:

الثورة (المقاومة)	مكانها	زمانها
أولاد سيدي الشيخ	الجنوب والجنوب الغربي	1864- 1880
الأمير عبد القادر	الوسط والغرب الجزائري	1832-1847
الزعاطشة	بسكرة الأوراس	1849
لالة فاطمة نسومر	منطقة القبائل	1851-1857

ج2/ لم تحقق أهدافها لان: -لم تشمل كامل التراب الوطني -غياب القيادة الجماعية -غياب التنسيق والتعاون بين قادة هذه الثورات -عدم التكافؤ بين الجيش الفرنسي والثورات الشعبية -الاعتماد على المتطوعين -اعتماد فرنسا على سياسة فرق تسد.

ج3/ أربع نتائج ترتبت عن فشل المقاومات: -قيام فرنسا بالانتقام الجماعي -مصادرة ممتلكات الجزائريين -نفي الجزائريين الى الخارج -صدور قوانين استثنائية ضد الجزائريين -توسيع الاستيطان.

**الجواب عن السؤال الثاني:**

ج1/ لجأ للكفاح المسلح: بسبب

-فشل النضال السياسي -عدم جدوى الإصلاحات الفرنسية -نمو الوعي القومي والثورة خاصة بعد مجازر 8ماي1945 -انتشار حركات التحرر في العالم -ازمة حركة انتصار الحريات الديمقراطية -اندلاع الثورة في كل من تونس والمغرب.

ج2/ أجبرت فرنسا على التفاوض:

- انتصارات الثورة العسكرية والسياسية داخليا وخارجيا.

- الخسائر الفرنسية الكبيرة وانهيار الاقتصاد الفرنسي.

- فشل المخططات الاستعمارية في القضاء على الثورة.

- المظاهرات والإضرابات مثل مظاهرات 11ديسمبر1960م وإضراب فبراير 1957. مظاهرات المهاجرين في 17أكتوبر 1961.

ج3/ خمس صعوبات واجهت المفاوضات: -الاعتراف ج.ت.و هي الممثل الشرعي في التفاوض. - فصل الصحراء عن الجزائر. -الهدنة قبل التفاوض - تجزئة الجزائر عرقيا. -الوحدة الترابية والشعبية.



**الموضوع الأول:**

حول الثورة الصناعية والحركة الاستعمارية الأوروبية وقد تم حذفها من المناهج الجديدة.

ملاحظة: الموضوع الأول محذوف في المناهج الجديدة (الجيل الثاني)

**الموضوع الثاني:**

«...ليس بالجديد أننا نحتفل في كل عام بـ 08 ماي 1945م لكن الجديد الذي يجب ان نؤكد عليه هو ان نقول اليوم، كيف كان 08 ماي في الداخل والخارج... في الخارج يحتفل به كيوم لانتصار الحلفاء على النازية ونحن في الجزائر كنا نلم أشلاء موتانا...نحن نريد ان نجعل التاريخ سلاحا في يد الجماهير لأنه ضروري في خلق المحافظة على الوحدة الوطنية، لان شعبا بدون ذاكرة هو شعب بدون مستقبل.»  
حديث السيد بشير بومعزة مجلة الوحدة.

**المطلوب:**

- 1- بماذا يذكرك تاريخ 08 ماي 1945
- 2- اذكر ثلاث مناطق شاهدة على ذلك.
- 3- استخرج من النص ما حدث في هذا التاريخ داخل الوطن وخارجه. مع التعليل.
- 4- جاء في النص "... لان شعبا بدون ذاكرة هو شعب بدون مستقبل." اشرح هذه الفكرة.

**الإجابة النموذجية**

ج1/ **يذكرنا هذا التاريخ:** 08 ماي 1945 بالمجازر التي اقترفتها فرنسا في حق الشعب الجزائري.

ج2/ **ثلاثة مناطق:** قالمة، سطيف، خراطة. الخ

ج3/ **ما حدث في هذا اليوم من النص:**

**\*داخل الوطن:** ((...كنا نلم أشلاء موتانا...))

**\*التعليل:** خرج الشعب في هذا اليوم لعبر عن فرحته ويطالب فرنسا بالوفاء بوعودها في الاستقلال وكان الرد مييئا وعنيفا تسبب في سقوط 45 ألف شهيد.

**\*خارج الوطن:** ((...الاحتفال بهذا اليوم نتيجة انتصار الحلفاء على النازية...))

**\*التعليل:** عمت الافراح اغلب بلدان العالم المنتصرة على النازية بانتها الحرب العالمية الثانية.

ج4/ **شرح الفكرة:** ((...لان شعبا بدون ذاكرة هو شعب بدون مستقبل.)) يعني ان التاريخ ذاكرة الشعوب يطلمها على ماضيها لبناء مستقبلها والأمة التي تهمل رصيدها الحضاري مآلها الاضمحلال والذوال.

**الموضوع الأول:**

كان حول العصور الوسطى والنهضة الأوروبية وقد تم حذفها في المناهج الجديدة.

ملاحظة: الموضوع الأول محذوف في المناهج الجديدة الجيل الثاني

**الموضوع الثاني:**

تعتبر حركة انتصار الحريات الديمقراطية وريثة حزب الشعب أبرز ممثل للملح الثوري الوطني الذي هيا للثورة التحريرية.

**المطلوب:**

- 1- أعط تعريفا ل: حزب الشعب - حركة انتصار الحريات الديمقراطية.
- 2- عانت حركة الانتصار أزمة، متى كان ذلك؟ وما هو أثرها على وحدة الحركة؟
- 3- ما هو أثر الأزمة على اندلاع الثورة التحريرية؟

**الإجابة النموذجية****ج1/ التعريف:**

**حزب الشعب:** هو تنظيم سياسي نو اتجاه استقلالي تأسس سنة 1937 بزعامة مصالي الحاج.

**حركة انتصار الحريات الديمقراطية:** هو حزب سياسي وليد حزب الشعب.

**ج2/ أزمة حركة انتصار الحريات الديمقراطية:** سنة 1953م وأثرها على الوحدة الحركة انقسامها الى تيارين:

\*تيار ينادي بتأجيل الثورة.

\*تيار ينادي بتعجيل الثورة.

**ج3/ أثر الأزمة على اندلاع الثورة التحريرية:** في خضم هذا الصراع ظهرت فئة الشباب المتحمس للكفاح المسلح والذي يراه السبيل الوحيد لتحقيق الاستقلال فانفقوا على تشكيل اللجنة الثورية للوحدة والعمل 1954م والانتقال من العمل السياسي الى العمل المسلح.

**الجزء الأول:**

بعد فشل المقاومة المسلحة في القرن 19م في تحرير الجزائر، لجأ الشعب الجزائري الى تبني المقاومة السياسية.

**المطلوب:**

1- حدد الإطار الزمني للمقاومة السياسية.

2- اذكر الوسائل التي اعتمدتها هذه المقاومة.

3- اكمل الجدول التالي بما يناسبه:

الاتجاه	الزعيم	المطلب الاساسي
.....	فرحات عباس	.....
.....	عبد الحميد بن باديس	.....
.....	مصالي الحاج	.....

**الإجابة النموذجية**

**ج1/ الإطار الزمني للمقاومة السياسية:** 1919 الى 1954.

**ج2/ الوسائل التي اعتمدتها:** النوادي الثقافية، الصحافة الوطنية المناضلة، الأحزاب السياسية، الجمعيات. الخ

**ج3/ اكمل الجدول:**

الاتجاه	الزعيم	المطلب الاساسي
الإدماجي	فرحات عباس	المساواة والادماج
الأصلاحي	عبد الحميد بن باديس	محرابة التجنس، رفض الادماج، الدفاع عن مقومات المجتمع الجزائري.
الاستقلالي	مصالي الحاج	الاستقلال التام.

## الجزء الأول:

عرفت الحركة الوطنية والثورة التحريرية في مسيرتها النضالية الطويلة أحداثا ذات دلالات.

## المطلوب:

- 1- اذكر أحداث التواريخ المعلمية التالية: 05 ماي 1931- 1937- 1947- 20 اوت 1955- 20 اوت 1956- 19 مارس 1962.
- 2- ما هي نتائج مجازر 08 ماي 1945 على مسيرة الحركة الوطنية؟
- 3- حدد رد فعل جبهة التحرير الوطني من مشروع قسنطينة 1958.

## الإجابة النموذجية

## ج1/ أحداث التواريخ:

- 05 ماي 1931: تأسيس جمعية العلماء المسلمين.
- 1937: تأسيس حزب الشعب الجزائري.
- 1947: انشاء المنظمة السرية (الخاصة)
- 20 اوت 1955: هجومات الشمال القسنطيني.
- 20 اوت 1956: انعقاد مؤتمر الصومام.
- 19 مارس 1962: تاريخ وقف إطلاق النار.

## ج2/ نتائج مجازر 08 ماي 1945م على مسيرة الحركة الوطنية:

-سقوط 45 ألف شهيد.

-حل الأحزاب السياسية والحركات.

-نمو الكراهية والحقد اتجاه المستعمر الفرنسي.

-القناعة بعدم جدوى الكفاح السياسي والانتقال الى الكفاح المسلح.

## ج3/ رد جبهة التحرير الوطني من مشروع قسنطينة 1958: توعية وتحذير الشعب من الانسياق وراء هذا المشروع الاستعماري وكشف أهدافه الحقيقية

## الجزء الأول:

مرت الجزائر بمراحل تاريخية حاسمة خلال كفاحها ضد الاستعمار الفرنسي ميزتها أحداث ذات دلالات.

## المطلوب:

- 1- حدد تواريخ الأحداث التالية: قانون التجنيد الاجباري -البيان الجزائري -مشروع قسنطينة -وقف إطلاق النار.
- 2- استأنفت الحركة الوطنية نشاطها بعد الحرب العالمية الثانية في قالب جديد. وضح ذلك.
- 3- تعثرت المفاوضات الجزائرية الفرنسية عدة مرات بسبب تمسك كل طرف بمواقفه. أبرز نقاط الخلاف بين الطرفين.

## الإجابة النموذجية

## ج1/ تحديد تواريخ الأحداث:

-قانون التجنيد الاجباري: 1912م

-البيان الجزائري: 10 فيفري 1943م

-مشروع قسنطينة: 03-10-1958م

-وقف إطلاق النار: 19 مارس 1962م.

## ج2/ التوضيح: عودة الأحزاب السياسية الى النشاط السياسي بتسميات جديدة.

-حزب الشعب الجزائري أصبح يسمى حركة انتصار الحريات الديمقراطية

-احباب البيان الجزائري أصبح يسمى الاتحاد الديمقراطي للبيان الجزائري.

-الحزب الشيوعي الجزائري أصبح أصحاب الحرية والديمقراطية

-جمعية العلماء المسلمين لم يتغير اسمها.

## ج3/ نقاط الخلاف بين الطرف الفرنسي والجزائري في المفاوضات:

الوفد الجزائري	الوفد الفرنسي
- السيادة الوطنية. - الوحدة الترابية.	- الهدنة. - الحكم الذاتي.
- الوحدة الشعبية.	- فصل الصحراء عن الجزائر.
- ج.ت.و هي الممثل الشرعي في التفاوض.	- تجزئة الجزائر عرقيا.
- وقف إطلاق النار ثم التفاوض.	- طاولة مستديرة.

**الجزء الأول:**

عرفت الحركة الوطنية والثورة التحريرية في مسيرتها النضالية الطويلة أحداثا ذات دلالات.

**المطلوب:**

- 1- اذكر أحداث التواريخ المعلمية التالية: 1912 -سبتمبر 1947 -20 اوت 1956 -19 سبتمبر 1958.
- 2- بين ثلاثة (03) مظاهر للسياسة الاستعمارية في الجزائر (اذكر مثلا لكل مظهر)
- 3- حدد اهداف اتحاد دول المغرب العربي.

**الإجابة النموذجية****ج1/ أحداث التواريخ:**

-1912: قانون التجنيد الاجباري.

-سبتمبر 1947: دستور الجزائر (القانون الخاص)

-20 اوت 1956: انعقاد مؤتمر الصومام.

-19 سبتمبر 1958: تأسيس الحكومة المؤقتة للجمهورية الجزائرية.

**ج2/ ثلاث مظاهر للسياسة الاستعمارية مع ذكر مثال لكل مظهر:**

-سياسة الادمج مثل دمج الجزائر في فرنسا وجعلها جزءا لا يتجزأ (04 مارس 1848)

-سياسة الاستيطان مثل مصادرة الأراضي لتسهيل إقامة المستوطنات عليها (مستوطنة بوفاريك)

-سياسة التنصير والفرنسة مثل تحويل المؤسسات الدينية الى كنائس / إحلال اللغة العربية محل اللغة الفرنسية.

**ج3/ اهداف اتحاد دول المغرب العربي:** -تحقيق التنمية والتكامل السياسي والإق والإج والثق. - تمتين أواصر الأخوة بين دوله وشعبه. - صيانة استقلال كل دولة عضو. الخ (ملاحظة: تم حذف هذا الدرس)

**الجزء الأول:**

اجب على ما يلي:

- 1- حدد تواريخ الأحداث التالية: قانون التجنيد الاجباري -دستور الجزائر -تأسيس الحكومة الجزائرية المؤقتة -استرجاع الجزائر لسيادتها (استقلالها)
- 2- اذكر الوسائل التي اعتمدها المقاومة السياسية في الجزائر.
- 3- ما هي الاتجاهات السياسية التي عرفت الجزائر بداية من القرن 20؟ مع ذكر اهم زعمائها.

**الإجابة النموذجية****ج1/ تحديد تواريخ الأحداث:**

-قانون التجنيد الاجباري: 1912م

-دستور الجزائر: 20 سبتمبر 1947م

-تأسيس الحكومة الجزائرية المؤقتة: 19 سبتمبر 1958م

-استرجاع الجزائر لسيادتها (استقلالها): 05 جويلية 1962م.

**ج2/ الوسائل التي اعتمدها المقاومة السياسية في الجزائر:** الأحزاب السياسية - النوادي الثقافية - الجمعيات - الصحافة - المظاهرات السلمية.

**ج3/ الاتجاهات السياسية التي عرفت الجزائر وذكر اهم زعمائها:**

الاتجاه	زعيمه
الاتجاه الثوري الاستقلالي	مصالي الحاج
الاتجاه الليبرالي (الإدماجي)	فرحات عباس
الاتجاه الشيوعي (العالمي)	عمار اوزقان
الاتجاه الاصلاحى	عبد الحميد بن باديس

**الجزء الأول:**

اعتمدت جمعية العلماء المسلمين الجزائريين على عدة وسائل في مقاومتها السياسية

**المطلوب:**

- 1- ما الفرق بين المقاومة السياسية والمقاومة المسلحة؟
- 2- ما هي الوسائل التي اعتمدها الجمعية لأداء دورها؟ (اذكر ثلاثا منها فقط)
- 3- رتب هذه الاحداث حسب تسلسلها التاريخي: المؤتمر الإسلامي الجزائري - اندلاع ثورة التحرير الجزائرية - مقاومة الشيخ المقراني - الحرب ع 2.

**الإجابة النموذجية****ج 1/ الفرق:**

\*المقاومة السياسية: هي الكفاح السياسي بالوسائل السلمية.

\*المقاومة المسلحة: هي الكفاح بواسطة مختلف وسائل الأسلحة.

**ج 2/ الوسائل التي اعتمدها الجمعية لأداء دورها (ذكر ثلاثة فقط):**

- إنشاء مدارس لتعليم اللغة العربية عبر التراب الوطني.
- إقامة الجمعيات والنوادي القافية لإعداد النشء اعدادا عربيا إسلاميا.
- ارسال البعثات التعليمية الى الخارج الازهر والزيتونة.
- اصدار المجلات والجرائد.

**ج 3/ ترتيب الاحداث:**

- مقاومة الشيخ المقراني (1871/1872)
- المؤتمر الإسلامي الجزائري (07 جوان 1936)
- الحرب ع 2 (1939/1945)
- اندلاع ثورة التحرير الجزائرية (01 نوفمبر 1954)

**الجزء الأول:****اجب عما يلي:**

- 1- اليك احداثا معلمية في التاريخ الوطني، حدد تواريخها. تأسيس جمعية العلماء المسلمين - تأسيس حزب الشعب الجزائري - تأسيس اللجنة الثورية للوحدة والعمل - اندلاع الثورة التحريرية.
- 2- مجازر 08 ماي 1945 ساهمت في تعميق التوجه نحو ضرورة الكفاح المسلح. وضح ذلك. مع التمثيل؟

**الإجابة النموذجية****ج 1/ تحديد تواريخ الاحداث:**

- تأسيس جمعية العلماء المسلمين: 05 ماي 1931م
- تأسيس حزب الشعب الجزائري: 11 مارس 1937م
- تأسيس اللجنة الثورية للوحدة والعمل: 23 مارس 1954م
- اندلاع الثورة التحريرية: 01 نوفمبر 1954م

**ج 2/**

- \***التوضيح:** كرسست مجازر 08 ماي 1945 قناعة العمل العسكري أسلوبا كفيلا باسترجاع السيادة الوطنية (ما اخذ بالقوة يسترد بالقوة)
- \***التمثيل:** تشكيل المنظمة الخاصة والتحصير للثورة.

**الجزء الأول:**

اجب عما يلي:

- 1-رتب الاحداث التاريخية حسب تسلسلها الزمني مع شرحها.  
الحكومة الجزائرية المؤقتة - ازمة حزب الشعب (حركة انتصار الحريات الديمقراطية) - مؤتمر الصومام.  
2-ظهرت الحركة الوطنية الجزائرية بعد الحرب العالمية الأولى نتيجة عدة عوامل.  
**المطلوب:** اذكر الاسباب التي ساهمت في ظهورها.

أ-الداخلية (ثلاثة أسباب)

ب-الخارجية (ثلاثة أسباب)

3-صنف مطالب الاتجاهات السياسية الالته في الخانة المناسبة لها من الجدول:

محاربة سياسة التنصير -تجنيس الجزائريين بالجنسية الفرنسية -تشكيل برلمان وجيش جزائري -المساواة بين المستوطنين والجزائريين في الحقوق السياسية والاجتماعية -الدفاع عن اللغة والدين والتاريخ -جلاء القوات الفرنسية من الجزائر.

الاتجاه الاستقلالي (الثوري)	الاتجاه الإدماجي (الليبرالي)	الاتجاه الإصلاحية (الإسلامي)
.....	.....	.....

**الإجابة النموذجية**

ج1/ ترتيب الاحداث التاريخية مع شرحها:

ازمة حزب الشعب (حركة انتصار الحريات الديمقراطية): سنة 1953 هي ازمة سياسية وقعت داخل حزب حركة انتصار الحريات الديمقراطية حول زعامة الحزب نتج عنها انقسام الحزب الى مصاليين ومركزيين.

-مؤتمر الصومام: 20 اوت 1956م هو اجتماع حضرته قيادة الثورة في الولاية التاريخية الثالثة (منطقة القبائل) الهدف منه تنظيم الثورة سياسيا وعسكريا.

-الحكومة الجزائرية المؤقتة: 19 سبتمبر 1958م هي تحول اجنة التنسيق والتنفيذ الى حكومة الجمهورية الجزائرية المؤقتة التي تشكلت في طنجة واتخذت القاهرة مقرا لها تحت قيادة فرحات عباس.

ج2/ عوامل ظهور الحركة الوطنية (ثلاث عوامل داخلية وثلاث عوامل خارجية):

عوامل داخلية	عوامل خارجية
-فشل المقاومة الشعبية المسلحة -حرب الإبادة التي شنتها فرنسا على الجزائريين -قانون التجنيد الاجباري 1912 -استلاء المستوطنين على الثروات والخيرات -الدفاع عن مقومات الامة (الدين واللغة والتاريخ)	-حركة الإصلاح الديني والجامعة الإسلامية بالمشرق -عودة المهاجرين الجزائريين من المشرق -عودة المجندين الجزائريين من الحرب العالمية 1 -ظهور مبادئ ولسون التي تدعو الى حق الشعوب تقرير مصيرها.

ج3/ التصنيف في الجدول:

الاتجاه الاستقلالي (الثوري)	الاتجاه الإدماجي (الليبرالي)	الاتجاه الإصلاحية (الإسلامي)
-تشكيل برلمان وجيش جزائري. -جلاء القوات الفرنسية من الجزائر.	-تجنيس الجزائريين بالجنسية الفرنسية -المساواة بين المستوطنين والجزائريين في الحقوق السياسية والاجتماعية.	-محاربة سياسة التنصير. -الدفاع عن اللغة والدين والتاريخ.

## الجزء الأول:

## السؤال الأول:

أ-انقل الشكل كما هو، ثم اربط بين التواريخ والاحداث المعلمية الاتية بالأرقام.		
وقف إطلاق النار	....	11 مارس 1937 <input type="text"/>
تأسيس الحكومة الجزائرية المؤقتة	....	20 اوت 1956 <input type="text"/>
تأسيس حزب الشعب الجزائري	....	19 مارس 1962 <input type="text"/>
عقد مؤتمر الصومام	....	19 سبتمبر 1958 <input type="text"/>

ب-البيك مجموعة من الاحداث التاريخية التي عرفتها الحركة الوطنية في الجزائر ما بين 1919-1954. رتبها حسب وقوعها: -مجازر 8 ماي -تأسيس جمعية العلماء المسلمين الجزائريين -اندلاع الثورة التحريرية الجزائرية -تأسيس المنظمة الخاصة.

## السؤال الثاني:

اندلعت الثورة التحريرية بإمكانيات محدودة وفي ظروف صعبة حققت خلال مرحلتها الأولى عدة انتصارات غير ان الاحتلال الفرنسي كانت له ردود أفعال.

- 1-اذكر أربع صعوبات واجهت الثورة في عامها الأول.
- 2-حدد انتصارين (02) حققتهما الثورة في مرحلتها الأولى (1954-1956).
- 3-بين أربع ردود أفعال للاحتلال الفرنسي من اندلاع الثورة.

## الإجابة النموذجية

## الجواب على السؤال الأول:

أ/ الربط بين التواريخ والاحداث المعلمية الاتية بالأرقام.		
وقف إطلاق النار	<input type="text" value="3"/>	11 مارس 1937 <input type="text" value="1"/>
تأسيس الحكومة الجزائرية المؤقتة	<input type="text" value="1"/>	20 اوت 1956 <input type="text" value="2"/>
تأسيس حزب الشعب الجزائري	<input type="text" value="4"/>	19 مارس 1962 <input type="text" value="3"/>
عقد مؤتمر الصومام	<input type="text" value="2"/>	19 سبتمبر 1958 <input type="text" value="4"/>

## ب/ ترتيب الاحداث:

- تأسيس جمعية العلماء المسلمين الجزائريين 05 ماي 1931م
- مجازر 8 ماي 1945.
- تأسيس المنظمة الخاصة 15/02/1947م
- اندلاع الثورة التحريرية الجزائرية 01 نوفمبر 1954م

## الجواب على السؤال الثاني:

## ج1/ أربع صعوبات واجهت الثورة في عامها الاول:

- اقتناع الشعب الجزائري والراي العام بشرعية الثورة.
- تأمين المال والسلاح.
- وضع التنظيمات والمؤسسات الضرورية لتسيير الثورة.
- القضاء على الاستعمار وحلفائه.

## ج2/ انتصارين حققتهما الثورة في مرحلتها الاولى:

- مشاركة الوفد الجزائري في مؤتمر باندونغ كملاحظ 1955م.
- هجومات الشمال القسنطيني 20 اوت 1955م.
- مطالبة مجموعة الدول الافرواسيوية بتسجيل القضية الجزائرية في جدول اعمالها أكتوبر 1955م
- توسيع نطاق الثورة -فشل إصلاحات جاك سوستيل 1955م.

## ج3/ أربع ردود أفعال للاحتلال الفرنسي من اندلاع الثورة:

- التقليل من شأن الثورة واعتبارها من أفعال الخارجين عن القانون وايادي اجنبية.
- تشويه صورة المجاهدين إعلاميا.
- رفع الامدادات العسكرية في الجزائرية.
- اعلان حالة الطوارئ 1955م وتنفيذ عمليات عسكرية لمحاصرة الثورة.

**الجزء الأول:**

اجب عما يلي:

(س1) \* اشرح: التجنيد الاجباري -التنصير -المنظمة الخاصة  
\* عرف: احمد مصالي الحاج -حسين ايت احمد

(س2) تعتبر اتفاقيات ايفيان ثمرة جهود الثورة الجزائرية.  
**المطلوب:** حدد الإطار الزمني لهذه الاتفاقية.  
-اذكر أربع من نتائجها.

(س3) انقل الجدول واملأ الفراغات بما يناسبها.

المنطقة	رقم المنطقة	قائد المنطقة
الجزائر	4	مصطفى بن بولعيد
القبائل	3	محمد العربي بن مهيدي
.....	2	.....
.....	.....	.....

**الإجابة النموذجية**

ج1/

**\*الشرح:**

-التجنيد الاجباري: قانون لإجبار الشباب الجزائري على أداء الخدمة العسكرية في صفوف الجيش الفرنسي 1912.  
-التنصير: نشر المسيحية.

-المنظمة الخاصة: جناح عسكري سري تابع لحركة انتصار الحريات الديمقراطية تأسس في 1947م

**\*التعريف:**

-احمد مصالي الحاج: زعيم الحركة الوطنية والاتجاه الاستقلالي (1926 الى 1954)  
-حسين ايت احمد: أحد قادة الثورة ومن مؤسسي المنظمة الخاصة وعضو الوفد الخارجي لجهة التحرير الوطني وعضو الحكومة المؤقتة.

ج2/

**\*الإطار الزمني لاتفاقية ايفيان: من 07 الى 18 مارس 1962م****\*أربع نتائجها:**

-وقف إطلاق النار

-اجراء استفتاء حول تقرير المصير

-استقلال الجزائر ضمن وحدتها الترابية.

-احتفاظ فرنسا بامتيازات عسكرية واقتصادية وثقافية.

**ج3/ اكمال الجدول:**

المنطقة	رقم المنطقة	قائد المنطقة
الاوراس (النمامشة)	1	مصطفى بن بولعيد
الجزائر	4	رابح بيطاط
الشمال القسنطيني	2	ديدوش مراد -زيغود يوسف
القبائل	3	كريم بلقاسم
وهران	5	محمد العربي بن مهيدي



**الجزء الأول:**

**الوضعية الأولى:** اليك احداثا معلمية في التاريخ الوطني، حدد تواريخها.  
-حزب الشعب الجزائري -جمعية العلماء المسلمين -المنظمة الخاصة -تأسيس الحكومة المؤقتة.

**الوضعية الثانية:** اثناء الحرب العالمية الثانية قامت الحركة الوطنية بتحرير وثيقة سياسية تم تسليم نسخ منها للحلفاء وللحكومة الفرنسية الحرة.  
**المطلوب:** أ-ما هي الوثيقة التي أصدرتها الحركة الوطنية؟ ومتى كان ذلك؟  
ب-ما هو موقف الحلفاء من الوثيقة؟  
ج-ما رد الفعل الجزائري من موقف الحلفاء؟

**الوضعية الثالثة:** ان يوم 20 اوت 1955 كان بمثابة اول نوفمبر ثان.  
أ-ماذا يذكر تاريخ 20 اوت 1955 (مع ذكر القائد والمنطقة)؟  
ب-لماذا اعتبر بمثابة اول نوفمبر ثان؟

**الإجابة النموذجية****الجواب عن الوضعية الأولى:**

\*تحديد تواريخ الاحداث:

- حزب الشعب الجزائري: 11 مارس 1937.
- جمعية العلماء المسلمين: 05 ماي 1931.
- المنظمة الخاصة: 15 فيفري 1947.
- تأسيس الحكومة المؤقتة: 19 سبتمبر 1958.

**الجواب عن الوضعية الثانية:**

أ-الوثيقة التي أصدرتها هي: البيان الجزائري في 10 فيفري 1943م  
ب-موقف الحلفاء: كان موقفا سلبيا واعتبروا القضية الجزائرية قضية فرنسية تخص فرنسا.  
ج-رد الفعل الجزائري: أعلنت تأسيس تجمع أحباب البيان والحرية في 14/03/1944 لنشر الأفكار الجديدة للبيان والتناديد بعنصرية الاستعمار.

**الجواب عن الوضعية الثالثة:**

أ-يذكرني التاريخ بهجمات الشمال القسنطيني بقيادة الشهيد زيغود يوسف في المنطقة التاريخية الثانية.  
ب-اعتبرت بمثابة اول نوفمبر ثان لأنها جاءت تؤكد تلاحم الشعب وشعبية الثورة وشموليتها وتوسعها وتكذيب ادعاءات المحتل الفرنسي انه قضى على الثورة وان الثوار ثلة خارجة عن القانون وقطاع الطرق وأيضا هي بمثابة التحدي للمحتل الفرنسي في وضح النهار بقيادة الشهيد زيغود يوسف.

**الجزء الأول:****السؤال الأول:** وضح ما يلي في إتمام الجدول اسفله.

-الشيخ امود بن المختار / 1871 / محمد امزيان بن عبد الرحمان / 1881.

المقاومة الشعبية	تاريخ اندلاعها	قائدها (زعيمها)
مقاومة المقراني	.....	محمد المقراني
مقاومة الأوراس	1879	.....
مقاومة التوارق (الهقار)	.....	.....

**السؤال الثاني:** يعتبر الاتجاه الاستقلالي (الثوري) من أبرز الاتجاهات السياسية للحركة الوطنية في الجزائر. سم الأحزاب التي مثلت هذا الاتجاه مع تحديد تواريخ تأسيسها.

**السؤال الثالث:** أواجهت الثورة التحريرية الكبرى في بدايتها مشكلة التسليح. كيف تجاوزتها؟  
ب- لعب الشعب الجزائري دورا بارزا في الضغط على الطرف الفرنسي للرضوخ لمطالب الثورة في المفاوضات. وضح ذلك.

**الإجابة النموذجية**

ج1/ إتمام الجدول:

المقاومة الشعبية	تاريخ اندلاعها	قائدها (زعيمها)
مقاومة المقراني	<b>1871</b>	محمد المقراني
مقاومة الأوراس	1879	<b>محمد امزيان بن عبد الرحمان</b>
مقاومة التوارق (الهقار)	<b>1881</b>	<b>الشيخ امود بن المختار</b>

ج2/ تسمية الأحزاب التي مثلت الاتجاه الاستقلال مع تحديد تواريخها:

- نجم شمال افريقيا جوان 1926م
- حزب الشعب الجزائري 11 مارس 1937م
- حركة انتصار الحريات الديمقراطية 10 نوفمبر 1946م

ج3/

**أجأوزت مشكلة التسليح:**

- جلب السلاح من الخارج (مصر وتونس. الخ)
- جمع الأسلحة البسيطة من المواطنين.
- الاستفادة من أسلحة الجزائريين المجندين الفارين من الجيش الفرنسي.
- الأسلحة التي تغنم من المعارك ضد الفرنسيين.

**ب- دور الشعب الجزائري في الضغط على فرنسا والرضوخ لمطالب الثورة:**

- الالتفاف حول الثورة وقيادتها.
- القيام بالإضرابات والمظاهرات (مظاهرات 11 ديسمبر 1960 ومظاهرات المهاجرين 17 أكتوبر 1961م)

**الجزء الأول:****الوضعية الأولى:**

صنع الشعب الجزائري ملحمة بطولية في مواجهة الاحتلال الفرنسي.  
- حدد أحداث التواريخ التالية: 1830/07/05 - 1931/05/05 - 1945/05/08 - 1954/03/23.

**الوضعية الثانية:**

صنف الأحداث التالية في الجدول الموالي حسب مراحل الثورة التحريرية.

- وقف إطلاق النار - انعقاد مؤتمر باندونغ - مظاهرات 11 ديسمبر 1960 - مشروع قسنطينة - انعقاد مؤتمر الصومام - تأسيس الحكومة الجزائرية المؤقتة.

مرحلة الانطلاق	مرحلة التنظيم والشمولية	مرحلة القوة (الإبادة)	مرحلة التفاوض والاستقلال
.....	.....	.....	.....

**الوضعية الثالثة:** لا يكتمل استقلال وبناء المغرب العربي الكبير إلا باستقلال الشعب الصحراوي.

**التعليمة:** برر موقف الجزائر الداعم لهذه القضية.

**الوضعية الرابعة:** (... يجب ان نتحمل الأعباء مع الأوراس. وإذا بقيت العمليات مكثفة هناك وبقي الأوراس وحده فسوف تضيق الثورة ويقضي عليه العدو. لذا لا بد ان نقوم بأكبر عملية يتمخض عنها نجاح باهر) نداء زيغود يوسف لمجاهدي الولاية الثانية 1955.

**التعليمة:** ادرس الوثيقة التي بين يديك من حيث التقديم فقط.

**الإجابة النموذجية****الجواب عن الوضعية الأولى:**

**تحديد أحداث التواريخ:**

1830/07/05: سقوط العاصمة / توقيع معاهدة الاستسلام بين الداوي حسين والجنرال دي برمون.

1931/05/05: تأسيس جمعية العلماء المسلمين.

1945/05/08: مجازر سطيف، خراطة، قالمة. الخ

1954/03/23: تأسيس اللجنة الثورية للوحدة والعمل.

**الجواب عن الوضعية الثانية:**

**تصنيف أحداث الثورة في الجدول:**

مرحلة الانطلاق	مرحلة التنظيم والشمولية	مرحلة القوة (الإبادة)	مرحلة التفاوض والاستقلال
-انعقاد مؤتمر باندونغ	-انعقاد مؤتمر الصومام.	-تأسيس الحكومة الجزائرية المؤقتة. -مشروع قسنطينة.	-مظاهرات 11 ديسمبر 1960. -وقف إطلاق النار

**الجواب عن الوضعية الثالثة:**

**تبرير موقف الجزائر الداعم للقضية الصحراوية:**

-قضية تصفية استعمار.

-قضية تحرر عادلة.

-قضية شعب شقيق ودولة جارة.

-لان من مبادئ السياسة الخارجية للجزائر مساندة القضايا العادلة.

**الجواب عن الوضعية الرابعة:**

**تحليل الوثيقة من حيث التقديم فقط:**

-التعريف بصاحب الوثيقة: زيغود يوسف عضو مجموعة الـ 22 التاريخية و احد مفجري الثورة وقائد الولاية الثانية ومهندس هجومات الشمال

القسنطيني 20 اوت 1955م.

-طبيعة الوثيقة: نداء لمجاهدي الولاية الثانية (الشمال القسنطيني)

-الإطار الزمني: 20 اوت 1955م.

-الإطار المكاني: الشمال القسنطيني (الولاية الثانية التاريخية)

-مصدر الوثيقة: غير رسمي.

يمثل الجدول التالي تطور عدد السكان في الجزائر.

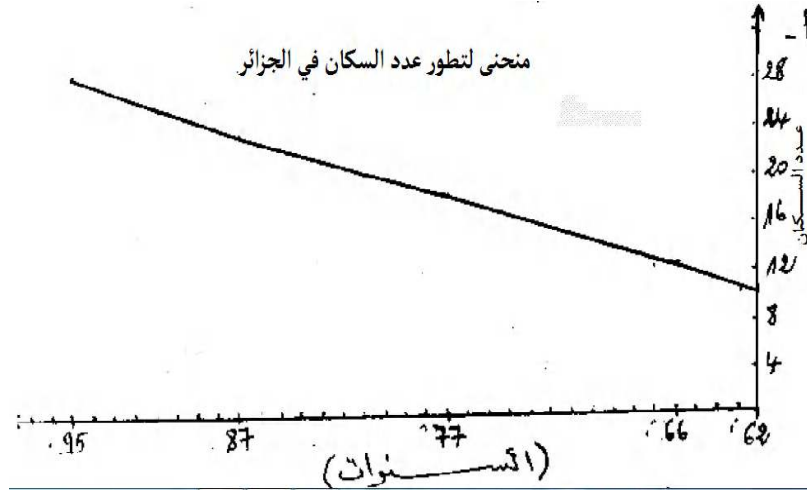
السنوات	1962	1966	1977	1987	1995
عدد السكان	10	12	18	23	28

(الوحدة بالمليون نسمة)

- أ- مثل بمنحنى بياني تطور عدد السكان. (المقياس: 1 سم = 4 مليون نسمة)  
 ب- ما هي المشاكل المترتبة عن نموهم السريع؟  
 ج- ما هي العوامل المتحكمة في توزيعهم؟

الإجابة النموذجية

ج1/ أتمثيل المنحنى:



من تجميع واعداد الأستاذ: لبصير عامر

ج2/ ب- المشاكل المترتبة عن النمو السكاني السريع:

- أزمة السكن وظهور الأحياء القصدية.
- انتشار البطالة وظهور الأزمات الاجتماعية.
- عجز المؤسسات الاجتماعية والاقتصادية عن تلبية حاجيات المواطنين.

ج3/ ج- لعوامل المتحكمة في توزيع السكان:

- العوامل الطبيعية: المناخ، التربة، الموقع الجغرافي... الخ
- العوامل الاقتصادية: المواصلات والنقل، المراكز الصناعية والتجارية والإدارية، المناطق الحضرية... الخ
- العوامل التاريخية: مراكز التعمير القديم والمدن التاريخية... الخ

## شهادة التعليم الأساسي (المتوسط).

دورة جوان 1997

س/ عرفت الجزائر عدة تجارب لتحقيق تنمية زراعية.

المطلوب:

- 1- ما هي التنظيمات الزراعية التي عرفت الجزائر؟
- 2- بين مجهودات الدولة لتحقيق الاكتفاء الذاتي.
- 3- سم أربعة سدود هامة.

### الإجابة النموذجية

ج1/ التنظيمات الزراعية هي:

التنظيم	السنة
التسيير الذاتي	23 مارس 1963
الثورة الزراعية	11-08-1971
قانون استصلاح الأراضي الزراعية	13-أوت-1983
قانون المستثمرات الفلاحية	08 ديسمبر 1987

ج2/ مجهودات الدولة لتحقيق الاكتفاء الغذائي:

- توسيع المساحات الزراعية.
- بناء السدود بغرض زيادة مخزون المياه.
- التكوين والرسكلة.
- ادخال المكننة للزراعة.

ج3/ أربعة سدود هامة:

-سد غريب (عين الدفلى) -سد جرف التربة (بشار) -سد وادي الفضة (الشلف) -سد قدارة (بومرداس) -سد القصب (المسيلة) -سد بني هارون (ميلة)

## شهادة التعليم الأساسي (المتوسط).

دورة جوان 1998

ان البلدان السائرة في طريق النمو هي تلك المجموعة من البلدان التي تتميز بخصائص مشتركة.

المطلوب:

- 1-وضح هذه الخصائص المشتركة.
- 2-ما هي الحلول التي تقترحها للخروج من دائرة التخلف؟ ملاحظة: محذوف

### الإجابة النموذجية

ج1/ الخصائص المشتركة:

- \***الخصائص الاقتصادية:** ضعف الإنتاج الزراعي -ضعف التصنيع -انخفاض الدخل الفردي -انخفاض الإنتاجية.
  - \***الخصائص الاجتماعية:** فوارق اجتماعية كبيرة -نقص الغذاء -انتشار الأمية -انتشار البطالة.
  - \***الخصائص السياسية:** معظم الدول حديثة الاستقلال ولا زالت تعاني من التبعية الاقتصادية للبلدان المتقدمة.
- ج2/ **الحلول:** انتهاج سياسة الاعتماد على النفس -تحقيق الامن الغذائي -إقامة صناعة مصنعة -الاهتمام بتكوين الفرد... الخ

ملاحظة: هذه الوضعية محذوفة في المناهج الجديدة

## شهادة التعليم الأساسي (المتوسط).

دورة جوان 1999

يعيش عالمنا المعاصر انقسامًا ملحوظًا نتج عنه ظهور مجموعة دول متقدمة وأخرى سائرة في طريق النمو.

المطلوب:

- 1-عرف مجموعة الدول المتقدمة واذكر خصائصها.
- 2-كيف يمكن للدول السائرة في طريق النمو ان تتخلص من المشاكل الاقتصادية التي تعاني منها؟

### الإجابة النموذجية

ج1/ **تعريف الدول المتقدمة:** هي مجموعة الدول التي تقع في النصف الشمالي للكرة الأرضية وتتميز بقوة اقتصادية هائلة وتكنولوجيا عالية مثل الولايات المتحدة الأمريكية... الخ

\***خصائصها:** قوة اقتصادية كبيرة في العالم -ذات مستوى علمي وتكنولوجي عالي -اغلبها دول استعمارية -دول محتكرة للسوق العالمية... الخ

ج2/ **تتخلص بالطرق التالية:**

- الاعتماد على الزراعة وتطويرها.
- إقامة صناعة مصنعة واستغلال الثروات الطبيعية الهائلة.
- السعي الى اكتساب التكنولوجيا الحديثة الحقيقية من الدول الاوربية.
- اعداد الفرد اعدادا كاملا لجعله يعتمد على نفسه.

ملاحظة: هذه الوضعية محذوفة في المناهج الجديدة

**السؤال الأول:** اليك جدول يمثل تطور انتاج البترول في الجزائر بين سنتي 1963/1996

السنة	1963	1970	1979	1983	1987	1990	1996
الانتاج	26	53	62	49	53	55	60

**المطلوب:**

أ-حول ارقام الجدول الى منحنى بياني. ماذا تلاحظ على المنحنى البياني؟

ب-اذكر اهم مناطق انتاج وتصدير البترول بالجزائر.

ج-بين سياسة الجزائر في الميدان البترولي.

**السؤال الثاني:** اليك خريطة صماء للجزائر.

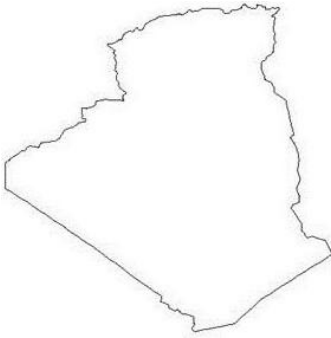
أ-عين عليها ما يلي:

-سلسلة الاطلس التلي -سلسلة الاطلس الصحراوي -منطقة الهضاب العليا -الصحراء -مرتفعات الهقار.

ب-عرف باختصار المظاهر التضاريسية التالية:

العرق، الرق، الحمادة، السهل، الوادي، الشط.

ج-صنف أنواع الاودية في الجزائر من حيث مصباتها.



### الإجابة النموذجية

**الجواب عن السؤال الأول:**

أ/ رسم المنحنى البياني:

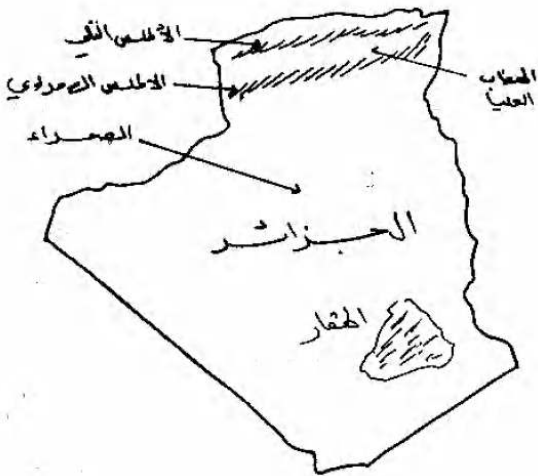
\***الملاحظة:** نلاحظ وجود تذبذب متواصل في الإنتاج حيث قفز الإنتاج من 26 مليون طن سنة 1963 الى 62 مليون طن سنة 1979 ثم عاد وانخفض في السنوات الموالية بسبب تقنين الإنتاج ووجود فائض في الأسواق وانتهاج سياسة المحافظة على المنتوجات.

ب/ **اهم مناطق انتاج وتصدير البترول في الجزائر:** -منطقة حاسي مسعود بالشمال الشرقي من الصحراء. -منطقة عين امناس جنوب حاسي مسعود. -منطقة ارزيو بالغرب الجزائري. -منطقة سكيكدة وبجاية بالشرق الجزائري. -منطقة الجزائر بالوسط.

ج/ **سياسة الجزائر في الميدان البترولي:** -ايجاد أسواق دائمة -السعي من اجل الحفاظ على أسعار البترول -تكثيف البحث والتنقيب عن مصادر جديدة -تشجيع الشركات الأجنبية في هذا المجال -تسخير عائدات المحروقات في التنمية الاقتصادية -المحافظة على الاحتياطي الوطني بتجنب التبذير.

**الجواب عن السؤال الثاني:**

أ/ تعيين التضاريس على الخريطة:



ب/ **تعريف المظاهر التضاريسية:**

-العرق: الصحراء الرملية (الكثبان الرملية) مثل العرق الشرقي الكبير وع غ الكبير.

-الرق: الصحراء الحصوية مثل صحراء تنزروفت.

-الحمادة: الصحراء الحجرية مثل هضبة تادمايت.

-السهل: ارض منبسطة ومستوية.

-الوادي: هو حوض او ارض منخفضة موجودة على سطح الأرض.

-الشط: بحيرات مالحة كونتها مياه الاودية مثل شطوط الهضاب العليا.

ج/ **أنواع الاودية من حيث مصباتها:**

-اودية تتوجه نحو البحر المتوسط مثل واد يسر والتافنة.

-اودية تتجه نحو الاحواض الداخلية المغلقة مثل واد القصب بمسيلة.

-اودية تتجه ميائها نحو الصحراء مثل وادي جدي ووادي الساور.

**الموضوع الأول:**

كان حول دولة اليابان وقد حذف هذا الدرس في المناهج اللاحقة

ملاحظة: الموضوع الأول محذوف من المناهج الجديدة (الجيل الثاني)

**الموضوع الثاني:**

امامك جدول يبين توزيع نسبة اليد العاملة في القطاعات الاقتصادية الجزائرية سنة 1962م.

قطاع الخدمات	قطاع المناجم والصناعة	قطاع الفلاحة	القطاع الاقتصادي
%45	%30	%25	نسبة اليد العاملة

**المطلوب:**

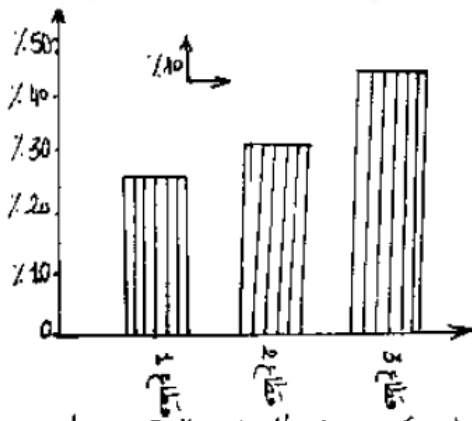
- أ- عرف المصطلحات التالية: الصناعة الثقيلة - الامن الغذائي - الميزان التجاري.  
ب- صنف هذه المصطلحات بما يناسبها من القطاعات الاقتصادية الواردة في الجدول.  
ج- حول المعطيات العددية الى اعمدة بيانية. ثم علق على التمثيل.

**الإجابة النموذجية****الجواب عن الموضوع الثاني:****أ/ تعريف المصطلحات:**

- الصناعة الثقيلة: سلسلة صناعات مرتبطة ببعضها عمالتها اقل وتكلفتها باهضة مثل صناعة الحديد والصلب.  
-الامن الغذائي: قدرة الدولة على توفير غذاء سكانها انتاجا (امن حقيقي) او استيرادا (امن غير حقيقي).  
-الميزان التجاري: هو فارق القيمة المالية بين الصادرات والواردات خلال زمن محدد وله ثلاث مستويات (ميزان فائض، متوازن، عاجز).

**ب/ تصنيف المصطلحات:**

- الصناعة الثقيلة: تصنف في قطاع المناجم والصناعة.  
-الامن الغذائي: تصنف في قطاع الفلاحة.  
-الميزان التجاري: تصنف في قطاع التجارة (الخدمات).

**ج/****\*رسم الاعمدة البيانية:**

العنوان: توزيع نسب العمال في القطاعات الاقتصادية سنة 1962م

- \*التعليق: -يلاحظ تفاوت توزيع نسب اليد العاملة بين القطاعات الاقتصادية حيث ترتفع نسبة العمالة في قطاع الخدمات وتتوسط في قطاع المناجم والصناعة بينما تنخفض في قطاع الفلاحة وهذا التفاوت يعود لأسباب مثل:  
\*قطاع الخدمات نظرا: -قدرة استعاب القطاع للعمالة -قطاع مربح غير مكلف  
\*قطاع الفلاحة نظرا: -صعوبات القطاع -هجرة اليد العاملة من القطاع -النزوح الريفي.

**الموضوع الأول:**

تعاني الجزائر مثل بقية الدول النامية تخلفا في القطاع الزراعي وتذبذبا في الإنتاج ونموا سكانيا سريعا.

**المطلوب:**

- 1- اشرح ما يلي: الدول النامية -تذبذب الإنتاج -النمو السكاني السريع.
- 2- اذكر أسباب التخلف الزراعي.
- 3- بين أثر النمو السكاني السريع على الإنتاج الزراعي في الجزائر.
- 4- على خريطة الجزائر المرفقة وزع المدن التالية ذات الكثافة السكانية العالية. عنابة -مدينة الجزائر -وهران -قسنطينة -ورقلة.

**الموضوع الثاني:**

للجزائر إمكانيات صناعية متنوعة تؤهلها لتحديث قطاعها الصناعي.

**المطلوب:**

- 1- اعط مفهومًا للصناعة.
- 2- عدد ثلاث مقومات صناعية.
- 3- علل التناقض بين وفرة الإمكانيات الصناعية وضعف القطاع الصناعي.
- 4- حدد العلاقة بين الصناعة والزراعة.

**الإجابة النموذجية****الجواب عن الموضوع الأول:****ج1/ الشرح:**

-الدول النامية: هي البلدان المتخلفة او الدول السائرة في طريق النمو والتي تشكل العالم الثالث ولها خصائص مشتركة منها ضعف الإنتاج ... الخ  
-تذبذب الإنتاج: عدم انتظام الإنتاج الزراعي واعتماده على الأساليب التقليدية.  
-النمو السكاني السريع: هو ارتفاع نسبة الزيادة الطبيعية وانخفاض نسبة الوفيات لتحسن المستوى المعيشي والصحي.

**ج2/ أسباب التخلف الزراعي:** -مساحة زراعية محدودة -ظاهرة الانجراف والتصحّر -تذبذب الامطار كمية وتوزيعا -ضعف التأهيل التقني للفلاحين  
-قلة العتاد الفلاحي ورؤوس الأموال ... الخ

**ج3/ أثر النمو السكاني السريع على الإنتاج الزراعي:**

-عدم تحقيق الاكتفاء الذاتي -انخفاض مستوى الدخل -التوسع العمراني والصناعي على حساب الأراضي الزراعية -اختلال التوازن بين الاقتصاد والسكان

**ج4/ توزيع المدن على الخريطة:****الجواب عن الموضوع الثاني:**

**ج1/ إعطاء مفهوم للصناعة:** هي تحويل المواد الأولية الخام الى مواد قابلة للاستعمال.

**ج2/ ثلاث مقومات صناعية:** -مصادر الطاقة (البترو، غاز ط، طاقة شمسية). -مصادر أولية (نباتية، حيوانية، معدنية) -اليد العاملة.

**ج3/ تعطيل التناقض:**

-الاعتماد على القطاع العام دون الخاص وانعدام المنافسة -ضعف التأطير -نقص رؤوس الأموال -نقص الصيانة وتجديد الآلات -التركيز على الصناعة الثقيلة دون الخفيفة -ضعف الإنتاجية.

**ج4/ العلاقة بين الصناعة والزراعة:**

علاقة تكاملية بحيث تمد الزراعة الصناعة بالمواد الأولية الزراعية بالمقابل تقوم الصناعة بتقديم الآلات والوسائل والاسمدة للزراعة.



**الموضوع الأول:**

اليك جدولاً يمثل تطور إنتاج البترول في الجزائر خلال الفترة الممتدة من 1962 إلى 1996م.

السنوات	1963	1970	1971	1983	1987	1990	1994	1996
الإنتاج	26	53	36	62	49	53	57	60

الوحدة مليون طن

**المطلوب:**

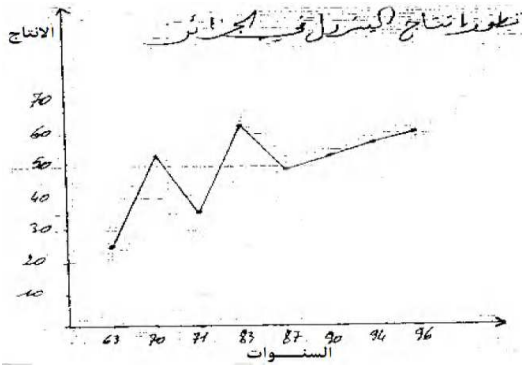
- أ- حول أرقام الجدول الى منحنى بياني. ماذا تلاحظ؟  
ب- ما هي مخاطر الاعتماد الوطني على مورد واحد؟  
ج- باستثناء المحروقات هل للجزائر إمكانيات تساعدها على تنمية اقتصادها؟ بين كيف ذلك.

**الموضوع الثاني:**

للترية تأثير كبير على الإنتاج الزراعي.

**المطلوب:**

- أ- عرف التربة وبين أثرها على الإنتاج الزراعي.  
ب- ما هي المشاكل التي يعانيها القطاع الزراعي في الجزائر؟  
ج- على خريطة الجزائر المرفقة وزع المحاصيل التالية: الزيتون - الحوامض - القمح - التمور.

**الإجابة النموذجية****الجواب عن الموضوع الأول:**

ج1/ أرسم المنحنى:

- **الملاحظة:** نلاحظ ما يلي: تذبذب الإنتاج بين سنتي 1963 و1987م  
- ارتفاع كمية الإنتاج بداية من سنة 1987 إلى 1996م  
- تذبذب الإنتاج راجع إلى عملية التأميم والازمة الاقتصادية.

ج2/ **ب- مخاطر الاعتماد على مورد واحد:** - رهن مستقبل البلاد الاقتصادي - جر البلاد إلى التبعية الاقتصادية الأجنبية - محدودية موارد الدخل لانعدام تنوع المصادر - ارتباط مداخل الدولة بتقلبات أسعار السوق (العرض والطلب)

ج3/ **ج- إمكانيات الجزائر التي تساعدها على تنمية اقتصادها:**

تملك الجزائر إمكانيات تساعدها على تنمية اقتصادية منها: - المعادن المختلفة (الحديد، الزنك، الفوسفات، الرصاص) - الثروة النباتية والحيوانية (غابات حلفاء ثمر حوامض، ثروة سمكية...)

**كيف ذلك:** يتم ذلك بالتسيير الجيد والمحكم والاستغلال العقلاني للثروات وترشيد الاستهلاك وتوسيع دائرة الاستثمار الاقتصادي.

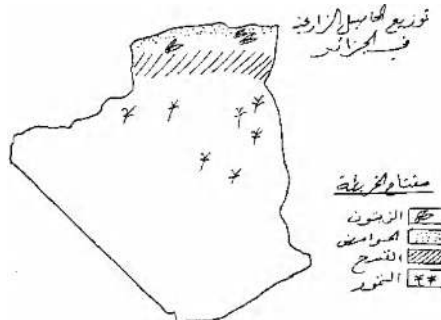
**الجواب عن الموضوع الثاني:**

ج1/ **تعريف التربة وأثرها على الإنتاج الزراعي:** هي الطبقة المفتتة من القشرة الخارجية للأرض وأثرها:

- التربة الخصبة (الفيضية والسوداء) نتيجة غناها بالمواد العضوية لها مردود زراعي عالي على العكس الحمراء والصحراوية مردودها ضعيف لفقرها المواد العضوية.

ج2/ **مشاكل القطاع الزراعي:** - تذبذب المناخ - انجراف التربة - التصحر وزحف الرمال - ضعف الاستثمار - قلة العتاد الفلاحي - نقص الموارد المالية.

ج3/ **ج- توزيع المحاصيل الزراعية على خريطة:**



**الموضوع الأول:**

املا الجدول التالي بعد نقله على ورقة الإجابة.

نوع المناخ	مميزات المناخ	المناطق التي يسود فيها	معدل كمية التساقط
مناخ البحر المتوسط	.....	.....	.....
المناخ الشبه الجاف	.....	.....	.....
المناخ الصحراوي	.....	.....	.....

**المطلوب:**

1- ما علاقة المناخ بالتوزيع السكاني والغطاء النباتي بالجزائر؟ مع إعطاء امثلة؟

**الموضوع الثاني:**

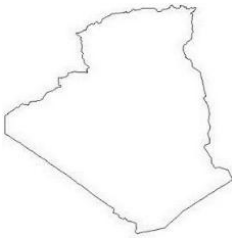
يتميز الوضع الاقتصادي الحالي في الجزائر بالاعتماد أساسا على مداخل المحروقات وعدم استقرار الإنتاج الزراعي وتزايد سكاني كبير.

**المطلوب:**

أ- ما هي مخاطر الاعتماد على المحروقات فقط في مجال الصادرات؟

ب- كيف يمكن تطوير القطاع الزراعي ليساير النمو السكاني؟

ج- عين على خريطة الجزائر المرفقة مناطق إنتاج المحروقات.

**الإجابة النموذجية****الجواب عن الموضوع الأول:**

ج1/ ملا الجدول:

نوع المناخ	مميزات المناخ	المناطق التي يسود فيها	معدل كمية التساقط
مناخ البحر المتوسط	صيف حار جاف وشتاء معتدل ممطر مدى حراري قليل	الشريط الساحلي	بين 600 و 800 ملم
المناخ الشبه الجاف	مناخ انتقالي بين مناخ البحر المتوسط والصحراوي.	الهضاب العليا أي بين السلسلتين التالية والصحراوية.	بين 200 و 400 ملم
المناخ الصحراوي	شديد الحرارة والجفاف صيفا شديد البرودة شتاء المدى الحراري كبير امطاره نادرة وفجائية.	الصحراء	اقل من 200 ملم

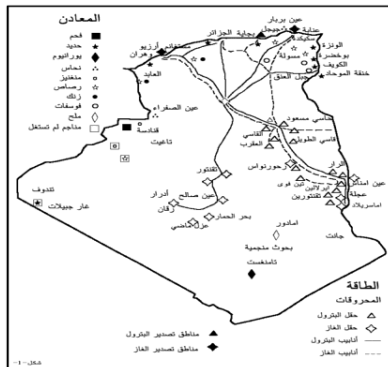
ج2/ علاقة المناخ بالتوزيع السكاني: يكثر الناس في المناطق ذات المناخ الملائم (المناطق الشمالية) ويقف في المناطق ذات المناخ القاسي (الصحراء) علاقة المناخ بالغطاء النباتي: يتنوع ويتكاثف المناخ في المناطق الممطرة كالإقليم التلي ويتناقص الغطاء النباتي كلما اتجهنا من الشمال نحو الجنوب بسبب تناقص كمية المطار كإقليم السهوب والصحراء.

**الجواب عن الموضوع الثاني:****ج1/ مخاطر الاعتماد على المحروقات:**

- تعرض البلاد للضغوطات والتبعية الأجنبية - عدم استقرار أسعارها يؤثر على التنمية الاقتصادية - ارتباط البلد بالبلدان المصنعة - استنزاف المخزون الباطني مما يؤدي الى حرمان الأجيال القادمة من نصيبها من هذه الثروة. - ترسخ في المجتمع ظاهرة الاتكال وتقلل من النشاط والعمل - ثروة زائلة

**ج2/ طريقة تطوير القطاع الزراعي ليساير النمو السكاني:**

- منح الأولوية للقطاع الزراعي كونه ثروة دائمة - استصلاح أراضي جديدة - توفير الموارد المائية - توفير العتاد الفلاحي - الاهتمام بالزراعة الكثيفة - محاربة ظاهرة التصحر والانجراف - تشجيع الطاقات الشبابية بمختلف الحوافز للعمل في القطاع الفلاحي.

**ج3/ خريطة مناطق إنتاج المحروقات: - حاسي مسعود - عين امناس - حاسي الرمل - عين صالح.**

**الموضوع الأول:**

حول العالم المتقدم والعالم النامي وقد تم حذفهما من المناهج الجديدة.

**ملاحظة:** الموضوع الأول محذوف في المناهج الجديدة (الجيل الثاني)

**الموضوع الثاني:**

عرف النمو الديمغرافي في الجزائر بعد الاستقلال تزايدا سريعا. تركز معظمه في المدن.

**المطلوب:**

- 1- أ- عرف النمو الديمغرافي.
- ب- اذكر ثلاث مدن ساحلية ذات كثافة سكانية عالية.
- 2- حدد أسباب هذا النمو الديمغرافي السريع.
- 3- تعاني معظم المدن الجزائرية مشاكل عديدة. اذكرها واقترح حولا لها.
- 4- اليك الجدول التالي حول تطور عدد السكان في الجزائر.

السنة	1962	1966	1980	1990	1998
عدد السكان (بالملايين)	10	12	18	25	30

أ- مثل هذه الأرقام بيانيا بطريقة المنحنيات. ماذا تستنتج؟

**الإجابة النموذجية****الجواب عن الموضوع الثاني:**

ج1/ أ- تعرف النمو الديمغرافي: الزيادة الطبيعية للسكان في بلد ما.

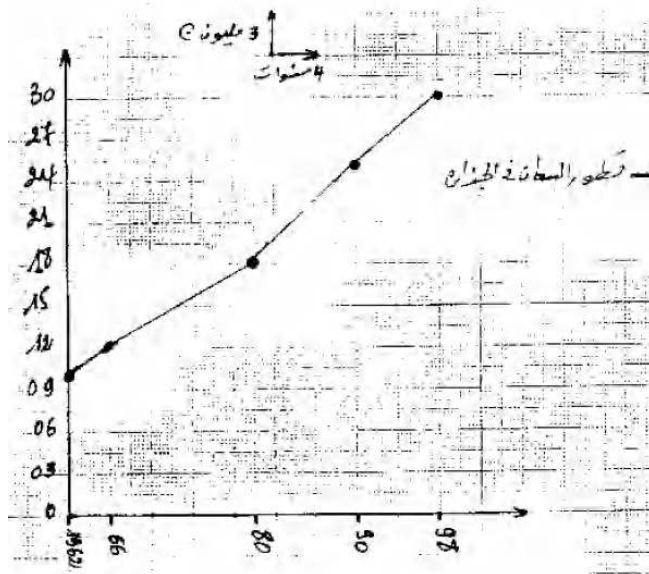
ب- ثلاثة مدن ساحلية ذات كثافة سكانية عالية:

- الجزائر العاصمة - وهران - عنابة - سكيكدة - مستغانم - جيجل - بجاية ... الخ

ج2/ أسباب الديمغرافي السريع: - الامن والاستقرار - انخفاض نسبة الوفيات - تحسن المستوى المعيشي - تحسن مستوى الصحة.

ج3/

مشاكل المدن: - ازمة السكن - ازمة النقل - ازمة المياه - التلوث - البطالة - انتشار البيوت القصدية - انتشار الآفات الاجتماعية ... الخ  
الحلول الممكنة: - انشاء مدن جديدة - تنشيط الريف للحد من النزوح الريفي - توفير المرافق الضرورية للحياة - تطبيق لا مركزية الإدارة - تشجيع الاستثمار ... الخ

**ج4/ رسم المنحنى:**

- الاستنتاج: نستنتج ان عدد السكان في الجزائر في تزايد سريع.

**الموضوع الأول:**

كان حول دول الشمال ودول الجنوب وقد تم حذفهما في المناهج الجديدة.

ملاحظة: الموضوع الأول محذوف في المناهج الجديدة

**الموضوع الثاني:**

تبدل الجزائر مجهودات للتحكم في النمو السكاني السريع بهدف تحقيق توازن بين الاحتياجات الاجتماعية والامكانيات الاقتصادية المتوفرة.

**المطلوب:**

- 1- عرف المصطلحات التالية: الانفجار السكاني - الزيادة الطبيعية - الكثافة السكانية.
- 2- اذكر ثلاث نتائج سلبية للنمو السكاني السريع.
- 3- ما هي المجهودات الوطنية لمعالجة هذه النتائج؟

**الإجابة النموذجية****ج1/ تعريف المصطلحات:**

- الانفجار السكاني: هو النمو السكاني السريع بسبب زيادة الولادات وانخفاض نسبة الوفيات.
- الزيادة الطبيعية: هو الفرق بين عدد المواليد وعدد الوفيات.
- الكثافة السكانية: هو عدد السكان في الكيلومتر مربع الواحد وتحسب بقسمة عدد السكان على المساحة.

**ج2/ ثلاث نتائج سلبية للنمو السكاني السريع:**

- اختلال التوازن بين الاحتياجات الاجتماعية والامكانيات الاقتصادية.
- انتشار البطالة.
- انخفاض مستوى المعيشة.

**ج3/ المجهودات الوطنية لمعالجة هذه النتائج:**

- تبني سياسة تنظيم النسل.
- فتح آفاق التشغيل.
- تحسين مستوى المعيشة والاهتمام بالأمومة.

**الجزء الأول:**

يتميز الإنتاج الزراعي في الجزائر بتذبذب كبير، مما يؤثر سلبا على التنمية، ويحول دون تحقيق الأمن الغذائي.

**المطلوب:**

- 1- عرف المصطلحين التاليين: تذبذب الإنتاج الزراعي - الأمن الغذائي.
- 2- اذكر ثلاثة أسباب لتذبذب الإنتاج الزراعي.
- 3- أبرز ثلاثة أساليب لتحقيق الامن الغذائي.

**الإجابة النموذجية****ج1/ تعريف المصطلحين:**

- تذبذب الإنتاج الزراعي: عدم استقرار كمية الإنتاج من سنة لأخرى بالزيادة والنقصان.
- الامن الغذائي: يعني القدرة على تأمين الغذاء للسكان انتاجا او استيرادا.

**ج2/ ثلاثة أسباب لتذبذب الإنتاج الزراعي:**

- طبيعية كتذبذب المناخ - مادية مثل ضآلة الاستثمارات، نقص رؤوس الأموال المخصصة للقطاع.
- بشرية قلة اليد العاملة.

**ج3/ ثلاثة أساليب لتحقيق الامن الغذائي:**

- استصلاح الأراضي.
- بناء السدود وحفر الابار.
- تكوين الإطارات الفلاحية وتشجيع البحوث العلمية.

**الجزء الأول:**

ان لموقع الجزائر وتضاريسها ومناخها خصائص مميزة.

**المطلوب:**

- 1- حدد أهمية الموقع الجغرافي للجزائر.
- 2- اذكر مرتفعين من سلسلة الاطلس التلي وأخرى من سلسلة الاطلس الصحراوي.
- 3- علل كمية تناقص الامطار كلما اتجهنا من الشمال الى الجنوب.

**الإجابة النموذجية****ج1/ أهمية الموقع الجغرافي للجزائر:**

- تتوسط الجزائر المغرب العربي.
- تشرف الجزائر على ساحل طوله 1200 كلم.
- تعتبر بوابة افريقيا نحو اوربا.
- تتوسط القارات الثلاث (اسيا وافريقيا وأروبا)

**ج2/ مرتفعين من سلسلة الاطلس التلي والاطلس الصحراوي:**

- \*الاطلس التلي: جبال ايدوغ -جبال جرجرة -جبال الظهرة ... الخ
- \*الاطلس الصحراوي: العمور -أولاد نايل -الاوراس ... الخ

**ج3/ التعليل: بسبب**

- الحاجز التضاريسي المتمثل في السلاسل الجبلية.
- البعد عن المسطحات المائية (البحر المتوسط)
- اتساع المساحة.

**الجزء الأول:**

- 1- عرف المصطلحات التالية: الزيادة الطبيعية -النزوح الريفي -الدخل الوطني الخام -الميزان التجاري.
- 2- تتبع مراحل التطور السكاني في الجزائر.
- 3- انقل الجدول المقابل الى ورقة اجابتك ثم صنف فيه الموارد الاتية: الثروة المعدنية -الغابات -الطاقة الشمسية -المحروقات.

موارد غير متجددة	موارد متجددة
.....	.....

**الإجابة النموذجية****ج1/ تعريف المصطلحات:**

- الزيادة الطبيعية: هي الفرق بين بين الولادات او الوفيات عدديا او نسبيا.
- النزوح الريفي: هو انتقال سكان الريف الى المدينة بصفة مؤقتة او دائمة.
- الدخل الوطني الخام: هو مجموع القيم المضافة التي ينتجها مواطنو الدولة في كل المجالات داخليا وخارجيا.
- الميزان التجاري: هو الفرق بين قيمة الصادرات والواردات خلال سنة.

**ج2/ مراحل التطور السكاني في الجزائر:**

- مرحلة التراجع: 1851 الى 1872م.
- مرحلة النمو البطيء: 1872 الى 1960م
- مرحلة النمو السريع: من 1860م الى يومنا هذا.

**ج3/ تصنيف الموارد:**

موارد غير متجددة	موارد متجددة
الثروة المعدنية -المحروقات.	الغابات -الطاقة الشمسية

**الجزء الأول:**

اجب على ما يلي:

- 1- اشرح تأثير كل من الموقع الفلكي والتضاريس على مناخ الجزائر.
- 2- اذكر وظائف الموانئ التالية: بني صاف - ارزيو - الجزائر العاصمة - عنابة.

**الإجابة النموذجية**

ج1/ شرح تأثير الموقع الفلكي والتضاريس على مناخ الجزائر:

تأثير الموقع الجغرافي	تأثير الموقع الفلكي
- من حيث امتدادها من الجنوب الغربي الى الشمال الشرقي. - من حيث الارتفاع والتكتل بين الاقليمين الشرقي والغربي.	- موقع الجزائر بين العروض الحارة جنوبا والمعتدلة شمالا. - ارتفاع درجة الحرارة واتجاه هبوب الرياح.

ج2/ وظائف الموانئ التالية:

- بني صاف: الصيد البحري.  
ارزيو: تصدير المحروقات.  
الجزائر العاصمة: تجاري + نقل المسافرين.  
عنابة: تجاري + نقل المسافرين.

**الجزء الأول:**

اليك جدولا يمثل انتاج الحبوب في الجزائر.

السنوات	1995	1996	1997	1998	1999	2001	2002	2003
الانتاج	21.3	49	8.6	30.2	20.2	26.5	19.5	42.6

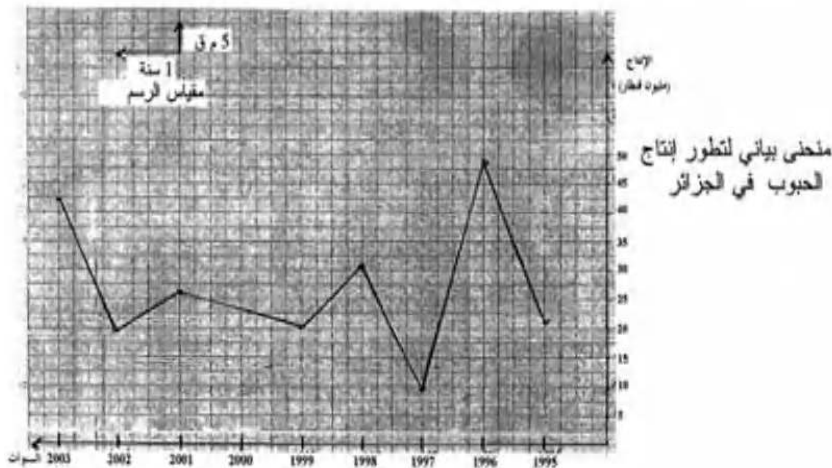
(الوحدة: مليون قنطار)

**المطلوب:**

- 1- ممثل الجدول بيانيا.
- 2- ما هي ملاحظتك مع التعليل.

**الإجابة النموذجية**

ج1/ تمثيل الجدول بيانيا:



ج2/ الملاحظة مع التعليل: يلاحظ على انتاج الحبوب في الجزائر اضطرابا بسبب تذبذب التساقط.

**الجزء الأول:**

تختلف الكثافة السكانية في الجزائر من الشمال الى الجنوب.

**المطلوب:**

1-ما هي الكثافة السكانية؟

2-اذكر العوامل المؤثرة في توزيع السكان.

3-صنف المدن التالية (سطيف، ورقلة، وهران، سكيكدة، بشار، بجاية) حسب المناطق التي تنتمي اليها في الجدول الاتي:

منطقة الساحل	منطقة الهضاب العليا	منطقة الصحراء
.....	.....	.....

**الإجابة النموذجية**

ج1/ تعريف الكثافة السكانية:

هي عدد السكان في الكلم<sup>2</sup> الواحد.

ج2/ العوامل المؤثرة في توزيع السكان:

العامل الطبيعي: المناخ الملائم، التربة، المياه، التضاريس ... الخ

العامل الاقتصادي: الزراعة، الصناعة، التجارة ... الخ

العامل التاريخي: المناطق القديمة ذات البعد التاريخي مثل منطقة القبائل والاوراس ... الخ

ج3/ تصنيف المدن:

منطقة الساحل	منطقة الهضاب العليا	منطقة الصحراء
سكيكدة -بجاية -وهران	-سطيف	منطقة الصحراء ورقلة -بشار.

**الجزء الأول:**

1) عرف المصطلحات الجغرافية التالية: المدى الحراري -المحروقات -الموارد المتجددة -الموارد غير المتجددة.

2) عرف نمو السكان في الجزائر تراجعاً خلال المرحلة ما بين (1851-1872)

-عل ذلك (ذكر أربعة أسباب)

**الإجابة النموذجية**

ج1/ تعريف المصطلحات:

-المدى الحراري: هو فارق درجة الحرارة بين أقصى قياس وانداه.

-المحروقات: مصدر من مصادر الطاقة ناتج عن حرق بعض المواد مثل البترول والغاز الطبيعي والنفط ... الخ

-الموارد المتجددة: هي الموارد الطبيعية الغير قابلة للنفاد مثل الطاقة الشمسية ... الخ

-الموارد غير المتجددة: هي الموارد القابلة للنفاد مثل البترول ... الخ

ج2/ تطين تراجع نمو السكان في الجزائر ما بين 1851 و1872:

-الأوبئة (الطاعون)

-المجاعة -الإبادة أثناء الثورات

-الهجرة والتهجير (النفى)



## الجزء الأول:

س1) اليك جدولا يمثل تطور نمو السكان في الجزائر.

السنوات	1954	1966	1977	1987	1998	2009
عدد السكان	08.7	12	18.2	23	29.5	35

المطلوب: مثل ارقام الجدول بواسطة منحني بياني.

المقياس: 1 سم ← 2 مليون نسمة.

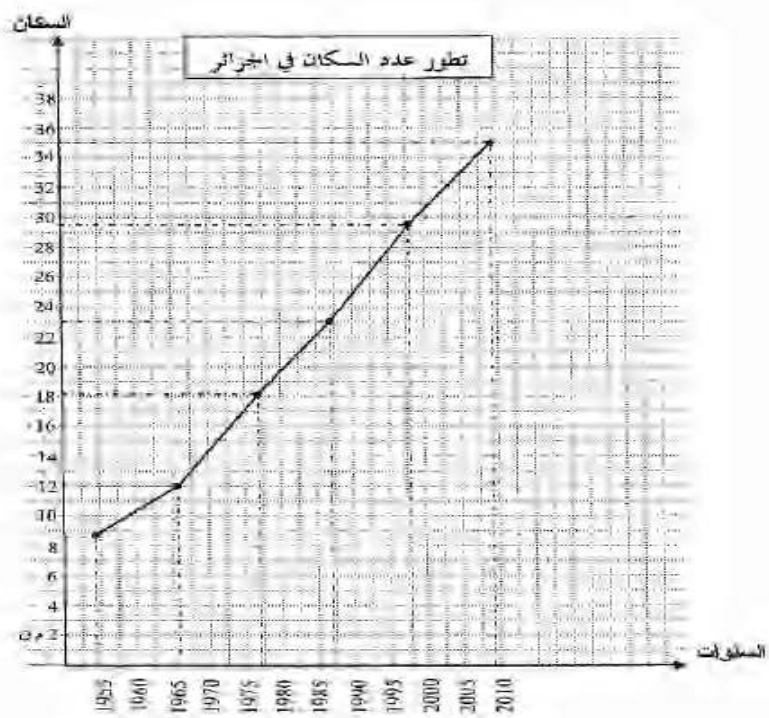
1 سم ← 5 سنوات.

س2) صنف الجبال الآتية حسب السلسلة الجبلية التي تنتمي إليها:  
- الأوراس - جبال جرجرة - جبال أولاد نايل - جبال الونشريس.

سلسلة الأطلس التلي	سلسلة الأطلس الصحراوي
.....	.....

## الإجابة النموذجية

ج1/ رسم المنحنى البياني:



ج2/ التصنيف في الجدول:

سلسلة الأطلس التلي	سلسلة الأطلس الصحراوي
جبال جرجرة - الونشريس	الأوراس - أولاد نايل



**الجزء الأول:**

س1) اشرح المصطلحات الآتية: -العرق -النزوح الريفي -الفيضانات -الميزان التجاري.

س2) انقل الشكل كما هو، ثم اربط بين (أ) وما يقابلها من (ب) بالأرقام.

(أ)	البترول	1
(ب)	الطفاء	2
المنطقة الثلجية	الكثافة السكانية المنخفضة	3
الإقليم الجنوبي	الكروم	4
منطقة حاسي مسعود		
الهضاب العليا		

**الإجابة النموذجية**

ج1/ شرح المصطلحات:

-العرق: الكثبان الرملية.

-النزوح الريفي: انتقال السكان من الريف إلى المدينة.

-الفيضانات: هي ظاهرة طبيعية تحدث على شكل طغيان الماء على اليابسة.

-الميزان التجاري: هو الفرق بين قيمة الصادرات وقيمة الواردات خلال سنة.

ج2/ الربط بين (أ) وما يقابلها من (ب) بالأرقام:

(أ)	البترول	1
(ب)	الطفاء	2
المنطقة الثلجية	الكثافة السكانية المنخفضة	3
الإقليم الجنوبي	الكروم	4
منطقة حاسي مسعود		
الهضاب العليا		

**الجزء الأول:**

اجب عما يلي:

س1) اشرح المصطلحات الآتية: الامن الغذائي -الكثافة السكانية -التضاريس -الموارد غير المتجددة.

س2) للمواصلات بمختلف أنواعها دور هام في تحقيق التنمية الاقتصادية في الجزائر.

**المطلوب:** حدد دورين (02) لهذا القطاع في التنمية الاقتصادية.

-اذكر إنجازين (02) مما حققته الجزائر في هذا القطاع.

**الإجابة النموذجية**

ج1/ شرح المصطلحات:

-الامن الغذائي: قدرة الدولة على توفير الغذاء لسكانها انتاجا او استيرادا.

-الكثافة السكانية: هي عدد السكان في الكيلومتر المربع الواحد.

-التضاريس: هي المظاهر الطبيعية والاشكال التي تبرز على سطح الأرض (الجبال، السهول... الخ

-الموارد غير المتجددة: هي الموارد القابلة للنفاذ مثل البترول... الخ

ج2/

\*دورين للمواصلات: تحقيق التكامل الاقتصادي -توفير مناصب الشغل -ربط مناطق الاستخراج بمناطق التصنيع والتسويق.

\*إنجازين حققتهما الجزائر في قطاع المواصلات:

-الطريق السيار شرق غرب. -توسيع مطار هواري بومدين وإنجاز مطارات أخرى. ميناء جن جن... الخ

**الجزء الأول:**

**الوضعية الأولى:** في ظل انهيار أسعار البترول اكدت الأبحاث والدراسات العلمية على أهمية الطاقة المتجددة. بين إمكانيات الدولة الجزائرية في هذا المجال (الطاقة المتجددة) مدعما اجابتك بأمثلة.

**الوضعية الثانية:** كيف يتم حساب ما يلي:

- الكثافة السكانية
- الزيادة الطبيعية
- المتوسط الحراري الشهري
- المدى الحراري.

**الإجابة النموذجية**

**الجواب عن الوضعية الأولى:**

**ج1/ إمكانيات الدولة الجزائرية في مجال الطاقة المتجددة مع الأمثلة:**

- الطاقة الشمسية يوجد ببلادنا حوالي 100 حقل شمسي في الشريط الساحلي و10 في الهضاب العليا و86 بالصحراء.
- الطاقة النووية السلام والنور في عين وسارة والجزائر العاصمة للاستعمال الطبي والصناعي والبحث العلمي ... الخ
- الطاقة الهوائية ... الخ

**الجواب عن الوضعية الثانية:**

**ج1/ الحساب:**

- الكثافة السكانية: عدد السكان على المساحة الاجمالية.
- الزيادة الطبيعية: عدد المواليد \_ عدد الوفيات (الفرق ناقص)
- المتوسط الحراري الشهري: المتوسطات الحرارية اليومية على عدد أيام الشهر.
- المدى الحراري: اعلى درجة حرارة \_ أدنى درجة حرارة.

**الجزء الأول:**

**السؤال الأول:** عرف المصطلحات التالية: -الحمادة -التجارة الخارجية -الانفجار الديمغرافي -الزحف العمراني.

**السؤال الثاني:** بما تفسر.

- تناقص كمية الامطار في الجزائر من الشمال الى الجنوب.
- اكتظاظ "تضخم" المدن الجزائرية.
- تذبذب الإنتاج الزراعي في الجزائر من سنة لأخرى.
- التصحّر خطر بيئي يهدد الاقتصاد.

**الإجابة النموذجية**

**ج1/ تعريف المصطلحات:**

- الحمادة: مساحة صحراوية مغطاة بالحجارة.
- التجارة الخارجية: هي المبادلات الخارجية للدولة مع الدول الأخرى (الصادرات والواردات)
- الانفجار الديمغرافي: هو الزيادة السكانية السريعة وفي وقت قصير.
- الزحف العمراني: هو توسع البناءات ومختلف المنشآت على حساب الأراضي الزراعية.

**ج2/ التفسير:**

- بسبب امتداد سلسلتي الاطلس التلي والصحراوي والقرب والبعد عن البحر المتوسط.
- بسبب النمو الديمغرافي الطبيعي والنزوح الريفي لتوفرها على مرافق الحياة.
- بسبب تذبذب تساقط الامطار وعدم انتظامها.
- لأنه يقضي على مساحات زراعية ورعوية واسعة.

**الجزء الأول:**  
**الوضعية الأولى:** بما تفسر كثافة الغطاء النباتي بالشمال الشرقي للجزائر.

**الوضعية الثانية:** اليك جدول تطور زراعة النخيل في الجزائر.

السنوات	1990	1995	1999
النخيل (مليون شجرة)	6.22	7.02	8.83

الكتاب المدرسي ص78

1- مثل الجدول بمنحنى بياني بمقياس رسم 1سم = 02 مليون شجرة.  
2- ماذا تستنتج؟

**الوضعية الثالثة:** شهدت الجزائر فيضانات خلال خريف 2018 هددت عدة مدن جزائرية.  
**التعليمة:** اقترح الإجراءات الوقائية لمواجهة مخاطر الفيضانات. (الاقتصار على ذكر إجراءين فقط)

### الإجابة النموذجية

**الجواب عن الوضعية الأولى:**

ج1/ التفسير:

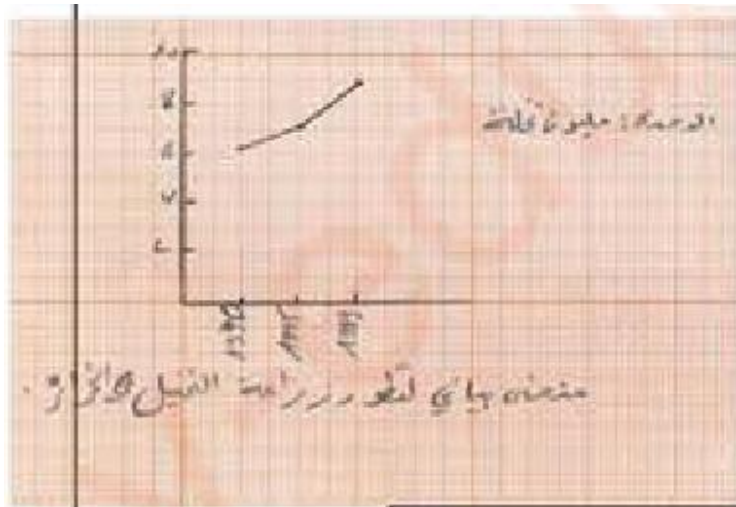
أفسره بكثرة التساقط في هذا الإقليم.

**الجواب عن الوضعية الثانية:**

ج1/ رسم المنحنى البياني:

الاستنتاج:

تطور زراعة النخيل في الجزائر  
بسبب اهتمام الدولة بالزراعة  
الصحراوية وتنمية المناطق  
الجنوبية.



منحنى بياني لتطور زراعة النخيل في الجزائر

**الجواب عن الوضعية الثالثة:**

ج1/ إجراءات وقائية لمخاطر الفيضانات:

- تطهير قنوات صرف المياه - حظر البقاء في المناطق المهدة بالفيضانات - تشجير المناطق المهدة بالفيضانات. - دور الأقمار الصناعية.