

الوضعية التعليمية القوة الاقتصادية الأمريكية وتأثيرها على الاقتصاد العالمي. من إعداد : أشكوة براهيم / عدد الحصص 5 / ترع 4 حصص

الكفاءة المستهدفة : أن يكون المتعلم قادرا على اكتشاف عوامل القوة الاقتصادية للوم أ و إبراز تأثيرها على الاقتصاد العالمي. الإشكالية : تتصدر الوم أ الترياد و مجموعة ال 7 ما يفسر وجود دعائم لهذه القوة الاقتصادية العالمية فماهي العوامل ، مظاهر القوة و تأثيرها على الإقتصاد العالمي ؟

التعليمات	الموارد المستهدفة	السندات	الزمن	الادعاءات و النشاطات	المنتج الانتقالي	تقويم مرحلي	تقويم لاصفي
تقويم تشخيصي : من الخريطة المرفقة بين مفهوم القوى الاقتصادية ؟	الموارد المستهدفة: القطب الاقتصادي / التهيئة الإقليمية ، معايير تصنيف الإقليم ، النطاقات الزراعية ، الإستثمار ، الإستقطاب ، الميقالوبوليد	خريطة الوم.أ / الطبيعة الية الوثائق	45د	حيوية الوسط الطبيعي والبشري	حيوية الوسط الطبيعي : * إتساع المساحة الإجمالية 9 مليون ما يقارب مساحة أوروبا - دولة قارة - * الإشراف على مسطحات هامة (المحيط الهادي و الأطلسي - * وفرة الشبكة المائية - البحيرات الخمس و الانهار ميسيسيبي و ميسوري . * طول السواحل ما أدى إلى وفرة الخلجان (بناء الموانئ) * وفرة الثروات الباطنية و السطحية (الطاقة : فحم + بترول + غاز + الكهرباء ، الخشب ، و معادن أخرى . * تنوع الأقاليم المناخية ادى إلى تنوع المحاصيل الزراعية . * * التنوع المورفولوجي لمظاهر سطح الولايات المتحدة الأمريكية	تقويم مرحلي : 1- التحديات التي تواجه الإقتصاد الأمريكي 2- التوقع على	التعرف على المصطلحات عن بعد : * 1 التعليق على البطاقة التقنية للوم أ 2- استخلاص مظاهر القوة الاقتصادية الأمريكية

حيوية الوسط البشري

<p>الخريطة الأقاليم الإقتصاد ية</p>	<p>ج-البشرية * وفرة اليد العاملة المؤهلة ذات المهارة العالية * الاستفادة من الأدمغة المهاجرة من كل دول العالم * رؤوس الأموال : ضخامة و كثافة استثماراتها داخليا و خارجيا . * تنوع وضخامة شبكة المواصلات. * الاهتمام بالبحث العلمي و التكنولوجي * طبيعة النظام الرأسمالي و قوة التركيز المالي</p>	<p>45</p>	<p>+</p>	<p>المرفقات الخرائط</p>	<p>س ، منطقة ألينا</p>	
	<p>* تذكرة بالعوامل: تاريخية * الأمن و الاستقرار السياسي الذي تتمتع بمها اليوم أ * الاستفادة من سياسة العزلة (مبدأ مونرو 1823) * الاستفادة من الحربين العالميتين الأولى و الثانية</p>	<p>خصوصيات الأقاليم الاقتصاد ية في الوم أ</p>		<p>الوثائق</p>		
	<p>- الإقليم الشمالي الشرقي :- القلب النابض للاقتصاد الأمريكي : * يشغل نسبة 12 % من المساحة الكلية ويضم 48% من سكان الوم.أ * يقدم 50% من الإنتاج الصناعي. * يستقطب أكثر من 50% اليد العاملة * إقليم زراعي هام :- نطاقات زراعية مثل الذرة- القمح- الخضر و الفواكه - تربية الحيوانات " مملكة الألبان " ، و مطمورة الحبوب . * يعتبر أكبر الأقاليم وينقسم إلى ثلاثة مناطق وهي - 1*توجد به أكبر الموانئ الواجهة الأطلسية و البحيرات للنقل الداخلي 1 - تجمع المدن الكبرى (ميقالو بوليس) أهم مدنها : واشنطن. فيلادلفيا به صناعة صناعة السيارات الحديد والصلب البيترو كيمياوية السفن 2- البحيرات العظمى (شيكاجو-ديترويت) به صناعة السيارات الحديد</p>	<p>أ- إقليم الشمالي الشرقي ب- إقليم الجنوبي</p>	<p>391 ص 56 الفقرة + الصورة ص 54 الصورة والخرطة</p>	<p>45</p>	<p>أبرز خصوصيات الأقاليم الاقتصادية</p>	

		<p>والصلب الورق الصناعة الغذائية 3- نيوانجلند(بوسطن .نيويورك) به الصناعة الدقيقة .السيارات السفن البيترو كيمياوية الإقليم الجنوبي :- * مملكة القطن إضافة إلى زراعات أخرى متنوعة خاصة النقدية منها : التبغ - قصب السكر- الصوجا - الأرز- تربية الحيوانات * يشتهر بالصناعة النسيجية(أطننا) و البترولية(تكساس ودالاس) والفضائية(فلوريدا) * به موانئ هامة مثل هوستن ونيو أورليانز * 38% سكان * 50% بتروكماويات * 45% صناعة الكترونية الإقليم الغربي : * إقليم حديث العهد (الإصلاحات الاقتصادية قصد استقطاب اليد العاملة ورؤوس الأموال لتحقيق توازن إقليمي) * إقليم زراعي مزدهر (زراعة متوسطة- قطن -حبوب تربية الحيوانات قصد اللحوم.) * إدخال صناعات حديثة مثل الصناعة السينمائية و الفضائية و الطائرات والإعلام الآلي والبرمجة * موانئ هامة مثل :سان فرانسيسكو- لوس أنجلس- سان ديبغو التقويم المرحلي I : التحديات التي تواجه الاقتصاد الأمريكي : ❖ المنافسة الخارجية الحادة الصين ن الإتحاد الاوروبي ، اليابان و الدول الصاعدة في آسيا ❖ عجز الميزان التجاري لإرتفاع الواردات الطاقوية</p>	<p>ص -55 56 ج-الإقليم الغربي</p>	<p>الخري طة ص 55 +الوثا نق ص -56 59</p>	<p>45</p>	
--	--	---	---	---	-----------	--

	<p>❖ الأزمات الإقتصادية ❖ عدم إستقرار صرف العملة ❖ تأثير المشاكل الإجتماعية او الإضطرابات ❖ جائحة كورونا وتداعياتها على الإقتصاد الامريكي ❖ الكوارث الطبيعية .</p> <p>○ ضخامة الإنتاج الزراعي و الصناعي و تنوعه . ○ قوة زراعية (أول منتج ومصدر) ○ قوة تجارية 12،4% عالميا ○ ضخامة الشركات الاحتكارية 19 شركة من أصل 20 شركة عالمية في المجال الصناعي. ○ كثرة استهلاكها للمواد الأولية(ربع الانتاج العامي للطاقة) نظرا لقوة التركيز الصناعي. ○ القوة المالية (تركز البورصات المالية).بورصة وول ستريت</p> <p>▪ احتكار الأسواق العالمية – منطقة ألينا . ▪ التواجد المكثف للشركات الاحتكارية في القارات ▪ استعمال الغذاء كسلاح للضغط على الأنظمة (السلاح الأخضر) ▪ الهيمنة على المؤسسات المالية والسياسية والاقتصادية ▪ فرض نظام العولمة الرأسمالية ، الحضارية بخدمة لمصالحها. ▪ الهيمنة على البحث العلمي والتكنولوجيا الجديدة مثل ميكروسوفت ▪ الهيمنة الإعلامية على وكالات الأنباء العالمية ▪ التحكم في أسعار المواد الأساسية (زراعية -صناعية)</p>	<p>مظاهر القوة الاقتصادية الأمريكية</p> <p>أثر قوتها على العلاقات الاقتصادية العالمية</p>	<p>45</p>	<p>الوثيقة ص 44 الجدو</p>	<p>تقويمات لاصفية</p>	
--	---	---	-----------	-----------------------------------	-----------------------	--

					ل ص 45 الوثيق ة ص 60		
					الوثيق ة-1 ص 60 الوثا ق ص 61		

علق على البطاقة التقنية المرفقة



صفحة الأستاذ شكوة براهم في مادتي
التاريخ و الجغرافيا

المساحة: 9.833517 كلم ²
المسكن : 331 ن / كلم 2 سنة 2019-
الكثافة: 325 ن/كلم ²
مؤشر التنمية البشرية : 0.936
أمد للحياة: 79 سنة
البطالة : 4.9%
النتاج المحلي للفرد : 65000 دولار
البطالة 3.2 %
الزراعة للطبيعية : 0.7%
قيمة الصادرات : 2308 مليار دولار
قيمة الواردات : 2925 مليار دولار
الميزان التجاري: -617 مليار دولار

صندوق النقد الدولي 2019

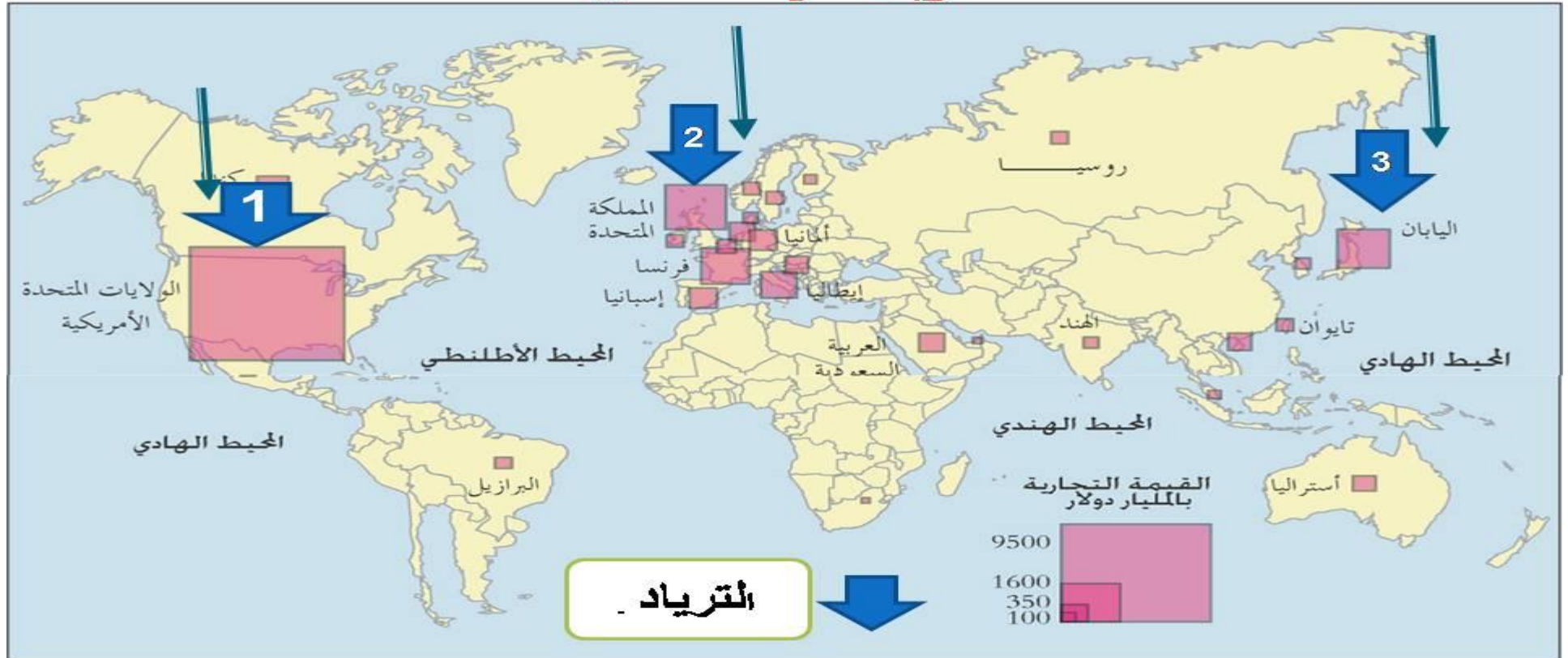
من السند 1 المرفق: ماذا تستنتج ؟



بلدان نامية ذات مؤشر تنمية متوسط	بلدان متقدمة أخرى	بلدان في طور الانتقال الاقتصادي	الثالث
معطيات غير متوفرة	البلدان الأقل تقدما	البلدان النفطية	بلدان صناعية جديدة
الخط الفاصل بين الشمال والجنوب	قوة اقتصادية عالية	قوة متوسطة	قوة عالمية عظمى
	قوة إقليمية	قوة في طور الانتقال	قوة عالمية بصد التكمين

صفحة الأستاذ شكوة براهيم في مادتي التاريخ و الجغرافيا

تعليمية: 2: حدد من السند المرفق 1+2: مدلول القوى الإقتصادية



الوحدة التعمية 2: القوى الإقتصادية الكبرى في العالم



الوضعية التعمية 1 : مصادر
القوة الإقتصادية الأمريكية و
تأثيرها على الإقتصاد العالمي

الإشكالية : تتصدر الو م أ مجموعة الترياد و
مجموعة ال7 بم تفسر ذلك ؟

من إعداد:
أ. شكوة براهيم

صفحة الأستاذ شكوة براهيم في مادتي
التاريخ و الجغرافيا

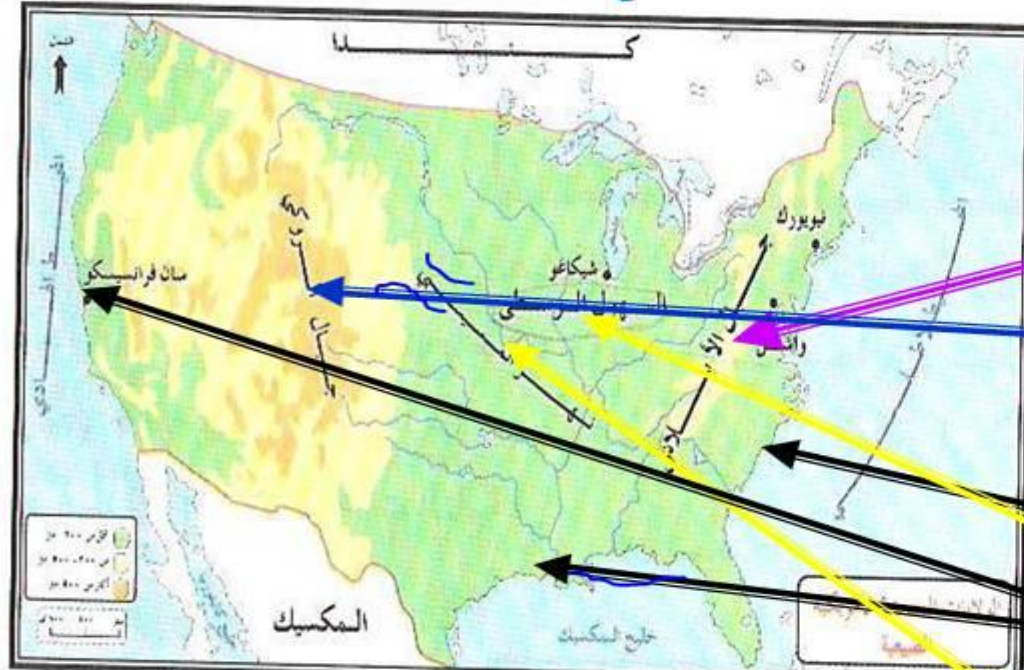
الولايات المتحدة الأمريكية



صفحة الأستاذ شكوة براهيم في مادتي
التاريخ و الجغرافيا

التعلمية : قيم الوسط الطبيعي للوم أ :

يتكون سطح الولايات المتحدة الامريكية من الأقسام التالية :



1- الجبال /

(أ) سلسلة جبال الأبلاتش في الشرق

(ب) سلسلة جبال الروكي في الغرب وهي اعلى المرتفعات في قارة امريكا الشمالية

2- السهول /

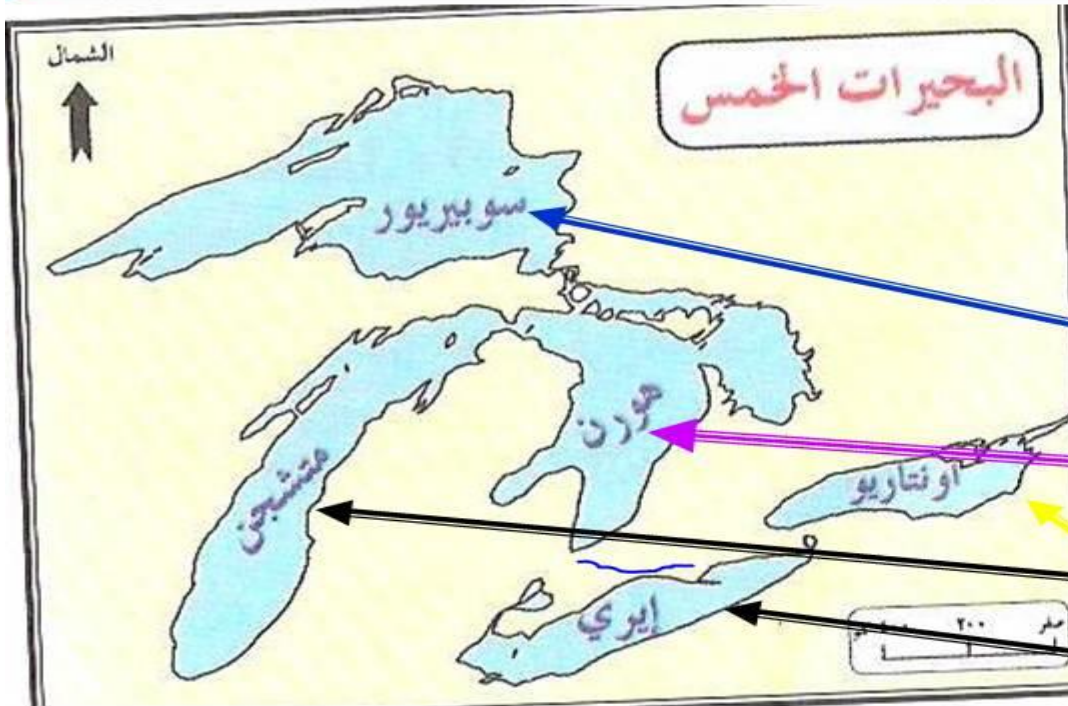
- وتنقسم إلى :

(أ) سهول ساحلية على امتداد السواحل (الشرقية والجنوبية والغربية)

(ب) سهول داخلية في الوسط ويجري فيها نهر المسيسيبي

صفحة الأستاذ شكوة براهيم في مادتي
التاريخ و الجغرافيا

تابع السطح:



3- منطقة البحيرات الخمس العظمى /

وتقع في الجزء الشمالي الشرقي , بينها وبين كندا والبحيرات هي :

(1) بحيرة سوپيريور

(2) بحيرة هورن

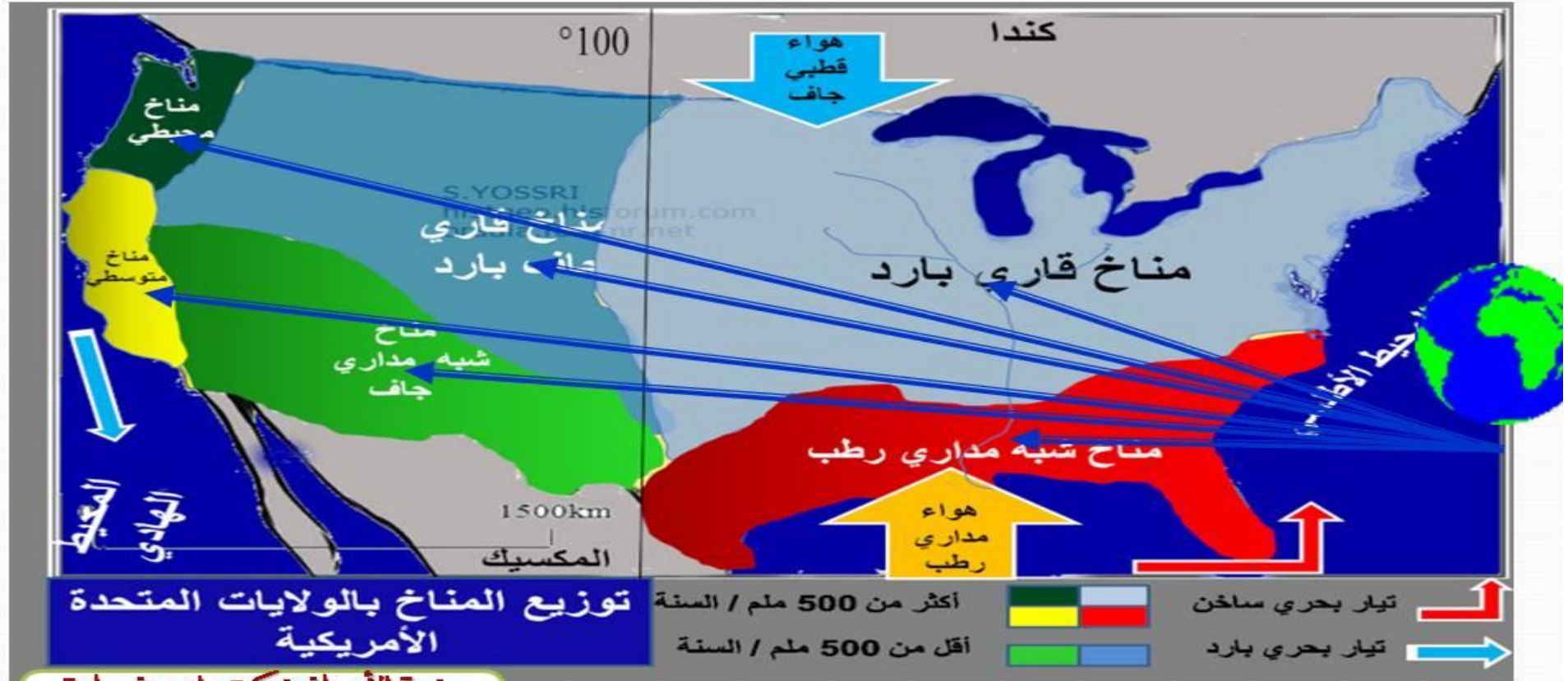
(3) بحيرة متشجن

(4) بحيرة إيري

(5) بحيرة اونتاريو

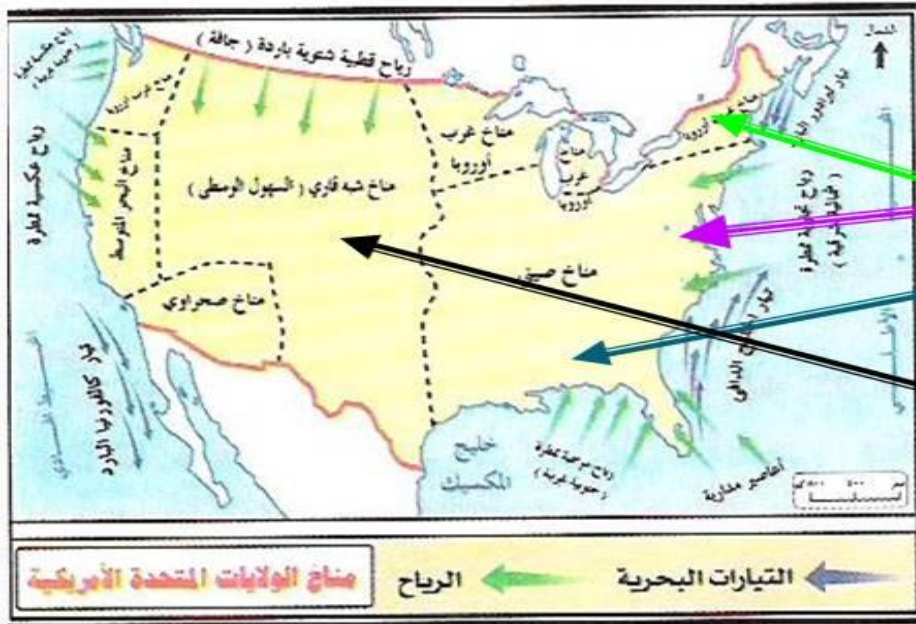
صفحة الأستاذ شكوة براهيم في مادتي
التاريخ و الجغرافيا

من السند ماذا تستنتج ؟



صفحة الأستاذ شكوة براهيم في مادتي
التاريخ و الجغرافيا

المناخ



لذا فالظروف المناخية فيها تختلف من منطقة إلى أخرى

(أ) الاجزاء الجنوبية والشرقية - يسودها المناخ الصيفي (دافئ ممطر)

(ب) الاجزاء الشمالية الشرقية طول العام - مناخ غرب أوروبا (معتدل صيفا بارد شتاء ممطر طول العام)

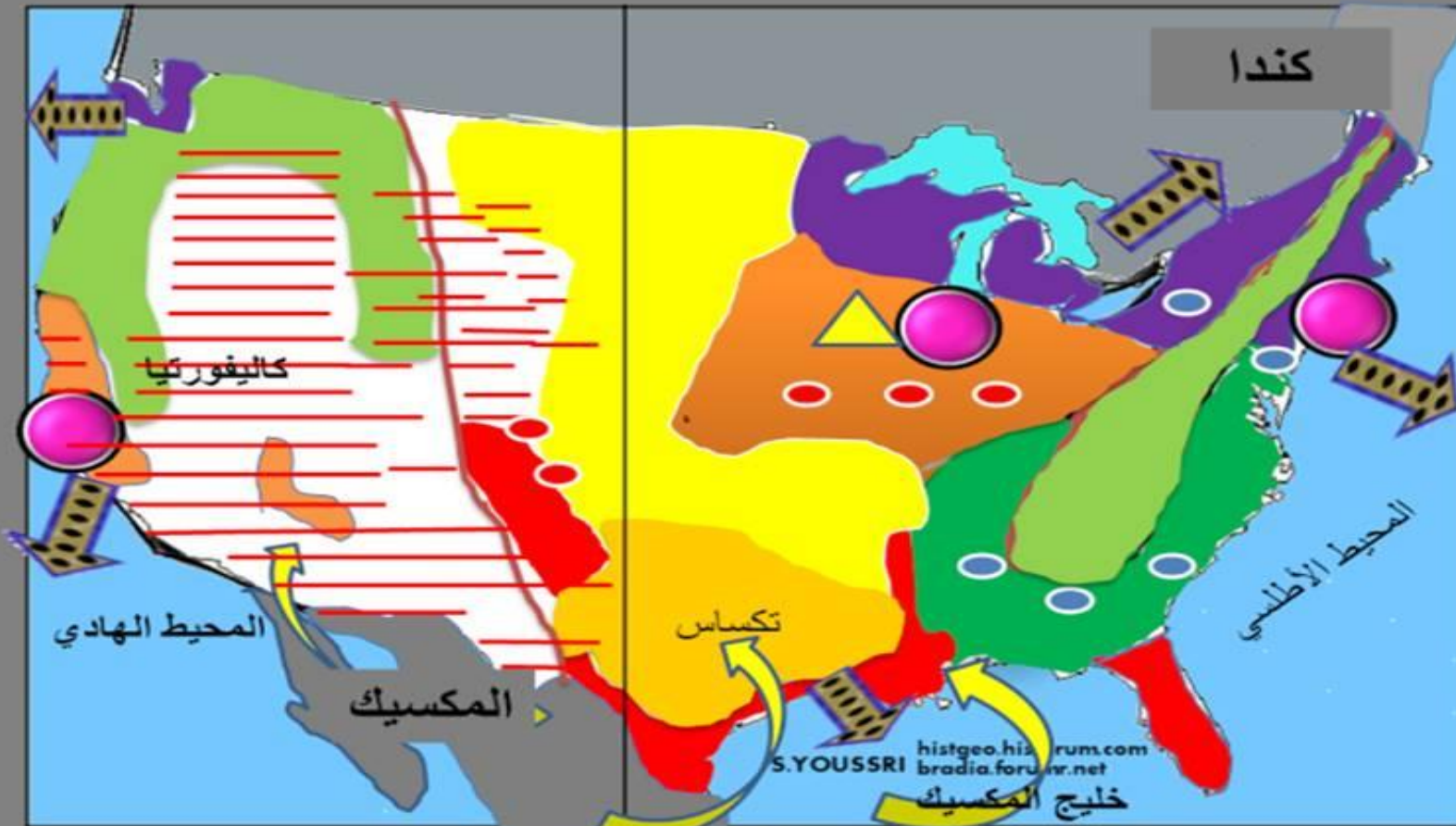
(ج) السهول الوسطى - مناخها شبه قاري (حار صيفا بارد شتاء وتكثر الامطار في الصيف)

صفحة الأستاذ شكوة براهيم في مادتي التاريخ و الجغرافيا

صفحة الأستاذ شكوة براهيم في مادتي
التاريخ و الجغرافيا

تنوع الأقاليم أدى إلى تنوع المحاصيل الزراعية

الفلاحة بالولايات المتحدة الأمريكية



النشاطات الفلاحية

- استغلاليات عائلية
- حول المدن (فواكه خضر..)
- زراعات متعددة المحاصيل
- الذرة والصوجا
- القمح و الذرة
- القمح و القطن
- زراعات راسمالية(فواكه خضر قصب السكر...)
- تربية كثيفة للمواشي
- تسمين الأبقار
- تربية الدواجن

عوامل التوطن

غابات

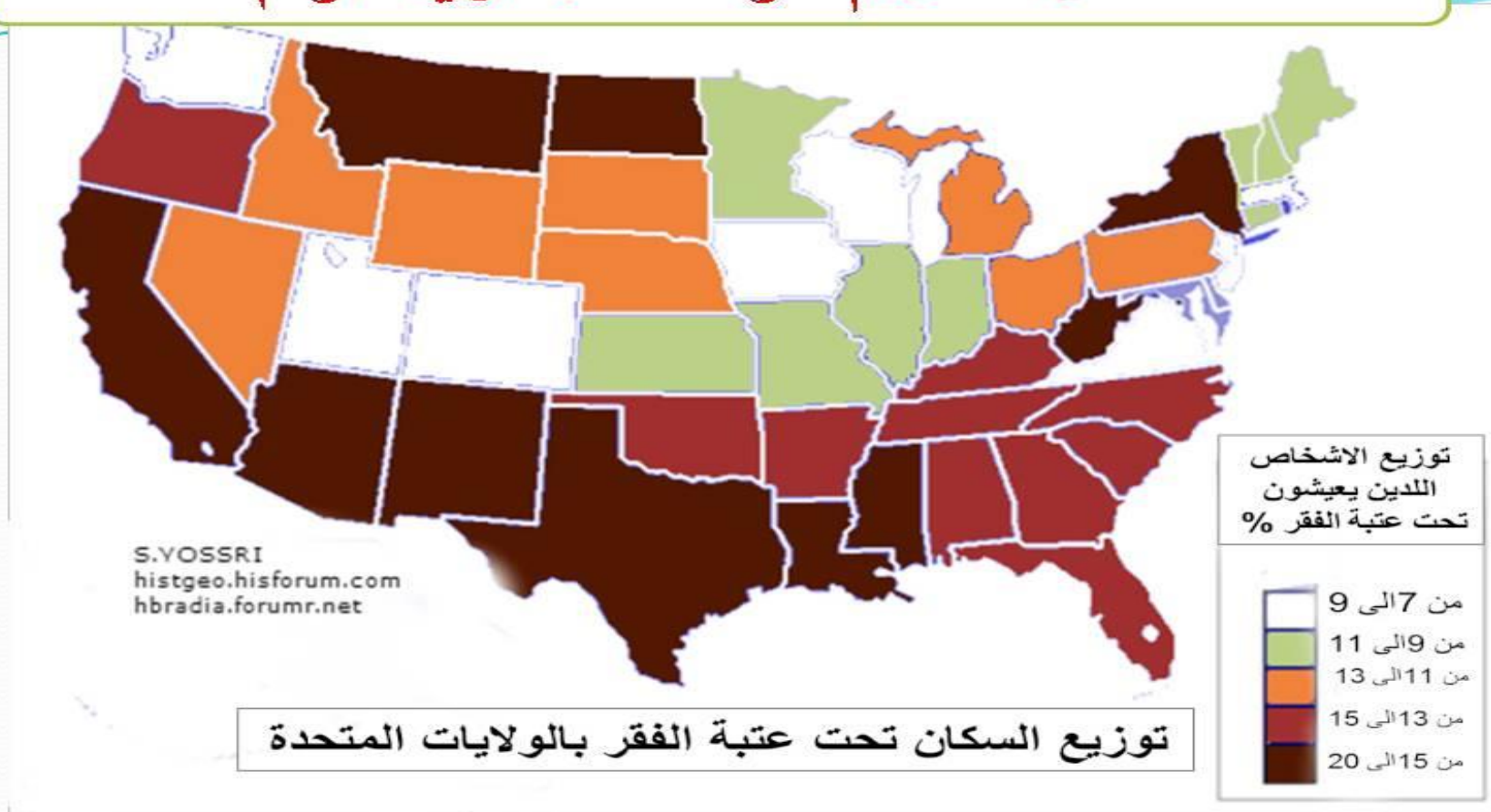
يدد عاملة مهاجرة

التصدير

سوق كبرى للقمح

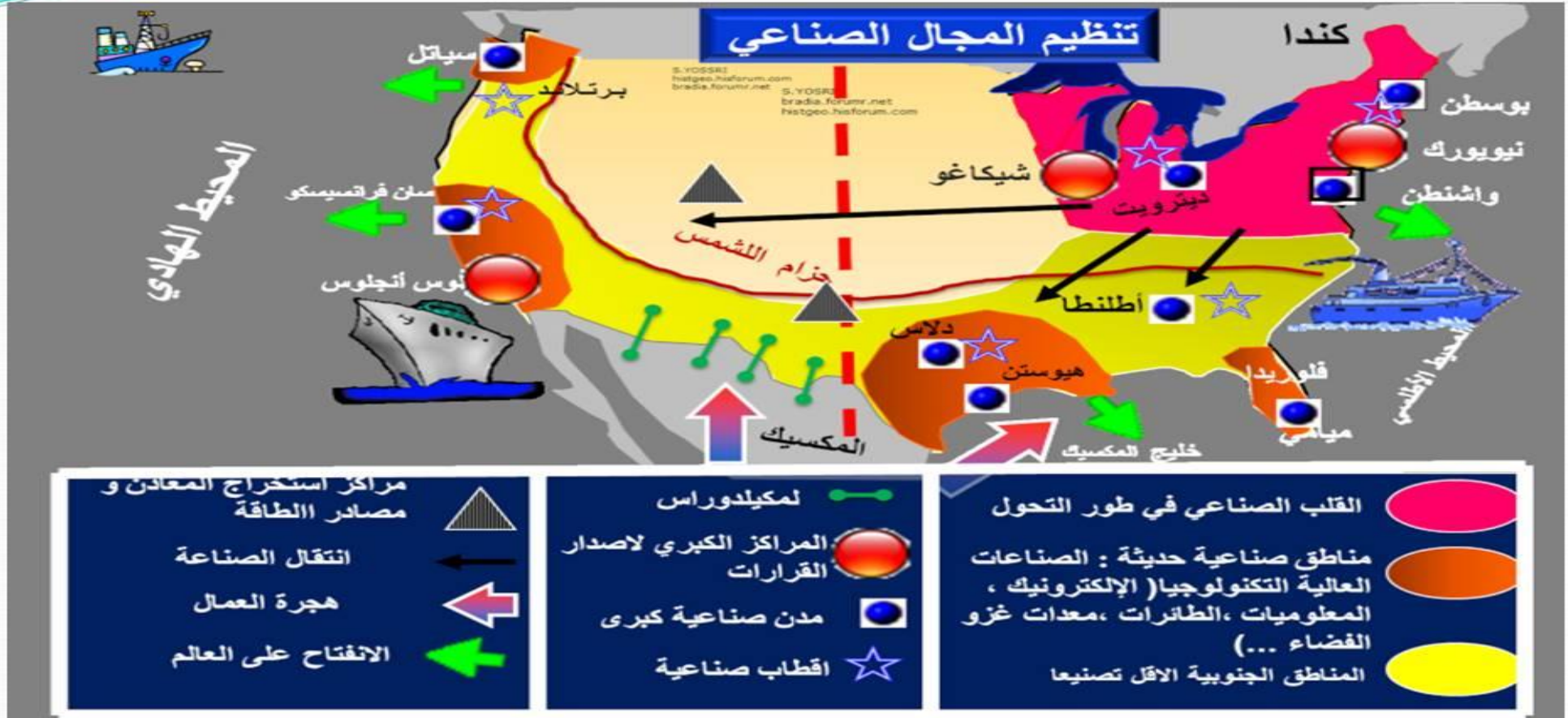
مراكز الاستهلاك

التعلمية : قيم الوسط البشري للوم ا



صفحة الأستاذ شكوة براهيم في
مادتي التاريخ و الجغرافيا

من السند شخص خصوصيات كل إقليم



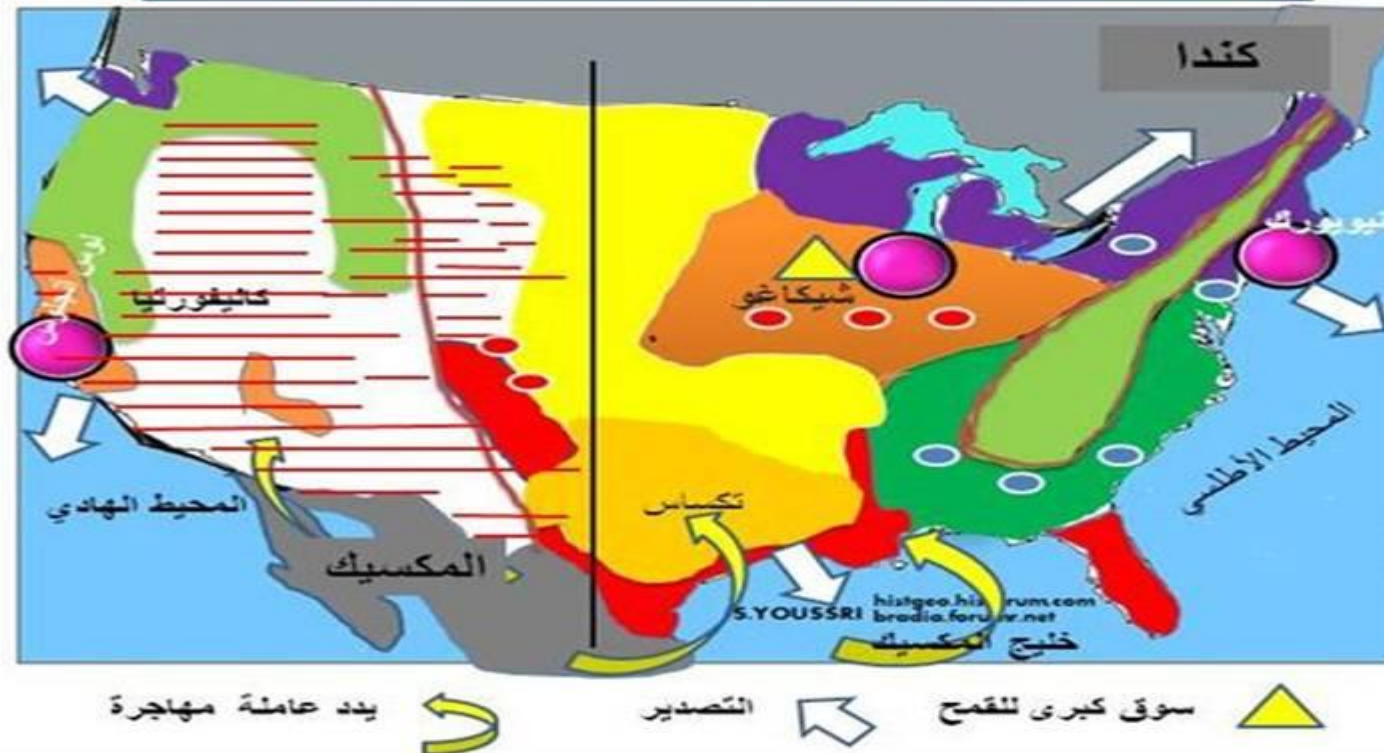
صفحة الأستاذ شكوة براهيم في مادتي
التاريخ و الجغرافيا

بقراءة عابرة للسند ماذا تستنتج ؟



بين من السند المرفق الطابع الزراعي لكل إقليم

الفلاحة بالولايات المتحدة الأمريكية



أدرس المميزات الصناعية لكل إقليم في الو م أ من السند المرفق



صفحة الأستاذ شكوة براهيم في مادتي
التاريخ و الجغرافيا

من السند المرفق بين خصائص كل إقليم



تقويم مرحلي : إستخلص المشاكل البيئية التي تواجه و م ا

