

التصحيح النموذجي

فرض محروس في مادة التكنولوجيا فرع : الهندسة الميكانيكية

الاسم و اللقب : القسم :

السؤال الأول :

اجب بوضع علامة (x) في المكان المناسب :

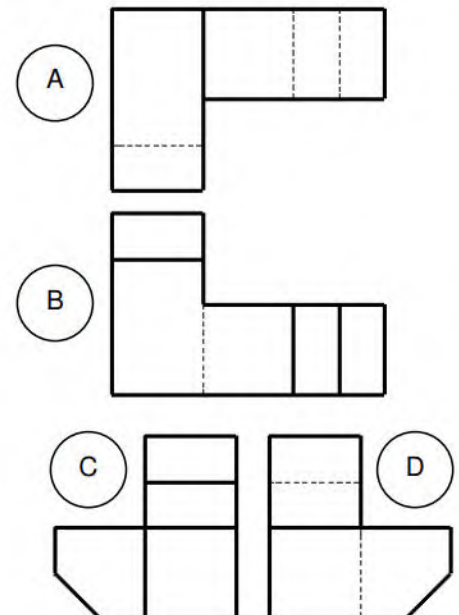
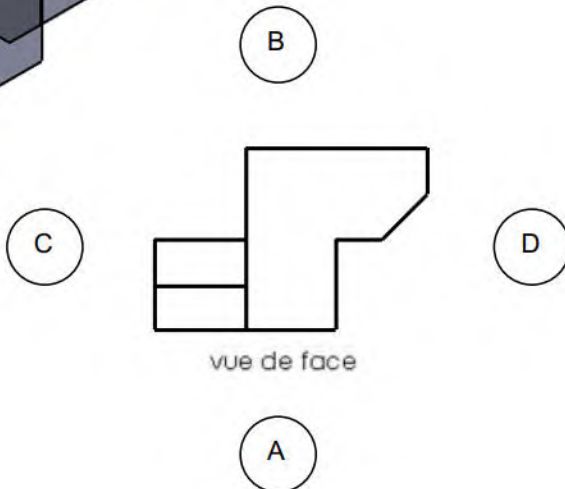
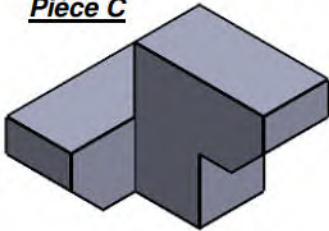
- | خاطئ | صحيح | |
|-------------------------------------|-------------------------------------|---|
| <input type="checkbox"/> | <input checked="" type="checkbox"/> | ● يبدأ المسعى التكنولوجي بالتعبير عن الاحتياج و ينتهي بتلبية الاحتياج |
| <input checked="" type="checkbox"/> | <input type="checkbox"/> | ● نقوم بتمثيل المسقط العلوي فوق المسقط الأمامي حسب الطريقة الأوروبية |
| <input checked="" type="checkbox"/> | <input type="checkbox"/> | ● تصنف المؤسسات حسب النوع الى مؤسسات كبيرة و صغيرة و ذات أسهم |
| <input checked="" type="checkbox"/> | <input type="checkbox"/> | ● تتم دراسة و انجاز و مراقبة المنتج في المصلحة التجارية |
| <input checked="" type="checkbox"/> | <input type="checkbox"/> | ● الرسم التقني وسيلة اتصال جميع العاملين في مجال التجارة العالمية |

السؤال الثاني : أتمم الجدول التالي

المقياس	نوع المقياس	البعد الحقيقي	البعد المرسوم
1:5	تصغيري	10	50
1:10	تصغيري	500	50
2:1	تكبير	100	200

السؤال الثالث : ضع الحرف المناسب في المكان المناسب لتحصل على توزيع المساقط الصحيح

Pièce C



السؤال الرابع : اعتمادا على منظور القطع اتمم رسم المساقط -

