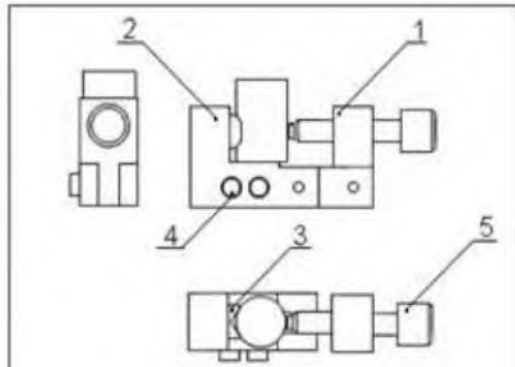


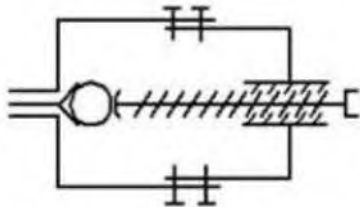
1 ج ع ت	اختبار مادة التكنولوجيا هندسة ميكانيكية	ثانوية : مبارك الملي - البليدة
		الاسم واللقب :



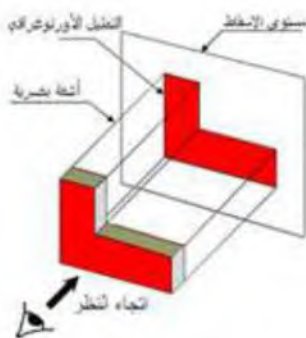
5	1	برغي تشغيل	C22
4	2	ساق	C22
3	1	محور	C22
2	1	جسم 1	S235
1	1	جسم 2	C22
رقم عدد	تعيينات	عامة	ملاحظات
			الاسم:
			التاريخ:
			الترقيم:
			المؤسسة:
			النسخة: 2:1

A

الشكل -01-



الشكل -02-



الشكل -03-

1 : ما اسم الرسم الممثل في الشكل -01- عرفه .

.....

2- الى ماذا تشير الحروف A ; B ; C مع شرح .

A:

B:

C:

3- ما هو عدد القطع لهذا الجهاز ؟ .

.....

4- هناك قطعة في الرسم لم ترقم . لماذا؟

.....

4- ما هو الفرق بين المقاس والمقياس؟ .

.....

5- ما اسم الرسم الممثل في الشكل -02- عرفه .

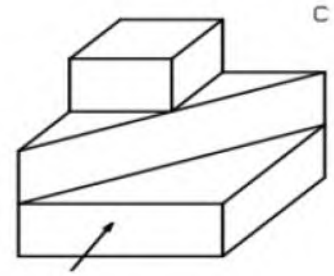
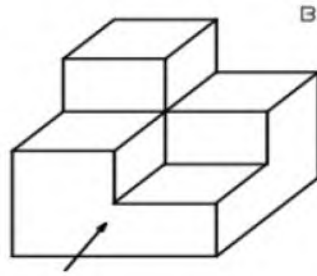
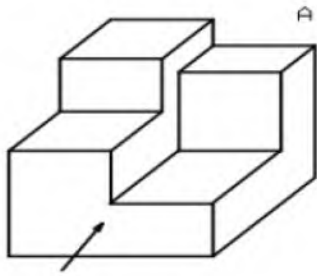
.....

6 – عرف التمثيل الأرتوغرافي : (الشكل -03-) .

.....
.....
.....

7- حسب جهة النظر المشار إليها بالحروف: A ، B ، C على المنظورات

* لون المساقط - الأمامي - الجانبي الأيمن - العلوي بألوان مختلفة. ثم أتمم الجدول .



1	2	3	4	5	6	7	8
9	10	11	12	13	14	15	16

المسقط الجانبي الأيمن	المسقط العلوي	المسقط الأمامي	
			A
			B
			C

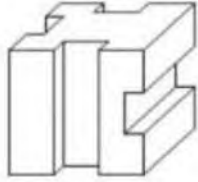

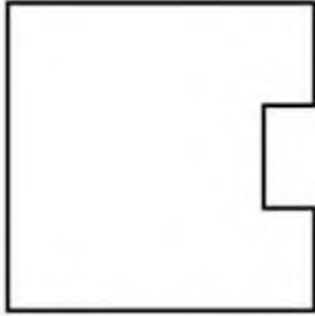
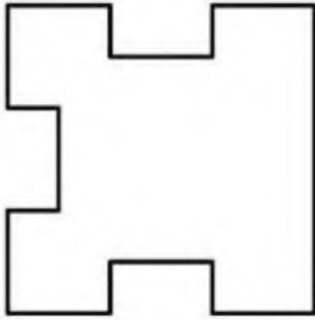
8- لإنجاز الرسومات التقنية نستعمل مجموعة من الخطوط لكل منها دلالة خاصة . أتمم الجدول أدناه .

اسم الخط	التمثيل	الاستعمال

- أكتب أسماء المساقط .

.....

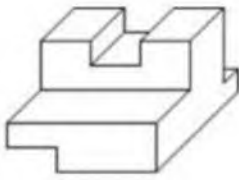
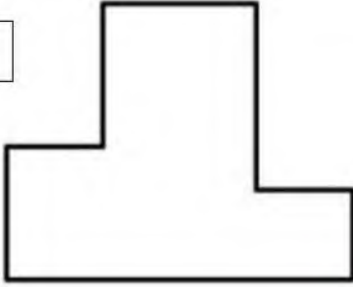


.....

.....

.....

.....

.....

.....

