

1 ج ع ت ...

اختبار مادة التكنولوجيا
هندسة ميكانيكية

ثانوية : مبارك الملي

بوينان - البلدية -

الاسم واللقب :

التاريخ :

*- يمثل الشكل -02- رسم لجهاز يستعمل لتفكيك سلسلة

الدراجة الهوائية لإعادة إصلاحها .

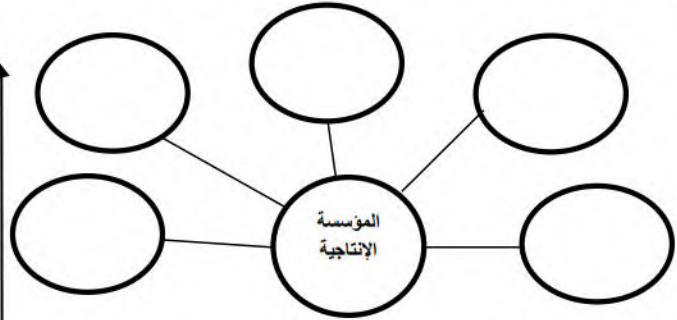
يصنع هذا المنتج في مؤسسة ذات طابع انتاجي .

ولتكون هذه المؤسسة ناجحة وتضمن استمراريتها يجب

أن تتوفر لها مجموعة من العوامل الاقتصادية .

(س1) عرف مؤسسة .

(س2) أتمم مخطط العوامل الاقتصادية التالي .

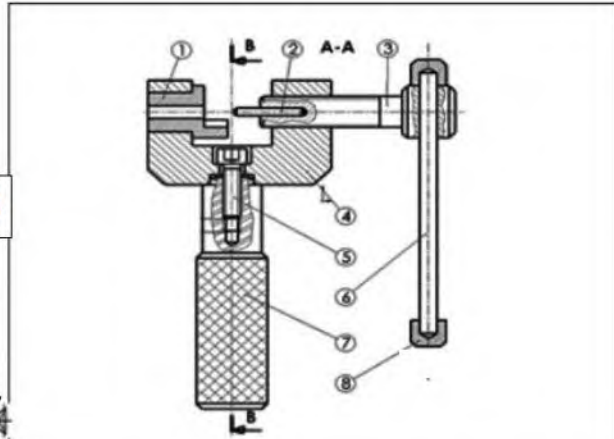


(س3) ما اسم الرسم الممثل في الشكل -01- عرفه .

(س4) ما هو عدد المساقط في الشكل -01-؟

(س5) ما هو عدد القطع للمنتج الممثل في هذا الرسم؟

(س6) الى ماذا يشير كل من الحرف A . B . C .؟ (تعريف) .




الرقم	العدد	التعيينات
8	2	لحاف التوقف
7	1	مقبض
6	1	معدنية
5	1	برغي
4	1	حامل
3	1	برغي التحكم
2	1	ظفر البرشام
1	1	حامل المسطرة

الاسم:	اللغة:
.....	Ar
اللقب:	00
الرقم:	6/5

مقياس: 1/1

تقوية:

الشكل - 01 -



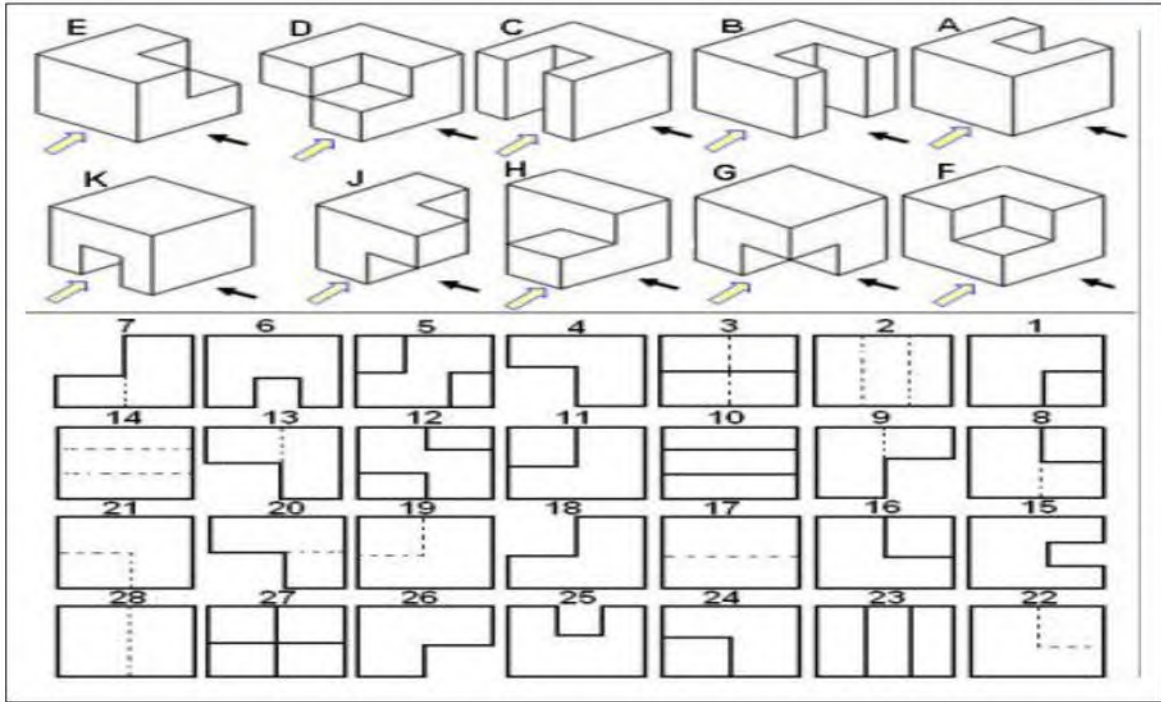
الشكل - 02 -

A
B
C


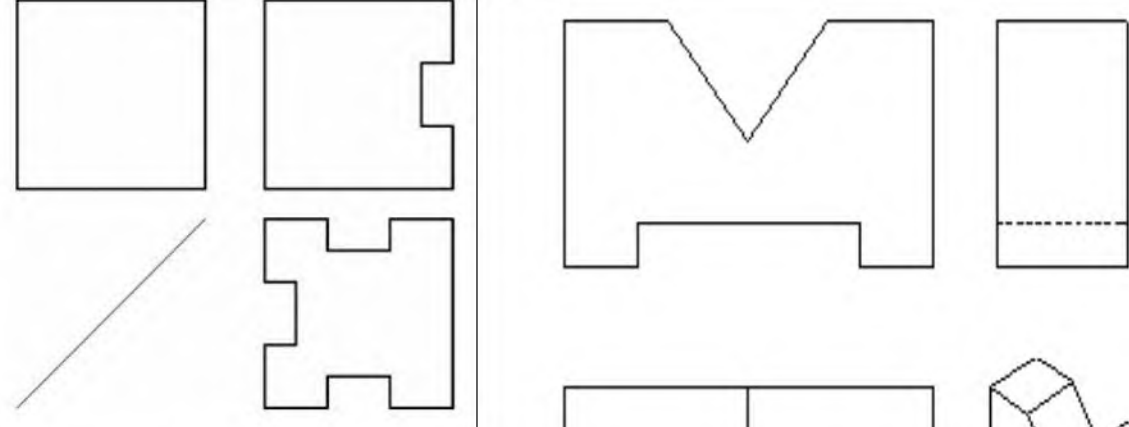
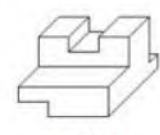
(س7) ما هو الفرق بين المقاس والمقياس؟

س8) أكمل الجدول أدناه بتحديد رقم المسقط المناسب (هناك سهمين كل منهما يوضح وضعية مشاهد).

K	J	H	G	F	E	D	C	B	A	
										↖
										↙



س9) أتم رسم المساقط الناقصة في كل حالة من الحالات التالية . (A , B c) .

 <p>الشكل A</p>	
 <p>الشكل B</p>	