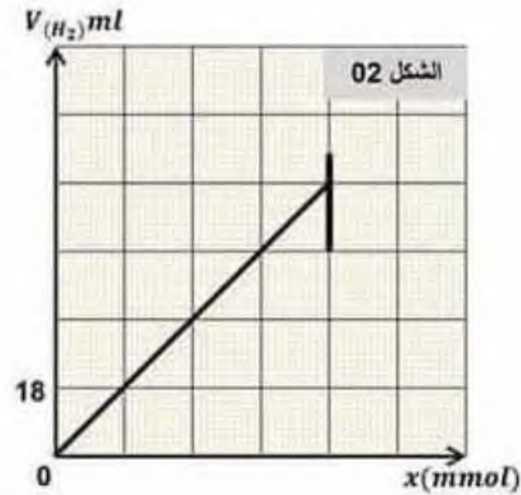
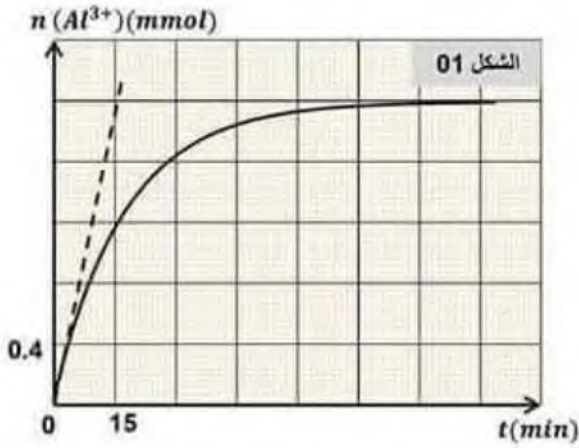


امتحان الثلاثي الأول في مادة العلوم الفيزيائية

التمرين الأول :

التحول الكيميائي الحادث بين معدن الألمنيوم $(Al)_{(s)}$ و محلول حمض كلور الهيدروجين $(H_3O^+ + Cl^-)_{(aq)}$ تحول تام و بطيء ندخل في اللحظة $t = 0$ كتلة قدرها $m_0 = 270mg$ من معدن الألمنيوم في بيشر يحتوي على حجم قدره $V = 100 ml$ من محلول حمض كلور الهيدروجين تركيزه المولي C_0 . المتابعة الزمنية لهذا التحول مكنتنا من رسم المنحنيين البيانيين $V(H_2) = f(t)$ و $n(Al^{3+}) = g(x)$ المبينين في الشكل (01) و الشكل (02).



1- اكتب معادلة التفاعل المنمذج للتحول الكيميائي الحادث .

2- أنشئ جدولاً لتقدم التفاعل، ثم حدد قيمة التقدم الأعظمي x_{max} .

3- جد قيمة التركيز المولي C_0 لمحلول حمض كلور الهيدروجين .

4- بين أنه عند اللحظة $t = t_{1/2}$:

$$n_{Al^{3+}}(t_{1/2}) = \frac{n_f(Al^{3+})}{2}$$

نصف التفاعل

5. (أ) حدد سلماً لمحور فواصل الشكل 02. (ب) أثبت أن حجم غاز ثنائي

الهيدروجين (H_2) عند اللحظة t يعطى

$$V_2(t) = 3 \cdot V_M \cdot x(t)$$

ثم جد قيمة V_M الحجم المولي للغازات .

6- بين أن عبارة السرعة الحجمية

للتفاعل هي : $V_{vol} = \frac{1}{2V} \frac{dn_{Al^{3+}}(t)}{dt}$ ، ثم أحسب قيمتها الأعظمية .

7- نعيد نفس التجربة السابقة ولكن نغير فقط في قيمة التركيز المولي

لحمض كلور الهيدروجين

$$C_1 = 9 \cdot 10^{-2} mol \cdot l^{-1}$$

أرسم في نفس المعلم المنحنى البياني المتحصل عليه .

التمرين الثاني :

تسقط كرة مطاطية صغيرة متجانسة حجمها $V = 1.13 \times 10^{-4} m^3$ و كتلتها الحجمية $\rho = 88.5 Kg.m^{-3}$ شاقوليا في الهواء عند اللحظة $t=0$ دون سرعة ابتدائية من النقطة O مبدأ الفواصل الواقعة ارتفاع $h = 17.6 m$ عن سطح الأرض . معطيات الكتلة للهواء $\rho_0 = 1.3 Kg.m^{-3}$ ، شدة الجاذبية الأرضية $g = 9.8 m.s^{-2}$

و لدراسة حركة الكرة اختار معلما خطيا (\vec{Oz}) محور شاقولي موجه نحو الأسفل مرتبط بمرجع سطح أرضي الذي نعتبره عطاليا ، أنظر الشكل 6.

تخضع الكرة أثناء سقوطها لدافعة أرخميدس \vec{P} و كذلك لقوة احتكاك $\vec{f} = -k\vec{v}$ حيث k ثابت موجب، و v سرعة مركز عطالة الكرة .

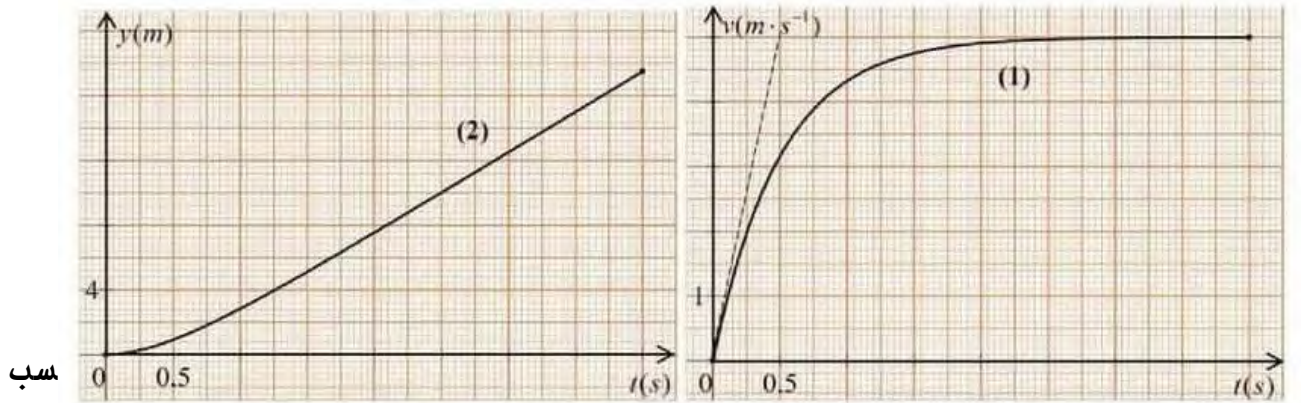
1- احسب النسبة $\frac{P}{mg}$ و بين أنه يمكن إهمال الدافعة \vec{P} أما ثقل الكرة \vec{P}

2- مثل القوى المطبقة على الكرة خلال سقوطها .

3- اكتب المعادلة التفاضلية التي تحققها السرعة v بدلالة : k , g , ρ , V

4- استنتج عبارة السرعة الحدية للكرة v_{lim} .

5- بواسطة التصوير المتعاقب و استعمال برمجة مناسبة تمكن من الحصول على المنحنيين (1) و (2) الممثلين في الشكل 7 التطور الزمني لكل من الفاصلة $y(t)$ و سرعة مركز عطالة الكرة $v(t)$ أثناء السقوط .



الشكل 7

5.5- احسب معامل توجيه المماس للمنحني (1) في اللحظة $t=0$ و ماذا يمثل فيزيائيا ؟

4.5- عين بيانيا المدة الزمنية للسقوط .

5.5- ما هي مدة كل من النظام الانتقالي و النظام الدائم ؟

6.5- تأكد من قيمة السرعة الحدية من المنحني (2) .