

# الجمهورية الجزائرية الديمقراطية الشعبية

وزارة التربية الوطنية

مديرية التربية لولاية سطيف

ثانوية الاخوين حوفي -العلمة

الأربعاء 17 ماي 2023

امتحان في البكالوريا التجريبية

المدة: 08.00 سا الى 12.30 سا

الشعبة: آداب وفلسفة

## اختبار في مادة التاريخ والجغرافيا

على المترشح ان يختار أحد الموضوعين الآتيين:

### الموضوع الأول

يحتوي الموضوع الأول على 03 صفحات (من الصفحة 1 من 6 الى الصفحة 2 من 6 والخريطة صفحة 5)

التاريخ:

الجزء الأول: (06 نقاط)

1) "... ولكن الهزيمة العسكرية المهينة التي تلقاها الاستعمار الفرنسي في "ديان بيان فو" لم تكن سوى مرحلة في الكفاح الطويل والشاق ضد الإمبريالية، فمنذ الخمسينيات بدأت الولايات المتحدة الأمريكية تتدخل بطريقة مباشرة وغير مباشرة في الفيتنام، كما استعملت حلف جنوب شرق اسيا والمشاريع الأخرى لخلافة الاستعمار الفرنسي..."

المرجع: الثورة الجزائرية معطيات وتحديات (ص 165) محمد العربي ولد خليفة.

المطلوب: اشرح ما تحته خط في النص.

2) على خريطة العالم المرفقة وقع الدول الواردة في النص أعلاه. (الخريطة صفحة 05)

3) أكمل الجدول التالي:

التاريخ	الحدث
.....	صدور دستور الجزائر (القانون الخاص)
15 نوفمبر 1988	.....
.....	حل حلف وارسو

الجزء الثاني: (04 نقاط)

السياسة الخارجية للجزائر بعد الاستقلال كانت استمرارا للنهج التحرري، وتجسيدا لمواثيق الثورة التحريرية.

المطلوب: انطلاقا من الفقرة واعتمادا على مكتسباتك القبلية، اكتب مقالا تاريخيا تبرز فيه:

1- المبادئ التي قامت عليها السياسة الخارجية للجزائر بعد الاستقلال.

2- مظاهر تجسيد هذه المبادئ فعليا.

## الجغرافيا:

### الجزء الأول: (06 نقاط)

1) "... اضطرت أغلب البلدان النامية منذ أواسط الثمانينيات على قبول وصفة صندوق النقد الدولي نتيجة اخفاق نماذج التنمية... ويستند البنك العالمي الى دول الآسيان وما حققته من نجاح اقتصادي ليقنع بلدان الجنوب بمزايا الانفتاح. كما تعمل البلدان المتقدمة وشركاتها العابرة للأقطار عن طريق المنظمات الدولية على اقناع بلدان الجنوب بمزيد من الانخراط في العولمة للاستفادة من مزاياها..."

المصدر: المجال العالمي/ كتاب الجغرافيا للسنة الرابعة ثانوي: الجمهورية التونسية ص 88.

المطلوب: اشرح ما تحته خط في النص.

2) إليك جدولاً يمثل نسبة مساهمة بعض القوى الاقتصادية في التجارة العالمية عام 2018.

النسبة %	نسبة الصادرات	نسبة الواردات
التينيات الآسيوية	% 9.7	% 9.1
النمور الآسيوية	% 3.9	% 3.6

المصدر: منظمة التجارة العالمية (O.M.C) المركز العالمي للتجارة. عام: 2019.

المطلوب: أ) مثل المعطيات الإحصائية الواردة في الجدول بأعمدة بيانية في معلم واحد. بمقياس:

01 سم = 1% ----- 01 سم = سمك العمود.

ب) علق على الرسم البياني.

### الجزء الثاني: (04 نقاط)

تتمتع البلدان الغنية بمستوى عالي من التطور التكنولوجي، اما البلدان الفقيرة فهي تعاني من انخفاض هائل في القدرات التكنولوجية، ولا تنفق سوى القليل في مجال البحث والتطوير.

المطلوب: انطلاقاً من العبارة واعتماداً على ما درست، اكتب مقالا جغرافيا تبين فيه:

1) عوامل عدم تحكم دول الجنوب في التكنولوجيا.

2) أثر ذلك على واقعها الاقتصادي والاجتماعي.

----- انتهى الموضوع الأول -----

## الموضوع الثاني

يحتوي الموضوع الثاني على 03 صفحات (من الصفحة 3 من 6 الى الصفحة 4 من 6 والخريطة صفحة 06)

### التاريخ:

#### الجزء الأول: (06 نقاط)

(1) .. ففي الميدان الداخلي تمثلت سياسة ديغول في التعبئة ضد جيش التحرير وفي نفس الوقت تضاعفت فيه مراكز التجميع، وبلغت السياسة أوجها مع برنامج شال الذي كان يهدف الى سحق مراكز جيش التحرير والمجاهدين بواسطة تنظيم عمليات هجومية برية وجوية منسقة... وفي الميدان الخارجي نشطت الدبلوماسية الفرنسية معتمدة على عرض سلم الابطال الذي قدمته في شكل عرضي تفاوضي حتى تظهر جبهة التحرير في مظهر المتهرب من التفاوض..."

المرجع: الجزائر في مرآة التاريخ، عبد الله شريط ومحمد الميلي، مكتبة البعث، ص 233.

المطلوب: اشرح ما تحته خط في النص.

(2) عرف بالشخصيات التالية: -مصالي الحاج - بريجنيف ليونيد - جوزيف بروز تيتو

(3) أكمل الجدول التالي:

التاريخ	الحدث	النتيجة او الانعكاس
09-05 سبتمبر 1973	.....	.....
.....	مؤتمر مالطا	.....

#### الجزء الثاني: (04 نقاط)

إذا كان الصراع بين الشرق والغرب قد حول العالم الثالث إلى مسرح لبؤر التوتر، فإنه كان فرصة للحركات التحريرية والشعوب الضعيفة أن تسترد استقلالها السياسي.

المطلوب: انطلاقا من العبارة، وبالاعتماد على ما درست، اكتب مقالا تاريخيا تبرز فيه:

1-مدى استفادة شعوب العالم الثالث من هذا الصراع.

2-مظاهر التبعية لمرحلة ما بعد الاستقلال في افريقيا وآسيا.

## الجغرافيا:

### الجزء الأول: (06 نقاط)

1) تحتل الولايات المتحدة الأمريكية قلب العالم بفضل واجهاتها البحرية الثلاث، التي تدفعها الى التعامل على حد سواء مع أوروبا والقوى الصاعدة بالمحيط الهادئ، وفي حين تمكنها سواحلها المطل على بحر الكاريبي من الانفتاح على أمريكا اللاتينية، وليس من باب الصدفة ان تكون الأقاليم الساحلية هي الأكثر حيوية. فالمبغلوبوليس مفتحة على المحيط الأطلسي، وكاليفورنيا تمثل واجهة تقابل مزدوج مع جنوب شرق اسيا وأمريكا اللاتينية...

المصدر: دورال، مصادر القوة الأمريكية. 2015.

المطلوب: اشرح ما تحته خط في النص.

2) اليك جدولاً يمثل التوزيع الجغرافي لصادرات الجزائر خارج المحروقات حسب الدول المستوردة سنة 2014

الدول	هولندا	اسبانيا	فرنسا	إيطاليا	بريطانيا	باقي العالم
النسبة %	38.48	19.83	23.48	6.11	3.87	8.23

المصدر: <https://www.asip.cerist.dz/en/downArticle/195/8/1/97405>

أ- حول معطيات الجدول الى دائرة نسبية نصف قطرها 04 سم.

ب- على خريطة أوروبا المرفقة وقع الدول الموقعة على معاهدة روما 1957 الواردة في الجدول.

الخريطة في الصفحة 06

### الجزء الثاني: (04 نقاط)

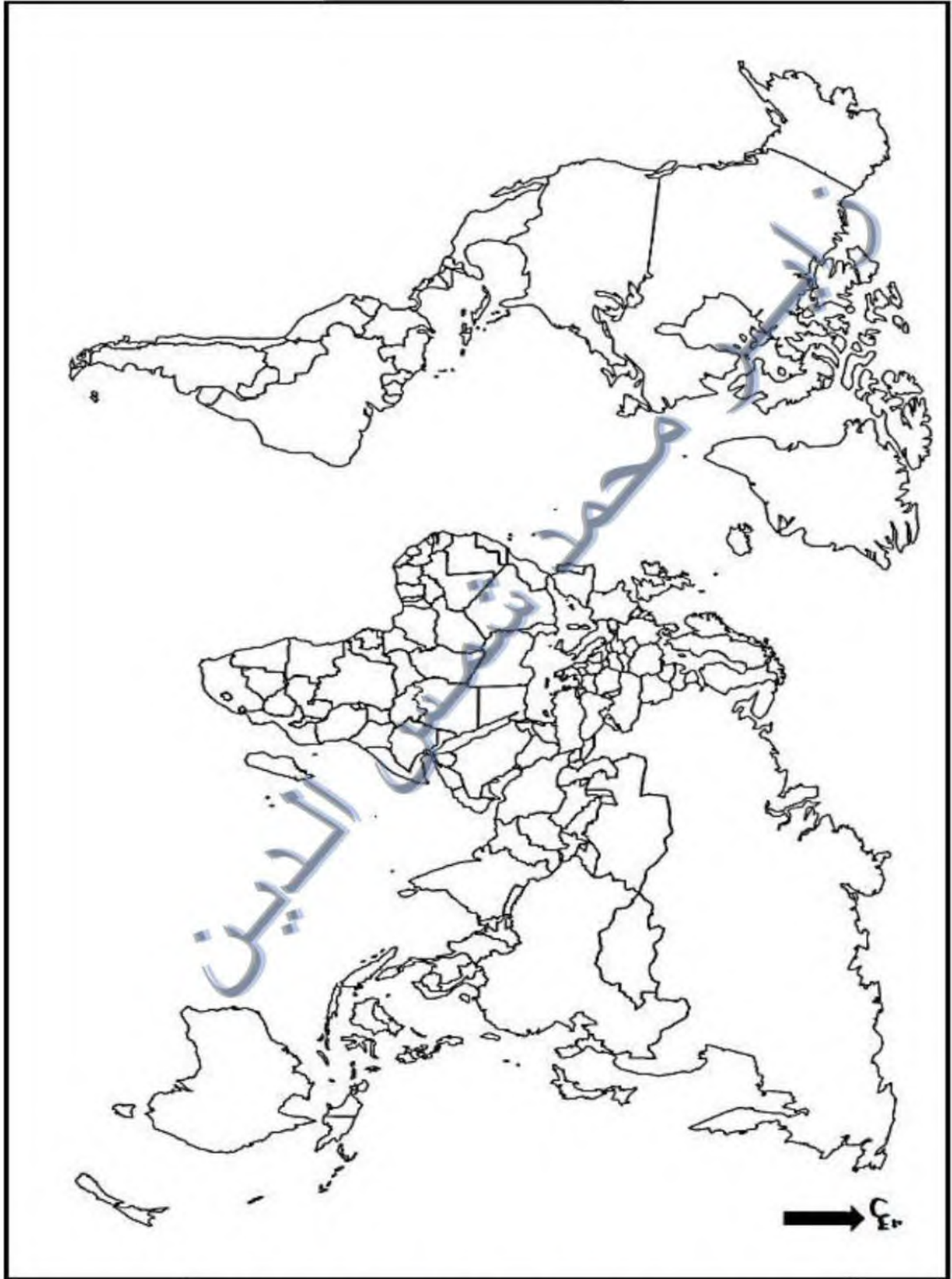
لا تزال مساهمة الجزائر في المبادلات التجارية العالمية متواضعة بسبب عدم تنوع مواردها الاقتصادية.

المطلوب: انطلاقاً من الفكرة واعتماداً على ما درست، اكتب مقالا جغرافيا تبين فيه:

1- طبيعة المبادلات التجارية الجزائرية.

2- الانعكاسات المترتبة عن اعتماد الجزائر على اقتصاد المورد الواحد.

----- انتهى الموضوع الثاني -----



ينجز العمل المطلوب على الخريطة وتعاد مع أوراق الإجابة

خريطة أوروبا



ينجز العمل على الخريطة وتعاد مع أوراق الإجابة

# الجمهورية الجزائرية الديمقراطية الشعبية

مديرية التربية لولاية سطيف

وزارة التربية الوطنية

ثانوية الاخوين حوفي -العلمة

ماي 2023

الشعبة: آداب وفلسفة

## الإجابة النموذجية للكالوريا التجريبية في مادة التاريخ والجغرافيا

العلامة		عناصر الإجابة الموضوع الاول								
كاملة	مجزأة									
		<p><b>التاريخ</b> <b>الجزء الأول</b></p> <p><b>1-شرح ما تحته خط في النص:</b></p> <p><b>بيان بيان فو:</b> معركة حدثت بين الجيش الفرنسي والقوات الفيتنامية بقيادة هوشي منه في 13 مارس -07ماي 1954 وانتهت بخروج القوات الفرنسية منهزمة من الفيتنام.</p> <p><b>الامبريالية:</b> استعمار جديد، السيطرة تكون اقتصادية وثقافية. باستخدام أدوات مختلفة منها الأنظمة العميلة، الشركات الاحتكارية، الإغراق بالديون ... وهي أعلى مراحل تطور الرأسمالية تبنته الو.م.أ وحلفائها</p> <p><b>حلف جنوب شرق اسيا:</b> تكتل عسكري غربي (SEATO) أسس في 8 سبتمبر 1954 بمانيلا، بهدف مواجهة الشيوعية في المنطقة.</p> <p>(2) على خريطة العالم المرفقة وقع الدول الواردة في النص أعلاه.</p> <p>الدول هي: الفيتنام <b>0.5</b> + فرنسا: <b>0.5</b> + الو.م.أ: <b>0.5</b> + العنوان: <b>0.25</b> + المفتاح: <b>0.25</b></p> <p>(3) أكمل الجدول التالي:</p> <table border="1"> <thead> <tr> <th>التاريخ</th> <th>الحدث</th> </tr> </thead> <tbody> <tr> <td>20 سبتمبر 1947</td> <td>صدور دستور الجزائر (القانون الخاص)</td> </tr> <tr> <td>15 نوفمبر 1988</td> <td>تأسيس دولة فلسطين في الجزائر</td> </tr> <tr> <td>01 جويلية 1991</td> <td>حل حلف وارسو</td> </tr> </tbody> </table> <p><b>الجزء الثاني</b></p> <p><b>المقدمة:</b> الجزائر بين مبادئها الثورية المحاربة للاستعمار وتجسيدها الميداني. (تقبل أي مقدمة وظيفية)</p> <p><b>1-المبادئ السياسية التي قامت عليها السياسة الخارجية للجزائر بعد الاستقلال:</b></p> <ul style="list-style-type: none"> <li>-محاربة الاستعمار بكافة اشكاله ودعم حركات التحرر.</li> <li>-احترام سيادة الدول وعدم التدخل في الشؤون الداخلية.</li> <li>-احترام حقوق الانسان والأقليات.</li> <li>-محاربة التمييز العنصري.</li> <li>-حل المشاكل الدولية بطرق سلمية.</li> <li>-التعاون الاقتصادي الدولي (جنوب -جنوب وشمال جنوب).</li> </ul> <p>ملاحظة: تقبل عناصر أخرى تخدم الموضوع</p> <p><b>2-مظاهر تجسيد هذه المبادئ فعليا:</b></p> <ul style="list-style-type: none"> <li>-مساعدة الجزائر لحركات التحرر (فلسطين والصحراء الغربية)</li> <li>-الانضمام للمنظمات الإقليمية والعالمية (الاتحاد الافريقي، عدم الانحياز، هيئة الأمم المتحدة) والعمل على تجسيد مبادئها.</li> </ul>	التاريخ	الحدث	20 سبتمبر 1947	صدور دستور الجزائر (القانون الخاص)	15 نوفمبر 1988	تأسيس دولة فلسطين في الجزائر	01 جويلية 1991	حل حلف وارسو
التاريخ	الحدث									
20 سبتمبر 1947	صدور دستور الجزائر (القانون الخاص)									
15 نوفمبر 1988	تأسيس دولة فلسطين في الجزائر									
01 جويلية 1991	حل حلف وارسو									
02	0.75									
	0.5									
	0.75									
02	02									
	0.75									
02	0.75									
	0.5									
	0.75									
0.5	0.5									
	0.5									
	0.25									
1.5	0.25									
	0.25									
	0.25									
	0.25									
	0.25									
	0.25									
	0.25									
	0.5									

1.5	0.25 0.25 0.25	<p>-المطالبة بنظام اقتصادي عالمي جديد (المؤتمر الرابع لعدم الانحياز 1973).</p> <p>-ادانة سياسة التمييز العنصري في جنوب افريقيا.</p> <p>-حل ازمة الرهائن الأمريكيين في إيران بطريقة سلمية.</p> <p>ملاحظة: تقبل عناصر أخرى تخدم الموضوع</p> <p>الخاتمة: تتمسك الجزائر بمبادئها ومواقفها الثابتة في دعم القضايا العادلة. (تقبل أي خاتمة وظيفية).</p>									
02	0.75 0.5 0.75	<p><b>الجغرافيا:</b> <b>الجزء الأول:</b> <b>1-شرح ما تحته خط في النص</b></p> <p><b>صندوق النقد الدولي:</b> مؤسسة مالية دولية أنشئت بمقتضى اتفاقية بروتن ودوز من اجل تنظيم العلاقات المالية ومساعدة الدول التي تعاني عجز في الميزان التجاري عن طريق القروض واعطائها حلول اقتصادية تخدمها.</p> <p><b>الاسيان:</b> رابطة دول جنوب شرق آسيا منظمة اقتصادية تضم 10 دول في جنوب شرق آسيا .تأسس في بانكوك، وهم: تايلاند. اندونيسيا. الفلبين. ماليزيا. سنغافورة. فيتنام... لدى أسيان شعار وهو "رؤية واحدة، هوية واحدة، مجتمع واحد".</p> <p><b>الشركات العابرة للأقطار:</b> هي الشركات متعددة الجنسيات -العلاقة- والتي ملكيتها وإدارتها تخضع لسيطرة جنسيات متعددة وتمارس نشاطها في بلاد أجنبية تتمتع بقد كبير من حرية تحريك ونقل الموارد والاموال والتكنولوجيا بين الدول.</p> <p>2-أ) تمثيل المعطيات الإحصائية الواردة في الجدول بأعمدة بيانية في معلم واحد.</p> <p>اعمدة بيانية تمثل نسبة مساهمة بعض القوى الاقتصادية في التجارة العالمية سنة 2018</p> <table border="1"> <thead> <tr> <th>القوى الاقتصادية</th> <th>الصادرات</th> <th>الواردات</th> </tr> </thead> <tbody> <tr> <td>التنتينات الآسيوية</td> <td>9.5</td> <td>9.0</td> </tr> <tr> <td>التمور الآسيوية</td> <td>3.8</td> <td>3.5</td> </tr> </tbody> </table> <p>الإنجاز: 01ن -المفتاح: 0.25ن -المقياس: 0.25ن -العنوان: 0.5ن.</p> <p><b>(ب) التعليق على الرسم البياني:</b></p> <p>وثيقة جغرافية اقتصادية عبارة عن أعمدة بيانية تمثل نسبة مساهمة بعض القوى الاقتصادية في التجارة العالمية لسنة 2018 حيث نلاحظ ما يلي:</p> <ul style="list-style-type: none"> <li>تباين في نسب مساهمة التنتينات والتمور في التجارة العالمية.</li> <li>تقارب نسبة مساهمة صادرات وواردات التنتينات والتمور أيضا.</li> <li>ارتفاع نسبة مساهمة التنتينات وتفوقها في التجارة العالمية على التمور الآسيوية.</li> </ul> <p><b>الجزء الثاني:</b> <b>المقدمة:</b> التخلف التكنولوجي في العالم الثالث بين الواقع والانعكاسات. (تقبل كل مقدمة وظيفية).</p> <p><b>1)عوامل عدم تحكم دول الجنوب في التكنولوجيا:</b></p> <p>-مخلفات الاستعمار وعدم الاستقرار السياسي.</p>	القوى الاقتصادية	الصادرات	الواردات	التنتينات الآسيوية	9.5	9.0	التمور الآسيوية	3.8	3.5
القوى الاقتصادية	الصادرات	الواردات									
التنتينات الآسيوية	9.5	9.0									
التمور الآسيوية	3.8	3.5									



04	0.25	قلة الاهتمام بالبحث العلمي.
	X	هجرة الادمغة واستقطابها من طرف الدول المتقدمة.
	06	ضعف التحصيل العلمي خاصة الجامعي. قلة الاستثمار في تنمية العنصر البشري. احتكار الدول الكبرى والشركات العملاقة التكنولوجيا.
	0.25	<b>(2) أثر ذلك على واقعها الاقتصادي والاجتماعي:</b>
	X	-الضعف الاقتصادي وعدم مسايرة التطورات.
	06	-التبعية للدول المتقدمة في جميع الميادين. ارتفاع حجم الديون وتبعاتها. تردى الخدمات وانخفاض المستوى المعيشي. عدم تحقيق الاكتفاء الذاتي وما ينجر عنه من اضطرابات اجتماعية.
	0.5	-اتساع الهوة والفوارق بين الشمال والجنوب. <b>الخاتمة: التحكم في التكنولوجيا شرط أساسي لتحقيق التقدم والازدهار.</b>

العلامة		عناصر الإجابة الموضوع الثاني
كاملة	مجزأة	

		<b>التاريخ</b> <b>الجزء الأول</b>		
		<b>1- شرح ما تحته خط في النص:</b>		
02	0.75	<b>برنامج شال:</b> عبارة عن مجموعة خطط عسكرية وضعها الجنرال موريس شال سنة 1959 تتضمن عمليات منسقة في البر والجو تستهدف مختلف المناطق إضافة الى الاسلاك الشائكة والمكهربة لحصار الثوار.		
	0.5	<b>الديبلوماسية الفرنسية:</b> النشاطات التي تقوم بها الخارجية الفرنسية دوليا بهدف تشويه الثورة وافشال الدعم عنها.		
	0.75	<b>سلم الابطال (الشجعان):</b> مناورة سياسية اغرائية اعتمدها ديغول في 1958/10/23 تقضي بأن يسلم الثوار أسلحتهم مقابل ضمان حمايتهم وعدم متابعتهم.		
		<b>2- التعريف بالشخصيات التالية:</b>		
02	0.75	<b>مصالي الحاج</b> أبو الحركة الوطنية، مناضل سياسي جزائري زعيم التيار الاستقلالي أسس نجم شمال افريقيا ثم حزب الشعب ثم حركة الانتصار للحريات الديمقراطية		
	0.5	<b>ليونيد بريجنيف:</b> زعيم سوفياتي، صاحب مبدأ التدخلات في براغ (التشيك) وأفغانستان، وقع اتفاقية سالت 01 وسالت 02.		
	0.75	<b>حوزيف بروز تيتو:</b> زعيم دولة يوغسلافيا، قاوم النازية، فك ارتبط بلده بالمعسكر الشرقي، حضر مؤتمر باندونغ، من مؤسسي حركة عدم الانحياز، دعاة التحرر.		
		<b>3- اكمال الجدول التالي:</b>		
02	01	التاريخ	الحدث	نتيجة او انعكاس واحد فقط
		05-09 سبتمبر 1973	مؤتمر الجزائر الرابع لعدم الانحياز	-المطالبة بنظام اقتصادي عادل. -الدعوة الى حوار شمال جنوب. (جميع الاهتمامات مقبولة)
	03-04 ديسمبر 1989	مؤتمر مالطا	-بداية نهاية الحرب الباردة. -اعلان النظام الدولي الجديد.	

## الجزء الثاني

0.5

0.5

**المقدمة:** العالم الثالث بين صراع الحرب الباردة وتصفية الاستعمار.

1.5

0.25

**1-مدى استفادة شعوب العالم الثالث من هذا الصراع:**

0.25

-الاستفادة من تراجع الاستعمار التقليدي.

0.25

-تصاعد موجة التحرر في العالم الثالث.

0.25

-حصول بعض دول العالم الثالث على الاستقلال (سوريا ولبنان، الهند..).

0.5

-الاستفادة من دعم الاتحاد السوفياتي لحركات التحرر.

-ظهور التضامن والتكتل الأفروآسيوي ودعمها لباقى حركات التحرر وتأسيس حركة عدم الانحياز.

1.5

0.5

**2-مظاهر التبعية لمرحلة ما بعد الاستقلال في افريقيا واسيا:**

0.25

-التبعية الاقتصادية والثقافية (الكومولوث، الفرانكفونية).

0.25

-اغراقها بالديون المتراكمة.

0.25

-انشاء قواعد واحلاف عسكرية فيه.

0.25

-تنصيب ودعم الأنظمة العميلة على حساب أنظمة وطنية.

-توقيع اتفاقيات استقلال محجفة تضمن استمرارية استغلال المستعمرات.

0.5

0.5

**الخاتمة:** العالم الثالث مجبر على الصمود ومواجهة الاستعمار المقنع للحفاظ على استقلاله التام.

## الجغرافيا:

### الجزء الأول:

**1-شرح ما تحته خط في النص**

02

0.75

**واجباتها البحرية الثلاث:** المناطق الساحلية المطلة على المحيطين الهادئ والاطلسي، وخليج المكسيك ومتمثلة في الواجهة الأطلسية الشرقية والواجهة الغربية على المحيط الهادئ والواجهة الجنوبية على خليج المكسيك، وتساهم في الاقتصاد الأمريكي.

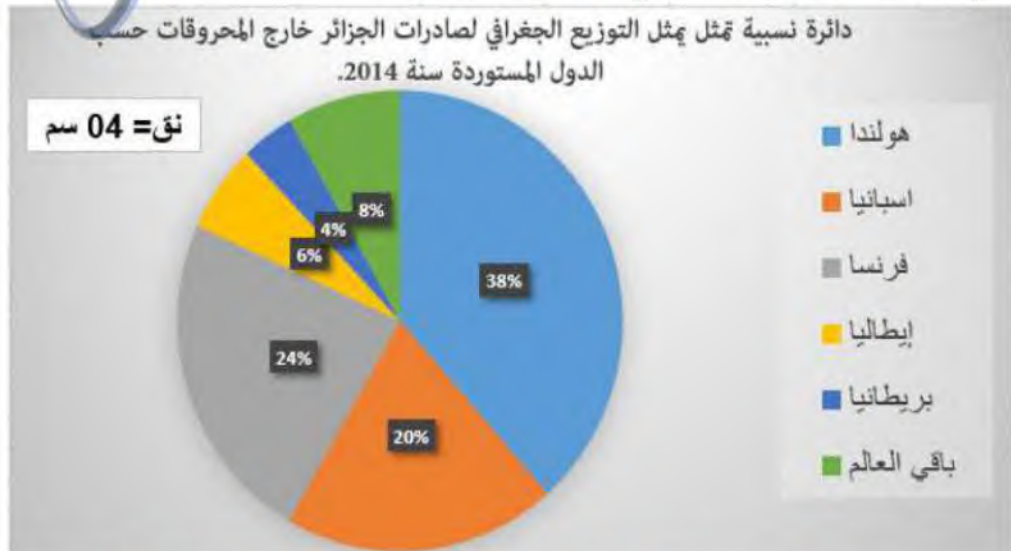
0.75

**القوى الصاعدة في المحيط الهادئ:** هي القوى الناشئة التي تحقق قفزة اقتصادي نوعية مثل دول التينيات واليابان.

0.5

**الميفالوبولس:** منطقة تجمع للمدن الكبرى في الوم.أ "المجرة الحضرية" تمثل القلب النابض للاقتصاد الأمريكي.

**(2) أ-تحويل معطيات الجدول الاحصائي الى دائرة نسبية:**



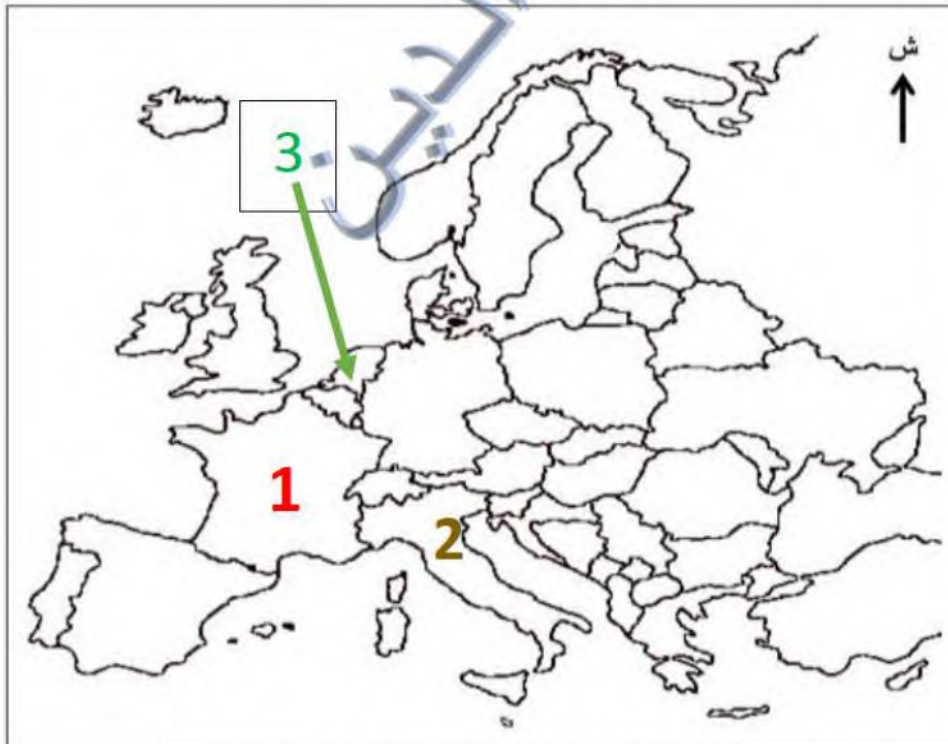
02

02

الانجاز: 01 - المفتاح: 0.25 - العنوان: 0.25 - العمليات الحسابية: 0.5

02	02	<p><u>ب- التوقيع على خريطة أوروبا المرفقة الدول الموقعة على معاهدة روما 1957 الواردة في الجدول</u></p> <p>هولندا: <b>0.5</b> - فرنسا: <b>0.5</b> - إيطاليا: <b>0.5</b> - العنوان: <b>0.25</b> - المفتاح: <b>0.25</b>.</p> <p>الجزء الثاني: (04 نقاط)</p> <p><u>مقدمة: صادرات الجزائر بين عدم تنوعها وانعكاس ذلك على الاقتصاد الوطني.</u></p> <p><u>1- طبعة المبادلات التجارية الجزائرية:</u></p> <p><u>- الصادرات:</u></p> <p>* مواد أولية (محروقات ومعادن بأكثر من 95%).</p> <p>* مواد زراعية مثل بعض الخضار والتمور.</p> <p><u>- الواردات:</u></p> <p>* مواد غذائية (قمح وحليب...).</p> <p>* مواد مصنعة ونصف مصنعة.</p> <p>* التكنولوجيا والخدمات.</p> <p><u>2- الانعكاسات المترتبة عن اعتماد على اقتصاد المورد الواحد:</u></p> <p>- تراجع وعدم استقرار مداخيل الدولة.</p> <p>- عجز في الميزان التجاري.</p> <p>- التعرض لآزمات مالية ثم الديون.</p> <p>- تراجع قيمة العملة والاستثمارات المحلية.</p> <p>- تعطل المشاريع التنموية (التقشف).</p> <p>- تراجع درجة الرخاء الاجتماعي وظهور مشاكل اجتماعية.</p> <p>خاتمة: بإمكان الجزائر تنويع صادراتها، تجنباً لتقلبات السوق الفجائية وضمان استقرار الاقتصاد.</p>
	0.5	
	0.25	
	X	
	6	
04		
	0.25	
	X	
	6	
	0.5	

خريطة أوروبا



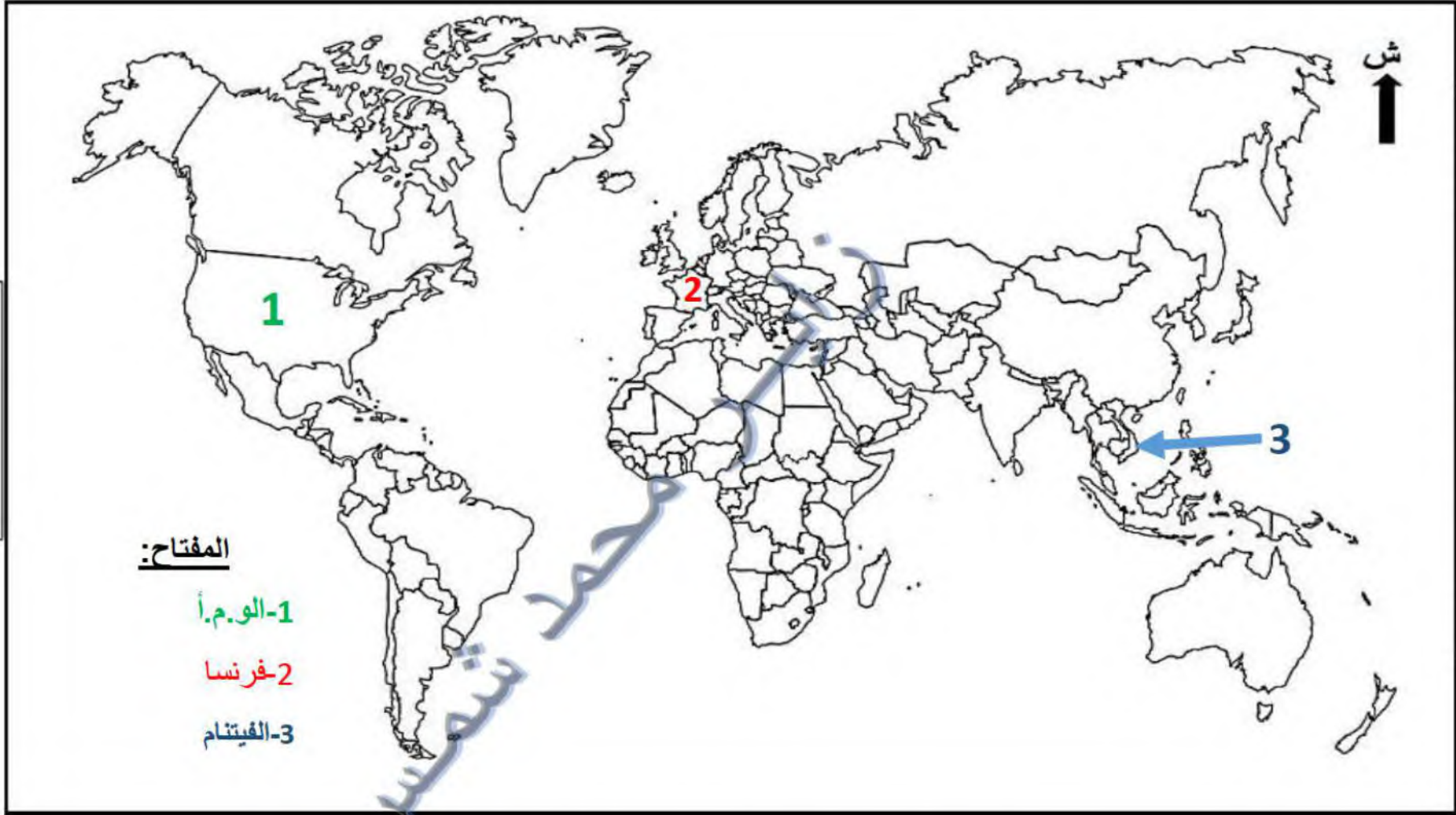
المفتاح:

1- فرنسا.

2- إيطاليا

3- هولندا

خريطة تبين الدول الأوروبية الموقعة على معاهدة روما 1957



خريطة تبين الدول الواردة في النص (الو.م.أ + الفيتنام + فرنسا)