

التمرين الأول:

أكمل مُتتاليّة الأعدادِ التّاليّة:

56

...

59

...

...

...

...

...

التمرين الثاني:

أقارنُ بينَ كُلِّ طرفينِ بوضعِ < ; > ; = مكانَ النّقْطِ:

التلميذ:

.....

.....

34 43

23 45

22 11


67 50

23+2 20+1


44 40+4

التمرين الثالث:

أكملُ بالعدديّ المُناسِبِ وأكْتُبهُ بالحُرُوفِ:



العدّدُ هُوَ:







العدّدُ هُوَ:





العدّدُ هُوَ:


التمرين الرابع:


أكملُ حسبَ المرصوفة:

ج				
ب				
أ				
	1	2	3	4

 (1 ;)

 (..... ; أ)

 (ب ;)

 (..... ;)