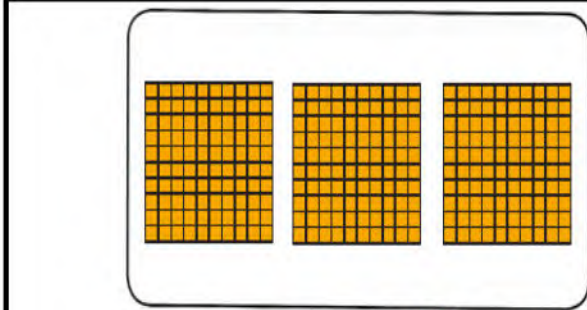


اختبار الفصل الثاني في مادة الرياضيات

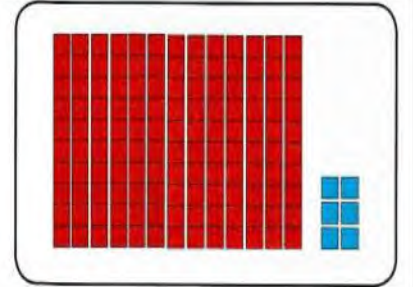
الوضعية 1: (2.5 ن)

(1) ألاحظ التمثيل ثم أكمل كتابة الأعداد



الكتابة بالأرقام:

الكتابة بالحروف:



الكتابة بالأرقام:

الكتابة بالحروف:

(2) أقارن باستعمال الرمز المناسب:

989 980

550 500+50

650 605

الوضعية 2: (2 ن)

ذهب احمد مع ابيه الى متجر الالعاب. وهناك اعطاه الاب جدول الاسعار بعض اللعب وطلب منه ان يكتب سعر كل لعبة في بطاقتها.

- - ساعد أحمد على كتابة الأسعار في البطاقات.



جدول الأسعار

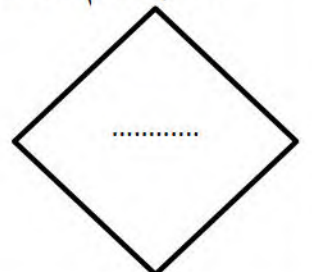
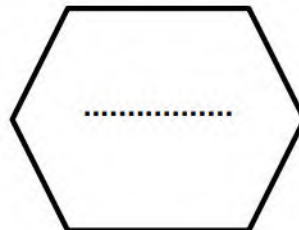
القطار	170 ديناراً
الطائرة	250 ديناراً
السيارة	150 ديناراً
الدراجة النارية	120 ديناراً

الوضعية 3: (1 ن)

لا تنس استعمال المسطرة والكوس

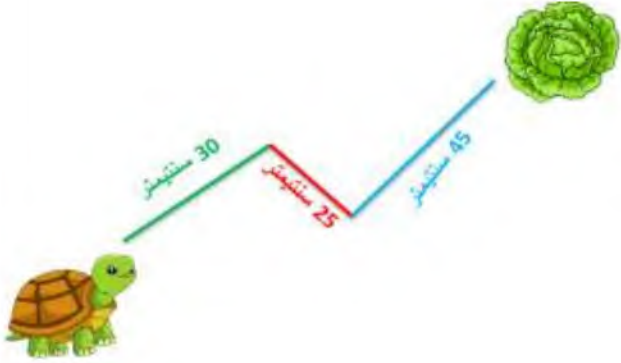
- لون بالأحمر المضلعات التي لها زوايا قائمة

- اكتب اسم المضلعات التي لها زوايا قائمة فقط.



الوضعية 4: (1.5 ن)

لَا حَظَّ الْمَسَارِ الَّذِي سَتَسَلِكُهُ السَّلْحَفَاءُ لِلْوُصُولِ إِلَى الْخَسِّ .
- أَحْسَبْ طُولَ الْمَسَارِ .



	+		+		=	
--	---	--	---	--	---	--

- طُولُ الْمَسَارِ سُنْتِيْمِتر
- 1 مِتر = سُنْتِيْمِتر


الوضعية الادماجية (3 ن)

✓ أَحْمَدُ تَلْمِيذٌ يُحِبُّ مُطَالَعَةَ الْكُتُبِ . يَمْلِكُ فِي حَصَالَتِهِ الْقِطْعَ النَّقْدِيَّةَ التَّالِيَةَ :



✓ أَحْسَبِ النُّقُودَ الَّتِي بِحَصَالَةِ أَحْمَدِ .

- يَمْلِكُ أَحْمَدُ دِينَارًا



✓ يُرِيدُ أَحْمَدُ شِرَاءَ كِتَابٍ مِنْ الْمَكْتَبَةِ فَوَجَدَ أَنَّ ثَمَنَهُ يُسَاوِي 210 دِينَارًا .



- هَلْ الْمَبْلُغُ كَافٍ لِشِرَاءِ الْكِتَابِ ؟

- كَمْ سَيَرْجِعُ لَهُ صَاحِبُ الْمَكْتَبَةِ ؟

- سَيَرْجِعُ لَهُ صَاحِبُ الْمَكْتَبَةِ دِينَارًا

