

## اختبار الفصل الثاني في الرياضيات

التمرين 1 : أنجز العمليات عموديا : ( 1ن )

$$\begin{array}{r} 175 \\ + 15 \\ \hline \end{array}$$

$$\begin{array}{r} 43 \\ + 29 \\ \hline \end{array}$$

التمرين 2 : أكتب بالحروف الأعداد التالية ( 1 ن )

709 .....

241 .....

التمرين 3 : أربط كل شيء بطوله المناسب : ( 1 ن )

- قلم  3 متر
- شجرة  20 سنتيمترا
- كراس  13 سنتمرا

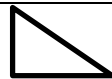


• أكمل الفراغ :

1 متر = ..... سنتمتر

التمرين 4 : أكمل الجدول : ( 2ن )

صباحا	5 : 00	1 : 15	8 : 30	10 : 00
مساء	.....	.....	.....	.....

التمرين 5 : أكمل الفراغ : ( 1.5ن )

الشكل	اسمه	عدد الزوايا
	.....	.....
	.....	.....
	.....	.....

الوضعية الإدماجية : ( 3.5ن )

- مناسبة عيد الفطر أعطى الأب لمحمد

المبلغ الممثل هنا



و الأم

1) أكمل ما يلي :

- مبلغ الأب هو : ..... دينار

- مبلغ الأم هو : ..... دينار

2- ما هو المبلغ الذي جمعت محمد ؟

اشترى محمد لعبة ثمنها 40 دينار

3- كم بقي عند محمد ؟

الأجوبة

الحل

العمليات