

السنة الأولى ابتدائي	اِخْتِبَارُ الْفَصْلِ الثَّانِي	الاسم و اللقب:
قناة المناهل	في مادة الرياضيات

التمرين الأول: اكتب الأعداد الممتئة بقطع الوحدات و العشرات في كل حالة

.....

رتب الأعداد السابقة تنازلياً : (من الأكبر إلى الأصغر)

.....
-------	-------	-------	-------

تمرين الثاني: أكمل:

التمرين الرابع: تملك ملاك 25 خشبة في العلبة ، أخذت منها 12 خشبة



- كم خشبة بقيت في العلبة؟
 عدد كل الخشبات
 أخذت منها
 الخشبات المتبقية =
 بقي عند ملاك خشبة

السنة الأولى ابتدائي	اِخْتِبَارُ الْفَصْلِ الثَّانِي	الاسم و اللقب:
قناة المناهل	في مادة الرياضيات

التمرين الأول: أكمل رسم النجوم و كتابة الأعداد بالأرقام

***** ***** ***** *****			***** ***** *****
.....	18	24

رتب الأعداد السابقة تصاعدياً: (من الأصغر إلى الأكبر)

.....
-------	-------	-------	-------

تمرين الثاني: أكمل كتابة التوقيت المناسب في كل بطاقة:



مساءً

.....



صباحاً

.....



ظهراً

.....



صباحاً

.....

التمرين الرابع: أعطت الأم لأحمد 20 ديناراً ثم أضاف له الأب 15 ديناراً

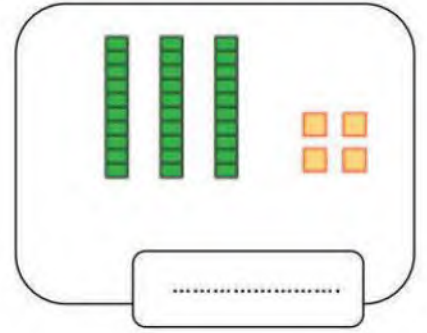
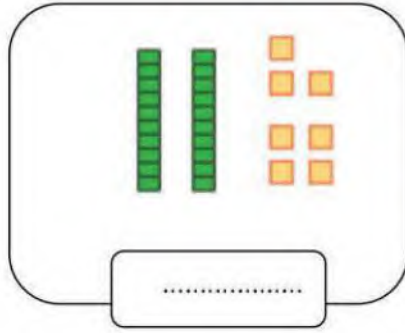
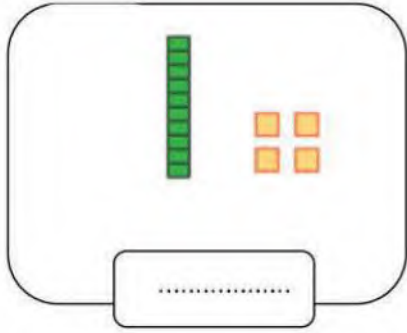
كم أصبح عند أحمد؟

$$..... + =$$

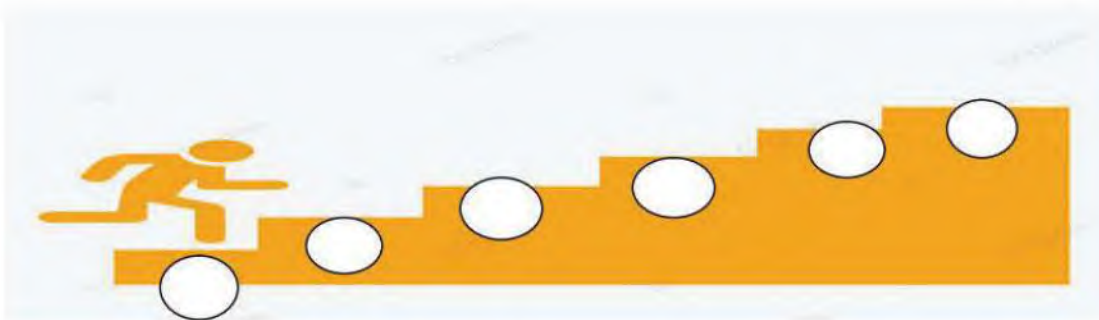
أصبح عند أحمد ديناراً



قناة المناهل

التمرين الأول: ضع العدد المناسب في البطاقةالتمرين الثاني: اربط الكتابة بالأرقام مع الكتابة بالحروفالتمرين الثالث: رتب الأعداد التالية من الأصغر الى الأكبر:

40-20-19-10-36-25

التمرين الرابع: لون الكرات التي على استقامية