

اختبار الرياضيات الفصل الثاني

التمرين الأول: (2.5ن)

أكتب العدد الذي يسبق والذي يلي:

.....	9
.....	20
.....	32

أربط بين بطاقات الأعداد المتساوية :

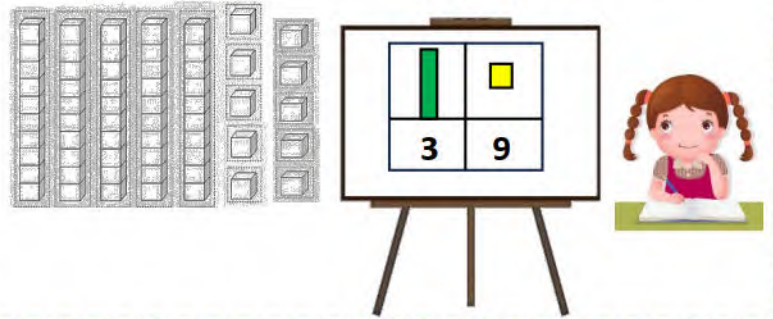
20+6	خَمْسَةٌ وَثَلَاثُونَ	35
30+5	تِسْعَةٌ عَشْرَ	26
10+9	سِتَّةٌ وَعِشْرُونَ	19

أرتب الأعداد من الأصغر إلى الأكبر:

35 - 22 - 16 - 7 - 45

.....

أساعد أمينة في تلوين الكمية الموجودة على السبورة

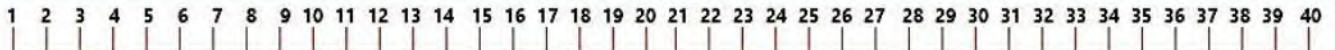


التمرين الثاني: (2ن)

أستعين بالشريط العددي وأنجز ما يلي:

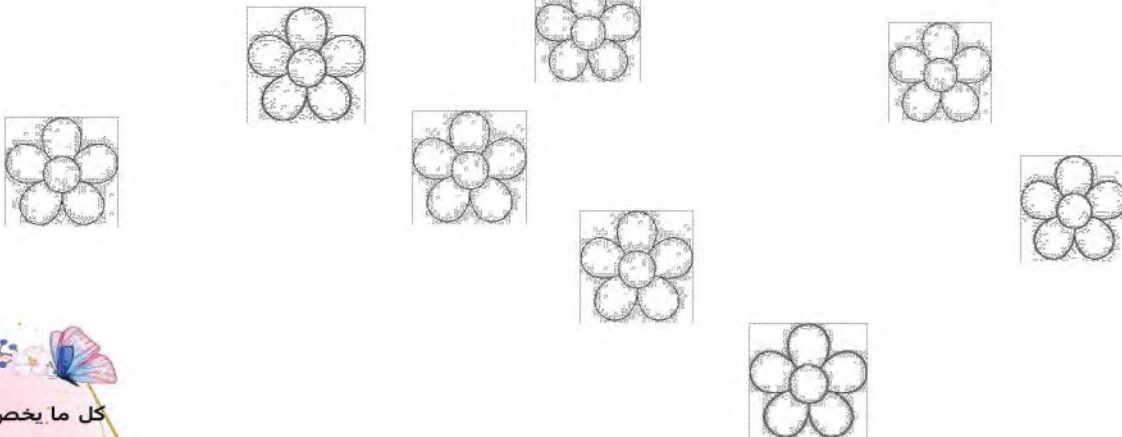
25+12=....

25-12=....



التمرين الثالث: 1ن

ألون الأزهار الموجودة على استقامة واحدة :



التمرين الرابع: (2ن)

أزبط الصورة مع التوقيت الصحيح :

مُنْتَصَفُ اللَّيْلِ



مُنْتَصَفُ النَّهَارِ

السَّابِعَةُ وَنِصْفُ صَبَاحًا



السَّابِعَةُ وَنِصْفُ مَسَاءً

التمرين الخامس : (2.5ن)

تَمَلِّكُ يَا سَمِينُ عِقْدًا فِيهِ 32 جَوْهَرَةً .

انْقَطَعَ عِقْدُهَا وَسَقَطَتْ مِنْهُ 6 جَوَاهِرَ .

كَمْ جَوْهَرَةً بَقِيَتْ فِي الْعِقْدِ؟

الْعَمَلِيَّةُ :

الْجَوَابُ: بَقِيَ فِي الْعِقْدِجَوْهَرَةً .

