

أكتب بالأرقام أو بالحروف

الوضعية 1

..... خَمْسَةٌ وَعِشْرُونَ

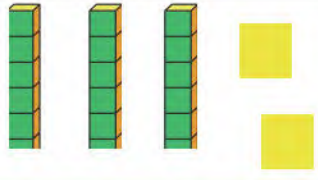
..... 16

..... سِتَّةٌ وَثَلَاثُونَ

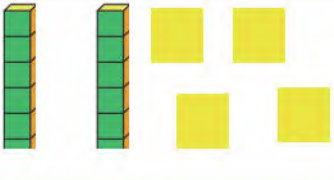
..... 27

أكتب الأرقام الممثلة بقطع الوحدات والاعمدة العشرات


الوضعية 2



.....



.....



.....

هات ضعف ونصف الأعداد التالية

الوضعية 3

ضعفه
العدد	2	4	6	8	10
نصفه

12 ، 36 ، 8 ، 31 ، 15 ، 22

رتب الأعداد التالية تنازليا

الوضعية 4



..... ، ، ، ،

الوضعية الإدماجية

تَمَلِكُ مَرْيَمُ 17 خُشْبِيَّةً زَدَهَا الْمُعَلِّمُ 6 خُشْبِيَّاتٍ

- كَمْ أَصْبَحَ عِنْدَ مَرْيَمَ مِنْ خُشْبِيَّةٍ ؟

العملية: =

- أَصْبَحَ عِنْدَ مَرْيَمَ

