

المادة: الرياضيات  
المستوى: الأولى ابتدائي

الاسم واللقب: .....  
التاريخ: 2023/03/06

## اختبار الفصل الثاني

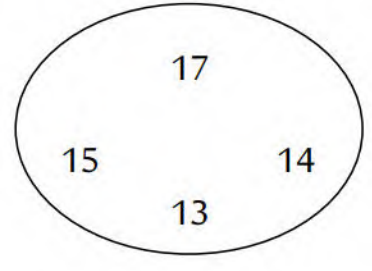
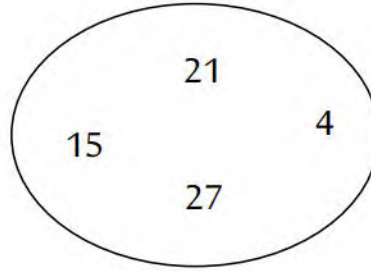
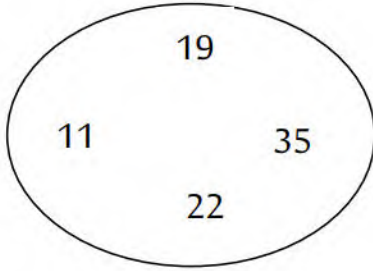
التمرين الأول:

أُكْمِلُ الشَّرِيْطَ العَدَدِيَّ.

→	25	.....	.....	.....	.....	.....	.....
---	----	-------	-------	-------	-------	-------	-------

التمرين الثاني:

أَحْوَطُ أَكْبَرَ عَدَدٍ فِي كُلِّ مَجْمُوعَةٍ.



التمرين الثالث:

أَكْتُبِ العَدَدَ الَّذِي يَسْبِقُ والعَدَدَ الَّذِي يَلِي.

.....	15	.....
-------	----	-------

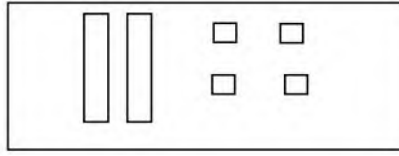
31	.....	.....
----	-------	-------

.....	9	.....
-------	---	-------

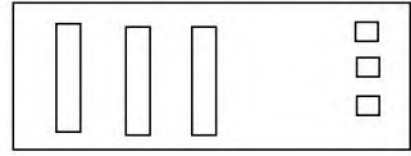
.....	23	24
-------	----	----

## التّمرين الرَّابِع:

أكْمِلْ مَلءِ الجَدْوَلِ بِمَا يَناسِب.



ع	و
.....	.....



ع	و
.....	.....

## التّمرين الخَامِس:

- أَكْتُبْ ضِعْفَ كُلِّ عَدَدٍ

1	2	3	4	5	6	7
.....	.....	.....	.....	.....	.....	.....

## التّمرين السّادِس:

أحْسِبْ مَا يَلِي:

$19 + 1 = \dots\dots\dots$	$20 - 1 = \dots\dots\dots$
$30 + 3 = \dots\dots\dots$	$8 - 4 = \dots\dots\dots$

المادة: الرياضيات  
المستوى: الأولى ابتدائي

الاسم واللقب: .....  
التاريخ: 2023/03/06

## تصحيح اختبار الفصل الثاني

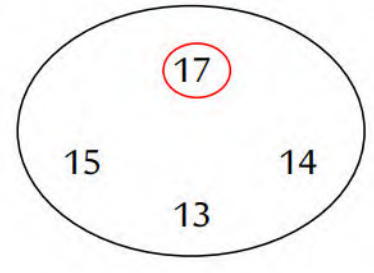
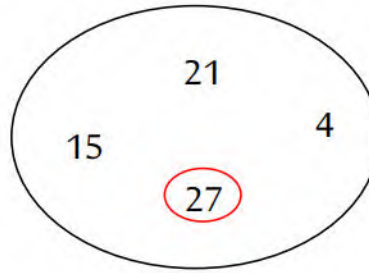
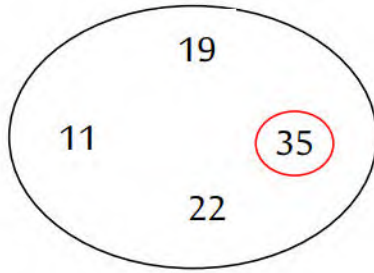
التمرين الأول:

أكمل الشريط العدديّ.



التمرين الثاني:

أحطُ أكبر عددٍ في كلِّ مجموعةٍ.



التمرين الثالث:

أكتب العدد الذي يسبق العدد الذي يلي.

14	15	16
----	----	----

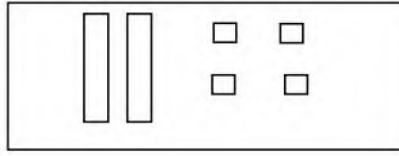
31	32	33
----	----	----

8	9	10
---	---	----

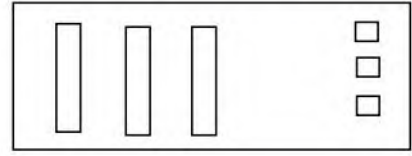
22	23	24
----	----	----

## التّمرين الرَّابِع:

أكْمِلْ مَلءِ الجَدْوَلِ بِمَا يَناسِب.



ع	و
2	4



ع	و
3	3

## التّمرين الخَامِس:

- أَكْتُبِ ضِعْفَ كُلِّ عَدَدٍ

1	2	3	4	5	6	7
2	4	6	8	10	12	14

## التّمرين السّادِس:

أحْسِبْ مَا يَلِي:

$19 + 1 = 20$	$20 - 1 = 19$
$30 + 3 = 33$	$8 - 4 = 4$