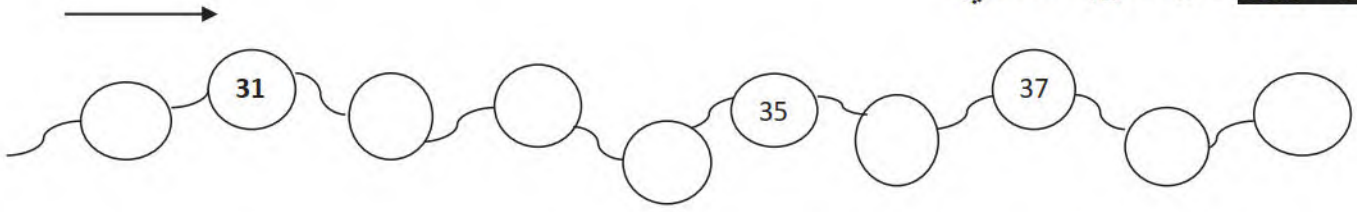


التمرين الأول: أكمل الشريط العدديالتمرين الثاني: أكتب الأعداد الآتية بالحروف

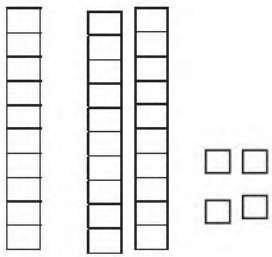
واحد و أربعون	خمسة عشر	تسعة	عشرون
.....

التمرين الثالث: أكتب العدد الذي يسبق و العدد الذي يلي:

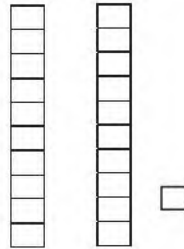
.....	25
-------	----	-------

.....	8
-------	---	-------

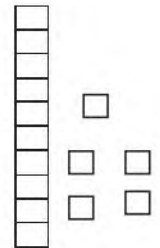
.....	14
-------	----	-------

التمرين الرابع: أحسب الوحدات العشرات فيما يلي:

.....
-------	-------



.....
-------	-------



.....
-------	-------

التمرين الخامس: أحسب:

$$7 + 2 = \dots\dots$$

$$15 + 4 = \dots\dots$$

$$7 + 2 = \dots$$

الوضعية الإدماجية:

لدى لُبْنَى 7 حبات من الحلوى و لدى بُشْرَى 5 حبات حلوى.

- كم أصبح لدى لُبْنَى وَ بُشْرَى معا ؟

.....	
+
=

العملية:

الجواب: