

السنة الدراسية: 2023/2022

الاسم واللقب: .....

المدرسة: المجاهد الطيب الزاوي

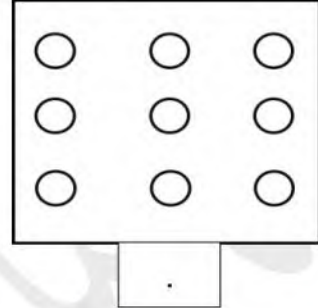
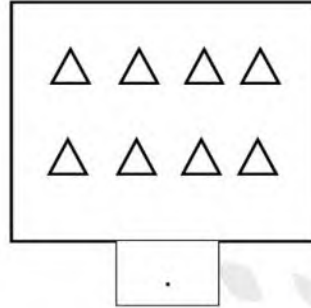
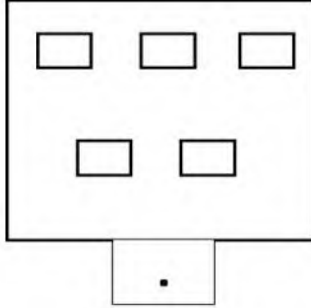
المستوى: الأولى ابتدائي

تقويم الفصل الأول في مادة

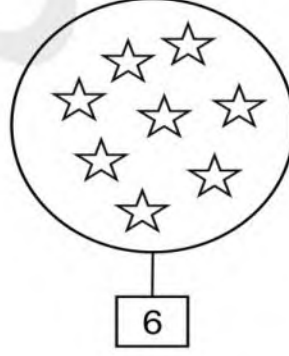

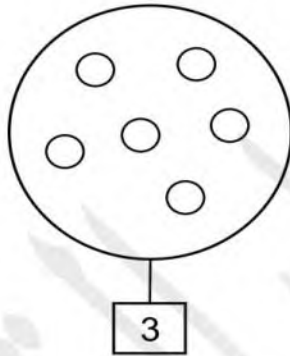
الرياضيات

10

التمرين الأول: أحسب ثم أكتب النتيجة :




التمرين الثاني : أشطب الأشكال الزائدة:



التمرين الثالث : أكمل شريط الاعداد :

|   |   |   |   |   |   |   |   |   |   |   |
|---|---|---|---|---|---|---|---|---|---|---|
| 0 | . | . | 3 | . | 5 | . | 7 | . | 9 | . |
|---|---|---|---|---|---|---|---|---|---|---|

- التمرين الرابع : أرتب الأشجار من الأقصر إلى الأطول



التمرين الخامس:

ألون السيارة الموجودة على يمين الشرطي بالأزرق .  
ألون السيارة الموجودة على يسار الشرطي بالأحمر .



الوضعية الإدماجية :



وصحن آخر به



صحن به

كم تفاحة في الصحنين؟

$$\square + \square = \square$$

عدد التفاحات : .....

بالتوفيق