

تقويم تشخيصي في الرياضيات للسنة الأولى متوسط

أنشطة عددية :

التمرين الأول:

ضع العلامة المناسبة (= ، > ، <) مكان النقط:

$$5315 \dots 5325$$

$$30,6 \dots 30,06$$

$$1,470 \dots 1,47$$

التمرين الثاني :

- أنجز عموديا العمليات الآتية:

$$336 \div 12$$

$$12.5 \times 4$$

$$8.2 - 5.31$$

$$10.63 + 7.4$$

التمرين الثالث :

أكمل حسب المثال : $1227 = 1000 + 200 + 20 + 7$

$$3832 = \dots + \dots + \dots + \dots$$




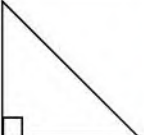

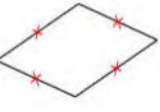
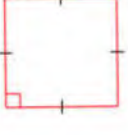
$$\dots = 5000 + 300 + 6$$

الأشكال الهندسية

أنشطة هندسية :

التمرين الأول :

تحت كل شكل من الأشكال التالية أكتب اسمه .

						
.....

التمرين الثاني :

(1) أنشئ المستقيم (d) وعين عليه النقطة A ، B نقطة لا تنتمي إلى (d)

(2) أنشئ المستقيم (K) المار من النقطة B و يعامد (d)

(3) أنشئ المستقيم (L) المار من النقطة A و يوازي (K)

أنقل ثم أتمم بإحدى الكلمتين: يوازي - يعامد

(K) (d)

(L) (K)

(d)(L)