

التلميذ :

إمضاء الولي :

العلامة : $\frac{\quad}{10}$

السنة : 3 الثالثة إمتحان الفصل 2 في الرياضيات



الأستاذة : شيراز عبد الرزاق

السنة : 2024 - 2023

السؤال الأول : أكمل (2.5 ن)

$5 \times 9 = \dots$

$6 \times 6 = \dots$

$10 \times \dots = 60$

$\dots \times \dots = 80$

$7 \times 8 = \dots$

$4 \times \dots = 24$

$\dots \times 3 = 27$

$7 \times \dots = 49$

$\dots \times 2 = 18$

$4 \times 4 = \dots$

السؤال الثاني : أكتب العدد 4306 (1.5 ن)

بالحروف

ضعفه هو


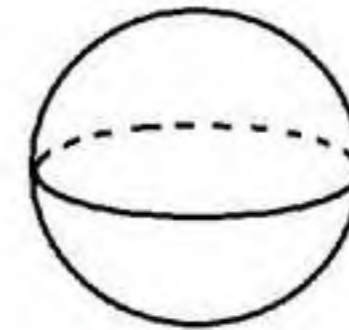
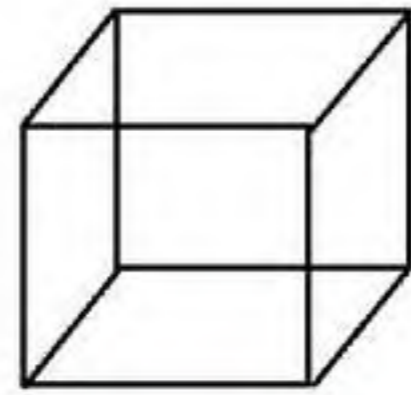
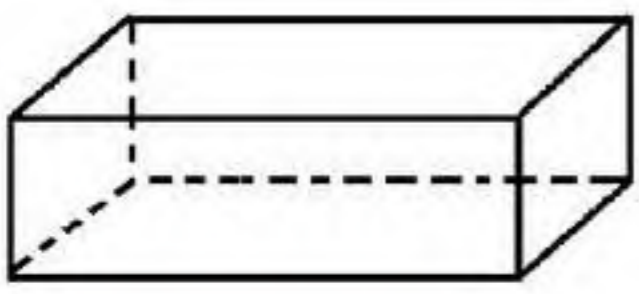
نصفه هو

السؤال الثالث : عبّر بالغمم عن مايلي (2 ن)

$9 \text{ kg } 500 \text{ g} = \dots$ ، $3 \text{ kg } 30 \text{ g} = \dots$

$4 \text{ kg } 1500 \text{ g} = \dots$ ، $8 \text{ kg } 4 \text{ g} = \dots$

السؤال الرابع : سم كل مجسم (2 ن)



الوضعية : قام عداء بـ الدوران حول الملعب 5 مرات ، في كل دورة كان

يقطع مسافة 400 متر - ماهي المسافة الإجمالية التي يقطعها هذا العداء ؟

الأجوبة

الحل

العمليات

(2 ن)