

مدرسة : البوصيري	اختبار الفصل الثالث في	سنة ثانية ابتدائي (أ + ب)
الاسم:	مادة التربية الرياضية	السنة الدراسية 2021-2022
اللقب:		

التمرين الأول: أنجز العمليات التالية عموديا

$62 - 24 =$	$97 - 39 =$	$299 - 74 =$	$823 + 49 =$

التمرين الثاني:

1) رتب الأعداد التالية تصاعديا : 934 - 997 - 945 - 764

.....

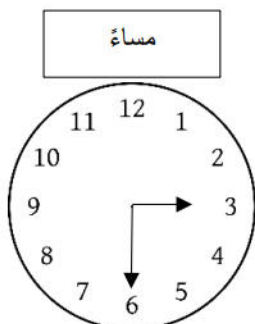
2) أكمل ما يلي:

- عدد العشرات في العدد 945 هو

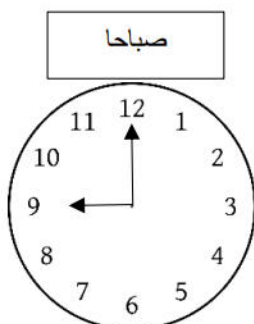
- عدد الوحدات في العدد 997 هو

- رقم المئات في العدد 764 هو

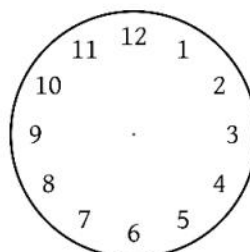
التمرين الثالث: أكمل ما يلي:



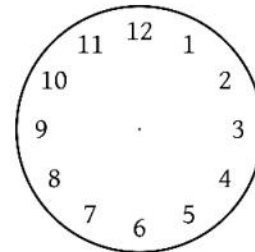
..... :



..... :




07 : 30



20 : 00

التمرين الرابع: أكمل رسم الشكلين التاليين ، ثم إملء الفراغات



(2)

(1)

اسم الشكل هو

اسم الشكل هو

كم لديه من زاوية قائمة ؟

كم لديه من زاوية قائمة ؟

كل ضلعين متقابلين

أضلاعه

عين على الشكل (1) الزوايا القائمة

الوضعية:

في عبد الفطر أعطاك أبوك 340 دج و أعطتك أمك 225 دج

- كم صار عندك ؟

خبأت في الحصالة 370 دج والباقي اشتريته قصة

- كم ثمن القصة ؟

الحل

الجواب

العمليات