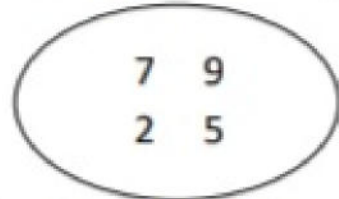
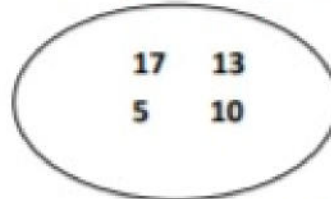
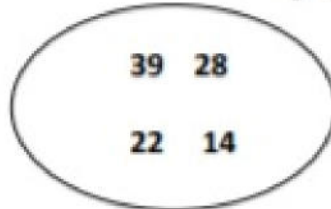
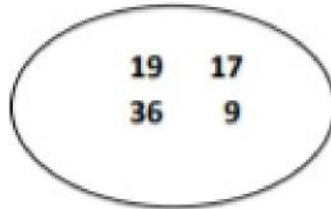


إختبار الفصل الثاني في مادة الرياضيات

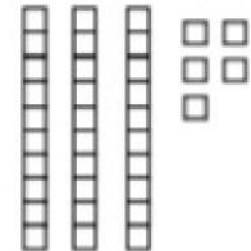


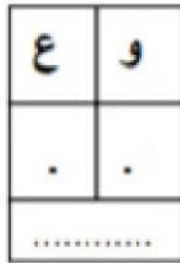
التمرين الأول: ضع دائرة على أكبر عدد في كل مجموعة.



التمرين الثاني: أكمل الشريط العددي:



التمرين الثالث: اكتب الأعداد الممثلة بالأعمدة والفوهات في الجدول:



التمرين الرابع: أكتب ما يلي:

$$8 + 3 = \dots$$

$$16 + 7 = \dots$$

$$19 - 5 = \dots$$

$$4 - 0 = \dots$$

الوضعية الإنمائية:

غرس أحمد 8 أشجار من التفاح و غرست خديجة 5 أشجار أخرى.

ما هو عدد الأشجار المغروسة؟

لن الإجابة الصحيحة

$$8 + 5 = 13$$

$$8 - 5 = 3$$

عدد الأشجار المغروسة هو: شجرة.