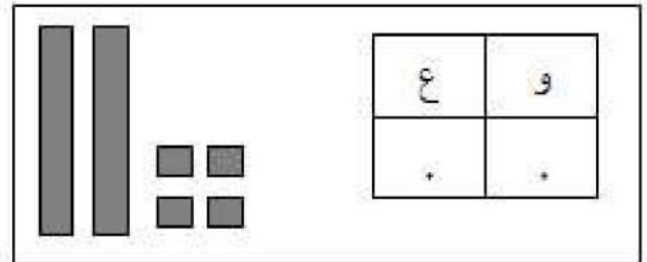
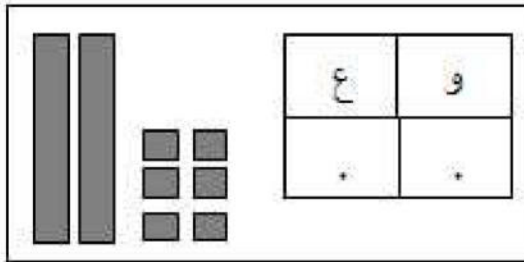


اختبار الثلاثي الثاني في الرياضيات

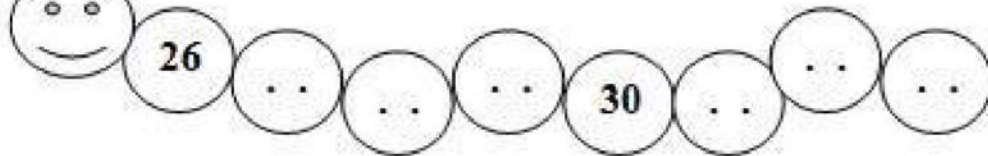
الإسم:

اللقب:

التمرين الأول: ألاحظُ و أكملُ:



التمرين الثاني: أكملُ متتالية الأعداد التالية:



التمرين الثالث: أنجز ما يلي:

$$8 - 3 = \dots$$

$$10 - 2 = \dots$$

$$10 + 3 = \dots$$

$$16 + 2 = \dots$$

التمرين الرابع: أكتبُ العدد الذي يسبق و العدد الذي يلي:

.. 17 ..

.. 38 ..

التمرين الخامس: تملك ليلى 10 صُور ، وأمدت لها أمها 8 صور أخرى . كم أصبح عندها؟

$$10 + 8 = 18$$

$$10 - 8 = 2$$

1 - لَوْن الإجابة الصُّحيحة

2 - أصبح عندها : صورة .